

تم تحميل هذا الملف من موقع المناهج القطرية



أوراق عمل الأندلس منتصف الفصل غير مجانية

موقع المناهج ← المناهج القطرية ← المستوى الخامس ← علوم الحاسب ← الفصل الأول ← أوراق عمل ← الملف

تاريخ إضافة الملف على موقع المناهج: 17:52:09 2024-10-30

ملفات اكتب للمعلم اكتب للطالب الاختبارات الكترونية | اختبارات | حلول | عروض بوربوينت | أوراق عمل
منهج انجليزي | ملخصات وتقارير | مذكرات وبنوك | الامتحان النهائي للمدرس

المزيد من مادة
علوم الحاسب:

التواصل الاجتماعي بحسب المستوى الخامس



الرياضيات



اللغة الانجليزية



اللغة العربية



التربية الاسلامية



المواد على تلغرام

صفحة المناهج
القطرية على
فيسبوك

المزيد من الملفات بحسب المستوى الخامس والمادة علوم الحاسب في الفصل الأول

أوراق عمل الأندلس منتصف الفصل مع الإجابة النموذجية

1

أوراق عمل دعم وإثراء الفرقان منتصف الفصل مع الإجابة النموذجية

2

أوراق عمل مسيعة منتصف الفصل مع الإجابة النموذجية

3

أوراق عمل مسيعة منتصف الفصل غير مجانية

4

أوراق عمل نهاية الفصل مجانية مدرسة مسيعة

5

مدرسة الأندلس الخاصة للبنات
العام الأكاديمي 2025/2024
منتصف الفصل الدراسي الأول



أوراق عمل إثرائية وإجاباتها
مادة: الحوسبة وتكنولوجيا المعلومات
الصف الخامس

اسم الطالبة/.....

الصف والشعبة /.....



السؤال الأول: الأسئلة الموضوعية:
اختر الإجابة الصحيحة:

تستخدم جداول البيانات في برنامج Excel لتنظيم	1.1
الفأرة.	A
الأقلام.	B
الأوراق.	C
ميزانية الأسرة.	D

يستخدم المخطط لمقارنة القيم بمرور الوقت	1.2
مخطط الانتشار	A
مخطط الدائري	B
تحليل المشكلة	C
مخطط دائري.	D

برنامج يستخدم لإنشاء أوراق العمل كطريقة لجمع وتنظيم وتمثيل البيانات ويمكن معالجة البيانات بسرعة ودقة والحصول على المعلومات المفيدة	1.3
الفأرة.	A
الكمبيوتر.	B
الشاشة.	C
جدول البيانات.	D

تتبع نسبة الربح والمبيعات في الاعمال التجارية مثال على استخدام	1.4
الرسم البياني.	A
تحليل المشكلة.	B
إنشاء خوارزمية.	C
جداول البيانات.	D

يستخدم توضيح المقارنات بين البيانات.	1.5
المخطط الخطي.	A
المخطط القائي.	B
المخطط الدائري.	C
المخطط العمودي / الشريطي.	D

هو عرض مرئي للمعلومات والبيانات يجعل من السهل فهم الأرقام وتحليلها ويعتبر أسهل بكثير من مقارنة الأرقام.	1.6
الألوان	A
الرسومات.	B
الشرائح.	C
المخطط البياني.	D

المخطط الذي يظهر العلاقة بين الأجزاء إلى الكل.	1.7
--	-----

مخطط الأعمدة.	A	
المخطط الدائري.	B	
المخطط الانتشار.	C	
مخطط الشرطي.	D	

السؤال الثاني: الأسئلة المقالية:

أ. اذكر 4 أمثلة لاستخدام جدول البيانات

1-

2-


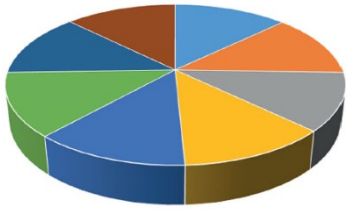
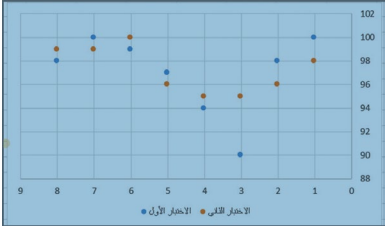
3-

4-

ب. صل بين العمود الأول بما يناسبها بالعمود الثاني

ب
إجراء العمليات الحسابية من أجل تنظيم درجات الطلبة.

أ
من فوائد استخدام الجدول الزمني الأسبوعي.

تتبع الأنشطة والمساعدة على تنظيمها		من الأمثلة على استخدام جدول البيانات.
		برنامج يستخدم أوراق العمل Worksheets كطريقة لجمع وتنظيم وتمثيل البيانات
برنامج جدول البيانات		الجدول الزمني
مخطط الانتشار		
المخطط الدائري		
مجموعة من الخلايا المنظمة على شكل صفوف وأعمدة وهي مساحة مخصصة لإدخال البيانات		ورقة العمل worksheet

ج. اذكر أنواع المخططات البيانية

.....-1

.....-2

.....3

.....4