

شكراً لتحميلك هذا الملف من موقع المناهج القطرية



تدريبات دعم وإثراء الفرقان نهاية الفصل

[موقع المناهج](#) ← [المناهج القطرية](#) ← [المستوى الخامس](#) ← [اجتماعيات](#) ← [الفصل الأول](#) ← [الملف](#)

تاريخ نشر الملف على موقع المناهج: 2023-11-27 18:59:38

التواصل الاجتماعي بحسب المستوى الخامس



روابط مواد المستوى الخامس على تلغرام

[الرياضيات](#)

[اللغة الانجليزية](#)

[اللغة العربية](#)

[التربية الاسلامية](#)

المزيد من الملفات بحسب المستوى الخامس والمادة اجتماعيات في الفصل الأول

[حدول مواصفات اختبار نهاية الفصل](#)

1

[نماذج امتحانية منتصف الفصل](#)

2

[تحميل كتاب الطالب](#)

3

[تدريبات دعم وإثراء نهاية الفصل الأول 2022م](#)

4

[كتاب المعلم الفصل الأول 2022-2023م](#)

5

الدراسات الاجتماعية


5
الصف

دعم وإثراء نهائية ف1

العام الدراسي

1445 هـ

23-24 م



يا رب انصر عبادك المؤمنين
وجنك الموحدين في كل مكان

القدس والأقصى ▼ حتماً ستعود

ملحوظة: هذه التدريبات لا تقني عن الكتاب المدرسي

الاسم / الصف /5-

التميز



↓ ((تذكّر ما يلي))

1	عناصر المناخ هي: (الحرارة - الضغط الجوي - الرياح - الأمطار)
2	الضَّغَط الجوي : هو وزن عمودٍ من الهواء على منطقةٍ ما من سطح الأرض.
3	الرياح: هي حركة الهواء الأفقية على سطح الأرض : وأنواع الرياح هي ، (الرياح الدائمة - الرياح الموسمية - الرياح المحلية - الرياح اليومية)
4	من أمثلة الرياح المحلية (رياح الكوس) وهي التي تهب على دولة قطر.
5	يحدُّ شبه الجزيرة العربية من جهة الشَّمال العِراق والأردن.
6	يحدُّ شبه الجزيرة العربية البحر الأحمر من جهة الغرب.
7	لموقع شبه الجزيرة العربية أهمية كبيرة: أ- تطلُّ على مُسطحات مائية هامة . ب - تُشرف على مضائق بحريَّة مهمة. ج - تقع على مُلتقى قارات العالم القديم . د - تحظى بمكانة دينية كبيرة.
8	تنقسم الجبال في شبه الجزيرة العربية إلى قسمين : 1 - مُرتفعات عُمان وأهمها الجبل الأخضر. 2 - الجبال الغربية مثل (جبال اليمن وجبال الحجاز وجبال عسير وجبل مدين وجبل طويق)
9	من الهضاب في شبه الجزيرة العربية (هضبة نجد ، وهضبة الصمان ، وهضبتا الحماد والحجرة ، وهضبة حضرموت التي تقع في جنوب شبه الجزيرة العربية)
10	من السهول الساحلية في شبه الجزيرة العربية (سهول تهامة على البحر الأحمر، وسهول حضرموت، وسهول بحر العرب ، وسهول الخليج العربي ، وسهل الإحساء ، وسهل الباطنة)

الأسئلة الموضوعية: 1 - اختر الإجابة الصحيحة بوضع علامة × في المربع المقابل:

1 " الرياح المحليّة التي تهبُّ على دولة قطر تُعرف بـ :

- أ رِياح الكوس.
- ب الرِياح الغربيّة.
- ج الرِياح التُّجارية.
- د رِياح الخُمّاسيين.

2 " تقع في جنُوب غرب شبه الجزيرة العربيّة :

- أ جبال اليَمَن.
- ب جبال عَمّان.
- ج جبال مدين.
- د جبل طُويق.

3 سهول تُهامة تمتدُّ على ساحل :

- أ البحر الأحمر.
- ب بحر العرب.
- ج الخليج العربي.
- د بحر عُمان.

4 تقع في جنوب شبه الجزيرة العربيّة:

- أ هضبة الصَّمّان.
- ب هضبة نجد.
- ج هَضبة حضرموت.
- د هضبتنا الحماد والحجرة.

5 سهول الخليج العربي غير صالحّة للزراعة بسبب:

- أ ضيق سهول الخليج العربي.
- ب ارتفاع درجة الحرارة.
- ج كثرة الرّمال والسبّخات بها.
- د قُربها من ساحل الخليج العربي.


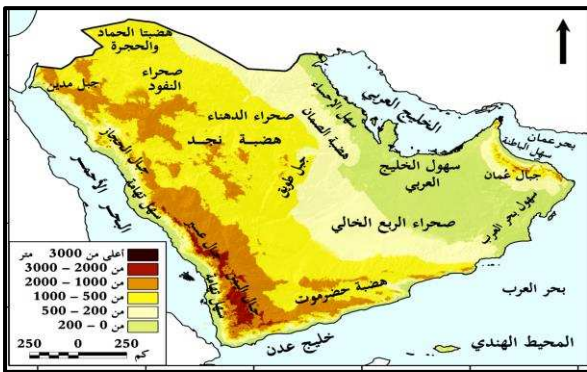
(2) - أكمل بكلمات مناسبة:

أ- عناصر المناخ هي ، الحرارة و

و

ب - الرِّياح هي حركة الهواء الأفقيَّة على سطح الأرض ومنها، الرِّياح الدائمة

والرِّياح ، والرِّياح



(استعن بخريطة مظاهر السطح ص 29 في الإجابة عما يلي:

ج - لموقع شبه الجزيرة العربيَّة أهميَّة كبيرة حيثُ تطلُّ على

و تتحكم في

د - من الجبال في شبه الجزيرة العربية ، جبال اليمن، وجبال

وجبال

ج - من السهول الساحلية في شبه الجزيرة العربية ، سهول تهامة المُطلَّة على ساحل البحر الأحمر

وسهول

وسهول

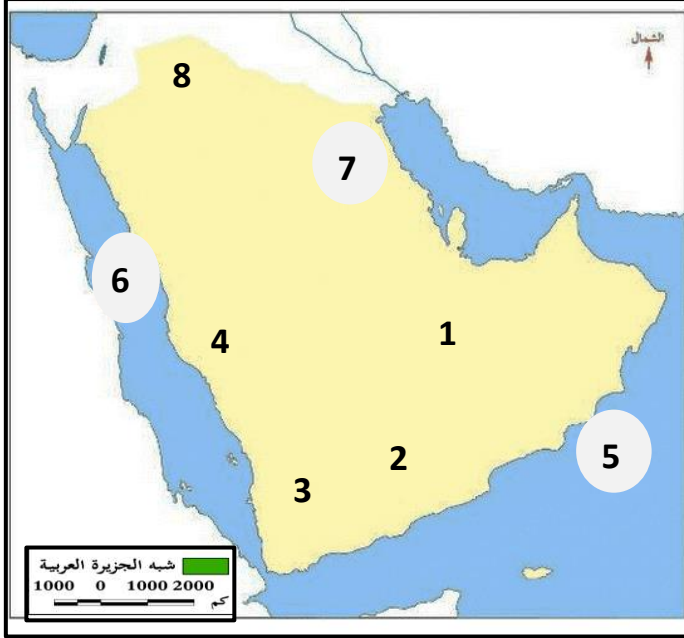
د - تمتدُّ هضبة

في جنوب شبه الجزيرة العربيَّة.

تدريبات إثرائية وعلاجية للصف الخامس / لمادة الاجتماعيات - نهاية ف 1 - 2023 / 2024 م

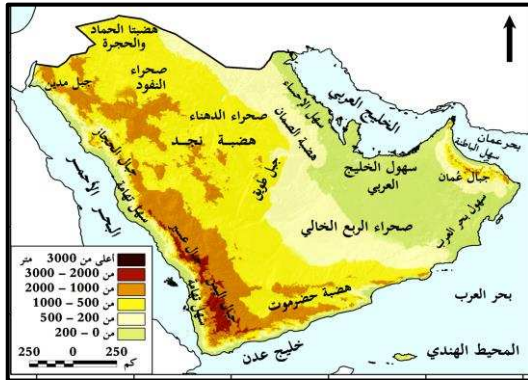
* استعن بخريطة مظاهر السطح لشبه الجزيرة العربية ص (29) في إجابة السؤال التالي:

3 - أكتب مدلول الأرقام الموجودة على خريطة شبه الجزيرة العربية:



- 1- صحراء
- 2- هضبة
- 3- جبال
- 4- سهول
- 5- بحر
- 6- البحر
- 7- سهل
- 8- هضبتنا

3 - ما النتائج المترتبة على انتشار السبخات والرمال في سهول الخليج العربي؟



(التفكير الإبداعي والناقد)

(إثرائي) / ماذا لو حذفنا الجبال الغربية من شبه الجزيرة العربية ؟



الوحدة الثمانية: الحضارات القديمة في شبه الجزيرة العربية (من ص 46 إلى ص 65)

↓ ((تذكّر ما يلي))

1	<u>الحضارة</u> هي كل ما أنجزه الإنسان في جميع مجالات الحياة ، سواء مادياً أو معنوياً.
2	<u>العوامل الطبيعية</u> لقيام الحضارة في شبه الجزيرة العربية: (الموقع الجغرافي - المناخ - موارد المياه - الموارد الطبيعية)
3	يغلب على شب الجزيرة العربية <u>المناخ الصحراوي الحار</u> مما أدى إلى انتشار <u>حرفة الرعي</u> ، بينما أدى اعتدال المناخ في اليمن إلى (<u>الاستقرار البشري وزراعة المدرجات الجبلية</u>) .
4	أقدم ممالك شبه الجزيرة العربية هي مملكة <u>معين</u> ، بينما تُعد مملكة <u>سبأ</u> هي الأطول زمناً.
5	<u>أسباب سقوط مملكة كندة:</u> 1 - صراعها مع المناذرة وهزيمتها. 2- ضعف كندة بعد الحارث بن عمرو. 3 - انقسام كندة إلى ممالك صغيرة.
6	ازدهرت <u>الزراعة</u> في ممالك الشمال والجنوب <u>لوفرة المياه والتربة الخصبة</u> .
7	قامت في ممالك شبه الجزيرة العربية العديد من <u>الصناعات</u> مثل: <u>صناعة الأسلحة</u> ، <u>صناعة الأواني</u> ، <u>صناعة الحرير والكتان</u> ، <u>صناعة الحلي</u> .
8	<u>تخلو شبه الجزيرة العربية من مياه الأنهار</u> ، ولهذا <u>اعتمدوا على المياه الجوفية</u> .
9	ازدهرت <u>الزراعة</u> في مملكة سبأ ، بينما <u>برع أهل مملكة كندة في القتال</u> .
10	أطلق على الأدب العربي قديماً اسم <u>ديوان العرب</u> ، ومن أشهر <u>القصور قصر غمدان</u> في صنعاء ، ومن <u>المعابد معبد الشمس</u> .

الأسئلة الموضوعية: 1 - اختر الإجابة الصحيحة بوضع علامة × في المربع المقابل:

1 تعتبر مملكة سبأ أطول الممالك زمنياً ، بينما تُعتبر مملكة مَعين :

أغنى الممالك. أ

أقدم الممالك. ب

أقوى الممالك. ج

الأكثر حضارة. د

2 من العوامل الطبيعية التي ساعدت على قيام الحضارة في شبه الجزيرة العربية، المناخ و....:

وسائل النقل. أ

الموقع الجغرافي. ب

السهول الساحلية. ج

الضغط الجوي. د

3 اعتمد السُّكَّان قديماً في شبه الجزيرة العربيَّة على المياه الجوفية لأنها:

كبيرة المساحة. أ

ترتفع فيها درجة الحرارة. ب

تخلو من الأنهار الجارية. ج

تعتمد على المياه المُحلاة. د

4 ترتب على اعتدال المناخ في اليمن (الاستقرار البشري و :

صناعة الأسلحة. أ

رعي الأغنام والإبل. ب

البراعة في القتال. ج

زراعة المُدرجات الجبلية. د

5 " المناخ والموقع الجغرافي وموارد المياه والموارد الطبيعية " يُعدُّ هذا:

مفهوم الحضارة. أ

أسباب ازدهار الزراعة. ب

مظاهر الحضارة في شبه الجزيرة. ج

العوامل الطبيعية لقيام الحضارة. د

2- أكمل بكلمات مناسبة :

أ- العوامل الطبيعية لقيام الحضارة في شبه الجزيرة العربية هي، الموقع الجغرافي و

و..... و

ب- أدى انتشار المناخ الصحراوي الحار في معظم شبه الجزيرة العربية إلى انتشار حرفة

بينما أدى وجود الجبال في اليمن إلى اعتدال المناخ. مما ساعد على

و.....

ج- سقطت مملكة كندة بسبب ،

و.....

د- قامت في ممالك شبه الجزيرة العربية العديد من الصناعات مثل صناعة الأسلحة

وصناعة وصناعة

ذ- اعتمد السكان قديماً في شبه الجزيرة العربية على المياه الجوفية، لأنها

ر- من أشهر القصور في اليمن قصر في مدينة صنعاء.

ز- أطلق على الأدب العربي قديماً اسم

3 - عرّف الحضارة :

.....

.....

4 / صنّف في الجدول التالي أسباب سقوط مملكة سبأ وأسباب سقوط مملكة كِنْدَة:

(انهيار سد مأرب - صراعها مع المناذرة وهزيمتها - ضعف كِنْدَة بعد الحارث بن عمرو)
سيطرة دولة الأنباط على التجارة - انقسام كِنْدَة إلى ممالك صغيرة)

أسباب سقوط مملكة كِنْدَة	أسباب سقوط مملكة سبأ
.....
.....
.....	

5 / رتب ممالك شبه الجزيرة العربية على الخط الزمني، بدايةً من الأقدم إلى الأحدث:

(مملكة سبأ - مملكة كِنْدَة - مملكة مَعِين - مملكة حِمير)



تدريبات إثرائية وعلاجية للصف الخامس / لمادة الاجتماعيات - نهاية ف 1 - 2023 / 2024 م

الوحدة الثالثة: درس العمل التطوعي فقط : من ص (80 : 85)
الوحدة الرابعة: السُّكَّان في شبه الجزيرة العربية (من ص 90 إلى ص 107)

↓ ((تَذَكَّرْ مَا يَلِي))

الوحدة الثالثة	
1	العمل التطوعي: هُوَ الجُهد الذي يبذله الإنسان تُجاه المُجتمع بِدون مُقابل مادي.
2	تتمثَّل أهمية العمل التطوعي في : أ- تشجيع الفرد على البذل والعطاء. ب - استغلال أوقات الفراغ في شيء مُفيد. ج - تقوية الروابط الاجتماعية بين أفراد المُجتمع.
3	أهم مؤسسات العمل التطوعي في دولة قطر: أ- مركز قطر للعمل التطوعي. ب - جمعية الهلال الأحمر القطري. ج - مركز أصدقاء البيئة.
الوحدة الرابعة	
4	عَدَد سُكَّان شبه الجزيرة العربية لعام 2019م (86.8) مليون. وأكثر الدول في عَدَد السكان (<u>السعودية</u>) وأقل الدول (<u>البحرين</u>)
5	أسباب زيادة السُّكَّان في مُعظم دول شبه الجزيرة العربية: أ - ظهور النفط والغاز. ب - النهضة الاقتصادية الكبرى.
6	العوامل المؤثرة في النِّمو السُّكَّاني هي: (<u>الزيادة الطبيعية</u> - <u>الزيادة غير الطبيعية</u>)
7	التركيب العُمري للسُّكَّان هو " تصنيف السُّكَّان حسب فئات العُمر " التركيب النُّوعي للسُّكَّان هو " تصنيف السُّكَّان حسب النُّوع (ذُكور وإناث) "
8	ترتفع نسبة الذُكور على الإناث في دُول شبه الجزيرة العربية بسبب <u>العمالة الوافدة</u> .
9	مناطق التركز السكاني في شبه الجزيرة العربية: أ- <u>سواحل الخليج العربي</u> : (كما في العواصم وموانئ تصدير النفط) ب - <u>المنطقة الجنوبية الشرقية</u> : (مثل سهل الباطنة والجبل الأخضر بسلطنة عُمان) ج - <u>المنطقة الوسطى</u> : (مثل العاصمة الرياض والمناطق الزراعية) د - <u>منطقة عُرب وجنوب عُرب</u> : (كما في مكة المكرمة والمدينة المنورة ، و اليمن)
10	يزداد تركُّز السكان في منطقة عُرب (مكة والمدينة) وذلك لوجود الأماكن المقدسة.
11	يقِلُّ السُّكَّان في <u>الصحاري</u> مثل صحراء (الرُّبْع الخالي و الدهناء والنُّفود)

1 - اختر الإجابة الصحيحة بوضع علامة x في المربع المقابل:

1 أي مما يلي يُعدُّ من أهمية العمل التطوعي ؟

- أ ضياع الوقت بلا فائدة.
- ب يُحقق المكسب المادي.
- ج تشجيع الفرد على البذل والعطاء.
- د تقوية الجسم والعضلات.

2 أي مما يلي يُعدُّ من المؤسسات التطوعية في دولة قطر ؟

- أ مركز قطر للتعريف بالإسلام.
- ب وزارة الأوقاف والشؤون الإسلامية.
- ج جمعية الهلال الأحمر القطري.
- د مكتبة قطر الوطنية.

3 من العوامل المؤثرة في النمو السكاني لشبه الجزيرة العربية، الزيادة الطبيعية و:

- أ النمو السكاني.
- ب التركيب العمري.
- ج الزيادة غير الطبيعية.
- د التركيب النوعي.

4 " مقدار الزيادة الطبيعية وغير الطبيعية التي تَطْرَأ على عدد السكان " يُعدُّ هذا مفهوم:

- أ التركيب العمري.
- ب الكثافة السكانية.
- ج التركيب النوعي.
- د النمو السكاني.

5 من المناطق التي يتركز بها السكان في شبه الجزيرة العربية المنطقة الوسطى و:

- أ سواحل الخليج العربي.
- ب صحراء الربع الخالي.
- ج سهول بحر العرب.
- د صحراء النفود والدهناء.

الوحدة الثالثة: 2 - أكمل مفهوم العمل التطوعي :

- العمل التطوعي هو المجهود تُجاه
المجتمع

3 - أكمل بكلمات مناسبة :

أ - تتمثل أهمية العمل التطوعي في ، استغلال أوقات الفراغ في شيء مفيد

و

ب - من مؤسسات العمل التطوعي في دولة قطر ، مركز قطر للعمل التطوعي

و

ج - ينقسم العمل التطوعي إلى قسمين ، عمل تطوعي فردي وعمل تطوعي

الوحدة الرابعة: 1 - أكمل بكلمات مناسبة:

أ - العوامل المؤثرة في النمو السكاني هي، و

ب - من المناطق التي يتركز فيها السكان في شبه الجزيرة العربية، سواحل الخليج العربي ،

و

و

ج - من المناطق التي يقل فيها السكان في شبه الجزيرة العربية، صحراء

وصحراء وصحراء النفود.

د - أكثر دول شبه الجزيرة العربية سكانا هي بينما تُعدُّ

أقل دول شبه الجزيرة العربية في عدد السكان .

2 - عرّف كلاً مما يلي :

(أ) التّركيب العمري للسّكان:

.....

.....

(ب) التّركيب النّوعيّ للسّكان:

.....

.....

3 - صل بين مناطق التركز السكاني في شبه الجزيرة العربية وأهم ما يميز كل منطقة:

العاصمة الرياض والمناطق الزراعية.
سهل الباطنة والجبل الأخضر بسلطنة عُمان.
صحراء الربع الخالي .
العواصم مثل الدوحة والكويت وموانئ تصدير النّفط.
مكة والمدينة وجدّة واليمن.

سواحل الخليج العربي كما في:
منطقة غرب وجنوب غرب، كما في:
المنطقة الوسطى مثل:
المنطقة الجنوبيّة الشرقية:

(إثرائي - التفكير الإبداعي والناقد)

* ارتفع عدد سُكان شبه الجزيرة العربية قرابة أربعة أضعاف وذلك بسبب

(ظهور النّفط والغاز والنهضة الاقتصادية)

س / أيّ من مهارات التفكير التالية نطبقها على أسباب زيادة أعداد السكان ؟

(الحذف - الدمج - التّطوير - الاستبدال - التكيّف)



الوحدة الخامسة : العرب قبل الإسلام (من ص 112 : ص 129)

الوحدة السادسة : (قيمي وأخلاقي) من ص 134 : 144)



(تَذَكَّرْ مَا يَلِي)

الوحدة الخامسة	
1	العرب البائدة: هم العرب الذين أبادهم الله فانقطع وجودهم، مثل (عاد وثمود - وطسم وجديس) العرب الباقية: هم العرب الذين كُتِبَ لَهُمُ البقاء والاستمرار. وهم (القحطانيون والعدنانيون)
2	أرسل الله سيدنا <u>صالح</u> <small>عليه السلام</small> إلى قوم <u>ثمود</u> ، وأرسل سيدنا <u>هود</u> <small>عليه السلام</small> إلى قوم <u>عاد</u> .
3	كانت الحرفة السائدة لسكان البادية هي حرفة <u>الرعي</u> وكانت أكثر الأشجار انتشاراً في شبه الجزيرة العربية هي أشجار <u>النخيل</u> .
4	اهتمَّ العرب بالعلوم مثل علم الأثر وعلم الأنواع. اهتمَّ العرب بعلم الأنواع لارتباطه بحياتهم وأرزاقهم.
5	الديانات في شبه الجزيرة العربية قبل الإسلام انقسمت إلى قسمين: 1 - رسالات سماوية مثل : (الحنيفة - اليهودية - النصرانية) 2 - عبادات غير سماوية مثل : (الوثنية - الصابئة)
6	<u>الصابئة</u> : هي عبادة الكواكب والنجوم. <u>الحنيفية</u> : هي عبادة الله تعالى على دين سيدنا إبراهيم <small>عليه السلام</small> .
7	أثر الإسلام على حياة العرب من الناحية الدينية: أ - أخرج الناس من الشرك إلى الإسلام. ب - نشر العدل بين الناس.
8	أثر الإسلام على حياة العرب من الناحية السياسية: أ - حقق الإسلام وحدة العرب. ب - قضى على النزاعات القبلية.
9	من أشهر الأسواق عند العرب قبل الإسلام (سوق عكاظ ، وسوق ذي مجاز)
الوحدة السادسة	
10	الكرامة الإنسانية هي : (احترام حقوق الإنسان بغض النظر عن جنسه أو دينه أو لغته أو أصله. من صور الكرامة الإنسانية في الإسلام: 1 - تحرير الإنسان من العبودية لغير الله. 2 - المساواة في الحقوق والواجبات.
11	من صور التسامح: 1 - التسامح الديني (وهو التعايش بين الأديان. 2 - التسامح العرقي (وهو عدم التمييز بسبب اللون أو العرق. 3 - التسامح الفكري (وهو احترام أدب الحوار والتخاطب. 4 - التسامح السياسي (وهو ضمان الحريات السياسية. تتمثل أهمية التسامح في: 1 - احترام الفروق والاختلافات. 2 - تقوية الروابط الاجتماعية. 3 - تعزيز الأمن والاستقرار. 4 - تحقيق المصالح المشتركة لجميع أفراد المجتمع.

1 - اختر الإجابة الصحيحة بوضع علامة × في المربع المقابل:

العرب البائدة هم العرب:

1

سُكَّان شِبْه الْجَزِيرَةِ الْعَرَبِيَّةِ. أ

الْعَارِبَةُ وَالْعَرَبُ الْمُسْتَعْرَبَةُ. ب

الَّذِينَ أَبَادَهُمُ اللَّهُ فَانْقَطَعَ وَجُودُهُمْ. ج

الَّذِينَ كُتِبَ لَهُمُ الْبَقَاءُ وَالِاسْتِمْرَارُ. د

" الْحَنِيفِيَّةُ هِيَ "

2

عِبَادَةُ النُّجُومِ وَالْكَوَاكِبِ. أ

عِبَادَةُ الْأَصْنَامِ وَالْأَوْثَانِ. ب

عِبَادَةُ اللَّهِ عَلَى دِينِ سَيِّدِنَا إِبْرَاهِيمَ عَلَيْهِ السَّلَامُ. ج

عِبَادَةُ اللَّهِ عَلَى دِينِ سَيِّدِنَا مُوسَى عَلَيْهِ السَّلَامُ. د

" اِهْتَمَّ الْعَرَبُ بِعِلْمِ الْأَنْوَاءِ وَذَلِكَ لِـ :

3

رَغْبَتِهِمْ فِي مَعْرِفَةِ عِلْمِ الْأَنْوَاءِ. أ

أَهْمِيَّتُهُ فِي تَتَبُّعِ الْأَثَرِ. ب

كَثْرَةُ النَّزَاعَاتِ وَالْحُرُوبِ عِنْدَهُمْ. ج

ارْتِبَاطُهُ بِحَيَاتِهِمْ وَأَرْزَاقِهِمْ. د

أَيِّ مِمَّا يَلِي يُعَدُّ مَفْهُومَ الْعَرَبِ الْبَاقِيَّةِ ؟

4

الَّذِينَ أَبَادَهُمُ اللَّهُ فَانْقَطَعَ وَجُودُهُمْ. أ

الَّذِينَ نَصَرُوا الرَّسُولَ ﷺ. ب

الَّذِينَ سَكَنُوا جَنُوبَ شِبْهِ الْجَزِيرَةِ الْعَرَبِيَّةِ. ج

الَّذِينَ كُتِبَ لَهُمُ الْبَقَاءُ وَالِاسْتِمْرَارُ. د

أَرْسَلَ اللَّهُ إِلَى قَوْمِ ثَمُودَ نَبِيَّهُمْ:

5

عَيْسَى عَلَيْهِ السَّلَامُ. أ

هُودَ عَلَيْهِ السَّلَامُ. ب

إِبْرَاهِيمَ عَلَيْهِ السَّلَامُ. ج

صَالِحَ عَلَيْهِ السَّلَامُ. د

اختر الإجابة الصحيحة بوضع علامة x في المربع المقابل:

6 من الرسائل السماوية عند العرب قبل الإسلام ، الحنيفية و ...:

- أ الصابئة.
- ب الوثنية.
- ج المجوسية.
- د اليهودية والنصرانية.

7 " احترام حقوق الإنسان بغض النظر عن جنسه أو دينه أو لغته أو أصله " يُعدُّ هذا مفهوم :

- أ التسامح.
- ب العمل التطوعي.
- ج التعايش السلمي.
- د الكرامة الإنسانية.

8 من صور التسامح الفكري:

- أ احترام أدب الحوار والتخاطب.
- ب منح المرأة حقوقها.
- ج التمييز بسبب اللون والعرق.
- د عدم إكراه الناس على الدخول في الإسلام.

9 من أهمية التسامح ، تعزيز الأمن والاستقرار و

- أ تقوية الروابط الاجتماعية.
- ب المساواة في الحقوق والواجبات.
- ج حُب الانتقام والأخذ بالثأر.
- د استغلال أوقات الفراغ في شيء مُفيد.

10 تحرير الإنسان من العبودية لغير الله ، يُعدُّ من :

- أ صور الكرامة الإنسانية في الإسلام.
- ب صور الكرامة الإنسانية في الدستور.
- ج مظاهر التسامح.
- د فوائد العمل التطوعي.

الوحدة الخامسة - 2 عرّف كلاً مما يلي :

(أ) العرب البائدة.

.....
.....

(ب) العرب الباقية.

.....
.....

3- أكمل بكلمات مناسبة:

أ - أرسل الله سيدنا صالح عليه السلام إلى قوم.....

ب - الحنيفية هي عبادة الله تعالى على دين سيدنا عليه السلام.

ج - اهتم العرب بالعلوم مثل علم الأنواء وذلك لارتباطه ب.....

د - من أثر الإسلام على الحياة الدينية، أخرج الناس

و نشر

ذ - من أثر الإسلام على الحياة السياسية، حقق الإسلام

و قضى

ر- ينتمي النبي محمد ﷺ إلى قبيلة وهي من القبائل

ز - الرسائل السماوية في شبه الجزيرة العربية قبل الإسلام هي

و اليهودية ، و

س - من أشهر أسواق العرب قديماً سوق وسوق ذي مجاز.

تدريبات إثرائية وعلاجية للصف الخامس / لمادة الاجتماعيات - نهاية ف 1 - 2023 / 2024 م

الوحدة السادسة - 1 - أكمل بكلمات مناسبة :

أ - من صور الكرامة الإنسانية في الإسلام ، تحرير الإنسان
و المساواة

ب - من أنواع التسامح ، التسامح الديني والتسامح
و التسامح

ج - من صور التسامح ، احترام أدب الحوار والتخاطب ،

بينما يُعدُّ حُرِّية ممارسة الشعائر الدينية ، من صور التسامح

د - تتمثل أهمية التسامح في، احترام

و تقوية وتعزيز
وتحقيق

2 / أكتب في الجدول التالي أهمية التسامح وأنواع التسامح:

(التسامح الديني - احترام الفروق والاختلافات - تقوية الروابط الاجتماعية - التسامح الفكري
- تحقيق المصالح المشتركة - التسامح السياسي - تعزيز الأمن والاستقرار)

أنواع التسامح	أهمية التسامح
.....
.....
.....
.....

أطيب التمنيات بالتوفيق والنجاح ، مع تحيات أسرة التربية الاجتماعية