

شكراً لتحميلك هذا الملف من موقع المناهج القطرية



اوراق عمل منتصف الفصل مدرسة الأندلس غير مجانية

موقع المناهج ← المناهج القطرية ← المستوى الخامس ← اجتماعيات ← الفصل الثاني ← الملف

تاريخ نشر الملف على موقع المناهج: 2024-02-06 23:57:19 | اسم المدرس: مدرسة الأندلس

التواصل الاجتماعي بحسب المستوى الخامس



روابط مواد المستوى الخامس على تلغرام

[الرياضيات](#)

[اللغة الانجليزية](#)

[اللغة العربية](#)

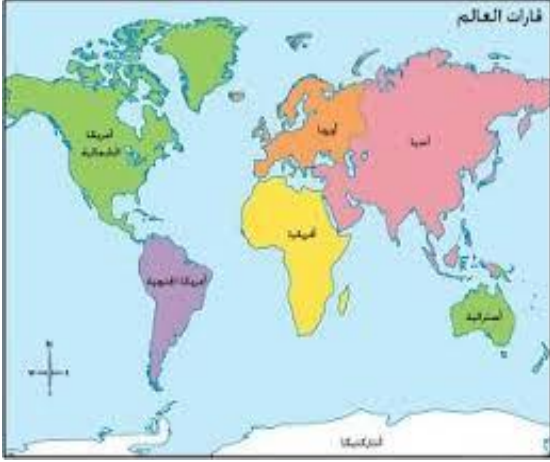
[التربية الاسلامية](#)

المزيد من الملفات بحسب المستوى الخامس والمادة اجتماعيات في الفصل الثاني

أوراق عمل اثرائية نهاية الفصل	1
تدريبات دعم وإثراء نهاية الفصل	2
تدريبات دعم وإثراء منتصف الفصل الثاني	3
كتاب الطالب	4
حل تدريبات اثرائية نهاية الفصل الثاني مدرسة أم القرى	5

العام الأكاديمي 2023/2022

نهاية الفصل الدراسي الثاني



أوراق العمل الإثرائية (1)

مادة الدراسات الاجتماعية

الصف الخامس الابتدائي

	اسم الطالب
	الصف والشعبة

السؤال الأول: - اختر الإجابة الصحيحة:

- 1 - " المواد في صورتها الأولى دون حدوث أي تغيير عليها" يشير هذا المفهوم إلى:
- أ - الأنشطة الاقتصادية.
ب - المواد الخام.
ج - الموارد الطبيعية.
د - المقومات البشرية.
- 2- " من مصادر الطاقة المتجددة:
- أ - الغاز الطبيعي.
ب - النفط.
ج - الشمس.
د - الفحم.
- 3- " هي الأماكن التي يتم فيها عملية البيع والشراء لمختلف البضائع داخل الدولة أو خارجها " يشير هذا المفهوم إلى:
- أ - التجارة
ب - الأسواق
ج - الاستهلاك
د - الإنتاج
- 4- يوجد ميناء صلالة في دولة:
- أ - قطر
ب - اليمن
ج - الكويت
د - سلطنة عُمان
- 5- أهم المقومات الطبيعية المؤثرة في قيام الأنشطة الاقتصادية
- أ- المناخ.
ب- وسائل النقل
ج- رأس المال.
د- الأيدي العاملة.

السؤال الثاني: - أجب عن الأسئلة الآتية:

أ- عدد المقومات الطبيعية لقيام الأنشطة الاقتصادية.

- 1-
- 2-
- 3-

ب- عدد مصادر الطاقة غير المتجددة..

- 1-
- 2-
- 3-

ج- وضح أهمية التقدم العلمي في الأنشطة الاقتصادية ؟

- 1-
- 2-
- 3-
- 4-

السؤال الثالث: - أكمل الفراغ بالكلمة المناسبة:

1- من أمثلة المواد الخام الحيوانية،

2- يوجد حقل الشمال في دولة

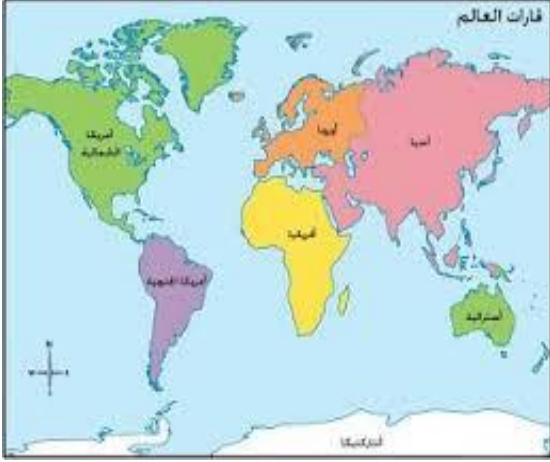
3- من أنواع النقل،

4- من المقومات البشرية،

انتهت الأسئلة

العام الأكاديمي 2023/2022

نهاية الفصل الدراسي الثاني



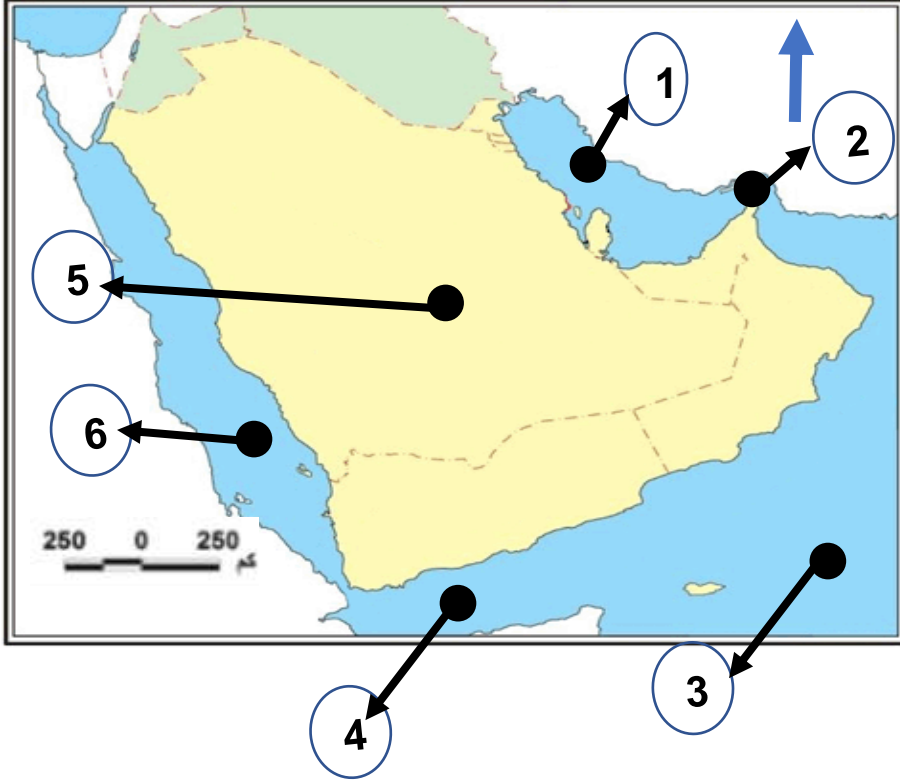
أوراق العمل الإثرائية (2)

مادة الدراسات الاجتماعية

الصف الخامس الابتدائي

	اسم الطالب
	الصف والشعبة

السؤال الرابع: - على خريطة شبه الجزيرة العربية أكتب ما تشير إليه الأرقام التالية:



.....-1

.....-2

.....-3

.....-4

.....-5

.....-6

السؤال الخامس: - اختر الإجابة الصحيحة:

1 - ولد النبي صلى الله عليه وسلم عام:

أ - الفيل.

ب - الحزن.

ج - الرمادة.

د - الوداع.

2- نزل الوحي على النبي صلى الله عليه وسلم في سن:

أ - العشرين.

ب - الثلاثين.

ج - الأربعين.

د - الخمسين.

3 - استمرت الدعوة الإسلامية في المرحلة السرية لمدة:

- أ - سنتين.
ب - ثلاث سنوات.
ج - أربع سنوات.
د - خمس سنوات.

4 - الصحابي الذي أشار على الرسول بحفر الخندق هو:

- أ- معاذ بن جبل.
ب - مصعب بن عمير.
ج- عمر بن الخطاب.
د- سلمان الفارسي .

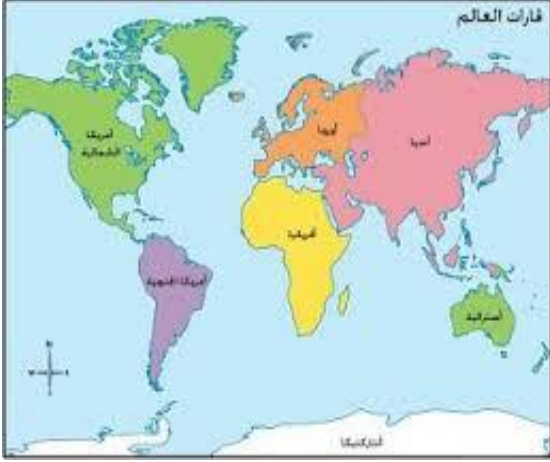
5 - أطلق اسم يوم الفرقان على يوم:

- أ- أحد.
ب - خيبر..
ج- بدر.
د- الأحزاب..

انتهت الأسئلة

العام الأكاديمي 2023/2022

نهاية الفصل الدراسي الثاني



أوراق العمل الإثرائية (3)

مادة الدراسات الاجتماعية

الصف الخامس الابتدائي

	اسم الطالب
	الصف والشعبة

السؤال السادس: - أجب عن الأسئلة الآتية:

أ- عدد أهم الأعمال التي قام بها النبي صلى الله عليه وسلم في المدينة.

- 1
- 2
- 3

ب - اذكر بعض الصفات التي اتصف بها النبي صلى الله عليه وسلم.

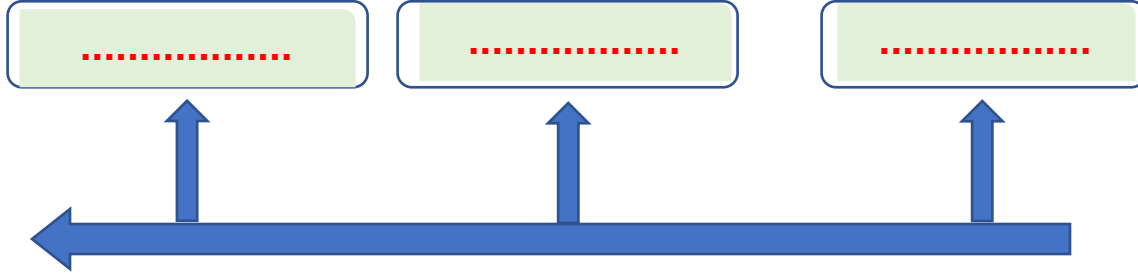
- 1
- 2
- 3

ج - ما المقصود بعام الحزن.

-
-
-

د - على الخط الزمني رتب أهم الأحداث في حياة الرسول صلى الله عليه وسلم قبل البعثة من الأقدم للأحدث:

(فتح مكة - يوم أُحد - يوم الأحزاب)



السؤال السابع : - اختر الإجابة الصحيحة:

1 - تم إصدار الدستور القطري الدائم في عهد الشيخ:

- أ - عبد الله بن جاسم آل ثاني.
 ب - خليفة بن حمد آل ثاني.
 ج - حمد بن خليفة آل ثاني.
 د - تميم بن حمد آل ثاني.

2- صدر الدستور القطري الدائم عام:

- أ - 2001م.
 ب - 2002م.
 ج - 2003م.
 د - 2004م.

3 - تكمن أهمية الدستور القطري الدائم في:

- أ - ينظم قانون المرور.
 ب - ينظم سلطات الدولة.
 ج - المحافظة على البيئة.
 د - يبين قانون البلديات.

4- أعلى وثيقة في الدولة:

- أ- الدستور.
 ب- التقاليد.
 ج- العادات.
 د- التراث.

السؤال الثامن: -

أ- ما المقصود بالدستور:

.....

.....

ب - عدد المبادئ الأساسية التي تتضمنها المادة الأولى من الدستور القطري.

-1

-2

-3

-4

ج - وضح أهمية الدستور القطري.

-1

-2

-3

انتهت الأسئلة