

## تم تحميل هذا الملف من موقع المناهج القطرية



## أوراق عمل اثرائية منتصف الفصل غير مجانية

موقع المناهج ← المناهج القطرية ← المستوى الخامس ← اجتماعيات ← الفصل الأول ← أوراق عمل ← الملف

تاريخ إضافة الملف على موقع المناهج: 2024-10-31 01:21:30

ملفات اكتب للمعلم اكتب للطالب | اختبارات الكترونية | اختبارات | حلول | عروض بوربوينت | أوراق عمل  
منهج انجليزي | ملخصات وتقارير | مذكرات وبنوك | الامتحان النهائي للمدرس

المزيد من مادة  
اجتماعيات:

## التواصل الاجتماعي بحسب المستوى الخامس



صفحة المناهج  
القطرية على  
فيسبوك

الرياضيات

اللغة الانجليزية

اللغة العربية

التربية الاسلامية

المواد على تلغرام

## المزيد من الملفات بحسب المستوى الخامس والمادة اجتماعيات في الفصل الأول

أوراق عمل دعم وإثراء الفرقان منتصف الفصل غير مجانية

1

أوراق عمل منتصف الفصل غير مجانية

2

أوراق عمل أم القرى منتصف الفصل غير مجانية

3

اوراق عمل نهاية الفصل مجانية مدرسة عبد الله بن رواحة

4

اوراق عمل نهاية الفصل غير مجانية مدرسة عبد الله بن رواحة

5

# تحدى المعلومات 1



منتصف الفصل الدراسي الأول

الدراسات الاجتماعية

الصف الخامس



..... / الاسم

..... الصف / خامس

## إعلان مسابقة تحدي المعلومات 1

يعلن قسم الدراسات الاجتماعية عن تقديم مسابقة تحدي المعلومات 1 لطالبات الصف ( الثالث - الرابع - الخامس - السادس ) من خلال الحضور الصفّي والاختبار الورقي المادة العلمية من الكتاب المدرسي وكراسة تحدي المعلومات 1



صف الطالبة



أثناء الحصة



OCT  
الأربعاء 9  
+  
الخميس 10



إعلان النتائج يوم الأحد 13 - 10 - 2024 م

**أولاً: اختر الإجابة الصحيحة:**

1. " وصف حالة الجو خلال فترة زمنية طويلة ... " يشير التعريف إلى مفهوم:	
الطقس	<input type="checkbox"/>
الحرارة	<input type="checkbox"/>
المناخ	<input type="checkbox"/>
الرطوبة	<input type="checkbox"/>

2. تكون العلاقة بين الحرارة والضغط الجوي:	
عكسية	<input type="checkbox"/>
متقاربة	<input type="checkbox"/>
متساوية	<input type="checkbox"/>
متشابهة	<input type="checkbox"/>


3 تسمى الرياح التي تهب على دولة قطر:	
الدائمة	<input type="checkbox"/>
الكوس	<input type="checkbox"/>
التجارية	<input type="checkbox"/>
الموسمية	<input type="checkbox"/>

4" وصف حالة الجو خلال فترة زمنية قصيرة ... " يشير التعريف إلى مفهوم:

الرطوبة	<input type="checkbox"/>
الطقس	<input type="checkbox"/>
الحرارة	<input type="checkbox"/>
الرياح	<input type="checkbox"/>

ثانياً: أجب عن الأسئلة الآتية:

1. اذكر أنواع الرياح.



1. ....
2. ....
3. ....

2. لماذا تعد الأمطار الأساس الذي تقوم عليه الحياة؟

.....

3. بم تفسر تعد الحرارة أهم العناصر المناخية؟

.....

أولاً: اختر الإجابة الصحيحة:

1. تحظى شبه الجزيرة العربية بمكانة دينية كبيرة بسبب:	
<input type="checkbox"/>	وجود المناطق المقدسة
<input type="checkbox"/>	إطلالها على مسطحات مائية مهمة
<input type="checkbox"/>	إشرافها على مضائق بحرية مهمة
<input type="checkbox"/>	وقوعها على ملتقى قارات العالم القديم

2. أشهر صحاري شبه الجزيرة العربية:	
<input type="checkbox"/>	تهامة
<input type="checkbox"/>	الصمان
<input type="checkbox"/>	حضر موت
<input type="checkbox"/>	الربع الخالي

3. أصغر دول شبه الجزيرة العربية مساحة:	
<input type="checkbox"/>	عمان
<input type="checkbox"/>	البحرين
<input type="checkbox"/>	الإمارات
<input type="checkbox"/>	اليمن

4. الهضبة التي تقع في وسط شبه الجزيرة العربية هي:

الصمان	<input type="checkbox"/>
الحماد	<input type="checkbox"/>
نجد	<input type="checkbox"/>
حزرموت	<input type="checkbox"/>

**ثانياً: أجب عن الأسئلة الآتية:**

1. ما أهمية موقع شبه الجزيرة العربية؟

1. ....
2. ....
3. ....

2. عدد جبال شبه الجزيرة العربية.

1. ....
2. ....
3. ....

3. عدد هضاب شبه الجزيرة العربية.

1. ....
2. ....
3. ....

4. ما سبب عدم صلاحية سهول الخليج العربي للزراعة؟

..... 1.

..... 2.

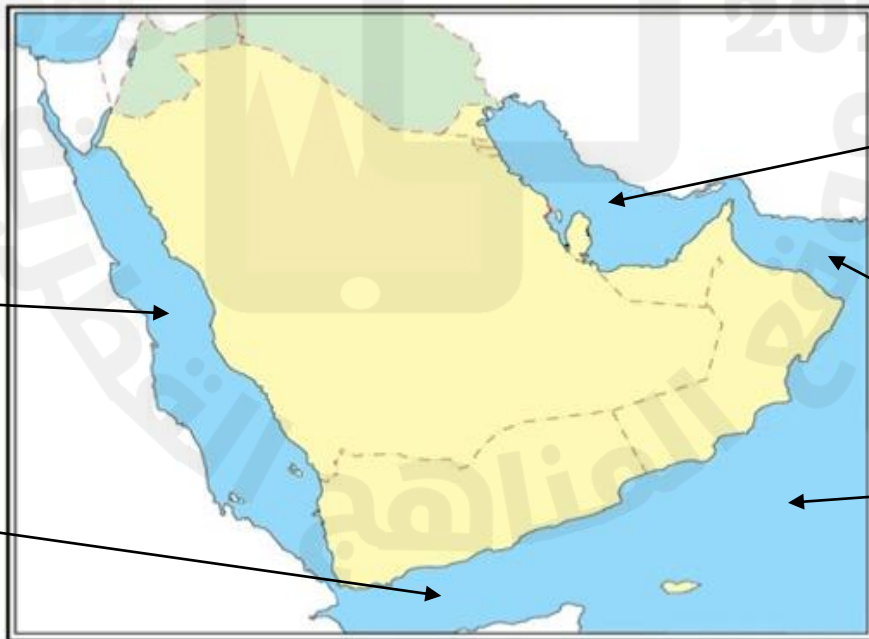
4. بم تفسر تحظى شبه الجزيرة العربية بمكانة دينية كبيرة؟

.....

5. ما أكبر دول شبه الجزيرة العربية مساحة؟

.....

ثالثاً: 1- (حدد على خريطة شبه الجزيرة العربية التي أمامك المسطحات المائية في المربعات المخصصة لها:



.....  
.....

.....  
.....

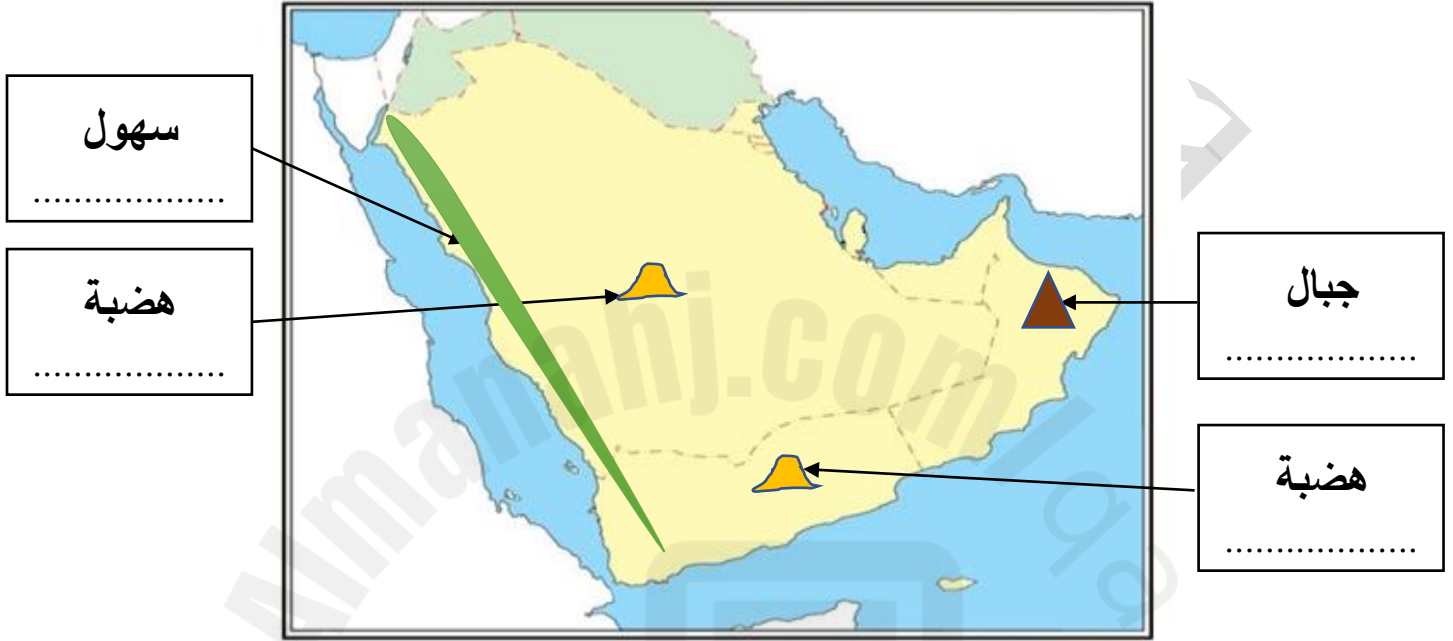
.....  
.....

.....  
.....

.....  
.....

2- (حدد على خريطة شبه الجزيرة العربية التي أمامك مظاهر السطح في المربعات

المخصصة لها:



2025

2024

موقع المناهج النقطي



**أولاً: اختر الإجابة الصحيحة:**

1. شبه الجزيرة العربية خالية من مياه:	
□	الأنهار
□	البحار
□	الأمطار
□	الآبار

2. يسود شبه الجزيرة العربية المناخ:	
□	الصحراوي
□	الجبلي
□	البارد
□	المعتدل

**ثانياً: أجب عن الأسئلة الآتية:**

1. اذكر العوامل الطبيعية لقيام حضارات شبه الجزيرة العربية.	
1.	.....
2.	.....
3.	.....

2. ما مميزات الموقع الجغرافي لشبه الجزيرة العربية.	
1.	.....
2.	.....

**أولاً: اختر الإجابة الصحيحة:**

1. سادت في بادية شبه الجزيرة العربية حرفة:	
الزراعة	<input type="checkbox"/>
الرعي	<input type="checkbox"/>
الصناعة	<input type="checkbox"/>
التجارة	<input type="checkbox"/>

2. أشهر ملوك مملكة كندة:	
بلقيس	<input type="checkbox"/>
المنذر	<input type="checkbox"/>
حجر بن الحارث	<input type="checkbox"/>
الحارث بن عمرو	<input type="checkbox"/>

3. يرجع انهيار سد مأرب إلى:	
سيل شديد	<input type="checkbox"/>
حروب داخلية	<input type="checkbox"/>
زلازل قوي	<input type="checkbox"/>
ظهور بركان	<input type="checkbox"/>

4. كان النظام السياسي في ممالك شبه الجزيرة العربية القديمة:

ملكي	<input type="checkbox"/>
جمهوري	<input type="checkbox"/>
سلطاني	<input type="checkbox"/>
أميري	<input type="checkbox"/>

5. أشهر قصور صنعاء في اليمن قديماً:

القسطل	<input type="checkbox"/>
الرصافة	<input type="checkbox"/>
غمدان	<input type="checkbox"/>
الخورنق	<input type="checkbox"/>

6. تضم الطبقة العليا في المجتمع العربي القديم:

الفقراء	<input type="checkbox"/>
العبيد	<input type="checkbox"/>
الحكام	<input type="checkbox"/>
صغار التجار	<input type="checkbox"/>

7. أقدم ممالك شبه الجزيرة العربية هي:

كندة	<input type="checkbox"/>
سبأ	<input type="checkbox"/>
معين	<input type="checkbox"/>
حمير	<input type="checkbox"/>

**ثانياً: أجب عن الأسئلة الآتية:**

1. اذكر مكانة المرأة في حضارات العرب القديمة.

1. ....
2. ....
3. ....

2. عددي طبقات المجتمع العربي في حضارات شبه الجزيرة العربية.

1. ....
2. ....
3. ....

3. بم تفسر سقوط مملكة كندة؟

1. ....
2. ....
3. ....

4. اذكر أمثلة على العمارة في حضارات شبه الجزيرة العربية.

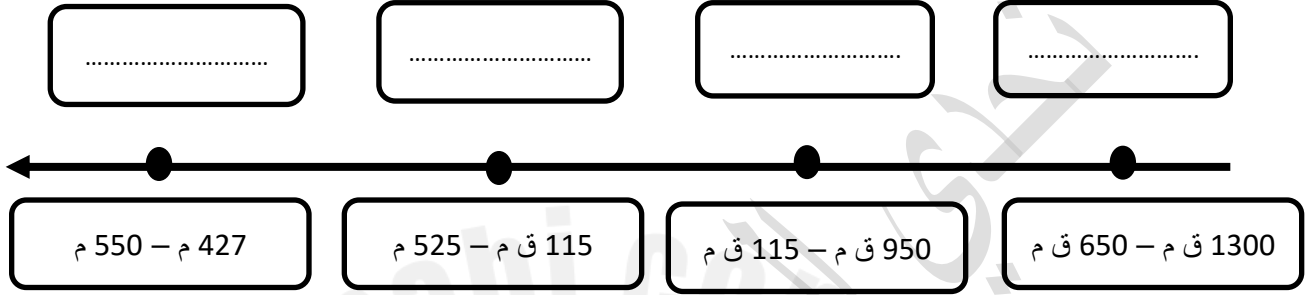
1. ....
2. ....

ثالثاً:

1-رتب على الخط الزمني حضارات شبة الجزيرة العربية ترتيباً صحيحاً:

مسحوك

( سبأ - حمير - كندة - معين )





أولاً: اختر الإجابة الصحيحة:

1. " الجهد الذي يبذله الإنسان تجاه المجتمع بدون مقابل مادي " يشير التعريف إلى مفهوم:

<input type="checkbox"/>	المساواة
<input type="checkbox"/>	العدل
<input type="checkbox"/>	التسامح
<input type="checkbox"/>	العمل التطوعي

2. أي الأعمال التطوعية الآتية تصنف للعمل الجماعي؟

<input type="checkbox"/>	زيارة المرضى
<input type="checkbox"/>	تنظيف الحدائق
<input type="checkbox"/>	رعاية المسنين
<input type="checkbox"/>	حماية الآثار

3. تأسست جمعية الهلال الأحمر القطري عام:

<input type="checkbox"/>	1978م
<input type="checkbox"/>	1979م
<input type="checkbox"/>	1980م
<input type="checkbox"/>	1981م

**ثانياً: أجب عن الأسئلة الآتية:**

1. عددي المؤسسات التطوعية في دولة قطر.

1. ....
2. ....
3. ....

2. عددي أنواع العمل التطوعي.

1. ....
2. ....

3. اذكر أهمية العمل التطوعي.

1. ....
2. ....
3. ....

**ملاحظة هامة:**

الكواسة لا تغني عن الكتاب المدرسي

يرجى مذاورة أسئلة تدريبات الكتاب