

تم تحميل هذا الملف من موقع المناهج القطرية



## أوراق عمل دعم وإثراء الفرقان منتصف الفصل غير مجانية

موقع المناهج ← المناهج القطرية ← المستوى الخامس ← علوم الحاسب ← الفصل الأول ← أوراق عمل ← الملف

تاريخ إضافة الملف على موقع المناهج: 2024-10-30 18:46:06

ملفات اكتب للمعلم اكتب للطالب الاختبارات الكترونية الاختبارات ا حلول ا عروض بوربوينت ا أوراق عمل  
منهج انجليزي ا ملخصات و تقارير ا مذكرات و بنوك ا الامتحان النهائي للمدرس

المزيد من مادة  
علوم الحاسب:

## التواصل الاجتماعي بحسب المستوى الخامس



صفحة المناهج  
القطرية على  
فيسبوك

الرياضيات

اللغة الانجليزية

اللغة العربية

التربية الاسلامية

المواد على تلغرام

## المزيد من الملفات بحسب المستوى الخامس والمادة علوم الحاسب في الفصل الأول

أوراق عمل اثرائية منتصف الفصل غير مجانية

1

أوراق عمل اثرائية منتصف الفصل مع الإجابة النموذجية

2

مراجعة المفاهيم النظرية لاختبار منتصف الفصل

3

أوراق عمل الأندلس منتصف الفصل غير مجانية

4

أوراق عمل الأندلس منتصف الفصل مع الإجابة النموذجية

5

# الحواسبة

1446 هـ - 24-25 م

5 تدريبات

منتصف ف 1  
دعم  
وإثراء



يا رب انصر عبادك المؤمنين  
وجنك الموحدين في كل مكان

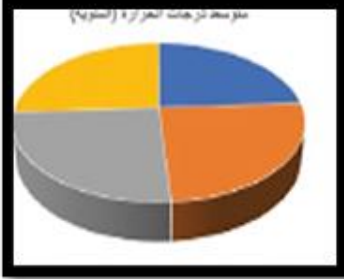
القدس والأقصى ▼ حتماً ستعود

ملحوظة: هذه التدريبات لا تقني عن الكتاب المدرسي

الاسم / ..... الصف / 5-

التميز



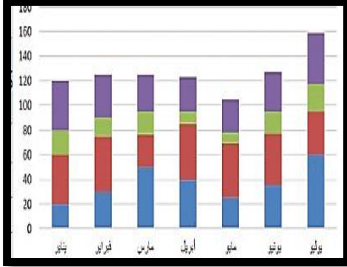
**أولاً: ضع دائرة حول الإجابة الصحيحة فيما يلي:****(1) - يشير المخطط البياني الموضح بالصورة إلى :**

( أ ) مخطط خطي

( ب ) مخطط دائري

( ج ) مخطط عمودي

( د ) مخطط الانتشار

**(2) - يشير المخطط البياني الموضح بالصورة إلى :**

( أ ) مخطط خطي

( ب ) مخطط دائري

( ج ) مخطط عمودي

( د ) مخطط الانتشار

**(4) - البيانات التي يُمكن ادخالها في جداول البيانات يجب أن تحتوي على :**

( أ ) أرقام فقط

( ب ) صور فقط

( ج ) أرقام ونصوص

( د ) أصوات وفيديوهات

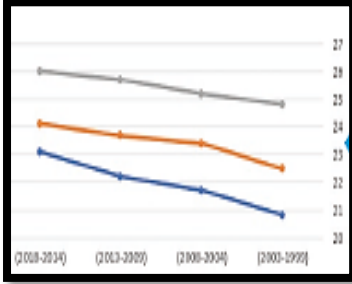
**(5) - تتكون ورقة العمل من.....:**

( أ ) أعمدة وصفوف

( ب ) صور ورسومات

( ج ) بيانات غير منظمة

( د ) أصوات وفيديوهات

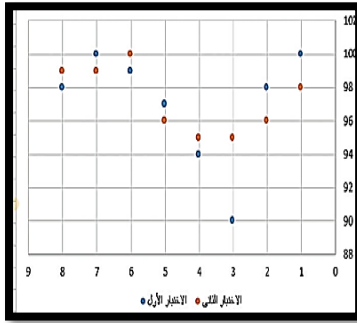
**( 6 ) - يشير المخطط البياني الموضح بالصورة إلى :**

( أ ) مخطط خطي

( ب ) مخطط دائري

( ج ) مخطط عمودي

( د ) مخطط الانتشار

**( 7 ) - يشير المخطط البياني الموضح بالصورة إلى :**

( أ ) مخطط خطي

( ب ) مخطط دائري

( ج ) مخطط عمودي

( د ) مخطط الانتشار

**ثانياً: ضع الكلمة المناسبة في الفراغ المناسب :**

جدول البيانات

درجات الطلبة

ترتيب الأولويات

المخطط البياني

1- تعتبر ..... من أمثلة استخدام جداول البيانات .

2- يعتبر..... من النصائح التي تساعدك على إدارة وقتك .

3- ..... تستخدم كطريقة لجمع وتنظيم وتمثيل البيانات .

4- ..... هو عرض مرئي للبيانات يجعل من السهل فهم

الأرقام وتحليلها.

**ثالثاً : أجب عن الأسئلة الآتية :****أ- اذكر اثنين من استخدامات جداول البيانات:**

1- .....

2- .....

**ب- اذكر النصائح التي تساعدك على إدارة وقتك :**

1- .....

2- .....

3- .....

4- .....

**ج- حدد نوع المخطط المناسب تبعاً لاستخدامه بوضع علامة  $\checkmark$  في المربع المناسب:**

مخطط الانتشار	المخطط الخطي	المخطط الدائري	المخطط العمودي	
				توضيح المقارنات بين البيانات
				اظهار التغيرات في البيانات على مدى فترة زمنية
				مقارنة القيم بمرور الوقت
				اظهار العلاقة بين الأجزاء إلى الكل

## رابعاً - صحح الخطأ في الجمل التالية :

1. يمكنك إدخال بيانات رقمية فقط في جداول البيانات.

2. لا يمكنك إضافة رسومات بيانية في برنامج جداول البيانات.

3. تُستخدم جداول البيانات في تنظيم ومعالجة النصوص فقط بسرعة وبدقة.

4. يرمز إلى الأعمدة في جدول البيانات بالأرقام 1، 2، 3، ....

## خامساً - ضع الكلمة المناسبة في الفراغ المناسب:

خلية - الأيسر - نشطة - حرف - الأسهم - Enter

1. يمكنك دائماً رؤية اسم الخلية النشطة في الجانب العلوي \_\_\_\_\_ من جدول البيانات.
2. كل عمود في جدول البيانات يحتوي على \_\_\_\_\_ في الأعلى.
3. يمكنك الانتقال من خلية إلى أخرى باستخدام أزرار \_\_\_\_\_ على لوحة المفاتيح.
4. إذا كنت تريد الانتقال من الخلية A1 إلى A2، فقط اضغط على مفتاح \_\_\_\_\_.
5. عند الضغط على الخلية تصبح \_\_\_\_\_ وتظهر بحدود أكثر سمكاً.
6. لكل \_\_\_\_\_ اسم فريد لا يتكرر.