

تم تحميل هذا الملف من موقع المناهج القطرية



## تدريبات وأوراق عمل اثرائية منتصف الفصل مع الإجابة النموذجية

موقع المناهج ← المناهج القطرية ← المستوى الخامس ← اجتماعيات ← الفصل الأول ← أوراق عمل ← الملف

تاريخ إضافة الملف على موقع المناهج: 2024-10-31 01:33:16

ملفات اكتب للمعلم اكتب للطالب | اختبارات الكترونية | اختبارات | حلول | عروض بوربوينت | أوراق عمل  
منهج انجليزي | ملخصات وتقارير | مذكرات وبنوك | الامتحان النهائي للمدرس

المزيد من مادة  
اجتماعيات:

## التواصل الاجتماعي بحسب المستوى الخامس



صفحة المناهج  
القطرية على  
فيسبوك

الرياضيات

اللغة الانجليزية

اللغة العربية

التربية الاسلامية

المواد على تلغرام

## المزيد من الملفات بحسب المستوى الخامس والمادة اجتماعيات في الفصل الأول

أوراق عمل الأندلس الوحدة الثانية مع الإجابة النموذجية

1

أوراق عمل الأندلس الوحدة الثانية غير مجابة

2

أوراق عمل الأندلس الوحدة الأولى مع الإجابة النموذجية

3

أوراق عمل الأندلس الوحدة الأولى غير مجابة

4

أوراق العمل الاثرائية منتصف الفصل غير مجابة

5

## تدريبات علاجية لطلاب الصف الخامس الوحدة 1,2,3

الوحدة الأولى

التاريخ 2024-10-3

1 - يحدّ شبه الجزيرة العربية من الشمال دولة:

1

- لبنان

أ

- سوريا

ب

- الأردن

✓

- فلسطين

د

2 - يُعرف وزن عمود من الهواء على مساحة ما من الأرض:

2

- الرّيح.

أ

- الأمطار.

ب

- المناخ.

ج

- الضغط الجوي.

✓

3 - ما هو المصدر الرئيسي للمياه على سطح الأرض؟

3

- الرياح

أ

- الحرارة

ب

- الأمطار

✓

- الضغط الجوي

د

4 - يربط مضيق هرمز بين الخليج العربي و:

4

- خليج عدن

أ

- بحر العرب

ب

- بحر عمان

✓

- البحر الأحمر

د

5 - أكبر دول شبه الجزيرة العربية مساحة هي:

- أ - اليمن  
ب - البحرين  
ج - السعودية  
د - سلطنة عمان

6 - تهب رياح الكوس على دولة:

- أ - قطر  
ب - اليمن  
ج - السعودية  
د - سلطنة عمان

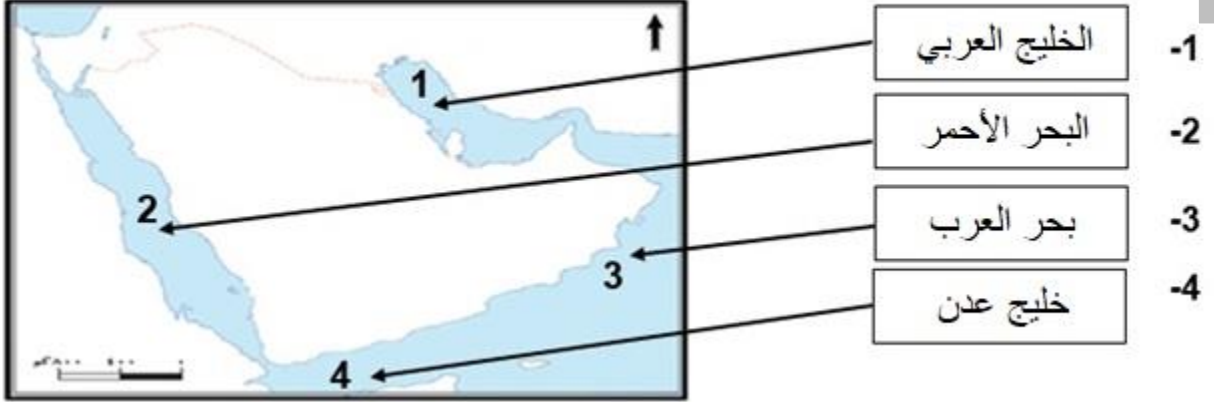
7 - أهم العناصر المناخية التي تؤثر على باقي عناصر المناخ:

- أ - الحرارة.  
ب - الأمطار.  
ج - الرياح.  
د - الضغط الجوي.

8 - كم يبلغ عدد دوائر العرض التي تقطع شبه الجزيرة العربية؟

- أ - 19  
ب - 20  
ج - 21  
د - 22

9 - اكتب ما تشير اليه الأرقام من مسطحات مائية على خريطة شبه الجزيرة العربية التي أمامك.



10 - عدّد أهم الجبال والهضاب في شبه الجزيرة العربية.

أهم الهضاب	أهم الجبال
حضرموت	مدين
نجد	الحجار
الصمان	طويق
الحجرة و الحماد	شمر
	اليمن

11 وضح أهمية موقع شبه الجزيرة العربية

أ- تُطلُّ على مسطحات مائية مهمّة مثل: الخليج العربي

ب- تُشرف على مضائق مهمة، مثل: مضيق هرمز

ج- أهمية دينية د- تتوسط القارات العالم القديم

12- بم تفسر الآتي " تعتبر الحرارة أهم عناصر المناخ" ؟

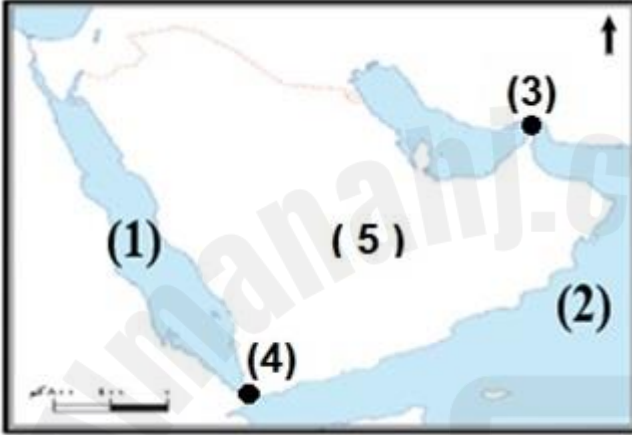
لأنها تؤثر على باقي العناصر

13- عدد عناصر المناخ:

أ- الحرارة ب- الأمطار ج- الضغط الجوي د- الرياح

14- عدد أنواع الرياح:

أ- الدائمة ب- الموسمية ج- اليومية د- اليومية



15- اكتب مدلولات الأرقام على الخريطة

- 1- البحر الأحمر
- 2- بحر العرب
- 3- مضيق هرمز
- 4- مضيق باب المندب
- 5- هضبة نجد

2025

2024

موقع المناهج القطرية

أجب عن جميع الأسئلة الآتية:

كل ما أنجزه الإنسان في جميع المجالات يشير المفهوم إلى:

1

العادات

أ

التقاليد

ب

التراث

ج

الحضارة

✓

- عاصمة مملكة سبأ هي:

2

الفاو

أ

مأرب

✓

الجوف

ج

ريدان

د

قامت مملكة كندة في غرب:

3

نجد

✓

اليمن

ب

الاحساء

ج

الحجاز

د

من أشهر ملوك كندة

4

طرفة بن العبد

أ

الحارث بن عمرو

✓

النعمان بن المنذر

ج

الحارث الثاني بن جبلة

د

5 الحرفة الرئيسية لسكان شبه الجزيرة العربية قديماً:

5

الرعي



التجارة

ب

الزراعة

ج

الصناعة

د

6 ضمت الطبقة الوسطى في المجتمع العربي قديماً:

6

العبيد

أ

التجار



كبار الموظفين

ج

أصحاب الأراضي الواسعة

د

7 يسود شبه الجزيرة العربية المناخ:

7

البارد

أ

المعتدل

ب

الموسمي

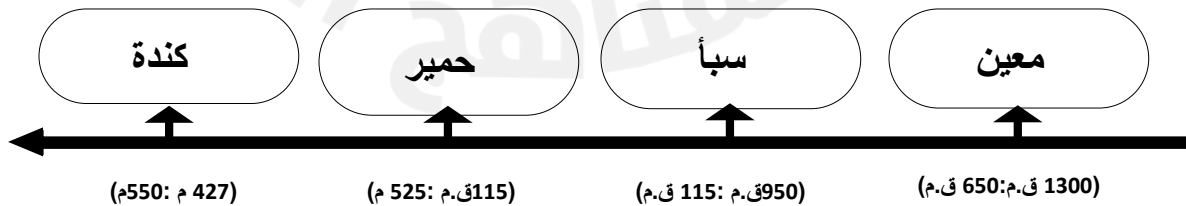
ج

الصحراوي



8- رتب ممالك شبه الجزيرة العربية على الخط الزمني الآتي.

(حمير- معين - كندة - سبأ)



9- بم تفسر سقوط مملكة سبأ؟

أ- انهيار سد مأرب

ب- سيطرة دولة الأنباط على حركة التجارة البرية.

10- عدّد المحاصيل الزراعية بشبه الجزيرة العربية

أ- النخيل، ب- الخضروات ج- الفاكهة، د- القمح و- الشعير

11- وضح مكانة المرأة في حضارات العرب القديمة

وقت السلم تساعد زوجها في أعمال 1- الزراعة 2- الرعي 3- غزل النسيج والصوف

4- بالتجارة 5- أصبحت ملكة مثل بلقيس .

12- وزع الفئات الآتية على شكل طبقات المجتمع العربي في شبه الجزيرة العربية قديماً.

الملك - العبيد - الصناع



13- وضح العوامل الطبيعية لقيام الحضارة في شبه الجزيرة العربية قديماً.

1- الموقع الجغرافي - مثل طول السواحل - تجارة بحرية

2- المناخ - صحراوي - رعي

3- موارد المياه - مثل جوفية يثرب و الامطار اليمن

4- الموارد الطبيعية مثل الصخور مثل المعادن صناعة الأسلحة



أجب عن جميع الأسئلة الآتية:

1- الجهد الذي يبذله الإنسان تجاه المجتمع بلا مقابل مادي، يُقصد به:

- التسامح .  
الصالح العام.  
العمل التطوعي.  
التعايش السلمي.

أ

ب

✓

د

2- من أهداف مركز قطر للعمل التطوعي:

- مكافحة الأوبئة والأمراض..  
توفير الإسعافات الأولية للضحايا..  
نشر ثقافة التطوع بين الأفراد والمؤسسات..  
حث الشباب على المشاركة في الحفاظ على البيئة..

أ

ب

✓

د

3- عدد أشكال العمل التطوعي.

1- فردي.

2- جماعي.

4- وضح أهمية العمل التطوعي.

1- تشجيع البذل والعطاء.

2- استغلال أوقات الفراغ.

3- تقوية الروابط الاجتماعية.

5- عدد مؤسسات العمل التطوعي بدولة قطر

1- مركز قطر للعمل التطوعي.

2- جمعية الهلال الأحمر القطري.

3- مركز أصدقاء البيئة.