

تم تحميل هذا الملف من موقع المناهج القطرية



تدريبات وأوراق عمل اثرائية منتصف الفصل غير مجانية

موقع المناهج ← المناهج القطرية ← المستوى الخامس ← اجتماعيات ← الفصل الأول ← أوراق عمل ← الملف

تاريخ إضافة الملف على موقع المناهج: 2024-10-31 01:35:06

ملفات اكتب للمعلم اكتب للطالب | اختبارات الكترونية | اختبارات | حلول | عروض بوربوينت | أوراق عمل
منهج انجليزي | ملخصات وتقارير | مذكرات وبنوك | الامتحان النهائي للمدرس

المزيد من مادة
اجتماعيات:

التواصل الاجتماعي بحسب المستوى الخامس



صفحة المناهج
القطرية على
فيسبوك

الرياضيات

اللغة الانجليزية

اللغة العربية

التربية الاسلامية

المواد على تلغرام

المزيد من الملفات بحسب المستوى الخامس والمادة اجتماعيات في الفصل الأول

تدريبات وأوراق عمل اثرائية منتصف الفصل مع الإجابة النموذجية

1

أوراق عمل الأندلس الوحدة الثانية مع الإجابة النموذجية

2

أوراق عمل الأندلس الوحدة الثانية غير مجانية

3

أوراق عمل الأندلس الوحدة الأولى مع الإجابة النموذجية

4

أوراق عمل الأندلس الوحدة الأولى غير مجانية

5

تدريبات علاجية لطلاب الصف الخامس الوحدة 1,2,3

الوحدة الأولى

التاريخ 2024-10-3

1 - يحد شبه الجزيرة العربية من الشمال دولة:

1

- لبنان

أ

- سوريا

ب

- الأردن

ج

- فلسطين

د

2 - يُعرف وزن عمود من الهواء على مساحة ما من الأرض:

2

- الرياح.

أ

- الأمطار

ب

- الفناخ.

ج

- الضغط الجوي.

د

3 - ما هو المصدر الرئيسي للمياه على سطح الأرض؟

3

- الرياح

أ

- الحرارة

ب

- الأمطار

ج

- الضغط الجوي

د

4 - يربط مضيق هرمز بين الخليج العربي و:

4

- خليج عدن

أ

- بحر العرب

ب

- بحر عمان

ج

- البحر الأحمر

د

5 - أكبر دول شبه الجزيرة العربية مساحة هي:

5

أ - اليمن

أ

ب - البحرين

ب

ج - السعودية

ج

د - سلطنة عمان

د

6 - تهب رياح الكوس على دولة:

6

أ - قطر

أ

ب - اليمن

ب

ج - السعودية

ج

د - سلطنة عمان

د

7 - أهم العناصر المناخية التي تؤثر على باقي عناصر المناخ:

7

أ - الحرارة.

أ

ب - الأمطار.

ب

ج - الرياح.

ج

د - الضغط الجوي.

د

8 - كم يبلغ عدد دوائر العرض التي تقطع شبه الجزيرة العربية؟

8

أ - 19

أ

ب - 20

ب

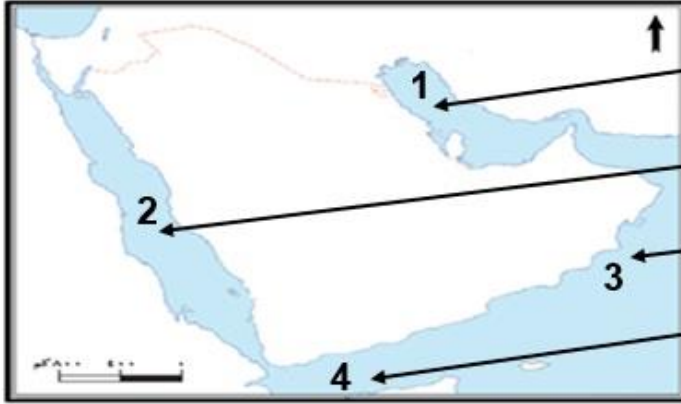
ج - 21

ج

د - 22

د

9 - اكتب ما تشير اليه الأرقام من مسطحات مائية على خريطة شبه الجزيرة العربية التي أمامك.



- 1
- 2
- 3
- 4

10 - عدّد أهم الجبال والهضاب في شبه الجزيرة العربية.

أهم الهضاب	أهم الجبال

11-وضح أهمية موقع شبه الجزيرة العربية

- أ-
- ب-
- ج-

12- بم تفسر الآتي " تعتبر الحرارة أهم عناصر المناخ"؟

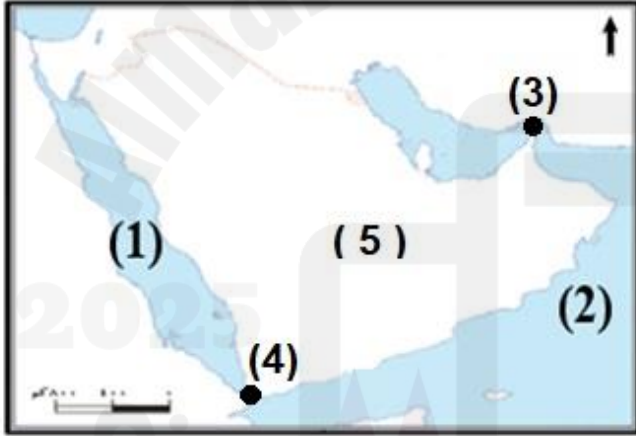
-
-

13- عدد عناصر المناخ:

- أ-
- ب-
- ج-

14- عدد أنواع الرياح:

- أ-
- ب-
- ج-



15 . اكتب مدلولات الأرقام على الخريطة

- 1
- 2
- 3
- 4
- 5

أجب عن جميع الأسئلة الآتية:

كل ما أنجزه الإنسان في جميع المجالات يشير المفهوم إلى:

1

العادات

أ

التقاليد

ب

التراث

ج

الحضارة

د

- عاصمة مملكة سبأ هي:

2

الفاو

أ

مأرب

ب

الجوف

ج

ريدان

د

قامت مملكة كندة في غرب:

3

نجد

أ

اليمن

ب

الاحساء

ج

الحجاز

د

من أشهر ملوك كندة

4

طرفة بن العبد

أ

الحارث بن عمرو

ب

النعمان بن المنذر

ج

الحارث الثاني بن جبلة

د

5 الحرفة الرئيسية لسكان شبه الجزيرة العربية قديماً:

5

أ الرعي

أ

ب التجارة

ب

ج الزراعة

ج

د الصناعة

د

6 ضمت الطبقة الوسطى في المجتمع العربي قديماً:

6

أ العبيد

أ

ب التجار

ب

ج كبار الموظفين

ج

د أصحاب الأراضي الواسعة

د

7 يسود شبه الجزيرة العربية المناخ:

7

أ البارد

أ

ب المعتدل

ب

ج الموسمي

ج

د الصحراوي

د

8-رتب ممالك شبه الجزيرة العربية على الخط الزمني الآتي.

(حمير- معين - كندة - سبأ)



9- بم تفسّر سقوط مملكة سبأ؟

- أ-
- ب-
- ج-

10- عدّد المحاصيل الزراعية بشبه الجزيرة العربية

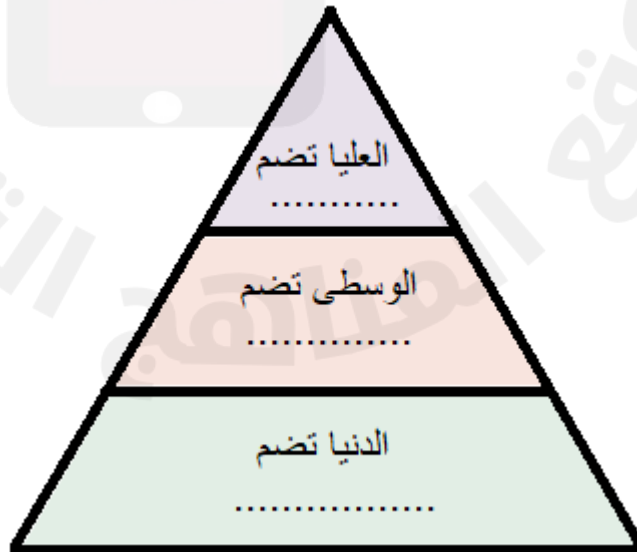
- أ-
- ب-
- ج-

11- وضح مكانة المرأة في حضارات العرب القديمة

- أ-
- ب-
- ج-

12 - وزع الفئات الاتية على شكل طبقات المجتمع العربي في شبه الجزيرة العربية قديماً.

الملك - العبيد - الصناع



13- وضّح العوامل الطبيعية لقيام الحضارة في شبه الجزيرة العربية قديماً.

- أ.....
ب.....
ج.....



أجب عن جميع الأسئلة الآتية:

1- الجهد الذي يبذله الإنسان تُجاه المجتمع بلا مقابل مادي، يُقصد به:

التسامح .

الصالح العام.

العمل التطوعي.

التعايش السلمي.

أ

ب

ج

د

2- من أهداف مركز قطر للعمل التطوعي:

مكافحة الأوبئة والأمراض..

توفير الإسعافات الأولية للضحايا..

نشر ثقافة التطوع بين الأفراد والمؤسسات..

حث الشباب على المشاركة في الحفاظ على البيئة..

أ

ب

ج

د

3- عدّد أشكال العمل التطوعي.

..... -1

..... -2

4- وضح أهمية العمل التطوعي.

..... -1

..... -2

..... -3

5- عدّد مؤسسات العمل التطوعي بدولة قطر

..... -1

..... -2

..... -3