

تم تحميل هذا الملف من موقع المناهج القطرية



أوراق عمل دعم وإثراء الفرقان منتصف الفصل غير محلولة

موقع المناهج ← المناهج القطرية ← المستوى السادس ← اجتماعيات ← الفصل الأول ← أوراق عمل ← الملف

تاريخ إضافة الملف على موقع المناهج: 03:02:09 2024-10-31

ملفات اكتب للمعلم اكتب للطالب الاختبارات الكترونية | اختبارات | حلول | عروض بوربوينت | أوراق عمل
منهج انجليزي | ملخصات و تقارير | مذكرات و بنوك | الامتحان النهائي للمدرس

المزيد من مادة
اجتماعيات:

التواصل الاجتماعي بحسب المستوى السادس



صفحة المناهج
القطرية على
فيسبوك

الرياضيات

اللغة الانجليزية

اللغة العربية

التربية الاسلامية

المواد على تلغرام

المزيد من الملفات بحسب المستوى السادس والمادة اجتماعيات في الفصل الأول

أوراق عمل دعم وإثراء الفرقان منتصف الفصل مع الإجابة النموذجية

1

اوراق عمل نهاية الفصل غير مجابة

2

اوراق عمل نهاية الفصل مجابة مدرسة مسيعيد

3

اوراق عمل نهاية الفصل غير مجابة مدرسة مسيعيد

4

اوراق عمل نهاية الفصل مجابة مدرسة عبد الله بن رواحة


5

الدراسات الاجتماعية

1446 هـ - 24-25 م

6
تدريبات

منتصف ف 1
دعم
وإثراء



يا رب انصر عبادك المؤمنين
وجنك الموحدين في كل مكان

القدس والأقصى ▼ حتماً ستعود

ملحوظة: هذه التدريبات لا تقني عن الكتاب المدرسي

الاسم / الصف / 6-

التميز



تدريبات إثرائية وعلاجية للصف السادس / لمادة الاجتماعيات

الوحدة الأولى: الأرض من حَولي (من ص 20 إلى ص 41 - عدا درس: (أهمية خطوط الطول ودوائر العرض)

الوحدة الثانية: (الحضارات القديمة في منطقة الخليج العربي (من ص: 46 : ص 63)

الوحدة الثالثة: درس ثقافة المجتمع القطري فقط (من ص 68 : 71) ،، درس المؤسسات الثقافية (إثرائية)

أولاً : الأسئلة الموضوعية :

1- اختر الإجابة الصحيحة بوضع علامة في المربع المقابل لها:-

يحدُّ الوطن العربي من جهة الشمال البحر المتوسط وجبال:

1

اليمن

أطلس

طوروس

الهمالايا

يحدُّ الوطن العربي الخليج العربي وبحر عمان من جهة:

2

الشمال

الجنوب

الشرق

الغرب

يحدُّ الوطن العربي المحيط الهندي والصحراء الكبرى من جهة :

3

الشمال

الجنوب

الشرق

الغرب

تدريبات إثرائية وعلاجية للصف السادس / لمادة الاجتماعيات

يُحدّ الوطن العربي من جهة الغرب :

4

خليج عدن

الخليج العربي

المحيط الأطلنطي

الصحراء الكبرى

يربط بين البحر المتوسط والمحيط الأطلنطي ومضيق :

5

هُرمز

البُسفور

باب المنذب

جبل طارق

يربط بين الخليج العربي وبحر عمان مضيق:

6

هرمز

البسفور

باب المنذب

جبل طارق

يربط مضيق باب المنذب بين خليج عدن و :

7

بحر العرب

البحر الأحمر

البحر المتوسط

المحيط الأطلنطي

تُوجد محطة تحلية الأحمدى في دولة الكويت بينما توجد محطة صحار في دولة:

8

قطر

عمان

الكويت

البحرين

أي الهضاب الآتية تقع وسط شبه الجزيرة العربية ؟

9

نجد

الصَّمان

حضر موت

بادية الشام

يبلغ عدد دول الوطن العربي :

10

20

22

24

26

أي السهول الآتية تُعد من السهول الفيضية في الوطن العربي ؟

11

الباطنة

بحر العرب

حضر موت

دجلة والفرات

تدريبات إثرائية وعلاجية للصف السادس / لمادة الاجتماعيات

12 أي المواقع الأثرية الآتية يُعد من المواقع الأثرية القديمة في دولة قطر ؟

الزبارة

الكوت

الوجبة

عسيلة

13 أي المواقع الأثرية الآتية يُعد من المواقع الأثرية الحديثة في دولة قطر ؟

لوسيل

رأس بروق

قلعة مروب

برجا برزان

14 أي القلاع الآتية تم بناؤها في العصر العباسي ؟

مُروب

الوجبة

الكُوت

الزبارة

15 أي الدول الآتية يوجد فيها نهري دجلة والفرات ؟

لبنان

الاردن

العراق

فلسطين

السؤال الثاني : أكمل الجمل الآتية بكلمات مناسبة:

- 1- يحدّ الوطن العربي من جهة الشمال و
- 2- يحدّ الوطن العربي من جهة الغرب
- 3- يحدّ الوطن العربي من جهة الشرق الخليج و بحر
- 4- ترتفع درجات الحرارة صيفاً على الوطن العربي بسبب
- 5- الحضارة التي أطلق عليها السومريون أرض الفردوس
- 6- من السهول الفيضية في الوطن العربي سهول
- و
- 7- من السهول الساحلية في الوطن العربي سهول تهامة المطلة على البحر الأحمر
- و
- 8 - يبلغ عدد الدول العربية في قارة آسيا والدول العربية في أفريقيا
- 9 - من الأهمية الاستراتيجية لموقع الوطن العربي توسّطه
- 10 - من الأهمية الاستراتيجية لموقع الوطن العربي إشرافه
- 11- من هضاب الوطن العربي في الجانب الآسيوي هضبة و
- 12- يحدّ الوطن العربي من جهة الجنوب المحيط
- 13 - تعتمد معظم دول الوطن العربي على تحلية مياه البحر وذلك بسبب قلة موارد المياه العذبة
- و

تدريبات إثرائية وعلاجية للصف السادس / لمادة الاجتماعيات

14- ترتفع درجات الحرارة صيفاً على جنوب الوطن العربي بسبب

15 - من عناصر ثقافة المجتمع القطري الدين واللغة

و و

16 - دور الفرد في الحفاظ على ثقافة المجتمع القطري تتمثل في التمسك بـ

والالتزام بـ واحترام

السؤال الثالث : أجب عن الأسئلة الآتية :

(1) المضائق والممرات البحرية بالوطن العربي .

1- مضيق هُرمز يربط بين و

2- مضيق باب المندب يربط بين و

3- مضيق جبل طارق يربط بين و

4- قناة السويس تربط بين و

(2) (أ) قارن بين مناخ الوطن العربي صيفاً وشتاءً حسب الجدول الآتي :

وجه المقارنة	مناخ الوطن العربي صيفاً	مناخ الوطن العربي شتاءً
درجة الحرارة
الأمطار

(ب) قارن بين حضارة مجان وحضارة قطر قديماً حسب الجدول الآتي :

مظاهر الحضارة في قطر	مظاهر الحضارة في مجان
.....
.....
.....
.....

السؤال الرابع : (أ) ما النتائج المترتبة على ما يأتي :

1- الامتداد الكبير للوطن العربي واتساع أراضيه.

.....

2- إشراف الوطن العربي على بحار ومُحيطات وممرات بحرية هامة.

.....

3- وقوع حضارة فيلكا بين بلاد الرافدين ومنطقة الخليج العربي.

.....

4- وفرة المياه وخصوبة التربة في حضارة مجان.

.....

5- قلة موارد المياه العذبة في دول الخليج العربي.

.....

السؤال الرابع : (ب) عرف المفاهيم الآتية : (الثقافة - التراث)

1- الثقافة :

.....

التراث :

.....

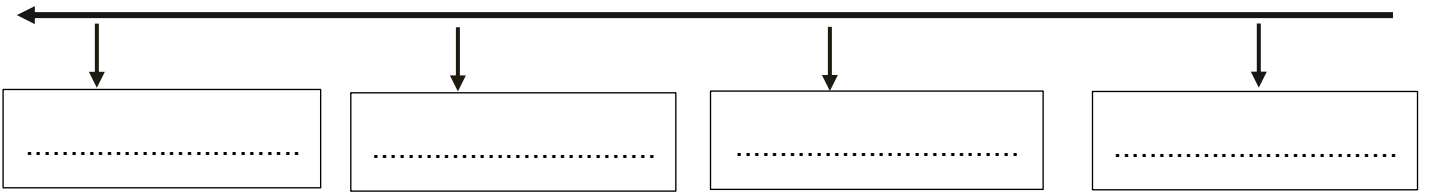
3 - رتب على الخط الزمني من الأقدم العصور الحضارية في دولة قطر :

(عصر الكاشيين)

(العصر العبيدي)

(عصر الساسانيين)

(العصر البرونزي)




سؤال التفكير:

س - ماذا ينتج عن تمسك الأفراد بالقيم الإسلامية والأخلاق حسنة وعادات وتقاليد المجتمع ؟

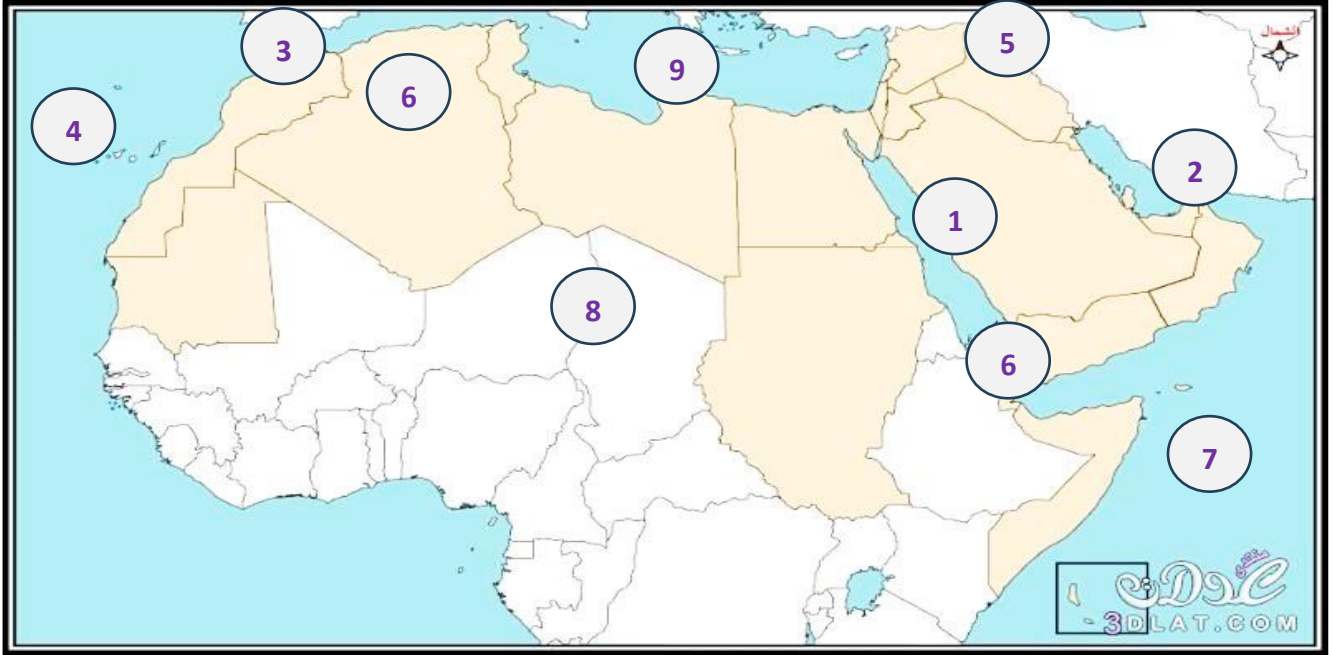
.....

.....



تدريبات إثرائية وعلاجية للصف السادس / لمادة الاجتماعيات

السؤال الخامس : أكتب ما تشير إليه الأرقام الموجودة على الخريطة التي أمامك:



- 1- سهول
- 2- مضيق
- 3- مضيق
- 4- المحيط
- 5- جبال
- 6- هضبة
- 7- المَحيط
- 8- الصحراء
- 9- البحر

((مع أطيب أمنياتي لجميع الأبناء بالنجاح والتفوق))