

تم تحميل هذا الملف من موقع المناهج القطرية



أوراق عمل جابر بن حيان منتصف الفصل مع الإجابة النموذجية

موقع المناهج ← المناهج القطرية ← المستوى السادس ← اجتماعيات ← الفصل الأول ← أوراق عمل ← الملف

تاريخ إضافة الملف على موقع المناهج: 2024-10-31 03:07:55

ملفات اكتب للمعلم اكتب للطالب | اختبارات الكترونية | اختبارات | حلول | عروض بوربوينت | أوراق عمل
منهج انجليزي | ملخصات وتقارير | مذكرات وبنوك | الامتحان النهائي للمدرس

المزيد من مادة
اجتماعيات:

التواصل الاجتماعي بحسب المستوى السادس



صفحة المناهج
القطرية على
فيسبوك

الرياضيات

اللغة الانجليزية

اللغة العربية

التربية الاسلامية

المواد على تلغرام

المزيد من الملفات بحسب المستوى السادس والمادة اجتماعيات في الفصل الأول

أوراق عمل الأندلس الوحدة الأولى غير محلولة

1

أوراق عمل إثرائية قبل اختبار منتصف الفصل غير محلولة

2

أوراق عمل مسيعة قبل اختبار منتصف الفصل غير محلولة

3

أوراق عمل دعم وإثراء الفرقان منتصف الفصل غير محلولة

4

أوراق عمل دعم وإثراء الفرقان منتصف الفصل مع الإجابة النموذجية

5



اسم الطالب / الصف / السادس

تدريبات إثرائية

في مادة الدراسات الاجتماعية

الصف السادس

العام الأكاديمي 2024/2025م

منتصف الفصل الدراسي الأول



هذه التدريبات لا تغني عن الكتاب المدرسي

1- عدد خطوط الطول التي يمتد عبرها الوطن العربي:

أ- 60

ب- 65

ج- 70

د- 77

2- الدولة العربية التي يعبرها خط الطول جرينتش:

أ- الكويت

ب- موريتانيا

ج- الجزائر

د- السودان

3- يمتد الوطن العربي بين قارتي آسيا و:

أ- أمريكا

ب- أوروبا

ج- إفريقيا

د- استراليا

4- أي المضائق التالية تربط بين البحر الأبيض المتوسط والمحيط الأطلسي:

أ- هرمز

ب- باب المندب

ج- قناة السويس

د- جبل طارق

5- يحد الوطن العربي من جهة الشمال جبال:

- أ- زاجروس
- ب- كردستان
- ج- طوروس
- د- الأطلس

6- تبلغ مساحة الوطن العربي:

- أ- 11.3 مليون كم
- ب- 12.3 مليون كم
- ج- 13.3 مليون كم
- د- 14.3 مليون كم

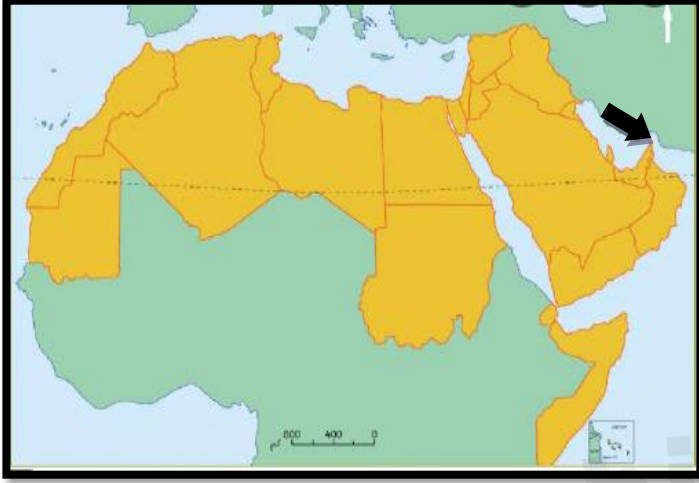
7- أصغر الدولة العربية مساحة:

- أ- الكويت
- ب- ليبيا
- ج- الإمارات
- د- البحرين

8- أكبر الدول العربية مساحة:

- أ- مصر
- ب- الجزائر
- ج- عمان
- د- سوريا

9- يشير السهم على الخريطة الى مضيق:



أ- هرمز

ب- جبل طارق

ج - باب المندب

د- قناة السويس

10- أي الهضاب الآتية تتوسط شبه الجزيرة العربية:

أ- نجد

ب- الحجرة

ج- الصمان

د- حضرموت

11- ترتفع درجة الحرارة صيفاً في الوطن العربي لتعاود أشعة الشمس على:

أ- مدار الجدي

ب- مدار السرطان

ج- خط غرينتش

د- خط الاستواء

13- أي الأنهار الآتية يجري في كل من مصر والسودان؟

أ- النيل

ب- جوبا

ج- دجلة

د- الفرات

14- وضح أهمية موقع الوطن العربي.

- أ - يتوسط قارات العالم القديم.
- ب- يشرف على بحار ومسطحات مائية هامة.
- ج -امتداده الكبير واتساع أراضيه أدى الى تنوع موارده الطبيعية.

15- عدد الجبال في الوطن العربي:

- أ - مدين ب - الحجاز ج- عسير د - اليمن
- هـ - أطلس و- البحر الأحمر د - دارفور ن - الأحجار

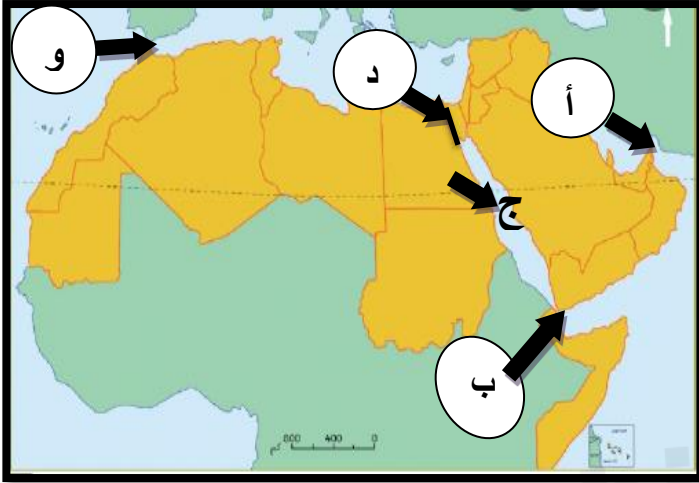
16- عدد الهضاب في الوطن العربي:

- أ - نجد ب - الصمان ج- الحماد د - الحجر
- هـ - حضرموت و- هضبة الصحراء الكبرى د - تبستي ن - الشطوط

17- عدد موارد المياه العذبة:

- أ - الأنهار.
- ب- الأمطار.
- ج - المياه الجوفية (الآبار- العيون).
- د- مياه البحر المحلاة.

الرؤية معلم ريادي لتنمية مستدامة
18- أكتب ما تشير اليه الحروف الآتية على خريطة الوطن العربي؟



أ - مضيق هرمز.

ب- مضيق باب المندب.

ج - البحر الأحمر.

د- قناة السويس.

و- مضيق جبل طارق



1- ظهرت حضارة فيلكا في دولة:

- أ- قطر
- ب- الإمارات
- ج- الكويت
- د- سلطنة عمان

2- اشتهرت حضارة مجان بمعدن:

- أ- الحديد
- ب- النحاس
- ج- الذهب
- د- الفضة

3- أقدم الحضارات في منطقة الخليج العربي:

- أ- قطر
- ب- دلمون
- ج- أم النار
- د- ثاج والجرعاء

4- يقع بالقرب من أم باب الموقع الأثري:

- أ- عسيلة
- ب- رأس بروق
- ج- برج برزان
- د- مدافن تلال الخور

5- من قلاع قطر التي تنتمي للعصر العباسي:

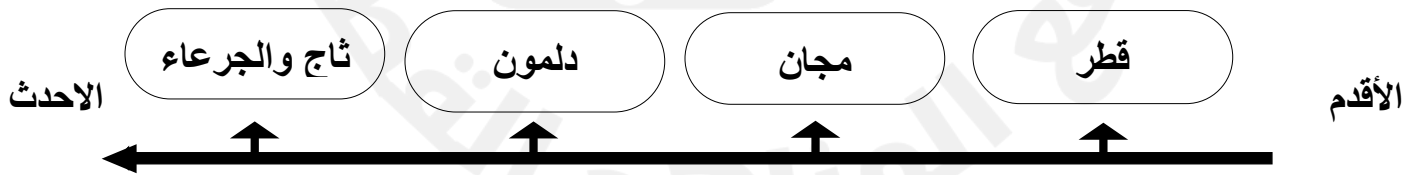
- أ- الزبارة
- ب- الوجبة
- ج- الشقب
- د- مروب

6- أطلق السومريون أرض الفردوس على حضارة:

- أ- مجان
- ب- دلمون
- ج- أم النار
- د- ثاج والجرعاء

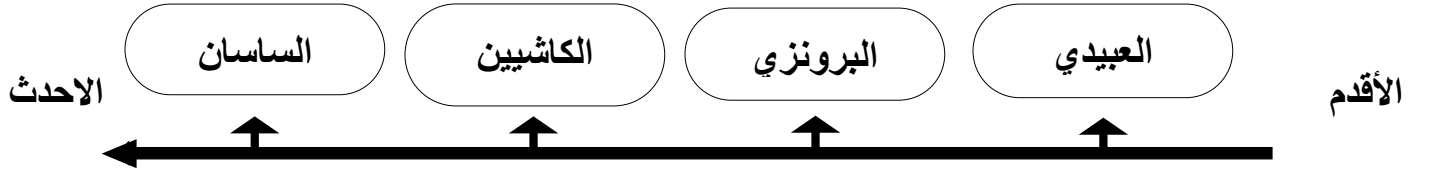
7- رتب حضارات الخليج العربي الآتية على الخط الزمني من الأقدم الى الأحدث

(ثاج والجرعاء- دلمون - مجان - قطر)



الرؤية معلم ريادي لتنمية مستدامة
7- رتب العصور الزمنية الآتية على الخط الزمني من الأقدم الى الأحدث

(البرونزي- العبيدي - الساسان - الكاشيين)



8- وضح عوامل قيام الحضارة في منطقة الخليج العربي.

1- الموقع الجغرافي

2- وفرة المياه العذبة

3- وفرة الموارد الطبيعية

9- أذكر أبرز المظاهر الحضارية في مجان.

1- الزراعة بسبب توافر المياه وخصوبة التربة.

2- الصناعة حيث استخرجوا وصهروا النحاس وصنعوا السفن.

3- التجارة حيث صدروا اللبان والبخور والنحاس.

10- عدد المواقع الأثرية القديمة في قطر.

لوسيل عسيلة

تلال الخور

مروب

رأس بروق

1- مجموعة متنوعة من الانشطة المميزة للمجتمع تشمل العادات والقيم والدين والاخلاق والسلوكيات السائدة في المجتمع يشير التعريف الى مفهوم:

النظام التكامل التعاون الثقافة

2- وضح دور الأفراد في الحفاظ على ثقافة المجتمع القطري.

1- التمسك بالقيم الإسلامية.

2- الالتزام بالعادات الحسنة.

3- التمسك بالعادات والتقاليد المجتمع.

4- احترام الاخرين.

4- عدد عناصر ثقافة المجتمع القطري.

1- الدين الإسلامي 2- اللغة العربية 3- القيم والعادات والتقاليد 4- التراث والفنون