


شكراً لتحميلك هذا الملف من موقع المناهج القطرية



تدريبات دعم وإثراء الفرقان نهاية الفصل

[موقع المناهج](#) ⇨ [المناهج القطرية](#) ⇨ [المستوى السادس](#) ⇨ [اجتماعيات](#) ⇨ [الفصل الأول](#) ⇨ [الملف](#)

تاريخ نشر الملف على موقع المناهج: 2023-11-27 19:15:33

التواصل الاجتماعي بحسب المستوى السادس



روابط مواد المستوى السادس على تلغرام

[الرياضيات](#)

[اللغة الانجليزية](#)

[اللغة العربية](#)

[التربية الاسلامية](#)

المزيد من الملفات بحسب المستوى السادس والمادة اجتماعيات في الفصل الأول

[جدول مواصفات اختبار نهاية الفصل](#)

1

[نماذج امتحانية منتصف الفصل](#)

2

[تحميل كتاب الطالب](#)

3

[تدريبات دعم وإثراء نهاية الفصل الأول 2022-2023م](#)

4

[كتاب المعلم الفصل الأول 2022-2023م](#)

5

الدراسات الاجتماعية


6
الصف

دعم وإثراء نهائية ف1

العام الدراسي

1445 هـ

23-24 م



يا رب انصر عبادك المؤمنين
وجنك الموحدين في كل مكان

القدس والأقصى ▼ حتماً ستعود

ملحوظة: هذه التدريبات لا تقني عن الكتاب المدرسي

الاسم / الصف/6-

التميز



أولاً : الجغرافيا

أولاً : السؤال الأول :

1- اختر الإجابة الصحيحة بوضع علامة x في المربع المقابل لها:-

أي الدول الآتية تعد من دول الهلال الخصيب :

1

مصر

الكويت

المغرب

فلسطين

أي الدول الآتية تعد من دول المغرب العربي :

2

مصر

السودان

موريتانيا

جزر القمر

"إجمالي عدد السكان مقسوماً على مساحة الدولة" يشير هذا التعريف إلى :

3

نمو السكان

الكثافة السكانية

التركيب السكاني

الركيب العمري للسكان

يحد الوطن العربي من جهة الشرق :

4

خليج عدن

الخليج العربي

المحيط الأطلنطي

الصحراء الكبرى

يربط بين البحر المتوسط والمحيط الأطلنطي مضيق :

5

هرمز

البسفور

باب المندب

جبل طارق

يربط بين الخليج العربي وبحر عمان مضيق:

6

هرمز

البسفور

باب المندب

جبل طارق

يربط مضيق باب المندب بين خليج عدن و :

7

بحر العرب

البحر الأحمر

البحر المتوسط

المحيط الأطلنطي

توجد محطة تحلية صحار في دولة :

8

قطر

عمان

الكويت

البحرين

أي الدول الآتية لا توجد ضمن دول منطقة الهلال الخصيب :

9

لبنان

سوريا

الكويت

فلسطين

من مناطق تركيز السكان في الوطن العربي :

10

الربع الخالي

الصحراء الكبرى

منطقة الهلال الخصيب

منطقة جبال البحر الأحمر

يتركز السكان في منطقة وادي النيل والقرن الإفريقي بسبب :

11

تركز المعادن

استخراج البترول

وجود الأماكن المقدسة

وفرة المياه وخصوبة التربة وقيام الزراعة

السؤال الثاني : أكمل الجمل الآتية بكلمات مناسبة:

- 1- يحد الوطن العربي من جهة الشمال و.....
- 2- يحد الوطن العربي من جهة الغرب
- 3- يحد الوطن العربي من جهة الشرق الخليج وبحر.....
- 4- ترتفع درجات الحرارة صيفاً على الوطن العربي بسبب
- 5 - يحد المحيط الأطلنطي الوطن العربي من جهة
- 6- العوامل الطبيعية المؤثرة في توزيع السكان و..... و.....
- 7- العوامل البشرية المؤثرة في توزيع السكان و..... و.....
- 10- أقل دول الوطن العربي سكاناً دولة وأكثرها سكاناً دولة
- 11- من الأهمية الاستراتيجية لموقع الوطن العربي توسطه
- 12- من هضاب الوطن العربي في الجانب الآسيوي هضبة و
- 13 - يحد الوطن العربي من جهة الجنوب المحيط
- 14- من محطات تحلية المياه محطة في الكويت ومحطة في عمان
- 15- يتركز السكان في وادي النيل والقرن الإفريقي بسبب وفرة وخصوبة

السؤال الثالث : (أ) أكمل الجمل الآتية بعبارات صحيحة :

(1) المضائق والممرات البحرية بالوطن العربي .

- 1- هرمز يربط بين و
- 2- باب المندب يربط بين و
- 3- جبل طارق يربط بين و
- 4- قناة السويس تربط بين و

(2) : من الأهمية الاستراتيجية لموقع الوطن العربي :

- 1- توسطه قارات العالم جعله
- 2- امتداده الكبير واتساع أراضيه أدى إلى
- 3- إشرافه على بحار ومحيطات هامة أدى إلى

السؤال الثالث : (ب) قارن بين مناخ الوطن العربي صيفاً وشتاءً حسب الجدول الآتي :

وجه المقارنة	مناخ الوطن العربي صيفاً	مناخ الوطن العربي شتاءً
درجة الحرارة
الأمطار

السؤال الرابع : ما النتائج المترتبة على ما يأتي :

1- التقدم الطبي وتقدم الرعاية الصحية وارتفاع مستوى المعيشة

.....

2- الامتداد الكبير للوطن العربي واتساع أراضيه

.....

3- اشراف الوطن العربي على بحار ومحيطات هامة ووجود ممرات استراتيجية

.....

4- تعامد الشمس على مدار السرطان صيفاً

.....

5- تعامد الشمس على مدار الجدي شتاء

.....

6- المساحة الكبيرة لدولة ليبيا

.....

7- صغر مساحة دولة البحرين

.....

8 – قلة موارد المياه العذبة وزيادة عدد السكان في دول الوطن العربي

.....

9 – اقتراب الجبال من سواحل البحر الأحمر

.....

10 – توسط الوطن العربي قارات العالم القديم

.....

السؤال الخامس : اكتب ما تدل عليه العبارات الآتية :

1- مضيق يربط بين خليج عدن والبحر الأحمر

.....

2- محيط يحد الوطن العربي من جهة الغرب

.....

3- أرض واسعة منبسطة بجوار سواحل البحار والمحيطات

.....

4- هضاب الوطن العربي بالجانب الآسيوي

.....

5- أكثر دول الوطن العربي سكاناً

.....

6- أقل دول الوطن العربي سكاناً

.....

7- محطة لتحلية المياه توجد في دولة الكويت

.....

8- دول العراق وسوريا والأردن ولبنان وفلسطين

.....

9- التقدم الطبي وتقدم الرعاية الصحية والاهتمام بصحة الأمهات والأطفال

.....

10- أسباب تركيز السكان في منطقة وادي النيل والقرن الإفريقي

.....

11- بحر يحد الوطن العربي من جهة الشرق

12- مقدار الزيادة في عدد السكان في منطقة ما خلال فترة زمنية محددة

13- الخصائص السكانية التي يمكن قياسها مثل العمر والنوع

14- موارد المياه والمناخ والتضاريس

15- الأنشطة الاقتصادية والأحداث السياسية والنقل والمواصلات

16- منطقة يتركز بها سكان الوطن العربي تضم دول ليبيا وتونس والجزائر والمغرب

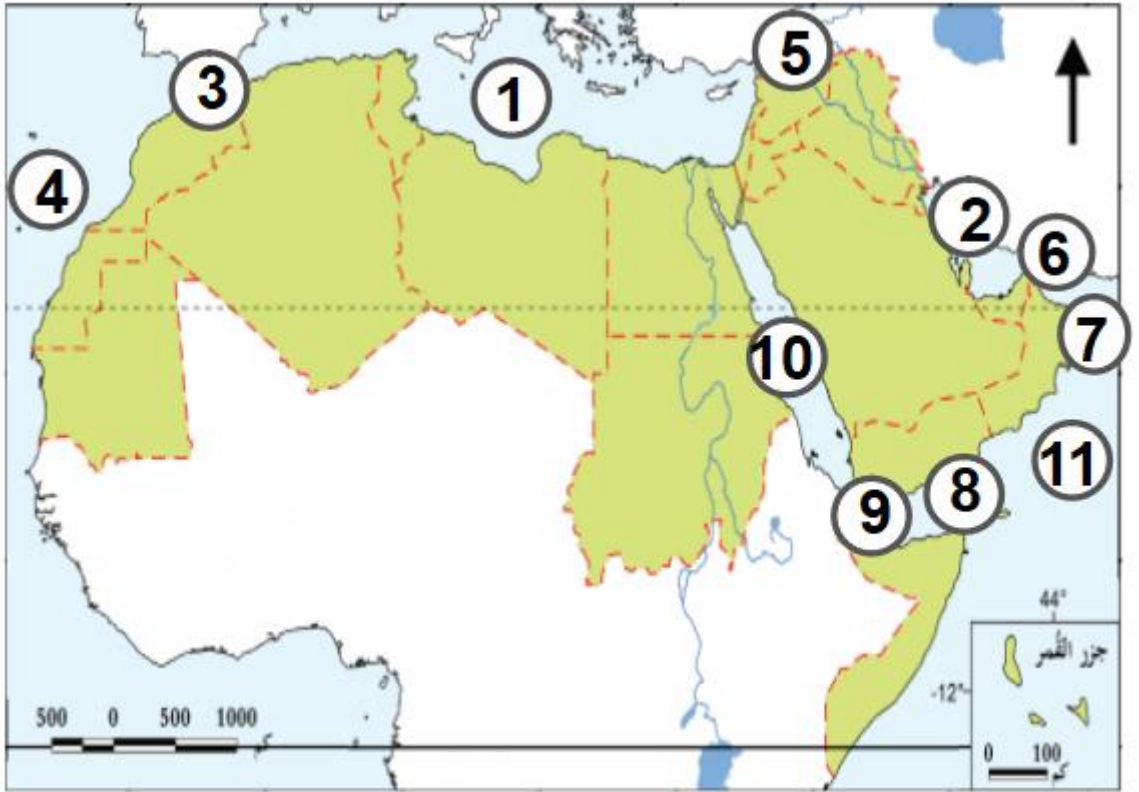
17- منطقة يتركز بها سكان الوطن العربي تضم دول العراق وسوريا ولبنان وفلسطين

18- منطقة يتركز بها سكان الوطن العربي تضم دول قطر والسعودية والبحرين وعمان

19- دولة سجلت أقل كثافة بين دول الوطن العربي

20- دولة تعد أعلى دول الوطن العربي من حيث الكثافة السكانية

السؤال السادس : أكتب ما تشير إليه الأرقام الموجودة على الخريطة التي أمامك .



- 1- البحر
- 2- الخليج
- 3- مضيق
- 4- المحيط
- 5- جبال
- 6- مضيق
- 7- بحر
- 8- خليج
- 9- مضيق
- 10- البحر
- 11- بحر

ثانياً التاريخ

السؤال الأول : أكمل الجمل الآتية بكلمات مناسبة:

- 1- حضارة مكانها حالياً سلطنة عمان
- 2- حضارة مكانها حالياً الكويت
- 3- حضارة مكانها حالياً البحرين
- 4- تعرف حضارة دلمون ب
- 5- من المواقع الأثرية القديمة في قطر و و
- 6- من المواقع الأثرية الحديثة في قطر و و
- 7- اتخذ الخليفة معاوية بن أبي سفيان مدينة عاصمة للدولة الأموية
- 8- عام الجماعة الذي اجتمعت فيه كلمة المسلمين هو عام هجرية
- 9- من نتائج الفتوحات الإسلامية اعتناق
- 10- من نتائج الفتوحات الإسلامية زيادة مساحة
- 11- من أسباب سقوط الدولة الأموية ضعف والصراع على
- 12- قام ببناء مسجد قبة الصخرة كما قام بتنقيط المصحف الشريف
- 13- قام الخليفة بالاهتمام بالعلم وقام بجمع الحديث الشريف
- 14- آخر خلفاء الدولة الأموية قتله العباسيون في
- 15- قام بفتح بلاد ما وراء النهر و قام بفتح بلاد المغرب

السؤال الثاني : قارن بين كلاً مما يأتي :

أعمال الخليفة عبدالملك بن مروان	أعمال الخليفة معاوية بن أبي سفيان
.....
.....
.....
.....
.....

مظاهر حضارة تاريخ قطر	مظاهر حضارة مجان
.....
.....
.....
.....

نتائج الفتوحات الإسلامية	أسباب سقوط الدولة الأموية
.....
.....
.....
.....
.....

أعمال الخليفة عمر بن عبدالعزيز	أعمال الخليفة الوليد بن عبدالمك
<p>.....</p> <p>.....</p> <p>.....</p> <p>.....</p> <p>.....</p>	<p>.....</p> <p>.....</p> <p>.....</p> <p>.....</p> <p>.....</p>

المواقع الأثرية الحديثة في قطر	المواقع الأثرية القديمة في قطر
<p>.....</p> <p>.....</p> <p>.....</p> <p>.....</p>	<p>.....</p> <p>.....</p> <p>.....</p> <p>.....</p>

فتوحات الدولة الأموية في الغرب	فتوحات الدولة الأموية في الشرق
<p>.....</p> <p>.....</p> <p>.....</p> <p>.....</p> <p>.....</p>	<p>.....</p> <p>.....</p>

السؤال الثالث : اكتب ما تدل عليه العبارات الآتية .

1- قام بفتح بلاد ما وراء النهر

.....

2- قام بفتح شمال إفريقيا

.....

3- قام بفتح جزر البحر المتوسط

.....

4- قام بفتح بلاد المغرب الأقصى

.....

5- انتشار اللغة العربية وزيادة الموارد المالية

.....

6- حضارة أطلق السومريون عليها لقب أرض الفردوس

.....

7- قام بمحاولة فتح فرنسا

.....

8- عام يعرف بعام الجماعة

.....

9- قام ببناء مسجد قبة الصخرة وسك العملة الإسلامية

.....

10- قائد قام بفتح بلاد السند عام 92 هـ

.....

السؤال الرابع : ضع علامة (✓) أو (X) أمام العبارات الآتية :

- 1- تمكن القائد محمد بن القاسم من فتح بلاد الأندلس ()
- 2- سمي العام 35 هجرية بعام الجماعة ()
- 3- من مظاهر حضارة تاريخ دولة قطر بداية الاستقرار في العصر الحجري الحديث ()
- 4- من مظاهر حضارة تاريخ دولة قطر صناعة الأواني الفخارية والأسلحة البدائية ()
- 5- من نتائج الفتوحات الإسلامية زيادة الموارد المالية وزيادة مساحة الدولة الإسلامية ()
- 6- اتخذ الأمويون مكة المكرمة عاصمة لدولتهم ()
- 7- تم فتح بلاد ما وراء النهر على يد موسى بن نصير ()
- 8- تم فتح شمال أفريقيا على يد عقبة بن نافع ()
- 9- قام قتيبة بن مسلم بفتح بلاد السند ()
- 10- من نتائج الفتوحات الإسلامية اعتناق عدد كبير من الناس للإسلام ()
- 11- من المواقع الأثرية القديمة في قطر قلعة الوجبة وقلعة الزبارة ()
- 12- من المظاهر الحضارية لتاريخ قطر استقرار الإنسان في العصر الحجري القديم ()

ثالثاً المواطنة

السؤال الأول : (أ) : قارن بين مظاهر المواطنة الفاعلة حسب الجدول الآتي :

مظاهر المواطنة الفاعلة على مستوى المدرسة	مظاهر المواطنة الفاعلة على مستوى الأسرة
.....
.....
.....
.....

السؤال الثاني : عرف المفاهيم الآتية :

1 - المواطنة الفاعلة :

.....

2 - الولاء :

.....

3 - الانتماء :

.....

السؤال الثالث : أجب عن الأسئلة الآتية :

1- **وضح دور الأفراد في الحفاظ على ثقافة المجتمع .**

.....

.....

.....

.....

2- **وضح أثر ثقافة المجتمع على الأفراد .**

.....

.....

3- **وضح مظاهر المواطنة الفاعلة على مستوى الوطن .**

.....

.....

.....

4- **ما مقومات المواطنة الفاعلة .**

.....

.....

.....

5- **ما صفات المواطن الصالح .**

.....

.....

.....