

شكراً لتحميلك هذا الملف من موقع المناهج القطرية



تدريبات اثرائية منتصف الفصل مجانية

[موقع المناهج](#) ← [المناهج القطرية](#) ← [المستوى السادس](#) ← [اجتماعيات](#) ← [الفصل الثاني](#) ← [الملف](#)

تاريخ نشر الملف على موقع المناهج: 2024-02-12 22:01:01

التواصل الاجتماعي بحسب المستوى السادس



روابط مواد المستوى السادس على تلغرام

[الرياضيات](#)

[اللغة الانجليزية](#)

[اللغة العربية](#)

[التربية الاسلامية](#)

المزيد من الملفات بحسب المستوى السادس والمادة اجتماعيات في الفصل الثاني

تدريبات اثرائية منتصف الفصل غير مجانية	1
تدريبات دعم واثراء الفرقان منتصف الفصل مع الاحابة النموذجية	2
اوراق عمل منتصف الفصل مدرسة الأندلس مع الإحابة النموذجية	3
اوراق عمل منتصف الفصل مدرسة الأندلس غير مجانية	4
الاختبار التحصيلي نهاية الفصل	5

تدريبات الوحدة الأولى " جغرافيا " سادس

أجب عن جميع الأسئلة الآتية:

1 " نشاط بشري يقوم به الإنسان لسد احتياجاته الغذائية " يشير هذا التعريف لمفهوم .

الزراعة

التعدين

التجارة

السياحة

2 - من العوامل الطبيعية لقيام الزراعة:

الأيدي العاملة

رأس المال

الأسواق

موارد المياه العذبة

3 - في أي المناطق ينتشر الرعي التجاري ؟

الجبال

الصحاري

المناطق الحارة

حشائش السافانا والاستبس

4 - الدولة الأولى في إنتاج الأبقار في العالم هي :

روسيا

الهند

البرازيل

الصين

تدريبات الوحدة الأولى " جغرافيا " سادس

5 - أي من مما يلي يعد من العوامل الطبيعية لقيام الصناعة ؟

أ الأيدي العاملة

ب رأس المال

ج السوق

د المواد الخام

6 - من أمثلة الصناعات الاستخراجية في العالم :

أ التعدين

ب الأسمنت

ج المنسوجات

د البتروكيماويات

7 - عملية الاهتمام بمجموعة متنقلة من الحيوانات في منطقة نباتية واسعة ، يشير هذا التعريف لمفهوم .

أ الرعي

ب الزراعة

ج التجارة

د الصناعة

8 - أي مما يأتي يعد من موارد المياه العذبة ؟

أ البحار

ب الأنهار

ج الخلجان

د المحيطات

تدريبات الوحدة الأولى " جغرافيا " سادس

أجب عن الأسئلة الآتية :

9

- بين أهمية الزراعة .
- 1- مصدر رئيس لغذاء الإنسان والحيوان
 - 2- توفر العديد من فرص العمل
 - 3- توفر المواد الخام اللازمة للصناعة
 - 4- مصدر دخل قومي للعديد من الدول

صنف المحاصيل الآتية بحسب الجدول الذي يليها:

10

(القمح - الأرز - القطن - التفاح - قصب السكر - الموز - الذرة - الخيار - الشاي - البن - الفلفل).

محاصيل الخضراوات والفاكهة	محاصيل صناعية	محاصيل الحبوب الغذائية
التفاح الموز الفلفل	القطن قصب السكر البن الشاي	القمح الأرز الذرة

صنف عوامل قيام الصناعة حسب الجدول

11

(مصادر الطاقة - الأيدي العاملة - وسائل النقل - المواد الخام - السوق - رأس المال)

العوامل البشرية	العوامل الطبيعية
الأيدي العاملة	مصادر الطاقة
وسائل النقل	المواد الخام
السوق	
رأس المال	

تدريبات الوحدة الأولى " جغرافيا " سادس

12- عدد المحاصيل الصناعية .

- أ- القطن
ب- قصب السكر
ج- الشاي
د- البن

13- وضح أهمية الزراعة .

- أ- 1- مصدر رئيس للغذاء للإنسان والحيوان.....
ب- 2 - تُوفّر العديد من فرص العمل للإنسان.....
ج- 3 - تُوفّر المواد الخام اللازمة للصناعة.....
د- 4 - مصدر دخل قومي للعديد من الدول.....

14- عدد التحديات التي تواجه الزراعة.

- أ- قلة المساحات الصالحة للزراعة بسبب الجفاف أو التصحر
ب- تناقص أعداد العاملين في الزراعة بسبب الهجرة

- 15- تنتشر الصناعات التحويلية في قارة آسيا و أوروبا
وتقل الصناعات التحويلية في قارة افريقيا و استراليا

16- عدد أهم الصناعات التحويلية في العالم .

- أ- صناعة المنسوجات
ب- صناعة الغذائية
ج- صناعة البتروكيماويات
د- صناعة الحديد

تدريبات الوحدة الأولى " جغرافيا " سادس

17- وضح أهمية الثروة الحيوانية .

أ- تُساهم بتصيب كبير في غذاء الإنسان؛ كاللحوم ومنتجات الألبان.

ب- تُعدُّ مصدرًا مهمًا للدخل القومي .

ج- تدخل كمواد خام في العديد من الصناعات .

18- عدد أهم المشكلات التي تواجه حرفة صيد الأسماك .

أ- مخالفة القوانين

ب- التلوث البحري

19- اذكر أهم الصناعات التي تقوم على استخدام المواد الخام الحيوانية .

أ- صناعة الألبان

ب- صناعة الجلود

خ- صناعة الصوف

د- صناعة التعليب والحفظ

20- عدد أهمية الثروة السمكية .

أ- مصدر غذاء للإنسان

ب- تعوض نقص اللحوم الحمراء

د- تقام عليها الصناعات

د- تستخدم كدقيق للأبقار وسماد

تدريبات الوحدة الثانية " تاريخ " سادس

أجب عن جميع الأسئلة الآتية:

بنى عبد الرحمن الداخل المسجد الجامع في مدينة:

قرطبة

غرناطة

الزهراء

إشبيلية

1

بُنيت مكتبة قرطبة في عهد:

عبد الرحمن الداخل

هشام بن عبد الرحمن

عبد الرحمن الناصر

المستنصر بن عبد الرحمن

2

سقطت الخلافة الأموية في الأندلس عام:

222هـ

322هـ

422هـ

522هـ

3

تم فتح الأندلس في عصر:

الخلافة الراشدة

الأمويين

العباسيين

العثمانيين

4

تدريبات الوحدة الثانية " تاريخ " سادس

بلغت للدولة الأموية في الأندلس عصرها الذهبي في عهد:

5

عبد الرحمن الداخل

أ

عبد الرحمن الناصر



الحكم المستنصر

ج

المنصور بن عامر

د

بلغ عدد دويلات ملوك الطوائف حوالي:

6

20 دويلة



30 دويلة

ب

40 دويلة

ج

50 دويلة

د

كانت آخر معاقل المسلمين في الأندلس مملكة:

7

قرطبة

أ

غرناطة



طليطلة

ج

إشبيلية

د

انتهى الوجود الإسلامي في الأندلس عام:

8

222هـ

أ

422هـ

ب

520هـ

ج

897هـ



تدريبات الوحدة الثانية (تاريخ) سادس

القائد المسلم الذي فتح الأندلس هو:

9

عقبة بن نافع

أ

طارق بن زياد



قتيبة بن مسلم

ج

محمد بن قاسم

د

انتصر المسلمون على القوط في معركة:

10

مؤتة

أ

نهاوند

ب

اليرموك

ج

وادي لكة



استمرت فترة حكم المسلمين للأندلس:

11

600 سنة

أ

700 سنة

ب

800 سنة



900 سنة

د

من اشهر المعارك التي قادها عبدالرحمن الغافقي معركة :

12

العقاب

أ

الزلاقة

ب

وادي لكة

ج

بلاط الشهداء



تدريبات الوحدة الثانية (تاريخ) سادس

13- ما العوامل التي أدت إلى ضعف الدولة الأموية في الأندلس وسقوطها:

- 1- الانقسام والنزاع بين المسلمين في الأندلس
- 2- الموقع وطبيعة الأندلس الجغرافية
- 3- قيام الثورات الداخلية
- 4- قوة واتحاد الممالك الإسبانية

14- اذكر أعمال عبد الرحمن بن معاوية (الداخل)

أ- قضى على الثورات ووحد الأندلس

ب- أسس جيشًا دائمًا

ج- اهتمَّ بالعمران والفنون

15- عدّد أعمال عبد الرحمن الناصر.

أ- اقضى على الثورات ووحد الأندلس

ب- اهتم بالجيش والاسطول

ج- اهتمَّ بالحركة العلمية

16- عدّد أهم دويلات ملوك الطوائف.

بنو عامر

بنو القاسم

بنو عباد

بنو الأفتس

بنو ذي النون

بنو هود


17- رتب حكام الدولة الأموية في الأندلس من الاقدم للأحدث:

عبد الرحمن بن معاوية (الداخل) - الحكم المستنصر - عبدالرحمن بن محمد (الناصر)

عبدالرحمن بن محمد

الحكم المستنصر.

عبد الرحمن بن معاوية.



تدريبات الوحدة الثانية (تاريخ) سادس

18- ما النتائج المترتبة على معركة وادي لكة ؟

أ..... مهدت الطريق أمام طارق بن زياد للسيطرة على نصف مساحة بلاد الأندلس

ب..... انتهاء عصر الظلم والجهل في الأندلس

19- ما نتائج انقسام الأندلس إلى دويلات الطوائف؟

سقوط الدولة الأموية في الأندلس

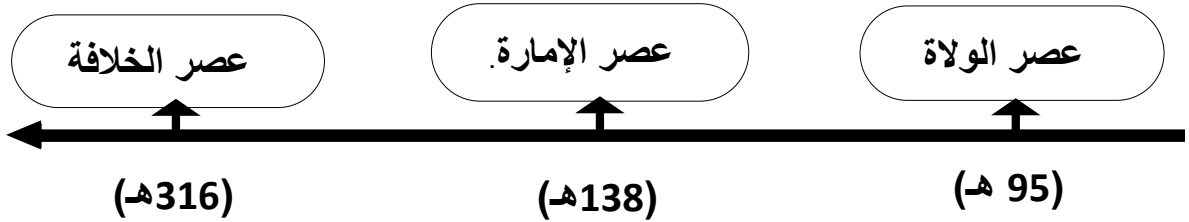
20- ما أسباب قيام الثورات الداخلية في بلاد الأندلس؟

أ..... انتشار الظلم وعدم إقامة العدل

ب..... انتشار الفساد والترف بين الحكام

21- رتب عصور التاريخ الإسلامي في الأندلس على الخط الزمني من الأقدم إلى الأحدث:

(عصر الإمارة - عصر الولاة - عصر الخلافة)



تدريبات الوحدة الثالثة - مواطنة

أجب عن جميع الأسئلة الآتية:

1 - يعد نظام الحكم في دولة قطر نظاماً :

أ - ملكياً

ب - رئاسياً

ج - أميرياً

د - جمهورياً

2 - يطلق على علم دولة قطر اسم :

أ - الأرجواني

ب - الأبيض

ج - الأحمر

د - الأدم

3 - يتولى السلطة التشريعية في دولة قطر مجلس :

أ - الوزراء

ب - الشورى

ج - الأمة

د - الوطني

4 - مجلس الوزراء في دولة قطر يمثل السلطة :

أ - القضائية

ب - التشريعية

ج - التنفيذية

د - سلطة خاصة

تدريبات الوحدة الثالثة - مواطنة

5 - تأسس المجلس الأعلى للقضاء عام :

1999م

2000م

2001م

2002م

6 - من وظائف الدستور القطري الدائم:

تنظيم عمل البلديات.

تنظيم حركة المرور.

تنظيم السلطات بالدولة.

المحافظة على نظافة البيئة

7 - تم اعتماد العلم القطري الحالي عام :

1961م

1971م

1981م

1991م

8 - يرمز اللون العنابي إلى بيرق الشيخ :

محمد بن ثاني

جاسم بن محمد بن ثاني

علي بن عبدالله آل ثاني

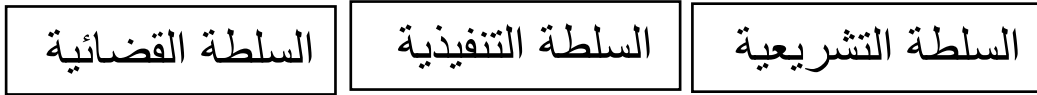
أحمد بن علي آل ثاني

تدريبات الوحدة الثالثة - مواطنة

9 - اذكر أهم اختصاصات الأمير في دولة قطر ؟

- 1 رسم السياسة العامة للدولة.
- 2 المصادقة على القوانين وإصدارها.
- 3 إنشاء وتنظيم الوزارات والأجهزة الحكومية.
- 4 عقد الاتفاقيات والمعاهدات بمرسوم أميري.


10- عدد السلطات الدستورية في دولة قطر .



11- نظام الحكم في قطر.

- أ- قطر دولة : .. عربية
- ب- دينها : الإسلامي
- ج- نظام الحكم : أميري وراثي

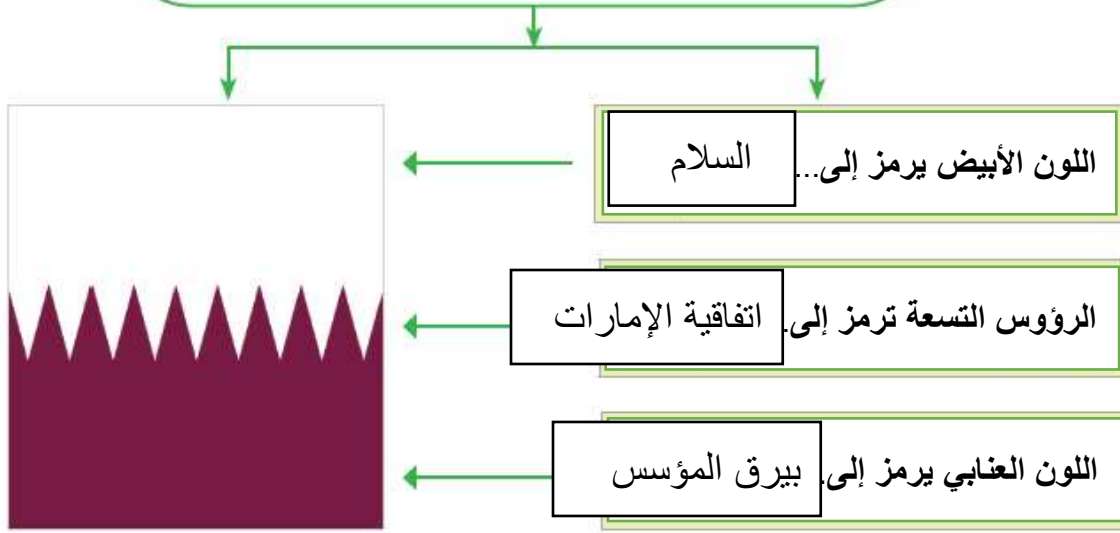
12- اذكر مكونات شعار دولة قطر .



تدريبات الوحدة الثالثة - مواطنة

مدلول العلم القطري

-13



14- ما أهم اختصاصات السلطة التشريعية؟

أ- تشريع القوانين

ب- إقرار الموازنة العامة للدولة

ج- الرقابة على أعمال السلطة التنفيذية

15- اذكر أهم مجهودات قيادة دولة قطر لبناء الدولة وتثبيت أركانها .

أ- الاستثمار في الانسان القطري

ب- القيام بالمشروعات التي تهدف إلى تطوير الدولة

ج- بناء علاقات مع الدول العالم

انتهت الأسئلة