

تم تحميل هذا الملف من موقع المناهج القطرية



أوراق عمل مسيعيد قبل اختبار منتصف الفصل مع الإجابة النموذجية

موقع المناهج ← المناهج القطرية ← المستوى السادس ← اجتماعيات ← الفصل الأول ← أوراق عمل ← الملف

تاريخ إضافة الملف على موقع المناهج: 2024-10-31 03:17:14

ملفات اكتب للمعلم اكتب للطالب | اختبارات الكترونية | اختبارات | حلول | عروض بوربوينت | أوراق عمل
منهج انجليزي | ملخصات وتقارير | مذكرات وبنوك | الامتحان النهائي للمدرس

المزيد من مادة
اجتماعيات:

التواصل الاجتماعي بحسب المستوى السادس



صفحة المناهج
القطرية على
فيسبوك

الرياضيات

اللغة الانجليزية

اللغة العربية

التربية الاسلامية

المواد على تلغرام

المزيد من الملفات بحسب المستوى السادس والمادة اجتماعيات في الفصل الأول

أوراق عمل أم القرى منتصف الفصل مع الإجابة النموذجية

1

أوراق عمل أم القرى منتصف الفصل غير محلولة

2

أوراق عمل الأندلس الوحدة الثانية والثالثة مع الإجابة النموذجية

3

أوراق عمل الأندلس الوحدة الثانية والثالثة غير مجابة

4


أوراق عمل جابر بن حيان منتصف الفصل غير محلولة

5



العام الدراسي
2025-2024

الصف
السادس
6



مادة الدراسات الاجتماعية

تدريبات علاجية – واجبات – محلولة

منهاج منتصف الفصل الدراسي الأول
الوحدة الأولى + الوحدة الثانية + الوحدة الثالثة

اسم الطالب:

الصف: السادس

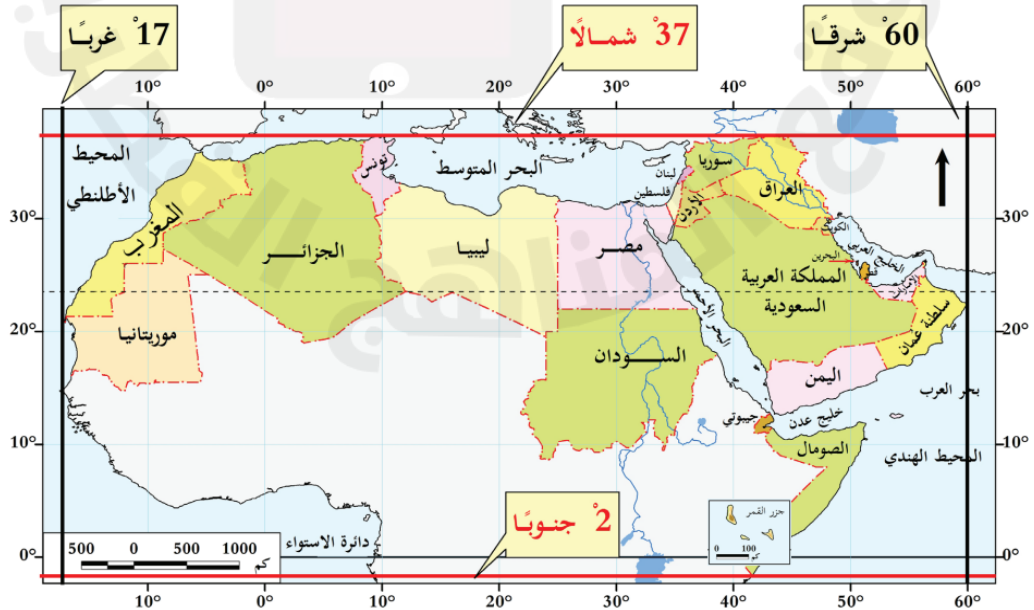
ملحوظة هامة: هذه الأسئلة إثرائية ولا تغني عن الكتاب المدرسي وهو
المصدر الرئيس للتعلم



الوحدة الأولى:

الأرض من

حولي





التاريخ	الدرس	الأسبوع
01 - 05/09/2024م	الوطن العربي " الموقع والخصائص الطبيعية "	1

اختر الإجابة الصحيحة لكل من الأسئلة من 1 إلى 8 وذلك بوضع علامة x داخل المربع المجاور للإجابة الصحيحة.

تعليمات

1- ما عدد خطوط الطول التي يمتد خلالها الوطن العربي؟

55

66

77

88

2- الدولة العربية التي يعبرها خط الطول جرينتش:

مصر

الجزائر

السودان

المغرب

3- ما عدد دول الوطن العربي؟

20

21

22

23

4- تبلغ مساحة الوطن العربي بالمليون كيلومتر مربع نحو:

12.3

13.3

14.3

15.3

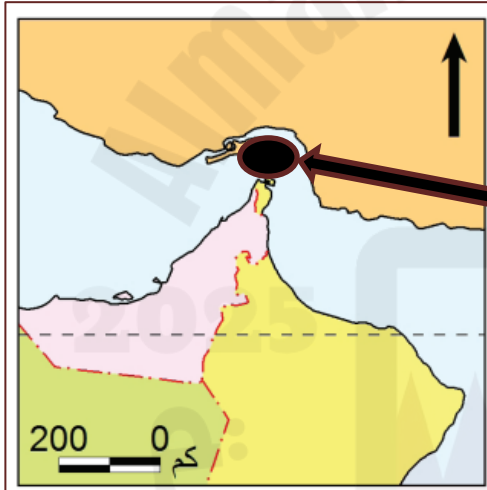


5- ما أكبر الدول العربية من حيث المساحة؟

- ليبيا
السودان
الجزائر
السعودية

6- أصغر الدول العربية من حيث المساحة:

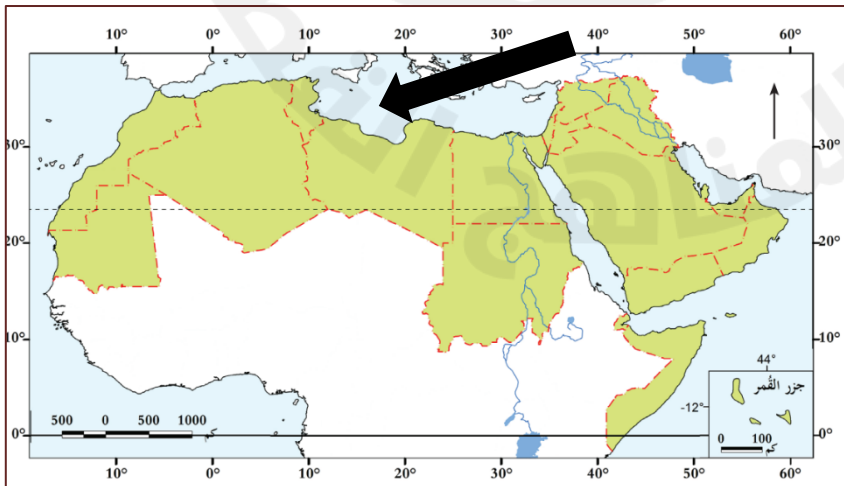
- لبنان
جيبوتي
البحرين
جزر القمر



7- المضيق المُشار إليه بالسهم على الخريطة المجاورة هو:

- بيرنج
هرمز
باب المندب
جبل طارق

8- البحر الذي يُمثل الحدود الشمالية للوطن العربي والمُشار إليه بالسهم على الخريطة المجاورة:



- العرب
الأحمر
الأسود
المتوسط



تعليمات عند الإجابة على الأسئلة من 09 إلى 12 ، اكتب إجابتك في الفراغ المخصص للإجابة:

	<p>9 أذكر الممرات المائية الهامة التي يتحكم بها الوطن العربي.</p>	<p>الإجابة: 1- مضيق هرمز 2- مضيق باب المندب 3- قناة السويس 4- مضيق جبل طارق</p>
	<p>10 وضح الأهمية الاستراتيجية لموقع الوطن العربي.</p>	<p>الإجابة: 1- يقع وسط قارات العالم جعله مهذاً للحضارات القديمة 2- اتساع أراضيه أدى لتنوع موارده الاقتصادية 3- إشرافه على بحار ومحيطات وممرات أدى لتحكمه في طرق التجارة العالمية</p>
	<p>11 أمامك خريطة صماء للوطن العربي؛ حدد عليها الظواهر التضاريسية الآتية بوضع الرقم في مكانه الصحيح على الخريطة:</p>	<p>1- جبال عُمان. 2- سهول تهامة. 3- جبال البحر الأحمر. 4- سهول دجلة والفرات. 5- سهول الخليج العربي. 6- هضبة حضرموت.</p>



	اذكر الحدود الشرقية للوطن العربي وفقاً للأرقام الموضحة على الخريطة أدناه.	12
	<ol style="list-style-type: none">1- جبال كردستان2- جبال زاغروس3- الخليج العربي4- بحر عُمان	



التاريخ	الدرس	الأسبوع
08 - 12 / 09 / 2024م	الوطن العربي " الموقع والخصائص الطبيعية "	2

اختر الإجابة الصحيحة لكل من الأسئلة من 1 إلى 9 وذلك بوضع علامة x داخل المربع المجاور للإجابة الصحيحة.

تعليمات

1- أي الجبال الآتية تمتد على الساحل الشرقي للبحر الأحمر؟

عُمان

لبنان

أطلس

الحجاز

2- ما السلسلة الجبلية الممتدة في بلاد المغرب العربي؟

أطلس

الأحجار

العوينات

البحر الأحمر

3- يُعد الجبل الأخضر أشهر جبال:

العراق

مصر

اليمن

عُمان

4- الهضبة الممتدة في وسط شبه الجزيرة العربية:

نجد

الشطوط

حضرموت

الجلف الكبير



5- توجد محطة تحلية الأحمدى في دولة:

- قطر
 الكويت
 السعودية
 سلطنة عُمان

6- أي محطات التحلية الآتية توجد في سلطنة عُمان؟

- صُحار
 الأحمدى
 رأس لفان
 رأس أبو فنتاس

7- تغطي الثلوج جبال لبنان في فصل:

- الصيف
 الشتاء
 الربيع
 الخريف

8- ما الهضبة التي تمتد في جنوب مصر؟

- نجد
 الشطوط
 حضرموت
 الجلف الكبير

9- السهول الفيضية الممتدة في مصر والسودان كونها نهر:

- النيل
 دجلة
 الفرات
 شبيلي



تعليمات

عند الإجابة على الأسئلة من 10 إلى 17، اكتب إجابتك في الفراغ المخصص للإجابة:

10		قارن بين أشهر الجبال في الجناح الآسيوي والجناح الإفريقي:
الجبال في الجناح الآسيوي	الجبال في الجناح الإفريقي	
الحجاز – عسير – اليمن – عُمان – زاجروس – كردستان – لبنان	البحر الأحمر – أطلس – الجبل الأخضر – العوينات – الأحجار – دارفور	
11		عدد أهم الهضاب في الوطن العربي.
الإجابة:		
1- نجد	4- الجلف الكبير	
2- حضرموت	5- الصحراء الإفريقية الكبرى	
3- بادية الشام	6- الشطوط	
12		قارن بين السهول الفيضية والساحلية في الوطن العربي من حيث المفهوم وأمثلة عليها في الجدول أدناه.
الإجابة:		
وجه المقارنة	السهول الفيضية	السهول الساحلية
المفهوم	أراضٍ واسعة منبسطة كونتها الأنهار	أراضٍ واسعة منبسطة بجوار سواحل البحار والمحيطات
أمثلة	1- نهر النيل 2- دجلة والفرات 3- جوبا وشبيلي	1- البحر المتوسط 2- تهامة 3- الخليج العربي

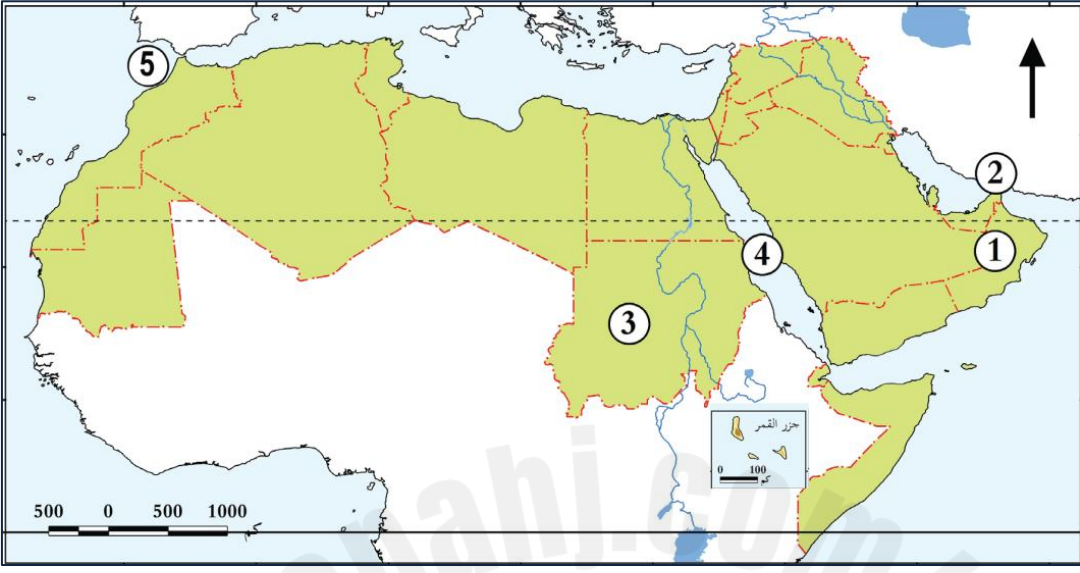


13		قارن بين الأحوال المناخية في الوطن العربي صيفاً وشتاءً من حيث الحرارة والأمطار:
الإجابة:		
وجه المقارنة	الصيف	الشتاء
الحرارة	ارتفاع الحرارة	انخفاض الحرارة
الأمطار	تسقط صيفاً على السودان واليمن وموريتانيا، وعلى سفوح الجبال	تسقط على بلاد المغرب العربي وبلاد الشام
14		عدد موارد المياه في الوطن العربي.
الإجابة:		
1- الأمطار		
2- مياه الأنهار		
3- المياه الجوفية (آبار وعيون)		
4- مياه البحر المحلاة		
15		بم تفسر اتجاه دول الوطن العربي إلى تحلية مياه البحر.
الإجابة:		
1- قلة المياه العذبة		
2- زيادة عدد السكان		
3- وفرة مصادر الطاقة		



	فسر كل مما يأتي:	16
<p>أ- تنوع مظاهر السطح في الوطن العربي. الإجابة: - بسبب اتساع مساحته وامتداده الكبير.</p> <p>ب - ضيق سهول تهامة " البحر الأحمر " في السعودية واليمن. الإجابة: - بسبب اقتراب الجبال من ساحل البحر.</p> <p>ج - ارتفاع درجة الحرارة في وسط وشمال الوطن العربي صيفاً. الإجابة: - لتعامد الشمس على مدار السرطان.</p> <p>د- انخفاض درجة الحرارة في الوطن العربي شتاءً. الإجابة: - لتعامد الشمس على مدار الجدي.</p> <p>هـ - سقوط الأمطار الصيفية على السودان وموريتانيا واليمن. الإجابة: - لهبوب الرياح الموسمية الجنوبية الغربية الممطرة.</p> <p>و- سقوط الأمطار شتاءً على بلاد المغرب العربي وبلاد الشام. الإجابة: - لهبوب الرياح العكسية الغربية الممطرة.</p>		



	أمامك خريطة صماء للوطن العربي؛ أكمل ما تشير إليه الأرقام الموضحة عليها.	17
	<p>1- سلطنة عُمان</p> <p>2- مضيق هرمز</p> <p>3- جمهورية السودان</p> <p>4- البحر الأحمر</p> <p>5- مضيق جبل طارق</p>	



الوحدة الثانية: الحضارات القديمة في منطقة الخليج العربي





التاريخ	الدرس	الأسبوع
15 - 19 / 09 / 2024م	حضارات منطقة الخليج العربي	3

اختر الإجابة الصحيحة لكل من الأسئلة من 1 إلى 4 وذلك بوضع علامة x داخل المربع المجاور للإجابة الصحيحة.

تعليمات

1- ما أقدم حضارات منطقة الخليج العربي؟

- قطر
 مجان
 أم النار
 دلمون

2- نشأت حضارة (مجان) في المنطقة التي تشغلها حالياً دولة:

- البحرين
 الكويت
 الإمارات
 سلطنة عُمان

3- أطلق السومريون اسم (أرض الفردوس) على حضارة:

- مجان
 دلمون
 أم النار
 الجراء

4- أطلق اليونانيون اسم (إيكاروس) على حضارة:

- مجان
 فيلكا
 أم النار
 دلمون



تعليمات

عند الإجابة على الأسئلة من 05 إلى 07، اكتب إجابتك في الفراغ المخصص للإجابة:

5	وضح عوامل قيام الحضارات في منطقة الخليج العربي.
الإجابة: 1- أهمية الموقع الجغرافي (سهولة الاتصال وقيام التجارة) 2- وفرة المياه العذبة (قيام الزراعة والرعي) 3- وفرة الموارد الطبيعية (قيام التبادل التجاري)	
6	ما الموارد الطبيعية التي أسهمت في ازدهار حضارات الخليج العربي قديماً.
الإجابة: 1- اللؤلؤ الطبيعي 2- النحاس 3- الأحجار 4- الأسماك 5- البخور 6- التوابل	
7	رتب حضارات الخليج العربي الآتية من الأقدم إلى الأحدث على الخط الزمني التالي. (أم النار – مجان – فيلكا – قطر)
<p>قطر 5000 ق م مجان 3000 ق م أم النار 2600 ق م فيلكا 2000 ق م</p> <p>الأحدث ← → الأقدم</p>	



التاريخ	الدرس	الأسبوع
22 - 26 / 09 / 2024م	حضارات منطقة الخليج العربي - المواقع الأثرية في قطر	4

تعليمات
اختر الإجابة الصحيحة لكل من الأسئلة من 1 إلى 8 وذلك بوضع علامة x داخل المربع المجاور للإجابة الصحيحة.

1- ما المعدن الذي استخرجه أهل مجان قديماً وقاموا بصهره؟

- الحديد
 الذهب
 النحاس
 الألمونيوم

2- ما أهم المواقع الأثرية في حضارة فيلكا؟

- البتراء
 مروب
 عسيلة
 تل سعيد

3- أقدم العصور التاريخية التي مرت بتاريخ دولة قطر:

- العبيدي
 الكاشيين
 البرونزي
 الساسانيين

4- الموقع الأثري الذي يقع بالقرب من أم باب في دولة قطر:

- عسيلة
 رأس بروق
 برج برزان
 مدافن تلال الخور



5- يقع على الساحل الشرقي لدولة قطر الموقع الأثري المعروف بـ:

مروب

لوسيل

عسيلة

رأس بروق

6- أي المواقع الأثرية الآتية تُصنف ضمن المواقع الأثرية الحديثة بدولة قطر؟

لوسيل

مروب

عسيلة

الزبارة

7- ما القلعة القطرية التي تنتمي إلى العصر العباسي؟

مروب

الشقب

الوجبة

الزبارة

8- اختر الترتيب الصحيح للعصور التاريخية التي مرت بها دولة قطر من الأقدم إلى الأحدث؟

الكاشيين – البرونزي – العبيدي – الساسانيين

العبيدي – البرونزي – الكاشيين – الساسانيين

البرونزي – العبيدي – الساسانيين – الكاشيين

الساسانيين – الكاشيين – البرونزي – العبيدي



تعليمات

عند الإجابة على الأسئلة من 09 إلى 13 ، اكتب إجابتك في الفراغ المخصص للإجابة:

9	بم تفسر أهمية الموقع الجغرافي لحضارات منطقة الخليج العربي قديماً.									
الإجابة:										
1- ساهم الموقع المتوسط في سهولة الاتصال مع الحضارات الأخرى										
2- أدى طول السواحل وكثرة التعاريج لقيام الموانئ والتجارة										
10	قارن بين حضارة (مجان) و (فيلكا) من حيث الموقع ومظاهر الحضارة:									
الإجابة:										
	<table border="1"> <thead> <tr> <th>وجه المقارنة</th> <th>حضارة مجان</th> <th>حضارة فيلكا</th> </tr> </thead> <tbody> <tr> <td>الموقع</td> <td>سلطنة عُمان</td> <td>الكويت</td> </tr> <tr> <td>مظاهر الحضارة</td> <td>1- اشتمل أهلها بالزراعة لخصوبة التربة ووفرة المياه 2- استخرجوا وصهروا النحاس وصنعوا السفن والأواني 3- تميزت بنشاط تجاري لموقعها الجغرافي</td> <td>1- ازدهار الزراعة 2- لها دور هام في التجارة لموقعها بين بلاد الرافدين ودول الخليج</td> </tr> </tbody> </table>	وجه المقارنة	حضارة مجان	حضارة فيلكا	الموقع	سلطنة عُمان	الكويت	مظاهر الحضارة	1- اشتمل أهلها بالزراعة لخصوبة التربة ووفرة المياه 2- استخرجوا وصهروا النحاس وصنعوا السفن والأواني 3- تميزت بنشاط تجاري لموقعها الجغرافي	1- ازدهار الزراعة 2- لها دور هام في التجارة لموقعها بين بلاد الرافدين ودول الخليج
وجه المقارنة	حضارة مجان	حضارة فيلكا								
الموقع	سلطنة عُمان	الكويت								
مظاهر الحضارة	1- اشتمل أهلها بالزراعة لخصوبة التربة ووفرة المياه 2- استخرجوا وصهروا النحاس وصنعوا السفن والأواني 3- تميزت بنشاط تجاري لموقعها الجغرافي	1- ازدهار الزراعة 2- لها دور هام في التجارة لموقعها بين بلاد الرافدين ودول الخليج								
11	وضح المظاهر الحضارية لتاريخ دولة قطر في العصور القديمة.									
الإجابة:										
1- برعوا في الغوص على اللؤلؤ وصيد الأسماك										
2- صناعة الأواني الفخارية والأسلحة										
3- اشتغلوا في التجارة مع المناطق المجاورة										
4- استقرار الانسان على الساحل القطري										



		قارن بين موقع (مدافن تلال الخور)، و(لوسيل) من حيث الموقع وأهم الآثار:	12
الإجابة:			
	وجه المقارنة	مدافن تلال الخور	موقع لوسيل
	الموقع	شمال الخور	الساحل الشرقي لقطر
	أهم الآثار	مدفن به عظام بشرية	النصال ورؤوس السهام
		صنف المواقع الأثرية الآتية في دولة قطر في الجدول أدناه:	13
(قلعة الزبارة - موقع عسيلة - برجاً برزان - مدافن تلال الخور - قلعة الوجبة - موقع رأس بروق - قلعة مروب - قلعة الكوت)			
الإجابة:			
	المواقع الأثرية القديمة	المواقع الأثرية الحديثة	
	موقع عسيلة - مدافن تلال الخور - موقع رأس بروق - قلعة مروب - موقع لوسيل	قلعة الزبارة - برجاً برزان - قلعة الوجبة - قلعة الكوت	



الوحدة الثالثة: الثقافة والهوية





التاريخ	الدرس	الأسبوع
29 - 03/09 - 10 / 2024م	ثقافة المجتمع القطري	5

اختر الإجابة الصحيحة لكل من الأسئلة من 1 إلى 3 وذلك بوضع علامة x داخل المربع المجاور للإجابة الصحيحة.

تعليمات

1- (ما توارثه المجتمع عن الأسلاف من مظاهر مادية ومعنوية) يسمى:

الآثار

التراث

الفنون

العادات

2- (مجموعة متنوعة من الأنشطة المميزة للمجتمع تشتمل على العادات والقيم والدين والسلوكيات السائدة في المجتمع)

؛ يشير التعريف السابق لمفهوم:

الآثار

التراث

الثقافة

المواطنة

3- أحد عناصر الثقافة الذي يُعد نتاجًا لعملية التواصل بين جميع أهل قطر بمختلف ثقافتهم:

التراث

الفنون

اللغة العربية

القيم والعادات



تعليمات

عند الإجابة على الأسئلة من 04 إلى 06، اكتب إجابتك في الفراغ المخصص للإجابة:

4	عدد عناصر ثقافة المجتمع القطري.
الإجابة:	
1- الدين الإسلامي	
2- اللغة العربية	
3- القيم والعادات والتقاليد	
4- التراث والفنون	
5	وضح أثر ثقافة المجتمع على الأفراد.
الإجابة:	
1- تحدد سلوكيات الأفراد في المواقف مثل الأعراس والزيارات	
2- تحدد نمط الحياة اليومية مثل السكن واللبس	
6	اذكر دور الأفراد في الحفاظ على ثقافة المجتمع.
الإجابة:	
1- التمسك بقيم الدين الإسلامي	
2- الالتزام بالعادات الحسنة	
3- احترام الآخرين والانفتاح على الثقافات الأخرى	
4- التمسك بعادات وتقاليد المجتمع	