

تم تحميل هذا الملف من موقع المناهج القطرية



أوراق عمل جابر بن حيان منتصف الفصل غير محلولة

موقع المناهج ← المناهج القطرية ← المستوى السادس ← اجتماعيات ← الفصل الأول ← أوراق عمل ← الملف

تاريخ إضافة الملف على موقع المناهج: 2024-10-31 03:10:35

ملفات اكتب للمعلم اكتب للطالب | اختبارات الكترونية | اختبارات | حلول | عروض بوربوينت | أوراق عمل
منهج انجليزي | ملخصات وتقارير | مذكرات وبنوك | الامتحان النهائي للمدرس

المزيد من مادة
اجتماعيات:

التواصل الاجتماعي بحسب المستوى السادس



صفحة المناهج
القطرية على
فيسبوك

الرياضيات

اللغة الانجليزية

اللغة العربية

التربية الاسلامية

المواد على تلغرام

المزيد من الملفات بحسب المستوى السادس والمادة اجتماعيات في الفصل الأول

أوراق عمل الأندلس الوحدة الأولى مع الإجابة النموذجية

1

أوراق عمل جابر بن حيان منتصف الفصل مع الإجابة النموذجية

2

أوراق عمل الأندلس الوحدة الأولى غير محلولة

3

أوراق عمل إثرائية قبل اختبار منتصف الفصل غير محلولة

4

أوراق عمل مسيعة قبل اختبار منتصف الفصل غير محلولة

5



اسم الطالب / الصف / السادس

تدريبات إثرائية

في مادة الدراسات الاجتماعية

الصف السادس

العام الأكاديمي 2024/2025 م

منتصف الفصل الدراسي الأول



هذه التدريبات لا تغني عن الكتاب المدرسي

1- عدد خطوط الطول التي يمتد عبرها الوطن العربي:

أ- 60

ب- 65

ج- 70

د- 77

2- الدولة العربية التي يعبرها خط الطول جرينتش:

أ- الكويت

ب- موريتانيا

ج- الجزائر

د- السودان

3- يمتد الوطن العربي بين قارتي آسيا و:

أ- أمريكا

ب- أوروبا

ج- إفريقيا

د- استراليا

4- أي المضائق التالية تربط بين البحر الأبيض المتوسط والمحيط الأطلسي:

أ- هرمز

ب- باب المندب

ج- قناة السويس

د- جبل طارق

5- يحد الوطن العربي من جهة الشمال جبال:

- أ- زاجروس
- ب- كردستان
- ج- طوروس
- د- الأطلس

6- تبلغ مساحة الوطن العربي:

- أ- 11.3 مليون كم
- ب- 12.3 مليون كم
- ج- 13.3 مليون كم
- د- 14.3 مليون كم

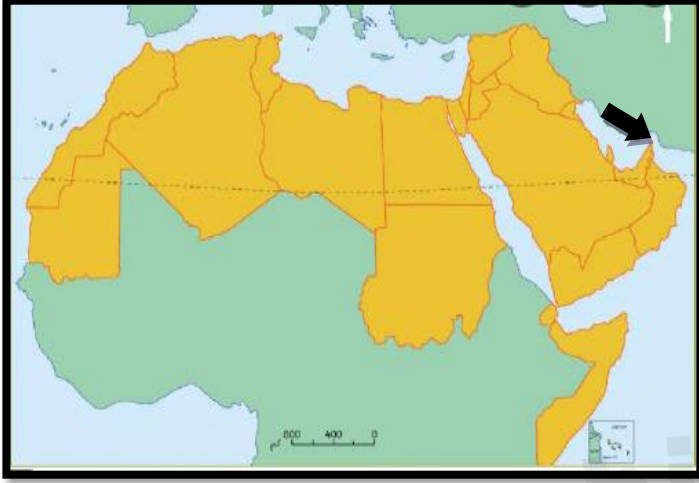
7- أصغر الدولة العربية مساحة:

- أ- الكويت
- ب- ليبيا
- ج- الإمارات
- د- البحرين

8- أكبر الدول العربية مساحة:

- أ- مصر
- ب- الجزائر
- ج- عمان
- د- سوريا

9- يشير السهم على الخريطة الى مضيق:



أ- هرمز

ب- جبل طارق

ج _ باب المندب

د- قناة السويس

10- أي الهضاب الآتية تتوسط شبه الجزيرة العربية:

أ- نجد

ب_ الحجرة

ج- الصمان

د- حضرموت

11- ترتفع درجة الحرارة صيفاً في الوطن العربي لتعاود أشعة الشمس على:

أ- مدار الجدي

ب- مدار السرطان

ج- خط غرينتش

د- خط الاستواء

13- أي الأنهار الآتية يجري في كل من مصر والسودان؟

أ- النيل

ب- جوبا

ج- دجلة

د- الفرات

14- وضح أهمية موقع الوطن العربي.

- أ-
- ب-
- ج-

15- عدد الجبال في الوطن العربي:

- أ-
- ب-
- ج-

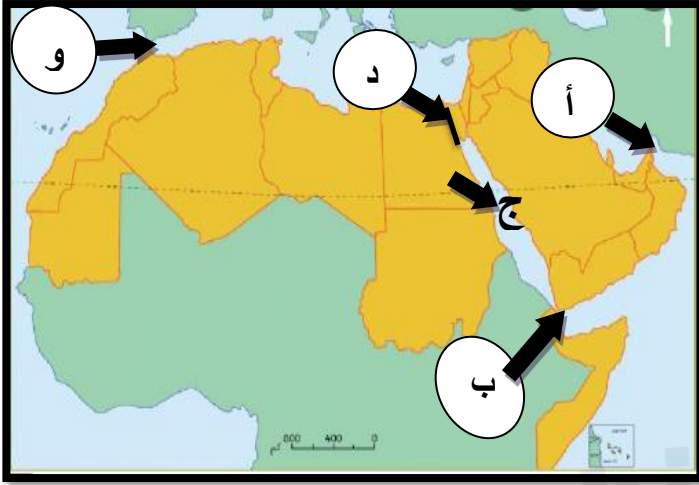
16- عدد الهضاب في الوطن العربي:

- أ-
- ب-
- ج-

17- عدد موارد المياه العذبة:

- أ-
- ب-
- ج-
- د-

الرؤية معلم ريادي لتنمية مستدامة
18- أكتب ما تشير اليه الحروف الآتية على خريطة الوطن العربي؟



أ - مضيق

ب- مضيق

ج - البحر

د- قناة

و- مضيق



1- ظهرت حضارة فيلكا في دولة:

- أ- قطر
- ب- الإمارات
- ج- الكويت
- د- سلطنة عمان

2- اشتهرت حضارة مجان بمعدن:

- أ- الحديد
- ب- النحاس
- ج- الذهب
- د- الفضة

3- أقدم الحضارات في منطقة الخليج العربي:

- أ- قطر
- ب- دلمون
- ج- أم النار
- د- ثاج والجرعاء

4- يقع بالقرب من أم باب الموقع الأثري:

- أ- عسيلة
- ب- رأس بروق
- ج- برج برزان
- د- مدافن تلال الخور

5- من قلاع قطر التي تنتمي للعصر العباسي:

أ- الزبارة

ب- الوجبة

ج- الشقب

د- مروب

6- أطلق السومريون أرض الفردوس على حضارة:

أ- مجان

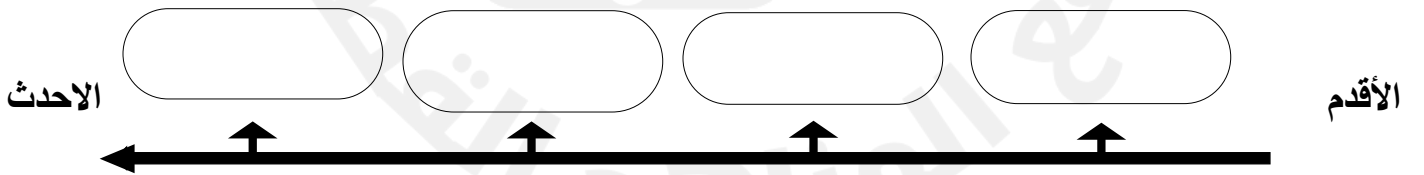
ب- دلمون

ج- أم النار

د- ثاج والجرعاء

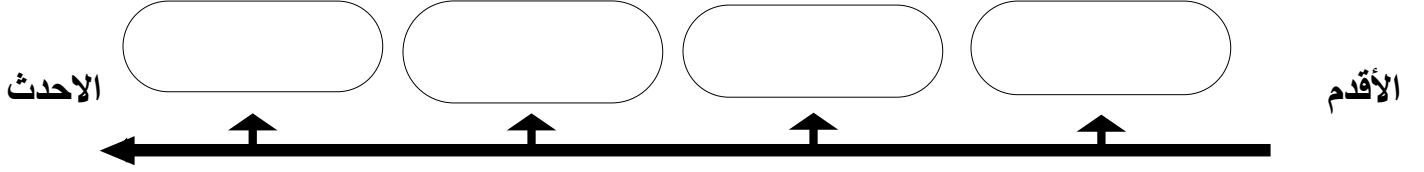
7- رتب حضارات الخليج العربي الآتية على الخط الزمني من الأقدم الى الأحدث

(ثاج والجرعاء- دلمون - مجان - قطر)



الرؤية معلم ريادي لتنمية مستدامة
7- رتب العصور الزمنية الآتية على الخط الزمني من الأقدم الى الأحدث

(البرونزي- العبيدي - الساسان - الكاشيين)



8- وضح عوامل قيام الحضارة في منطقة الخليج العربي.

- 1-
- 2-
- 3-

9- أذكر أبرز المظاهر الحضارية في مجان.

- 1-
- 2-
- 3-

10- عدد المواقع الأثرية القديمة في قطر.

- 1-
- 2-
- 3-

1- مجموعة متنوعة من الانشطة المميزة للمجتمع تشمل العادات والقيم والدين والاخلاق والسلوكيات السائدة في المجتمع يشير التعريف الى مفهوم:

□ النظام □ التكامل □ التعاون □ الثقافة

2- وضح دور الأفراد في الحفاظ على ثقافة المجتمع القطري.

- 1-
- 2-
- 3-
- 4-

4- عدد عناصر ثقافة المجتمع القطري.

- 1-
- 2-
- 3-
- 4-