

تم تحميل هذا الملف من موقع المناهج القطرية



أوراق عمل أم القرى منتصف الفصل غير محلولة

موقع المناهج ← المناهج القطرية ← المستوى السادس ← اجتماعيات ← الفصل الأول ← أوراق عمل ← الملف

تاريخ إضافة الملف على موقع المناهج: 2024-10-31 03:14:33

ملفات اكتب للمعلم اكتب للطالب الاختبارات الكترونية | اختبارات | حلول | عروض بوربوينت | أوراق عمل
منهج انجليزي | ملخصات و تقارير | مذكرات و بنوك | الامتحان النهائي للمدرس

المزيد من مادة
اجتماعيات:

التواصل الاجتماعي بحسب المستوى السادس



صفحة المناهج
القطرية على
فيسبوك

الرياضيات

اللغة الانجليزية

اللغة العربية

التربية الاسلامية

المواد على تلغرام

المزيد من الملفات بحسب المستوى السادس والمادة اجتماعيات في الفصل الأول

أوراق عمل الأندلس الوحدة الثانية والثالثة مع الإجابة النموذجية

1

أوراق عمل الأندلس الوحدة الثانية والثالثة غير مجانية

2

أوراق عمل جابر بن حيان منتصف الفصل غير محلولة

3

أوراق عمل الأندلس الوحدة الأولى مع الإجابة النموذجية

4

أوراق عمل جابر بن حيان منتصف الفصل مع الإجابة النموذجية

5



تدريبات اثرائية
صفوف إثراء التعلم
الدراسات الاجتماعية
منتصف الفصل الدراسي الأول
2025/2024

المادة: الدراسات الاجتماعية
الصف السادس

اسم الطالب



الاسم:

الصف:

جغرافيا

السؤال الأول:

1- يمتد الوطن العربي في قارتي آسيا و..... :

ب- أمريكا

أ- أوروبا

د- استراليا

ج- افريقيا

2- أي من الهضاب التالية تقع في وسط شبه الجزيرة العربية:

ب- بادية الشمال

أ- الشطوط

د- حضرموت

ج- نجد

3- تبلغ مساحة الوطن العربي:

ب- 12.3 مليون كم²

أ- 11.3 مليون كم²

د- 14.3 مليون كم²

ج- 13.3 مليون كم²



4- أكبر الدول العربية من حيث المساحة هي دولة:

- أ- الجزائر
ب- تونس
ج- البحرين
د- اليمن

6- يحد الوطن العربي من جهة الغرب:

- أ- البحر المتوسط
ب- البحر الأحمر
ج- المحيط الأطلنطي
د- المحيط الهادي

7- من المسطحات المائية التي تصل مضيق هرمز بالخليج العربي:

- أ- خليج عمان
ب- بحر العرب
ج- البحر الأحمر
د- البحر المتوسط

6- "أراضي واسعة منبسطة قليلة الارتفاع" يشير المفهوم السابق إلى:

- أ- الجبال
ب- التلال
ج- الهضاب
د- السهول



8- بم تفسر: اتجاه دول الوطن العربي الى تحلية مياه البحر

.....

.....

10- عدد مصادر المياه في الوطن العربي؟

.....

.....

11- بم تفسر الأهمية الاستراتيجية للموقع الجغرافي الوطن العربي

.....

.....

.....

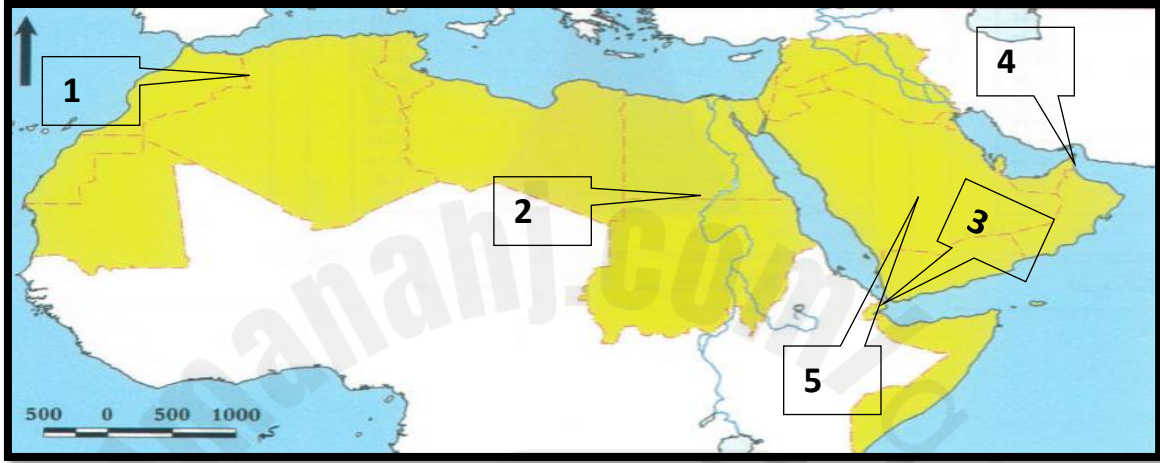
12- عدد أمثلة من جبال الوطن العربي

..... /

..... /



13- أكتب دلالات الأرقام الموضحة على خريطة الوطن العربي التي أمامك



- 1- جبال
2- نهر
3- مضيق
4- مضيق
5 - هضبة



الوحدة الثانية

تاريخ

السؤال الأول: اختر الإجابة الصحيحة من بين البدائل:

14- ازدهرت حضارة فيلكا بالزراعة وذلك بسبب:

- أ- بعدها من بلاد الشام
ب- وجودها في بلاد فارس
ج- وقوعها بين بلاد الرافدين
د- بعدها من بلاد أرض الكنانة

15- القلعة التي بنيت في العصر العباسي وتقع على الساحل الغربي لدولة قطر

قلعة:

- أ- الزبارة
ب- مروب
ج- الشقب
د- الوجبة



16- من أقدم العصور التي مرت بها قطر عصر:

أ- العبيدي

ب- البرونزي

ج- الساسانيين

د- الاغريق والرومان

17- نشأت حضارة مجان في المنطقة التي تشغلها حاليا:

أ- البحرين

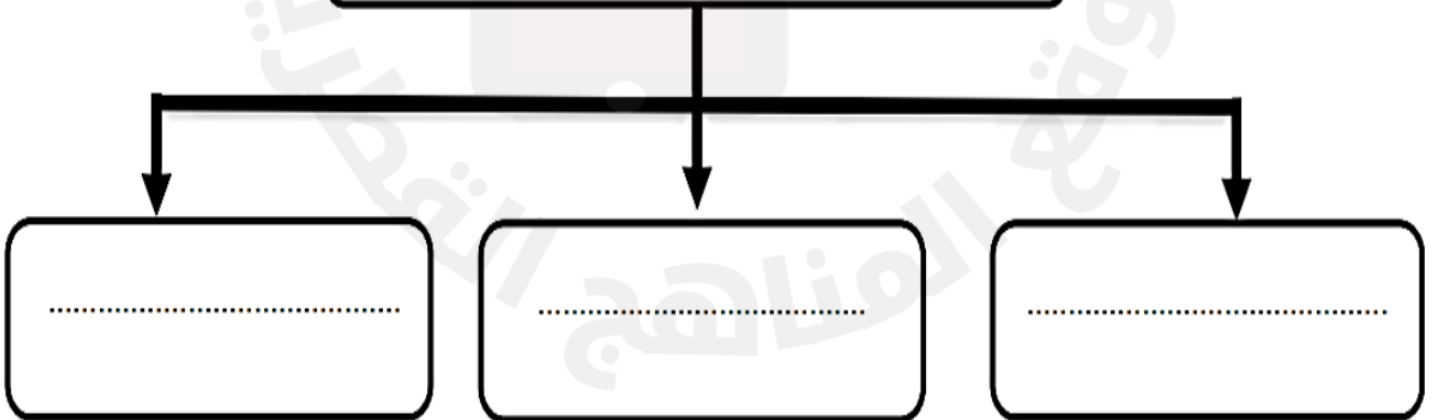
ب- الكويت

ج- سلطنة عمان

د- الإمارات العربية

18- أكمل خريطة المفاهيم التالي:

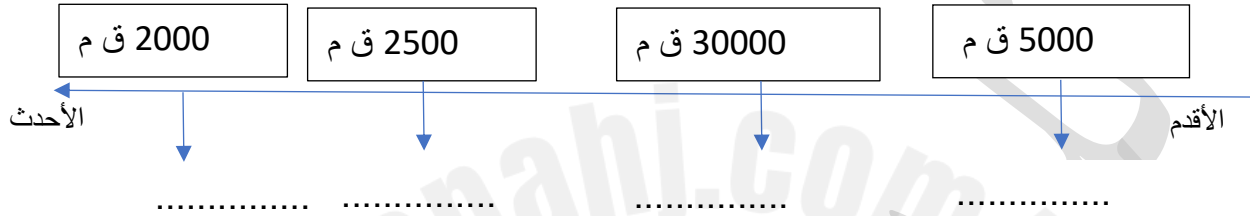
عوامل قيام الحضارات في منطقة الخليج العربي





19- رتب حضارات الخليج العربي التالية على الخط الزمني الذي أمامك من الأقدم إلى الأحدث :

(فيلكا ، مجان ، قطر ، دلمون)



20 - وضّح المظاهر الحضارية لتاريخ قطر في العصور القديمة.

.....

.....

.....



الوحدة الثالثة

المواطنة

22- اذكر عناصر ثقافة المجتمع القطري؟

/..... /.....

/..... /.....

23 عدد آثار ثقافة المجتمع على الأفراد.

.....
.....
.....

24- وضح دور الأفراد في الحفاظ على ثقافة المجتمع.

.....
.....
.....