

شكراً لتحميلك هذا الملف من موقع المناهج القطرية



اوراق عمل نهاية الفصل غير مجابة مدرسة مسيعيد

[موقع المناهج](#) ← [المناهج القطرية](#) ← [المستوى السادس](#) ← [اجتماعيات](#) ← [الفصل الأول](#) ← [الملف](#)

تاريخ نشر الملف على موقع المناهج: 06:18:11 2023-12-09 | اسم المدرس: مدرسة مسيعيد

التواصل الاجتماعي بحسب المستوى السادس



روابط مواد المستوى السادس على تلغرام

[الرياضيات](#)

[اللغة الانجليزية](#)

[اللغة العربية](#)

[التربية الاسلامية](#)

المزيد من الملفات بحسب المستوى السادس والمادة اجتماعيات في الفصل الأول

اوراق عمل نهاية الفصل مجابة مدرسة عبد الله بن رواحة	1
اوراق عمل نهاية الفصل غير مجابة مدرسة عبد الله بن رواحة	2
اوراق عمل نهاية الفصل مجابة	3
تدريبات دعم وإثراء نهاية الفصل غير مجابة	4
تدريبات دعم وإثراء الفرقان نهاية الفصل	5

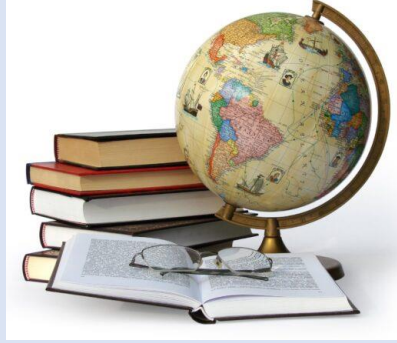


العام الدراسي

2024-2023

الصف السادس

6



الدراسات الاجتماعية

تدريبات علاجية - واجبات

منهاج منتصف الفصل الدراسي الأول

اسم الطالب:

الصف: السادس

ملحوظة هامة: هذه الأسئلة إثرائية ولا تغني عن الكتاب المدرسي وهو المصدر الرئيسي
للتعلم



الصف السادس

1 ورقة علاجية وواجبات الوحدة الأولى / الدرس الثاني ص 20-23

مادة جغرافيا (الأسبوع الأول)

اسم الطالب:

الجغرافيا: 27-31/8/2023م

أولاً: الاختيار من متعدد:

اختر الإجابة الصحيحة بوضع علامة x في المربع المقابل لها:-

1 - تمتد جبال الحجاز وعسير على طول ساحل:

الخليج العربي	
البحر الأحمر	
البحر المتوسط	
خليج عمان	

2 - أي من أنهار الوطن العربي الآتية يجري في سوريا والعراق:

النيل	
الفرات	
جوبا	
شبيلي	

3 - يمتد الوطن العربي في قارتي:

آسيا وأفريقيا	
آسيا وأستراليا	
أوروبا وأفريقيا	
أفريقيا وأمريكا الشمالية	

4 - أكبر الدول العربية من حيث المساحة:

ليبيا	
الجزائر	
السودان	
السعودية	



ثانياً: الأسئلة المقالية:

أجب عن الآتي:

١- أذكر القارات التي يتوسطها الوطن العربي.

- -1
- -2
- -3

٢- وضح الأهمية الاستراتيجية للوطن العربي.

- -1
- -2
- -3

٣- عدد أهم الممرات المائية في الوطن العربي.

- -1
- -2
- -3



الصف السادس

2 ورقة علاجية وواجبات الوحدة الأولى / الدرس الثاني ص 23-27

مادة جغرافيا (الأسبوع الثاني)

اسم الطالب:

التاريخ: 2023/9/7-3م

أولاً: الاختيار من متعدد:

اختر الإجابة الصحيحة بوضع علامة X في المربع المقابل لها:-
١- أصغر الدول العربية من حيث المساحة:

عُمان	
تونس	
الكويت	
البحرين	

٢- يحد الوطن العربي من جهة الشمال:-

بحر العرب	
بحر قزوين	
البحر الأحمر	
البحر المتوسط	

٣- أراض واسعة مُبسطة قليلة الارتفاع " يُشير المفهوم السابق إلى

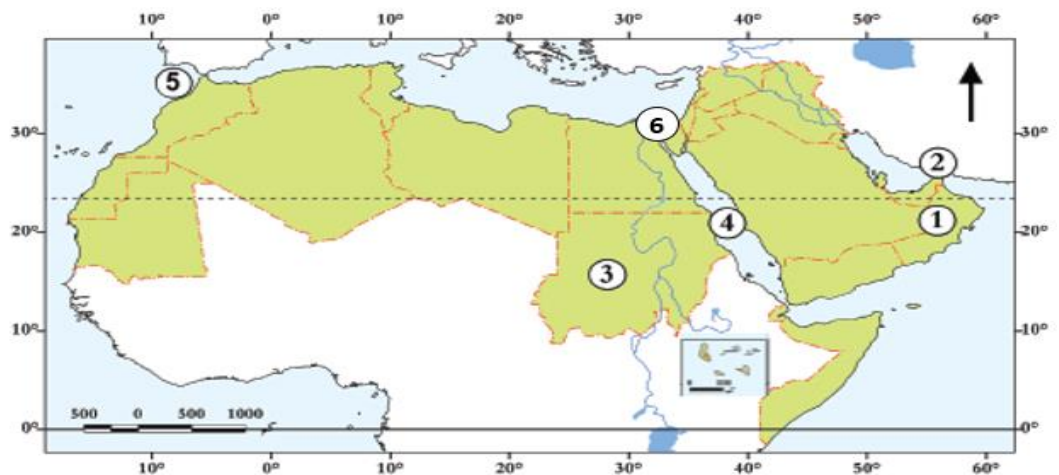
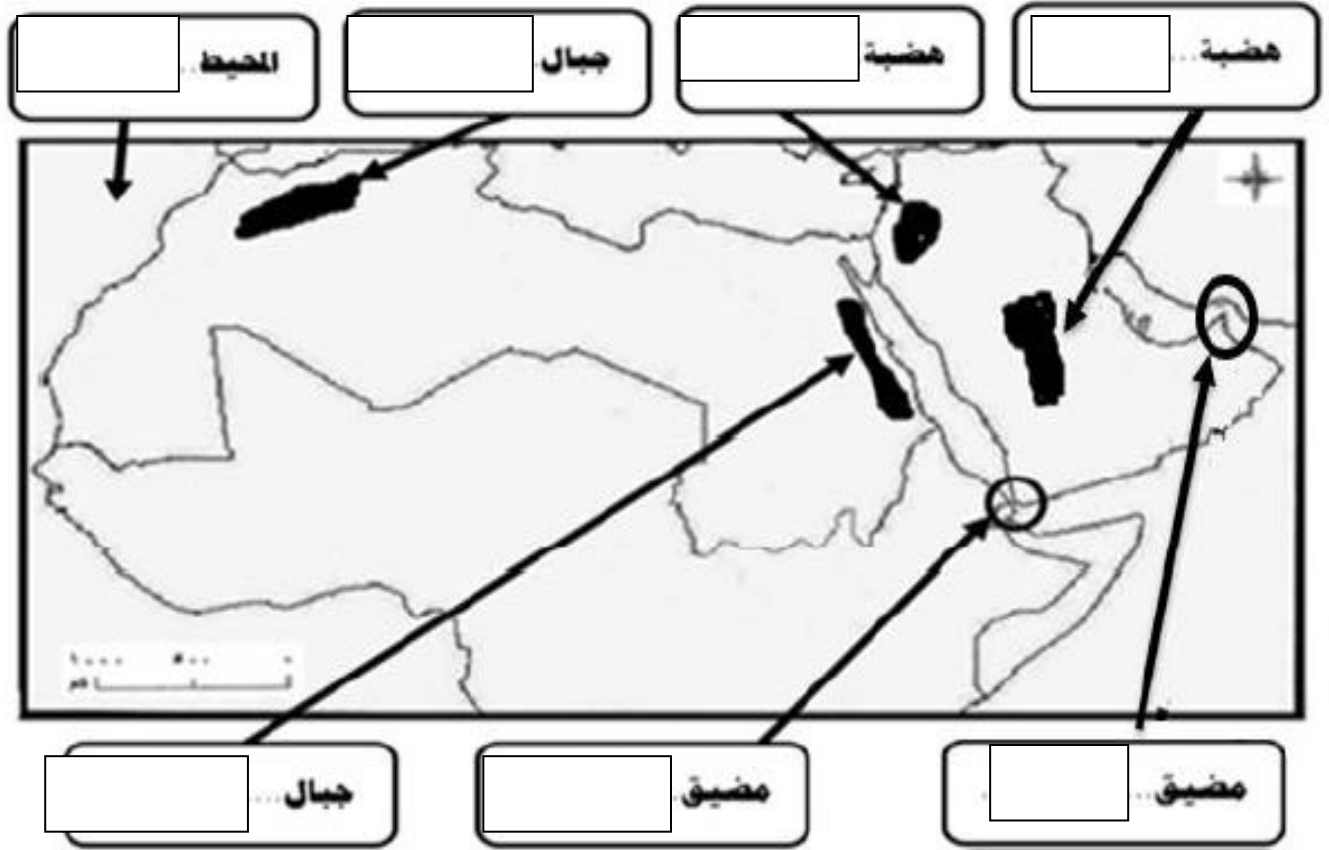
الجبال	
التلال	
الهضاب	
السهول	

٤- أي من الهضاب التالية تقع في وسط شبه الجزيرة العربية:

نجد	
الشطوط	
حضر موت	
بادية الشام	



السؤال الثاني: حدد على الخريطة المظاهر الطبيعية المشار إليها



4- البحر

5- مضيق

6- قناة

1- سلطنة

2- مضيق

3- جمهورية



الصف السادس

3 ورقة علاجية وواجبات الوحدة الأولى / الدرس الثاني ص 25-29

مادة جغرافيا (الأسبوع الثالث)

اسم الطالب:

التاريخ: 2023/9/14-10م

أولاً: الاختيار من متعدد:

اختر الإجابة الصحيحة بوضع علامة X في المربع المقابل لها:-

١- أيُّ من المضايب التالية تقع في وسط شبه الجزيرة العربية:

نجد	
الشطوط	
حصرموت	
بادية الشام	

٢- تقع محطة راس أبو فنطاس في دولة:

قطر	
عمان	
الكويت	
المملكة العربية السعودية	

٣- تبلغ مساحة الوطن العربي حوالي:

11.3 مليون كم ²	
12.3 مليون كم ²	
13.3 مليون كم ²	
14.3 مليون كم ²	



ثانياً: الأسئلة المقالية:

أجب عن الآتي:

1- عدد أنواع السهول ثم اعط مثالا على كل منها.

أ -

ب -

٢- اكتب دلالات الأرقام الموجودة على الخريطة الصماء التالية:

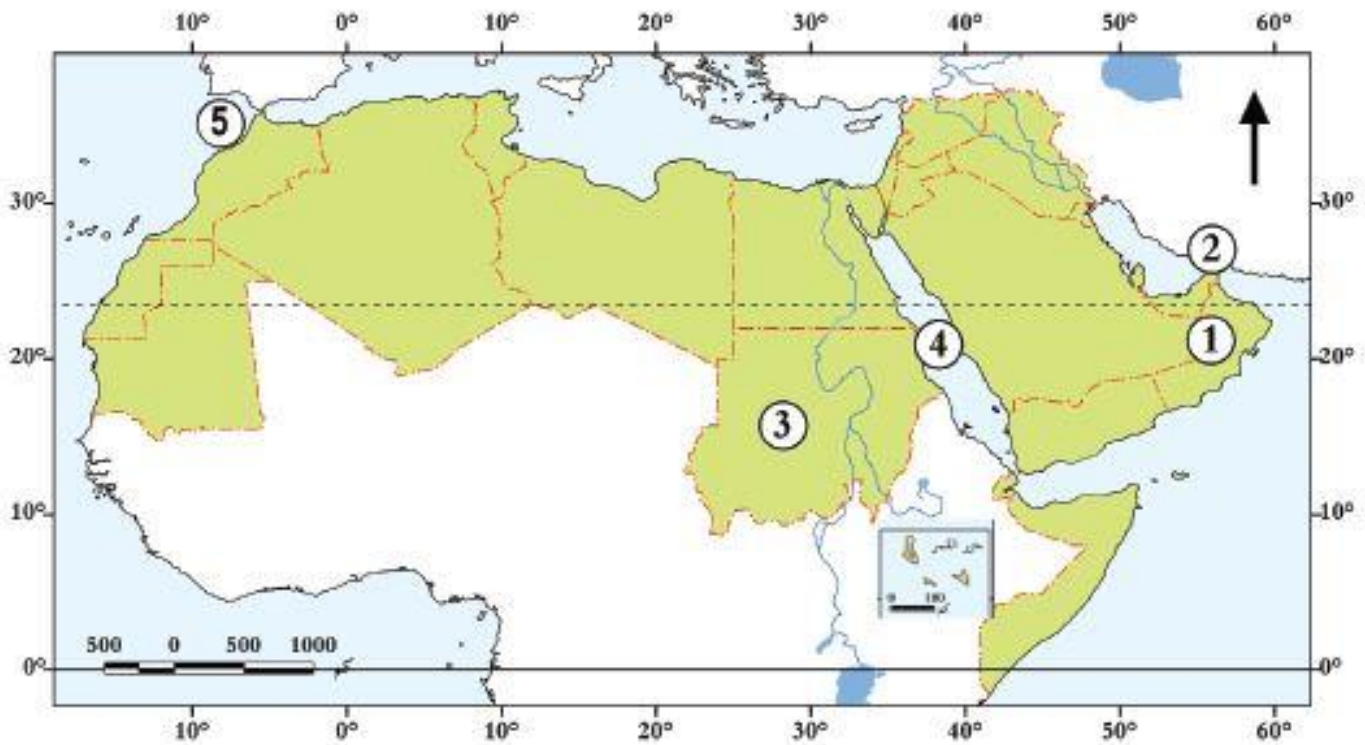
1- سلطنة:

2- مضيق:

3- جمهورية:

4- البحر:

5- مضيق:





الصف السادس

4 ورقة علاجية وواجبات الوحدة الأولى / الدرس الثاني ص 29-37

مادة جغرافيا (الأسبوع الرابع)

اسم الطالب:

التاريخ 17- 21 / 9 / 2023م

أولاً: الاختيار من متعدد:

اختر الإجابة الصحيحة بوضع علامة X في المربع المقابل لها:-

١- ترتفع درجة الحرارة صيفاً في وسط وشمال الوطن العربي؛ لتعتمد الشمس على:

الجدي	
خط الاستواء	
خط غرينتش	
مدار السرطان	

٢- تسقط الأمطار الشتوية على بلاد المغرب العربي بسبب هبوب الرياح:

الموسمية الممطرة	
العكسية الغربية	
التجارية الجافة	
القطبية الشمالية	

٣- أي من أنهار الوطن العربي يجري في مصر والسودان:

النيل	
جوبا	
دجلة	
الفرات	



ثانياً: الأسئلة المقالية:

أجب عن الآتي:

١- أذكر أهم الجبال والهضاب في الوطن العربي في الجدول الآتي.

الهضاب في الوطن العربي	الجبال في الوطن العربي

٢- بم تفسر اتجاه دول الوطن العربي لتحلية مياه البحر.

..... -1

..... -2

..... -3

٣- أعط أمثلة على كل مما يأتي:

أ- الأنهار في الوطن العربي.

..... -1

..... -2

..... -3



الصف السادس

4 ورقة علاجية وواجبات الوحدة الثانية /الدرس الثاني ص 46 - 54

اسم الطالب:

التاريخ 17- 21 / 9 / 2023م

أولاً: الاختيار من متعدد: اختر الإجابة الصحيحة بوضع علامة x في المربع المقابل لها: -

١- نشأت حضارة (مجان) في المنطقة التي تشغلها حالياً دولة:

عمان	
البحرين	
الكويت	
الإمارات	

٢- أقدم حضارات منطقة الخليج العربي:

قطر	
مجان	
دلمون	
فيلكا	

٣- تقع جزيرة فيلكا في الشمال الغربي للخليج العربي وهي تابعة لدولة:

الكويت	
البحرين	
الإمارات	
السعودية	

٤- بدأ استيطان الإنسان لقطر في العصر:

العبيدي	
البرونزي	
الروماني	
الحجري الحديث	



٥- أحدث حضارات منطقة الخليج العربي: -

ثاج.	
قطر	
دلمون	
أم النار	

٦- أطلق السومريون على حضارة دلمون اسم: -

إيكاروس	
أرض الأطلان	
أرض النحاس	
أرض الفردوس	



ثانياً: الأسئلة الختالية:

أجب عن الآتي:

١- وضح عوامل قيام الحضارات في الخليج العربي.

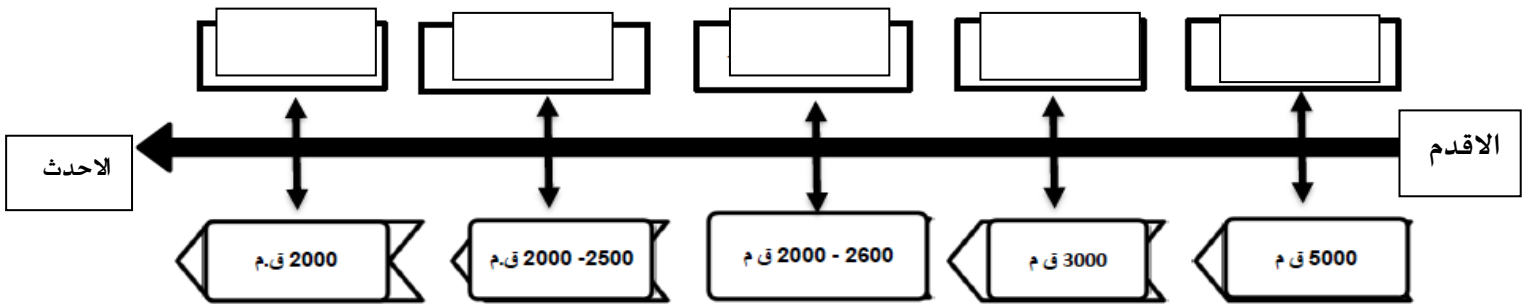
- 1-
- 2-
- 3-

٢- عدد (وضح) أهم مظاهر حضارة مجان.

- 1-
- 2-
- 3-

٣- قم بترتيب حضارات منطقة الخليج باستخدام الخط الزمني.

(فيلكا - دلمون - قطر - أم النار - مجان)





الصف السادس

5 ورقة علاجية وواجبات الوحدة الثانية/ الدرس الثاني ص 56-63

مادة جغرافيا (الأسبوع الخامس)

التاريخ 2023/9 /28-24م

أولاً: الاختيار من متعدد:

اختر الإجابة الصحيحة بوضع علامة x في المربع المقابل لها:-

1- أقدم العصور الزمنية التي مرت بها قطر العصر:-

العبيدي	
الروماني	
الإفريقي	
البرونزي	

1- أي من قلاع قطر التي تنتمي للعصر العباسي قلعة:

الزبارة	
الكوت	
مروب	
الوجبة	

ثانياً: الأسئلة المقالية:

أجب عن الآتي:

1- اذكر المظاهر الحضارية لتاريخ قطر في العصور القديمة.

..... -1

..... -2

..... -3



٢- عدد أهم الصادرات التي كانت في حضارة مجان.

- -1
- -2
- -3

٣- عدد أهم المواقع الأثرية القديمة والحديثة في دولة قطر من خلال استكمال الجدول التالي.

المواقع الأثرية الحديثة	المواقع الأثرية القديمة



الصف السادس

6 ورقة علاجية وواجبات الوحدة الثالثة/ الدرس الأول ص 68-71

مادة المواطنة (الأسبوع السادس)

المواطنة الأسبوع السادس 01-05/2023/9م

أولاً: الاختيار من متعدد:

اختر الإجابة الصحيحة بوضع علامة [x] في المربع المقابل لها:-

١- تؤثر ثقافة المجتمع على الأفراد في:

الآثار	
التراث	
العادات	
السلوك ونمط الحياة	

٢- ما توارثه المجتمع عن الأسلاف من مظاهر مادية ومعنوية يسمى:

الآثار	
التراث	
الفنون	
العادات	

٣- أي من الآتي يعد المعبر عن روح المجتمع القطري:

الإنتاج	
اللغة العربية	
التراث والفنون	
القيم والعادات والتقاليد	



٤- الناتج الثقافي عن عملية التواصل بين جميع أهل قطر:

الإثار	
اللغة العربية	
التراث والفنون	
القيم والعادات والتقاليد	

ثانياً: الأسئلة المقالية:

أجب عن الآتي:

١- عرف مفهوم الثقافة:

.....
.....

٢- اذكر دور الأفراد في الحفاظ على ثقافة المجتمع:

1-

2-

3-

٣- عدد عناصر ثقافة القطري؟

1-

2-

3-

--- بالتوفيق يا أحبابي ---



أوراق عمل علاجية

القسم	الدراسات الاجتماعية	الف السادس	الأسبوع	الحادي عشر
الوحدة	الرابعة - درس 2 (التوزيع السكاني وكثافته في الوطن العربي ج 2)		التاريخ	11 / 5 - 11 / 9 / 2023 م

أولاً: الاختيار من متعدد:

اختر الإجابة الصحيحة بوضع علامة X في المربع المقابل لها:-
1 - أي الاتي من أسباب تركيز السكان في منطقة الهلال الخصيب:

اعتدال المناخ	
ارتفاع الحرارة	
سوء التربة	
انخفاض الحرارة	

2- أي الاتي يعد من أسباب تركيز السكان في منطقة شبه الجزيرة العربية:

قلة المياه	
اعتدال المناخ	
خصوبة التربة	
وجود الأماكن المقدسة	

3- "اجمالي عدد السكان مقسومًا على المساحة الكلية للدولة" يشير التعريف السابق الى مفهوم:

النمو السكاني	
الكثافة السكانية	
التركيب السكاني	
النمو الطبيعي	



4- "الكثافة السكانية تساوي عدد السكان" على

الكثافة	
النمو السكاني	
التركيب السكاني	
المساحة الكلية	

5- تعد أقل الدول العربية كثافة سكانية هي:

أيبيا	
العراق	
المغرب	
فلسطين	

6- تعد من أكثر الدول العربية كثافة سكانية هي:

مصر	
الاردن	
سوريا	
البحرين	

7- "الخصائص السكانية التي يمكن قياسها مثل العمر والنوع" يشير التعريف السابق الى مفهوم:

النمو السكاني	
التركيب السكاني	
التوزيع السكاني	
الكثافة السكانية	



ثانياً: الأسئلة المقالية:

أجب عن الآتي:

١- يَم تفسّر:

أ - تركّز السكان في منطقة وادي النيل والحوض الإفريقي.

-
-

ب - تركّز السكان في عواصم ومدن منطقة شبه الجزيرة العربية.

-
-

٢- وضح العوامل الطبيعية المؤثرة في توزيع سكان الوطن العربي.

-
-

٣- عدد المناطق أكثر ارتفاعاً للكثافة السكانية؟

- 1
- 2
- 3

٤- أذكر أقل المناطق تركّزاً للسكان في الوطن العربي؟

-
-



٥- بِمَ تُفَسِّرُ:

أ- انخفاض معدلات الوفيات في الوطن العربي.

..... -1

..... -2

..... -3

ب- ارتفاع معدلات المواليد في الوطن العربي.

.....

.....

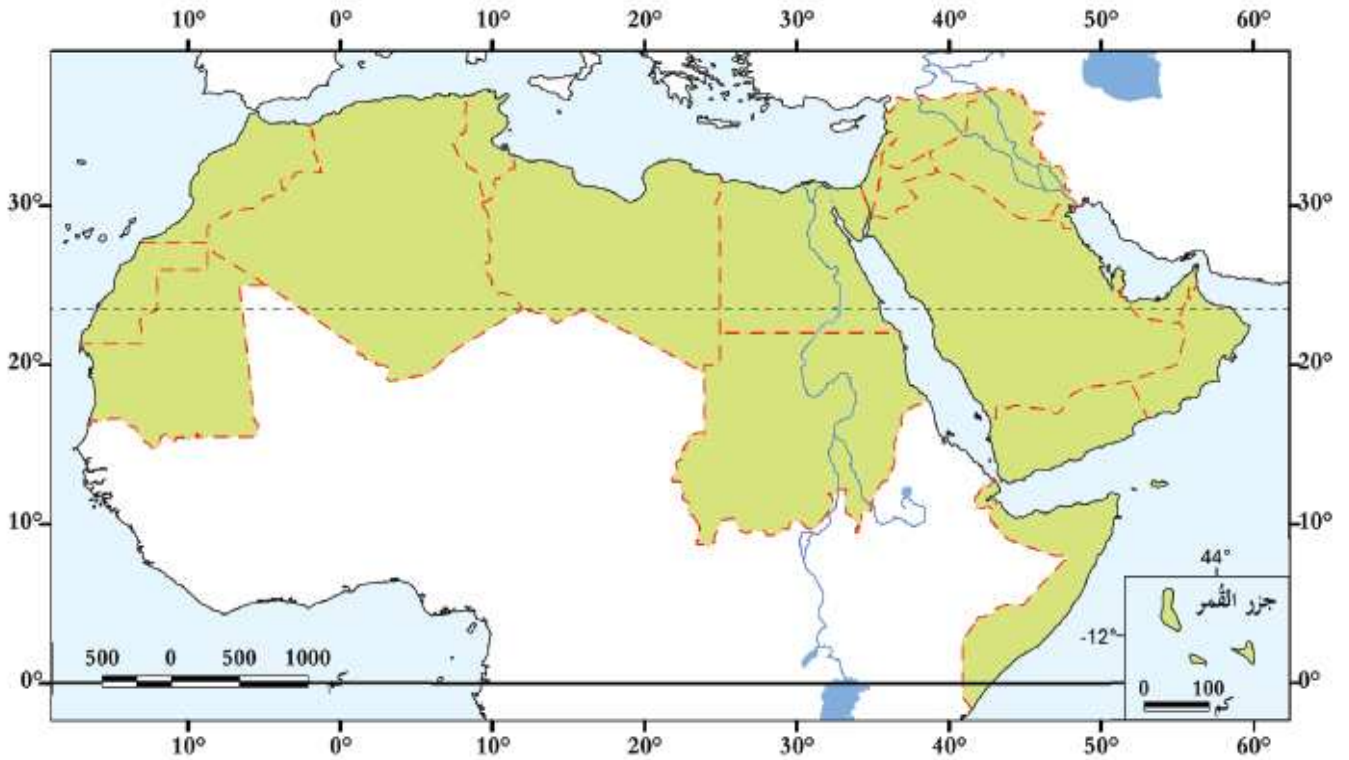
٦- حدد على خريطة الوطن العربي الآتي:

1 - الدولة الأكثر سكانًا.

2 - الدولة الأقل سكانًا.

3 - الدولة الأعلى في كثافة السكان.

4 - الدولة الأدنى في كثافة السكان.





٧- صنف العوامل المؤثرة في توزيع سُكَّان الوطن العربي إلى عوامل

طبيعية وبشرية، كما في الجدول التالي.

المناخ – الأنشطة الاقتصادية – النقل والمواصلات – الأحداث السياسية – التضاريس –
موارد المياه

العوامل المؤثرة في توزيع السُّكَّان	
عوامل طبيعية	عوامل بشرية

٨- وضح العوامل البشرية المؤثرة في توزيع سكان الوطن العربي.

- 1-
- 2-
- 3-

بالتوفيق يا أبنائي



أوراق عمل علاجية

قسم	الدراسات الاجتماعية	الصف السادس	الأسبوع	الثاني عشر
الوحدة	الخامسة - درس 2+1 (الخلافة الأموية نشأتها أبرز خلفائها و أعمالهم)		التاريخ	11 / 12 - 11 / 16 / 2023 م

أولاً: الاختيار من متعدد:

اختر الإجابة الصحيحة بوضع علامة X في المربع المقابل لها:-

أي المساجد الآتية بناها الخليفة الأموي الوليد بن عبد الملك؟

الأموي

النبوي

الأقصى

قبة الصخرة

أي خلفاء الدولة الأموي الآتية أسماؤهم اهتمَّ بنشر العدل بين الناس، وعَمِلَ على ردِّ المظالم إلى أهلها؟

عمر بن عبد العزيز

عبد الملك بن مروان

الوليد بن عبد الملك

مُعاوية بن أبي سفيان

تعد من إنجازات الخليفة الأموي عبد الملك بن مروان:

بناء مدينة دمشق

تدوين الحديث النبوي

سكُّ العُملة الإسلامية

استحدث نظام ولاية العهد



أي من خلفاء الدولة الأموية وأول من قام بتنظيم الصّوائف والشّواتي:

عُمر بن عبد العزيز

عبد الملك بن مروان

الوليد بن عبد الملك

مُعاوية بن أبي سفيان

ثانياً: الأسئلة المقالية:

أجب عن الآتي:

١- عدد أعمال الخليفة معاوية بن أبي سفيان.

- -1
- -2
- -3

٢- عدد أعمال الخليفة عبد الملك بن مروان.

- -1
- -2
- -3

٣- وضح أعمال الخليفة الوليد بن عبد الملك.

- -1
- -2
- -3



٤- اذكر اعمال الخليفة عمر بن عبد العزيز.

- -1
- -2
- -3

٥- رتب الأحداث التاريخية الآتية حسب التسلسل الزمني من الأقدم إلى الأحدث.
(بناء المسجد الأموي بدمشق - عام الجماعة - بناء مسجد قبة الصخر



86 هجري

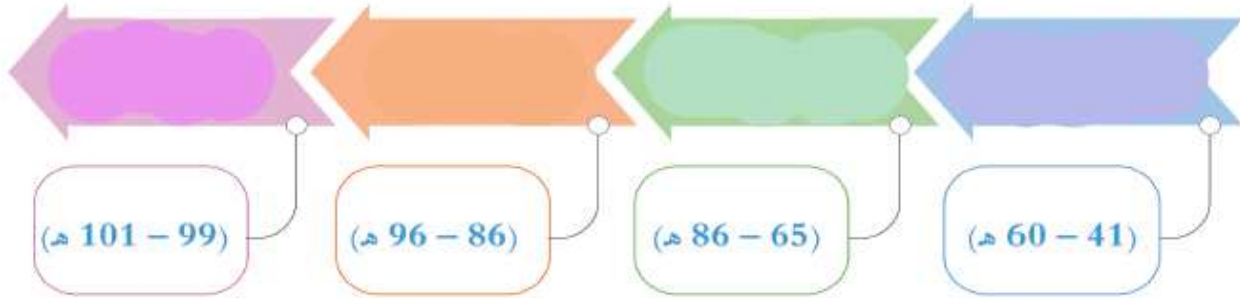
72 هجري

41 هجري

.....-3.....-2.....-1

٦- رتب أشهر خلفاء الدولة الأموية على الخط الزمني بحسب فترات حكمهم من الأقدم إلى الأحدث.

(عمر بن عبد العزيز _ معاوية بن أبي سفيان _ الوليد بن عبد الملك _ عبد الملك بن مروان)





أوراق عمل علاجية

قسم	الدراسات الاجتماعية	الفصل السادس	الأسبوع	الثالث عشر
الوحدة	الخامسة - درس 2 (الفتوحات في عهد الخلفاء الأمويين)		التاريخ	11 / 19 - 11 / 23 / 2023 م

أولاً: الاختيار من متعدد:

اختر الإجابة الصحيحة بوضع علامة X في المربع المقابل لها:-

أيُّ البلاد الآتية فَتِحَتْ في عهد مُعاوية بن أبي سفيان؟

- السِّند
- الأندلس
- ما وراء النهر
- شمال إفريقيا

أي الخلفاء الأمويين قام بفتح بلاد المغرب الأقصى؟

- مروان بن محمد
- الوليد بن عبد الملك
- عبد الملك بن مروان
- مُعاوية بن أبي سفيان



تمكّن طارق بن زيادٍ من فتح بلاد:

فارس

النوبة

الأندلس

ما وراء النهر

العهد الذي بلغت فيها الدولة الإسلامية أقصى اتساع لها:

الأمويين

العبّاسيين

الخلفاء الراشدين

النبيّ صلى الله عليه وسلم

ما الدولة التي قُتل فيها آخر خلفاء بني أمية مروان بن محمد؟

مصر

العراق

الأندلس

بلاد الشام



ثانياً: الأسئلة المقالية:

أجب عن الآتي:

١- اذكر الفتوحات الأموية التي حدثت في الغرب.

- -1
- -2
- -3

٢- ما النتائج المترتبة على الفتوحات الإسلامية في العهد الأموي.

- -1
- -2
- -3

٣- فسّر ضعف الدولة الأموية وسقوطها.

- -1
- -2
- -3



أوراق عمل علاجية

القسم	الدراسات الاجتماعية	الصف السادس	الأسبوع	الرابع عشر
الوحدة	السادسة – درس 2 (القيم والأخلاق – المواطنة الفاعلة)		التاريخ	11 / 12 – 16 / 11 / 2023 م

أولاً: الاختيار من متعدد:

اختر الإجابة الصحيحة بوضع علامة (X) في المربع المقابل لها:-

«هي مشاركة المواطنين في تدبير شؤون مجتمعهم، والقيام بمبادرات تهدف إلى تحقيق المنفعة لأبناء الوطن» يُشير التعريف السابق إلى مفهوم:

الوطن.

الولاء.

المواطنة الفاعلة.

الانتماء.

«الإخلاص للوطن والقيادة والعمل وفق ما تقتضيه مصلحة الوطن في كافة المجالات» يشير التعريف السابق إلى مفهوم:

الوطن.

التسامح.

الانتماء.

الولاء.

تعد من صفات المواطن الصالح:

التنافس القبلي

الواسطة والمحسوبية

احترام حقوق الآخرين

التنازع بين افراد المجتمع



ثانياً: الأسئلة المقالية:
أجب عن الآتي:

١- أذكر مقومات المواطنة الفاعلة؟

- -1
..... -2
..... -3

٢- عدد صفات المواطن الصالح.

- -1
..... -2
..... -3

بالتوفيق يا أبنائي