

تم تحميل هذا الملف من موقع المناهج القطرية



\*للحصول على أوراق عمل لجميع الصفوف وجميع المواد اضغط هنا

<https://almanahj.com/qa>

\* للحصول على أوراق عمل لجميع مواد المستوى السادس اضغط هنا

<https://almanahj.com/qa/6>

\* للحصول على جميع أوراق المستوى السادس في مادة اجتماعيات ولجميع الفصول, اضغط هنا

<https://almanahj.com/qa/6social>

\* للحصول على أوراق عمل لجميع مواد المستوى السادس في مادة اجتماعيات الخاصة بـ الفصل الثاني اضغط هنا

<https://almanahj.com/qa/6social2>

\* لتحميل كتب جميع المواد في جميع الفصول للمستوى السادس اضغط هنا

<https://almanahj.com/qa/grade6>

\* لتحميل جميع ملفات المدرس مجمع الفرقان اضغط هنا

للتحدث إلى بوت المناهج القطرية على تلغرام: اضغط هنا

[https://t.me/qacourse\\_bot](https://t.me/qacourse_bot)

6

# اجتماعيات

## اجتبارات تجريبية

1444 هـ - 22-23 م

### نهاية العام

واصل الارتفاع



6

# خطط رفع الكفاءة



ملحوظة: هذه التدريبات لا تفني عن الكتاب المدرسي

الاسم /

الصف / 6-

رؤيتنا : بناء شخصية قوية بعلمها ، معتزة بدينها وخلقها ، منتمة إلى وطنها ، مؤثرة في مستقبلها

## ( الوحدة الأولى )

السؤال الأول: اختر الإجابة الصحيحة بوضع علامة \* في المربع المقابل لها:-

1 تعد الهند أولى دول العالم في إنتاج :

البن

الأرز

الذرة

القطن

2 يعد القمح والذرة والأرز من :

الحبوب الغذائية

المحاصيل الصناعية

المحاصيل الاستوائية

الخضروات والفاكهة

3 يعد القطن والبن والشاي من :

الحبوب الغذائية

المحاصيل القطبية

المحاصيل الصناعية

الخضروات والفاكهة

4 من المشكلات التي تواجه حرفة صيد الأسماك :

النقل الجوي

التلوث بالبحري

التلوث بالهوائي

التلوث بالبريجات الحرارية

التلوث بالهوائي

التلوث بالهوائي

التلوث البحري

من التحديات والمشكلات التي تواجه حرفة الزراعة :

5

تلوث الهواء

ارتفاع درجات الحرارة

انخفاض أسعار المحاصيل

تناقص مساحة الأرض الزراعية بسبب الجفاف والتصحر

من المشكلات التي تواجه صيد الأسماك :

6

ارتفاع درجات الحرارة

انخفاض درجات الحرارة

هبوب الرياح الغربية العكسية

مخالفة الصيادين للقوانين والتشريعات

تناقص أعداد العاملين بسبب الهجرة من الريف إلى المدن يعد من المشكلات التي تواجه :

7

الزراعة

الصناعة

الثروة السمكية

الرعي وتربية الحيوان

تحتل المركز الثاني في إنتاج الأبقار على مستوى العالم :

8

الهند

باكستان

البرازيل

الولايات المتحدة الأمريكية



من العوامل الطبيعية اللازمة لقيام الصناعة :

9

السوق

رأس المال

المواد الخام

الأيدي العاملة

أولى دول العالم في إنتاج الشعير وبنجر السكر :

10

الهند

روسيا

الصين

البرازيل

أولى دول العالم في إنتاج الذرة الشامية :

11

الهند

روسيا

البرازيل

الولايات المتحدة الأمريكية

ينتشر الرعي البدائي في المناطق :

12

القطبية

الاستوائية

الساحلية

الجبلية والصحراوية



السؤال الثاني أجب عن الأسئلة الآتية :

1- عدد أنواع المحاصيل الزراعية في العالم .

---

---

---

2- اذكر أنواع الحبوب الغذائية .

---

---

---

3- اذكر أنواع المحاصيل الصناعية .

---

---

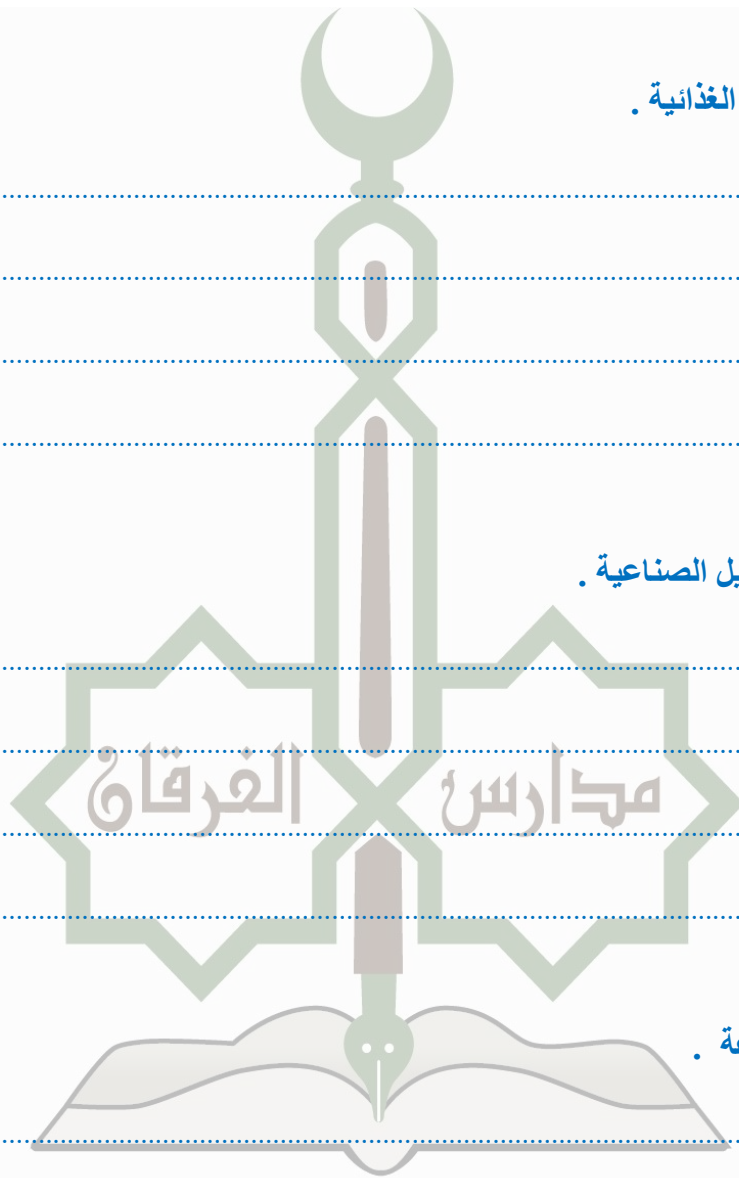
---

4- وضح أهمية الزراعة .

---

---

---



5- وضح أهمية الثروة السمكية .

.....

.....

.....

6- وضح أهمية الصناعة .

.....

.....

.....

7- اذكر العوامل البشرية لقيام الصناعة .

.....

.....

.....

8 - قارن بين المشكلات التي تواجه الزراعة والمشكلات التي تواجه الثروة السمكية .

المشكلات التي تواجه الثروة السمكية	المشكلات التي تواجه الزراعة
.....1	.....1
.....2	.....2

9 – قارن بين الرعي البدائي والرعي التجاري حسب الجدول الآتي :

الرعي التجاري	الرعي البدائي	المقارنة
		المفهوم
		أماكن تواجده
		الهدف منه

10 – قارن بين الصناعة الاستخراجية والصناعة التحويلية حسب الجدول الآتي :

الصناعة التحويلية	الصناعة الاستخراجية	المقارنة
		المفهوم
		أمثلة

11 – قارن بين العوامل الطبيعية والبشرية اللازمة لقيام الزراعة حسب الجدول الآتي :

العوامل البشرية	العوامل الطبيعية

12- بم تفسر لجأت معظم دول العالم للتوسع في تربية الدواجن ؟

.....

.....



**السؤال الثالث : من أكون ؟**

1- المصدر الرئيس للحوم والألبان في العالم

.....

2- أولى دول العالم في إنتاج الأرز والقمح والشاي والأبقار والأسماك

.....

3- تهتم بي الدول لتعويض النقص في اللحوم الحمراء وتوفير احتياجات السكان من البيض

.....

4- تحويل المواد الخام إلى سلع وخدمات أكثر نفعاً للإنسان

.....

5- أولى دول العالم في إنتاج القطن

.....

6- أولى دول العالم في إنتاج الشعير وبنجر السكر

.....

7- عملية الاهتمام بمجموعة متنقلة من الحيوانات في منطقة نباتية واسعة

.....

8- أولى دول العالم في إنتاج الأبقار والأغنام

.....

9 - تحتل المركز الثاني في إنتاج الأبقار في العالم

.....

10 - تحتل المركز الثاني في إنتاج الأغنام في العالم

.....

## ( الوحدة الثانية )

السؤال الأول: اختر الإجابة الصحيحة بوضع علامة × في المربع المقابل لها:-

1 تم فتح الأندلس عام 92 هـ على يد :

طارق بن زياد

عبدالرحمن الناصر

هشام بن عبدالرحمن

المنصور بن عامر الأموي

2 بعد سقوط الخلافة الأموية في الأندلس بدأ عصر :

الولاة

الموحدين

المرابطين

ملوك الطوائف

3 قام ببناء مكتبة قرطبة :

عبدالرحمن الداخل

عبدالرحمن الناصر

هشام بن عبدالرحمن

المنصور بن عامر الأموي

4 آخر معقل المسلمين سقوطاً في بلاد الأندلس :

قرطبة

طنجة البحري

تشتة البهزوني

تشتة الظاهري

تشتة الأندلسي

تشتة الأندلسي

أشهر حكام عصر الولاة في الأندلس عبدالعزیز بن موسى بن نصیر و :

5

عبدالرحمن الداخل

عبدالرحمن الناصر

هشام بن عبدالرحمن

عبدالرحمن الغافقي

6

مؤسس الإمارة الأموية في بلاد الأندلس :

عبدالرحمن الداخل

عبدالرحمن الناصر

هشام بن عبدالرحمن

عبدالرحمن الغافقي

7

قام ببناء مسجد قرطبة :

عبدالرحمن الداخل

عبدالرحمن الناصر

هشام بن عبدالرحمن

عبدالعزیز بن موسى بن نصیر

8

يعد عصره العصر الذهبي للدولة الأموية في الأندلس :

عبدالرحمن الداخل

عبدالرحمن الناصر

هشام بن عبدالرحمن

عبدالرحمن الغافقي

**السؤال الثاني أجب عن الأسئلة الآتية :**

1- ما النتائج المترتبة على معركة وادي لكة 92هـ .

.....

.....

2- اذكر أهم أعمال عبدالرحمن الداخل .

.....

.....

3- اذكر أهم أعمال عبدالرحمن بن محمد الثالث ( الناصر ) .

.....

.....

4- أذكر العوامل التي أدت إلى ضعف وسقوط الدولة الأموية في الأندلس .

.....

.....

5- بم تفسر انتشار النزاع بين المسلمين في الأندلس ؟

---

---

6- ما أسباب قيام الثورات الداخلية في بلاد الأندلس ؟

---

---

7- ما الخطوات التي قامت بها الممالك الإسبانية بهدف إخراج المسلمين من الأندلس ؟

---

---

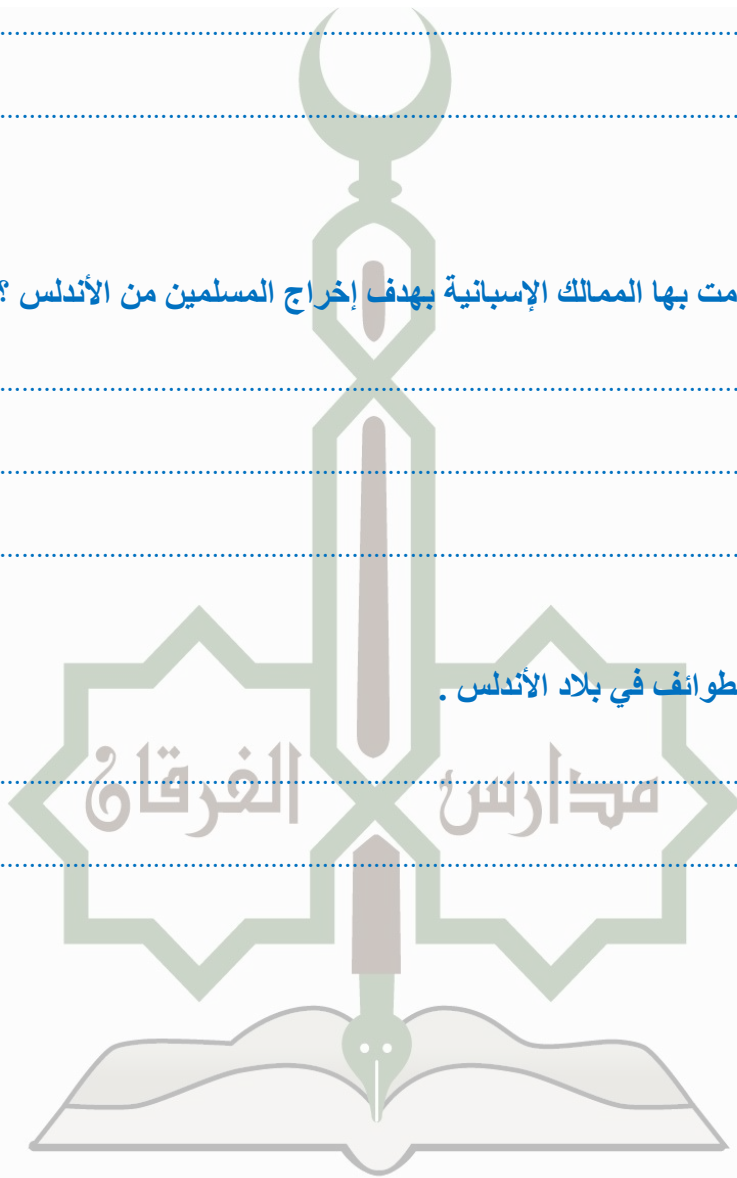
---

---

8- أذكر أشهر ممالك الطوائف في بلاد الأندلس .

---

---



السؤال الثالث أكمل الجمل الآتية بكلمات مناسبة :

1- يمثل عصر ..... قمة العصر الذهبي للدولة الأموية بالأندلس

2- يشغل مكان بلاد الأندلس حالياً دولتي ..... و .....

3- من أهم المعارك التي حدثت في عصر الولاة معركة .....

4- سقطت الخلافة الأموية في الأندلس عام .....

5- سقطت مملكة غرناطة وانتهى حكم المسلمين في الأندلس عام .....

السؤال الرابع : رتب حكام الدولة الأموية في الأندلس حسب الخط الزمني التالي :

..... / ..... / .....  
138 هـ - 172 هـ      190 هـ - 206 هـ      300 هـ / 350 هـ      366 هـ / 399 هـ



( الوحدة الثالثة )

السؤال الأول: اختر الإجابة الصحيحة بوضع علامة × في المربع المقابل لها:-

نظام الحكم في دولة قطر :

1

ملكي

برلماني

جمهوري

أميري وراثي

تم اعتماد العلم القطري وانضمام قطر للأمم المتحدة عام :

2

1970 م

1971 م

1972 م

1973 م

يطلق على علم دولة قطر اسم :

3

الأدعم

الأبيض

المتقدم

المرتفع

يتولى السلطة التشريعية في دولة قطر :

4

المحاكم

المنجلس البلدي

مجلس الشورى

مجلس الأئمة

مجلس الشورى

يبلغ عدد أعضاء مجلس الشورى في دولة قطر :

5

35

40

45

50

مدة انعقاد مجلس الشورى في دولة قطر:

6

سنة

سنتان

ثلاث سنوات

أربع سنوات

يمثل السلطة التنفيذية في دولة قطر الأمير ويعاونه :

7

مجلس الوزراء

مجلس الشورى

أعضاء الصندوق السيادي

اللجنة الوطنية لحقوق الإنسان

تأسس المجلس الأعلى للقضاء في دولة قطر عام :

8

1996 م

1997 م

1998 م

1999 م

**السؤال الثاني أجب عن الأسئلة الآتية :**

1- أذكر اختصاصات أمير البلاد في دولة قطر .

---

---

---

2- أذكر اختصاصات السلطة التشريعية ( مجلس الشورى ) في دولة قطر .

---

---

---

3- أذكر اختصاصات السلطة التنفيذية ( مجلس الوزراء ) في دولة قطر .

---

---

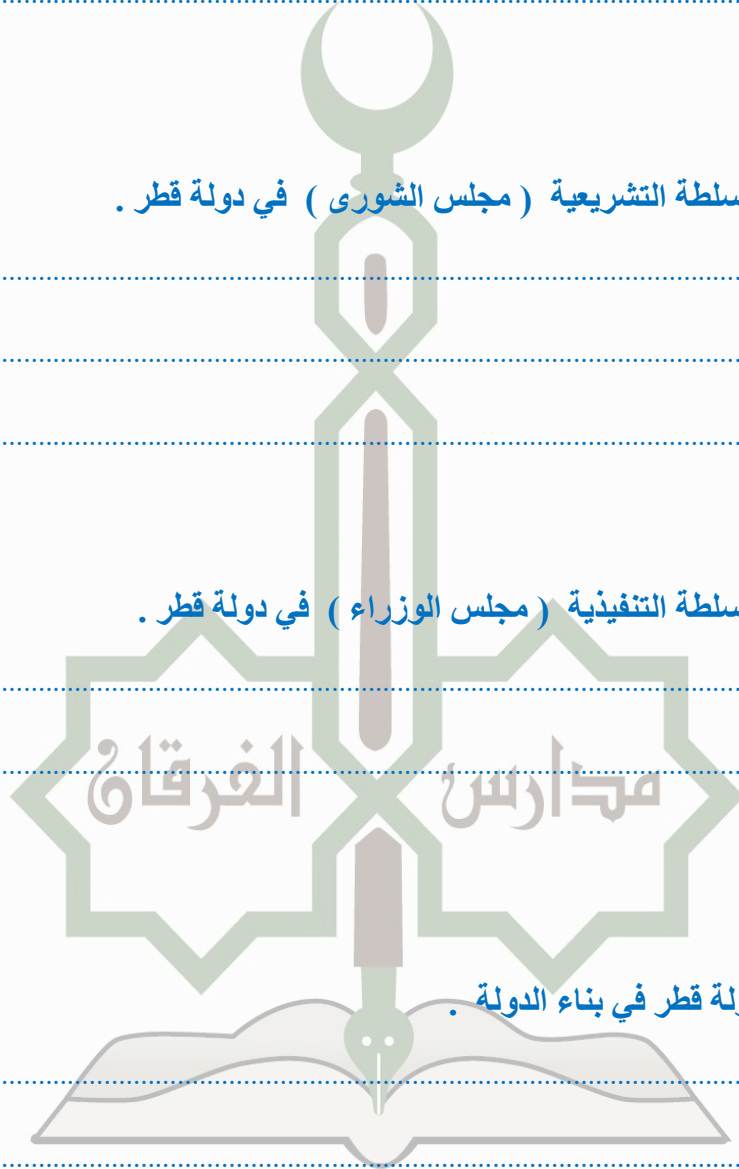
---

4- أذكر جهود قيادة دولة قطر في بناء الدولة .

---

---

---




2-أذكر مدلول مكونات الشعار الرسمي لدولة قطر حسب الشكل الذي أمامك .



1- النخيل يرمز إلى : .....

2- السيف يرمز إلى : .....

1- أذكر مكونات علم دولة قطر مع تفسير مدلولاتها حسب الشكل الذي أمامك .



1- .....

2- .....

3- .....

## ( الوحدة الرابعة )

السؤال الأول : اختر الإجابة الصحيحة بوضع علامة  في المربع المقابل لها:-

1 " كل ما يحيط بالإنسان من مكونات حية ومكونات غير حية " يشير هذا التعريف إلى :

البيئة

إعادة التدوير

الغلاف الجوي

المجموعة الشمسية

2 إعادة تصنيع واستخدام المخلفات ( المنزلية - الصناعية - الزراعية ) يشير هذا التعريف إلى :

التعدين

التدوير

الصناعة

الأسمدة

3 تحدث ظاهرة زحف الرمال في المناطق :

القطبية

الجبلية

الساحلية

الصحراوية

4 يحدث انجراف التربة بسبب :

الصناعة

النقل على الكثافة

تفتت الصخور بفعل الحرارة

التفتت بفعل الرياح

التفتت بفعل المياه

" تحول الأرض الصالحة للزراعة إلى صحراء أو شبه صحراء " يعد هذا مفهوم :

5

التلوث

التصحّر

التدوير

الرعي الجائر

من الأسباب الطبيعية للتصحّر :

6

زحف الرمال

الرعي الجائر

الزحف العمراني

قطع الأشجار وإزالة الغابات

من الآثار المترتبة على التصحّر :

7

التغير المناخي

حدوث المجاعات

سقوط الأمطار الحمضية

انخفاض مستوى المياه الجوفية

من وسائل مكافحة التصحّر :

8

وقف الرعي الجائر

وقف قطع الأشجار

وقف الزحف العمراني على الأرض الزراعية

كل ما سبق صحيح



السؤال الثاني عرف المفاهيم الآتية .

1- البيئة :

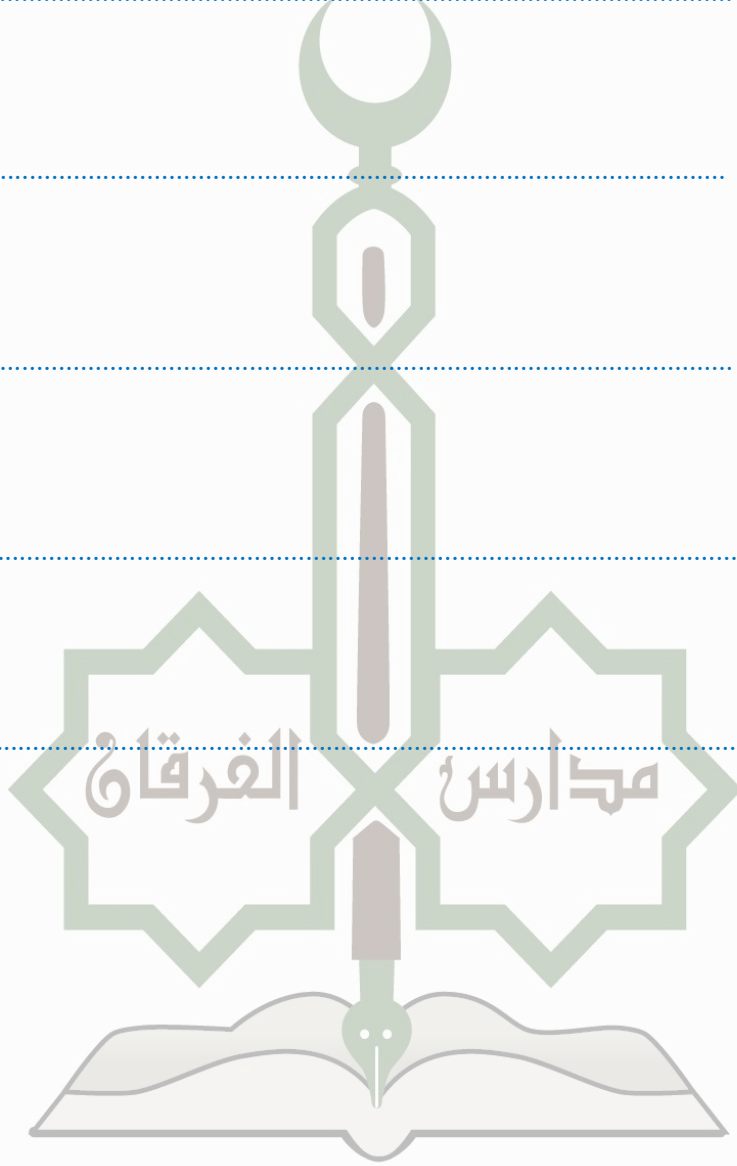
2- استنزاف الموارد :

3- التنمية المستدامة :

4- ترشيد الاستهلاك :

5- التدوير :

6- التصحر :



السؤال الثالث : أجب عن الأسئلة الآتية .

1- ما أسباب استنزاف الموارد الطبيعية ؟

-1

-2

2- وضح أهداف التنمية المستدامة .

-1

-2


-3

3- وضح طرق تحقيق التنمية المستدامة .

-1

-2

-3



4- وضح جهود دولة قطر لتحقيق التنمية المستدامة .

-1

-2

-3

5- ما الآثار المترتبة على التصحر؟

-1

-2


6- ما وسائل مكافحة التصحر؟

-1

-2

-3

-4



7- قارن بين الموارد الطبيعية المتجددة وغير المتجددة حسب الجدول الآتي :

الموارد الطبيعية غير المتجددة	الموارد الطبيعية المتجددة
.....1	.....1
.....-1	.....2
.....-3	.....-3

8- قارن بين الأسباب الطبيعية والأسباب البشرية للتصحر حسب الجدول الآتي :

الأسباب البشرية للتصحر	الأسباب الطبيعية للتصحر
.....1	.....1
.....-2	.....2
.....-3	.....-3

## ( الوحدة الخامسة )

السؤال الأول: اختر الإجابة الصحيحة بوضع علامة × في المربع المقابل لها:-

1 تحول الحكم في الخلافة الأموية من الشورى للوراثة في عهد :

عمر بن عبدالعزيز

الوليد بن عبدالمك

معاوية بن أبي سفيان

يزيد بن معاوية بن أبي سفيان

2 أشهر كتاب الدولة الأموية :

سيبويه

ابن كثير

محمد بن عاصم

عبدالحميد الكاتب

3 الخليفة الأموي الذي قام بتعريب الدواوين :

عمر بن عبدالعزيز

الوليد بن عبدالمك

معاوية بن أبي سفيان

عبدالمك بن مروان

4 الديوان الذي يتولى جمع الضرائب المفروضة على الأراضي الزراعية :

الجند

القتل البحري

القتل الخيوي

القتل بالأموي

القتل بالأموي

القتل بالأموي

القتل البحري

الديوان الذي يعرف بديوان الإنشاء :

5

الجند

القوات البحرية

القوات الأهلية

القوات المسلحة

القوات الجوية

أول من قام بسك العملة الإسلامية الخليفة الأموي :

6

عمر بن عبدالعزيز  
السنوسي البحري

الوليد بن عبد الملك

معاوية بن أبي سفيان

عبد الملك بن مروان

من عناصر المجتمع الإسلامي قاموا بنشر الإسلام وكان لهم السيطرة داخل الدولة الأموية :

7

العرب

أهل الذمة

غير العرب

المهاجرين الأفارقة

" غير المسلمين الذين يعيشون داخل الدولة الإسلامية " يشير هذا التعريف إلى مفهوم :

8

العرب

الملايين

أهل الذمة

غير العرب



السؤال الثاني: ( أ ) أجب عن الأسئلة الآتية.

1- أذكر عوامل ازدهار الحضارة الإسلامية .

- ..... -1  
..... -2  
..... -3

2- أذكر أهم الدواوين في عهد الدولة الأموية .

- ..... -1  
..... -2  
..... -3  
..... -4

3- وضح أسباب ازدهار الصناعة في الدولة الأموية .

- ..... 1  
..... 2  
..... 3

4- وضح أسباب ازدهار التجارة في الدولة الأموية .

- ..... 1  
..... 2  
..... 3

5- أذكر مكونات المجتمع الإسلامي في الدولة الأموية .

- 1.....
- 2.....
- 3.....

6- وضح أثر الحضارة الإسلامية على أوروبا .

- 1.....
- 2.....
- 3.....
- 4.....

**السؤال الثاني : ( ب ) أكمل الجمل الآتية بكلمات مناسبة .**

- 1- يقصد بالحضارة الإسلامية كل ما تم إنجازه على يد ..... في جميع المجالات
- 2- امتدت الحضارة الإسلامية من ..... شرقاً إلى بلاد ..... غرباً
- 3- أطلق على منصب الكاتب لقب كاتب ..... وكاتب
- 4- تم إنشاء ديوان الخاتم حتى لا تتعرض رسائل الخليفة ل.....
- 5- بلغ عدد سفن الأسطول الإسلامي ..... سفينة ونتج عن ذلك فتح معظم جزر البحر المتوسط
- 6- تم إنشاء الجيش الأموي في بلاد الأندلس على يد .....
- 7- من أشهر نساء الدولة الأموية في قول الشعر .....
- 8- يقصد بغير العرب المسلمين مثل ..... و .....
- 9- قام ..... بنشر الإسلام وكانت لهم السيطرة داخل الدولة الأموية
- 10- من أسباب اهتمام الأمويين بالزراعة لأن الاهتمام بالزراعة يؤدي إلى زيادة .....

السؤال الثالث : قم بإكمال مكان الفراغات حسب الجداول الآتية :

1- أذكر اختصاصات الدواوين في عصر الدولة الأموية حسب الجدول التالي :

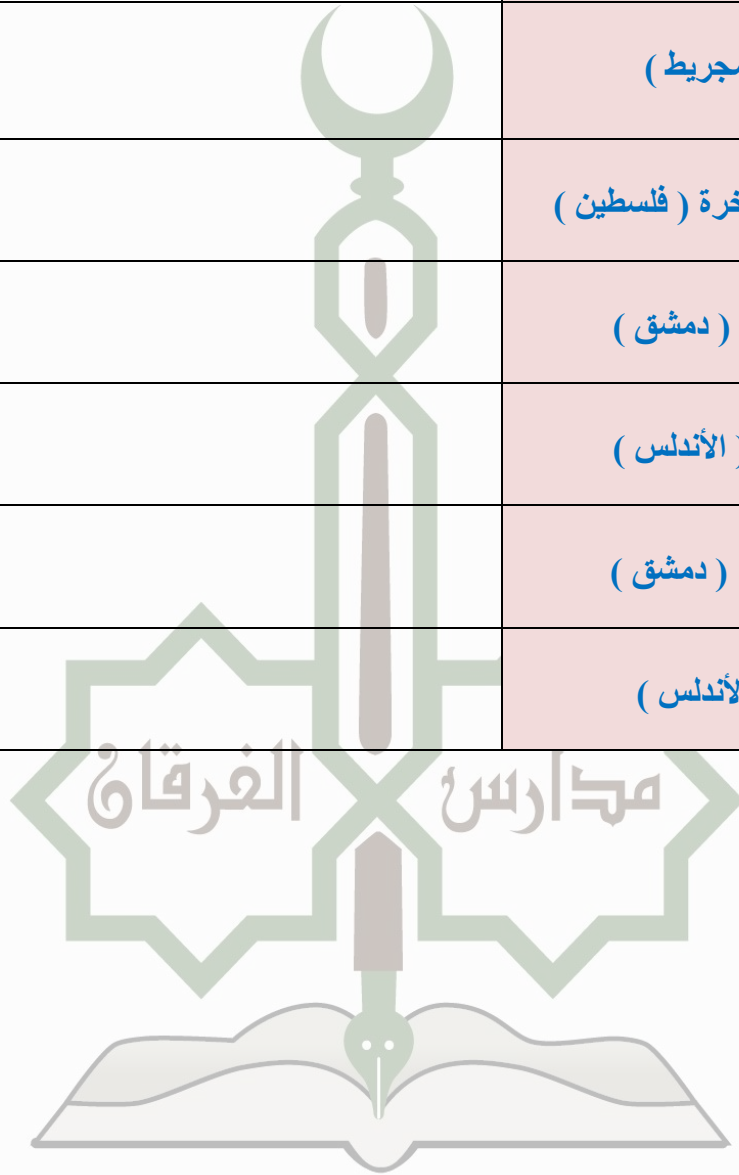
الديوان	اختصاصاته
1- الخراج	
2- الجند	
3- الرسائل	
4- الخاتم	

2- أذكر أشهر علماء المسلمين في العلوم الآتية حسب الجدول التالي :

العلم	أشهر العلماء
1- اللغة العربية	
2- الشعر	
3- الفقه	
4- الحديث	
5- الطب	

3- أذكر من قام بالإنجازات العمرانية الآتية في عصر الدولة الأموية حسب الجدول التالي :

من قام بها	الإنجازات العمرانية
	1- مدينة القيروان
	2- مدينة مدريد ( مجريط )
	3- مسجد قبة الصخرة ( فلسطين )
	4- المسجد الأموي ( دمشق )
	5- مسجد قرطبة ( الأندلس )
	6- قصر الخضراء ( دمشق )
	7- قصر قرطبة ( الأندلس )



## ( الوحدة السادسة )

السؤال الأول: اختر الإجابة الصحيحة بوضع علامة × في المربع المقابل لها:-

أصدرت الأمم المتحدة الإعلان العالمي لحقوق الإنسان عام :

1

1946 م

1947 م

1948 م

1949 م

"مجموع الحقوق والحريات المستحقة لكل شخص لمجرد كونه إنسان دون تمييز" يعد هذا تعريف مفهوم :

2

القانون

الدستور

القوانين الدولية

حقوق الإنسان

يبلغ عدد أعضاء اللجنة الوطنية لحقوق الإنسان بدولة قطر :

3

ممارس الفرقاء

3

4

5

6

تم إنشاء اللجنة الوطنية لحقوق الإنسان في دولة قطر عام :

4

2002 م

2003 بحري

2004 بحري

2005 بحري

2006 بحري

2007 بحري

السؤال الثاني : ( أ ) أجب عن الأسئلة الآتية .

1- عدد أنواع حقوق الإنسان مع ذكر أمثلة لها .

.....-1

.....-2

.....-3

2- أذكر مصادر حقوق الإنسان .

.....-1

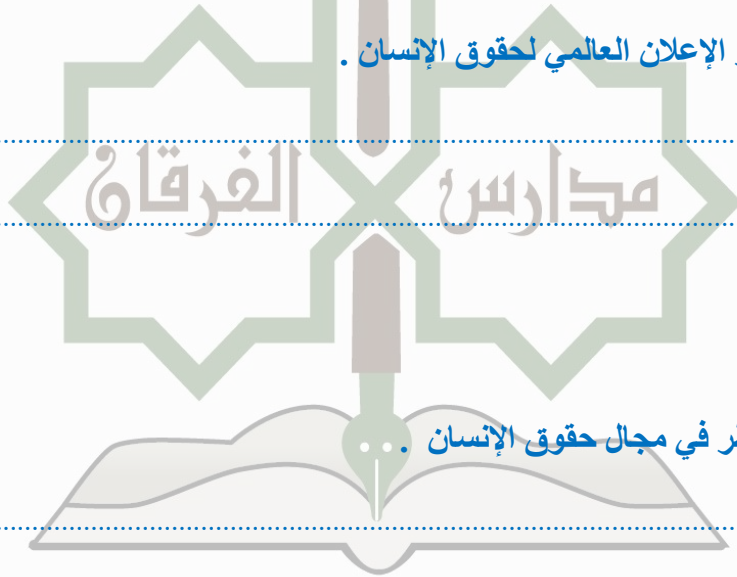
.....-2

.....-3

3- وضح أسباب صدور الإعلان العالمي لحقوق الإنسان .

.....-1

.....-2



4- أذكر جهود دولة قطر في مجال حقوق الإنسان .

.....-1

.....-2

.....-3

.....-4

5- ما أهداف اللجنة الوطنية لحقوق الإنسان في دولة قطر؟

- 1 .....
- 2 .....
- 3 .....
- 4 .....

6- وضح اختصاصات اللجنة الوطنية لحقوق الإنسان في دولة قطر .

- 1 .....
- 2 .....
- 3 .....
- 4 .....

السؤال الثاني : ( ب ) صنف المفاهيم الآتية حسب الجدول التالي :

( حقوق اقتصادية - حقوق مدنية وسياسية - حقوق اجتماعية )

الحق في العمل والتملك	الحق في التعليم والصحة	حرية الرأي والتعبير

افنت الأسئلة مع أطيب تمنياتي لجميع طلابي بالنجاح والشوق .