

## شكراً لتحميلك هذا الملف من موقع المناهج القطرية



## تدريبات اثرائية منتصف الفصل غير مجانية

[موقع المناهج](#) ← [المناهج القطرية](#) ← [المستوى السادس](#) ← [اجتماعيات](#) ← [الفصل الثاني](#) ← [الملف](#)

تاريخ نشر الملف على موقع المناهج: 2024-02-12 21:58:41

## التواصل الاجتماعي بحسب المستوى السادس



## روابط مواد المستوى السادس على تلغرام

[الرياضيات](#)

[اللغة الانجليزية](#)

[اللغة العربية](#)

[التربية الاسلامية](#)

## المزيد من الملفات بحسب المستوى السادس والمادة اجتماعيات في الفصل الثاني

[تدريبات دعم وإثراء الفرقان منتصف الفصل مع الإجابة النموذجية](#)

1

[اوراق عمل منتصف الفصل مدرسة الأندلس مع الإجابة النموذجية](#)

2

[اوراق عمل منتصف الفصل مدرسة الأندلس غير مجانية](#)

3

[الاختبار التحصيلي نهاية الفصل](#)

4

[الاختبار التحصيلي نهاية الفصل](#)

5

## تدريبات الوحدة الأولى " جغرافيا " سادس

أجب عن جميع الأسئلة الآتية:

1 " نشاط بشري يقوم به الإنسان لسد احتياجاته الغذائية " يشير هذا التعريف لمفهوم .

أ الزراعة

ب التعدين

ج التجارة

د السياحة

2 - من العوامل الطبيعية لقيام الزراعة:

أ الأيدي العاملة

ب رأس المال

ج الأسواق

د موارد المياه العذبة

3 - في أي المناطق ينتشر الرعي التجاري ؟

أ الجبال

ب الصحاري

ج المناطق الحارة

د حشائش السافانا والاستبس

4 - الدولة الأولى في إنتاج الأبقار في العالم هي :

أ روسيا

ب الهند

ج البرازيل

د الصين

## تدريبات الوحدة الأولى " جغرافيا " سادس

5 - أي من مما يلي يعد من العوامل الطبيعية لقيام الصناعة ؟

أ الأيدي العاملة

ب رأس المال

ج السوق

د المواد الخام

6 - من أمثلة الصناعات الاستخراجية في العالم :

أ التعدين

ب الأسمنت

ج المنسوجات

د البتروكيماويات

7 - عملية الاهتمام بمجموعة متنقلة من الحيوانات في منطقة نباتية واسعة ، يشير هذا التعريف لمفهوم .

أ الرعي

ب الزراعة

ج التجارة

د الصناعة

8 - أي مما يأتي يعد من موارد المياه العذبة ؟

أ البحار

ب الأنهار

ج الخلجان

د المحيطات

## تدريبات الوحدة الأولى " جغرافيا " سادس

أجب عن الأسئلة الآتية :

9

بين أهمية الزراعة .

- 1-.....
- 2-.....
- 3-.....

صنف المحاصيل الآتية بحسب الجدول الذي يليها:

10

(القمح - الأرز - القطن - التفاح - قصب السكر - الموز - الذرة - الخيار - الشاي - البن - الفلفل).

محاصيل الخضراوات والفاكهة	محاصيل صناعية	محاصيل الحبوب الغذائية
..... ..... ..... .....	..... ..... ..... .....	..... ..... ..... .....

صنف عوامل قيام الصناعة بحسب الجدول

11

( مصادر الطاقة - الأيدي العاملة - وسائل النقل - المواد الخام - السوق - رأس المال )

العوامل البشرية	العوامل الطبيعية
..... ..... .....	..... ..... .....

**12- عدد المحاصيل الصناعية .**

- أ- .....
- ب- .....
- ج- .....
- د- .....

**13- وضح أهمية الزراعة .**

- أ- .....
- ب- .....
- ج- .....

**14- عدد التحديات التي تواجه الزراعة.**

- أ- .....
- ب- .....

**15- تنتشر الصناعات التحويلية في قارة ..... و .....**

**وتقل الصناعات التحويلية في قارة ..... و .....**

**16- عدد أهم الصناعات التحويلية في العالم .**

- أ- ..... ب- .....
- ج- ..... د- .....

## تدريبات الوحدة الأولى " جغرافيا " سادس

17- وضح أهمية الثروة الحيوانية .

- أ- .....
- ب- .....
- ج- .....

18- عدد أهم المشكلات التي تواجه حرفة صيد الأسماك .

- أ- .....
- ب- .....

19- اذكر أهم الصناعات التي تقوم على استخدام المواد الخام الحيوانية .

- أ- ..... ب- .....
- ج- ..... د- .....

20- عدد أهمية الثروة السمكية .

- أ- .....
- ب- .....
- ج- .....
- د- .....

## تدريبات الوحدة الثانية " تاريخ " سادس

أجب عن جميع الأسئلة الآتية:

بنى عبد الرحمن الداخل المسجد الجامع في مدينة:

1

قرطبة

أ

غرناطة

ب

الزهراء

ج

إشبيلية

د

بُنيت مكتبة قرطبة في عهد:

2

عبد الرحمن الداخل

أ

هشام بن عبد الرحمن

ب

عبد الرحمن الناصر

ج

المستنصر بن عبد الرحمن

د

سقطت الخلافة الأموية في الأندلس عام:

3

222هـ

أ

322هـ

ب

422هـ

ج

522هـ

د

تم فتح الأندلس في عصر:

4

الخلافة الراشدة

أ

الأمويين

ب

العباسيين

ج

العثمانيين

د

## تدريبات الوحدة الثانية " تاريخ " سادس

بلغت للدولة الأموية في الأندلس عصرها الذهبي في عهد:

5

عبد الرحمن الداخل

أ

عبد الرحمن الناصر

ب

الحكم المستنصر

ج

المنصور بن عامر

د

بلغ عدد دويلات ملوك الطوائف حوالي:

6

20 دويلة

أ

30 دويلة

ب

40 دويلة

ج

50 دويلة

د

كانت آخر معاقل المسلمين في الأندلس مملكة:

7

قرطبة

أ

غرناطة

ب

طليطلة

ج

إشبيلية

د

انتهى الوجود الإسلامي في الأندلس عام:

8

222هـ

أ

422هـ

ب

520هـ

ج

897هـ

د



## تدريبات الوحدة الثانية " تاريخ " سادس

القائد المسلم الذي فتح الأندلس هو:

9

عقبة بن نافع

أ

طارق بن زياد

ب

قتيبة بن مسلم

ج

محمد بن قاسم

د

انتصر المسلمون على القوط في معركة:

10

مؤتة

أ

نهاوند

ب

اليرموك

ج

وادي لكة

د

استمرت فترة حكم المسلمين للأندلس:

11

600 سنة

أ

700 سنة

ب

800 سنة

ج

900 سنة

د

من اشهر المعارك التي قادها عبدالرحمن الغافقي معركة :

12

العقاب

أ

الزلاقة

ب

وادي لكة

ج

بلاط الشهداء

د

## تدريبات الوحدة الثانية " تاريخ " سادس

13- ما العوامل التي أدت إلى ضعف الدولة الأموية في الأندلس وسقوطها:

-1 -3

-2 -4

14- اذكر أعمال عبد الرحمن بن معاوية ( الداخل )

أ-

ب-

ج-

15- عدّد أعمال عبد الرحمن الناصر.

أ-

ب-

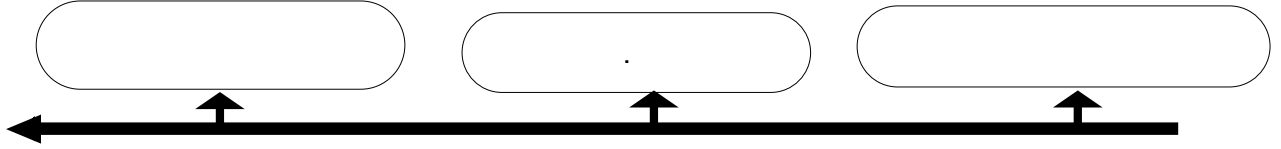
ج-

16- عدّد أهم دويلات ملوك الطوائف.

## تدريبات الوحدة الثانية " تاريخ " سادس

17- رتب حكام الدولة الأموية في الأندلس من الأقدم للأحدث:

عبد الرحمن بن معاوية (الداخل) - الحكم المستنصر - عبدالرحمن بن محمد (الناصر)



18- ما النتائج المترتبة على معركة وادي لكة ؟

- أ-.....  
ب-.....

19- ما نتائج انقسام الأندلس إلى دويلات الطوائف؟

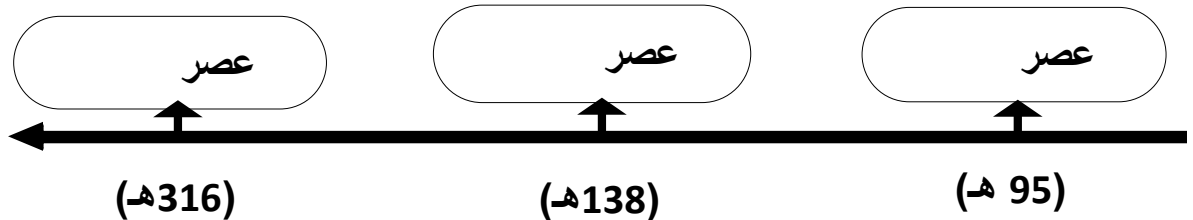
.....

20- ما أسباب قيام الثورات الداخلية في بلاد الأندلس؟

- أ-.....  
ب-.....

21- رتب عصور التاريخ الاسلامي في الأندلس على الخط الزمني من الأقدم إلى الأحدث:

( عصر الإمارة - عصر الولاة - عصر الخلافة )



# تدريبات الوحدة الثالثة " مواطنة " الصف السادس

أجب عن جميع الأسئلة الآتية:

1 - يعد نظام الحكم في دولة قطر نظاماً :

- أ - ملكياً
- ب - رئاسياً
- ج - أميرياً
- د - جمهورياً

2 - يطلق على علم دولة قطر اسم :

- أ - الأرجواني
- ب - الأبيض
- ج - الأحمر
- د - الأدم

3 - يتولى السلطة التشريعية في دولة قطر مجلس :

- أ - الوزراء
- ب - الشورى
- ج - الأمة
- د - الوطني

4 - مجلس الوزراء في دولة قطر يمثل السلطة :

- أ - القضائية
- ب - التشريعية
- ج - التنفيذية
- د - سلطة خاصة

## تدريبات الوحدة الثالثة " مواطنة " سادس

5 - تأسس المجلس الأعلى للقضاء عام :

أ - 1999م

ب - 2000م

ج - 2001م

د - 2002م

6 - من وظائف الدستور القطري الدائم:

أ. تنظيم عمل البلديات.

ب. تنظيم حركة المرور.

ج. تنظيم السلطات بالدولة.

د. المحافظة على نظافة البيئة

7 - تم اعتماد العلم القطري الحالي عام :

أ - 1961م

ب - 1971م

ج - 1981م

د - 1991م

8 - يرمز اللون الغنابي إلى بيرق الشيخ :

أ. محمد بن ثاني

ب. جاسم بن محمد بن ثاني

ج. علي بن عبدالله آل ثاني

د. أحمد بن علي آل ثاني

## تدريبات الوحدة الثالثة " مواطنة " الصف السادس

9 - اذكر أهم اختصاصات الأمير في دولة قطر ؟

- أ-
- ب-
- ج-
- د-

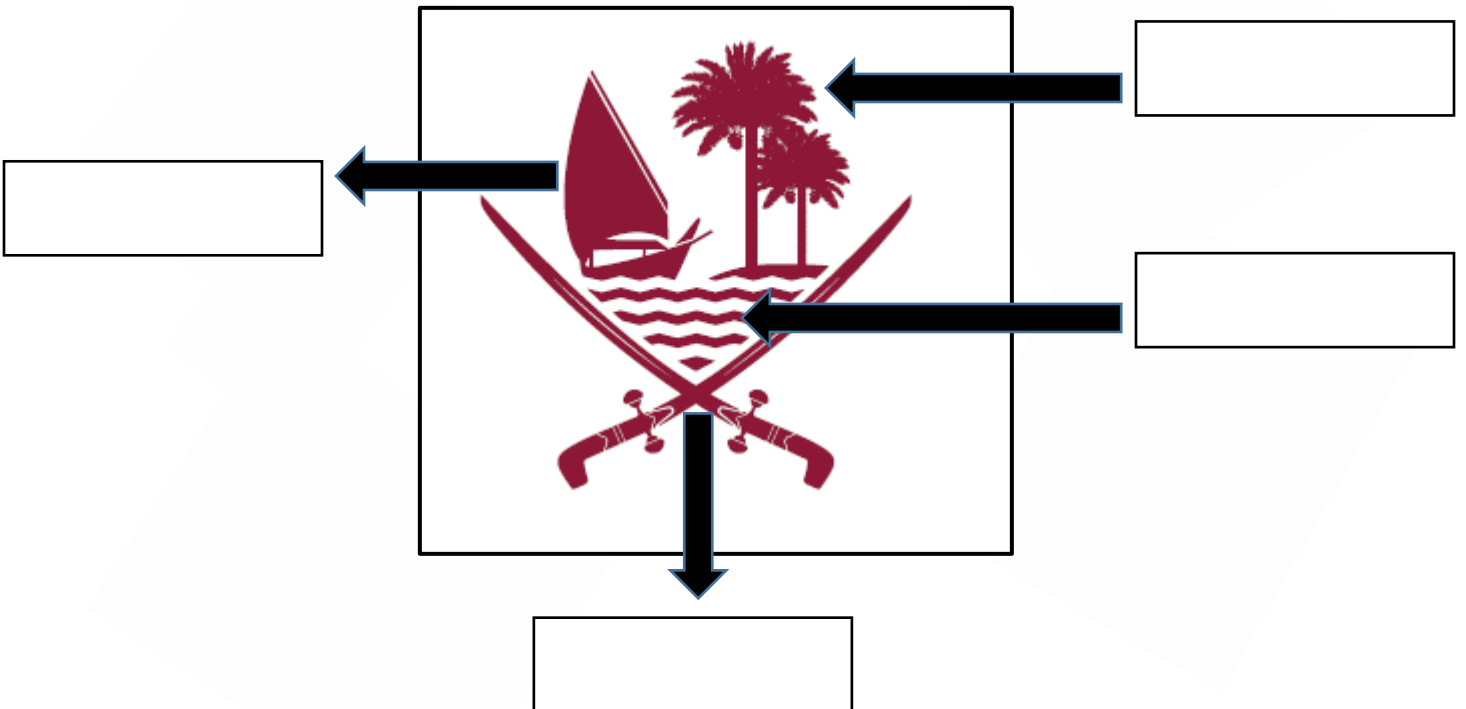
10- عدد السلطات الدستورية في دولة قطر .

السلطة	السلطة	السلطة
--------	--------	--------

11- نظام الحكم في قطر.

- أ- قطر دولة : .....
- ب- دينها : .....
- ج- نظام الحكم : .....


12- اذكر مكونات شعار دولة قطر .



## تدريبات الوحدة الثالثة " مواطنة " الصف السادس

### مدلول العَلَم القطري

-13



اللون الأبيض يرمز إلى.....

الرؤوس التسعة ترمز إلى.....

اللون العنابي يرمز إلى.....

14- ما أهم اختصاصات السلطة التشريعية؟

أ-

ب-

ج-

15- اذكر أهم مجهودات قيادة دولة قطر لبناء الدولة وتثبيت أركانها .

أ-

ب-

ج-

انتهت الأسئلة