


شكراً لتحميلك هذا الملف من موقع المناهج القطرية



اوراق عمل نهاية الفصل غير مجابة مدرسة صلاح الدين

[موقع المناهج](#) ← [المناهج القطرية](#) ← [المستوى السابع](#) ← [اجتماعيات](#) ← [الفصل الأول](#) ← [الملف](#)

تاريخ نشر الملف على موقع المناهج: 10-12-2023 12:50:49 | اسم المدرس: مدرسة صلاح الدين

التواصل الاجتماعي بحسب المستوى السابع



روابط مواد المستوى السابع على تلغرام

[الرياضيات](#)

[اللغة الانجليزية](#)

[اللغة العربية](#)

[التربية الاسلامية](#)

المزيد من الملفات بحسب المستوى السابع والمادة اجتماعيات في الفصل الأول

اوراق عمل نهاية الفصل غير مجابة مدرسة الأندلس	1
اوراق عمل نهاية الفصل غير مجابة	2
اوراق عمل نهاية الفصل مجابة مدرسة مسييد	3
اوراق عمل نهاية الفصل غير مجابة مدرسة مسييد	4
اختبار وتدريبات نهاية الفصل	5

أوراق عمل وتدريبات إثرائية لمادة الدراسات الاجتماعية

الصف السابع ()

اسم الطالب.....

أولاً : الأسئلة الموضوعية (الجغرافيا) الوحدة الأولى – الأرض من حولي

السؤال الأول :- اختر الإجابة الصحيحة من بين البدائل الآتية :

1- الرياح المحلية التي تهب على دولة قطر:

- أ- الكوس ب- الطوز ج- المسترال د- السموم

2- منطقة حرارية تمتد بين دائرتي عرض 66,5 – 90 شمالاً و جنوباً :

- أ- الباردة ب- الحارة ج- المعتدلة الباردة د- المعتدلة الحارة

3- يرتفع الضغط الجوي عند المنطقة القطبية بسبب:

- أ- انخفاض درجة الحرارة ب- هبوب الرياح ج- زيادة نسبة الرطوبة د- سقوط الامطار

4- " حالة الجو خلال فترة زمنية قصيرة " تشير العبارة السابقة الى مفهوم : :

- أ – المناخ ب- الرطوبة ج- الطقس د- التكتائف

5- رياح تهب بانتظام طوال العام من المناطق الضغط المرتفع إلى مناطق الضغط المنخفض :

- أ- اليومية ب- الدائمة ج- المحلية د- الموسمية

6- من مظاهر التكاثف البعيدة عن سطح الأرض .

أ- الندى ب- الضباب ج- الصقيع د- السحب

7- "منطقة متشابهة في خصائصها المناخية من حيث الحرارة و الأمطار و الرياح و الرطوبة و متميزه عن غيرها من الأقاليم المجاورة " يشير المفهوم السابق الى :

أ- التيارات البحرية ب- الأقاليم المناخية ج- القارات القطبية د- المناطق الحرارية

ثانياً : الأسئلة المقالية (الجغرافيا) الوحدة الأولى – الأرض من حولي :

(1) اذكر عناصر المناخ .

أ
ب
ج

(2) عدد ثلاثاً من المناطق الحرارية على سطح الكرة الأرضية .

أ
ب
ج

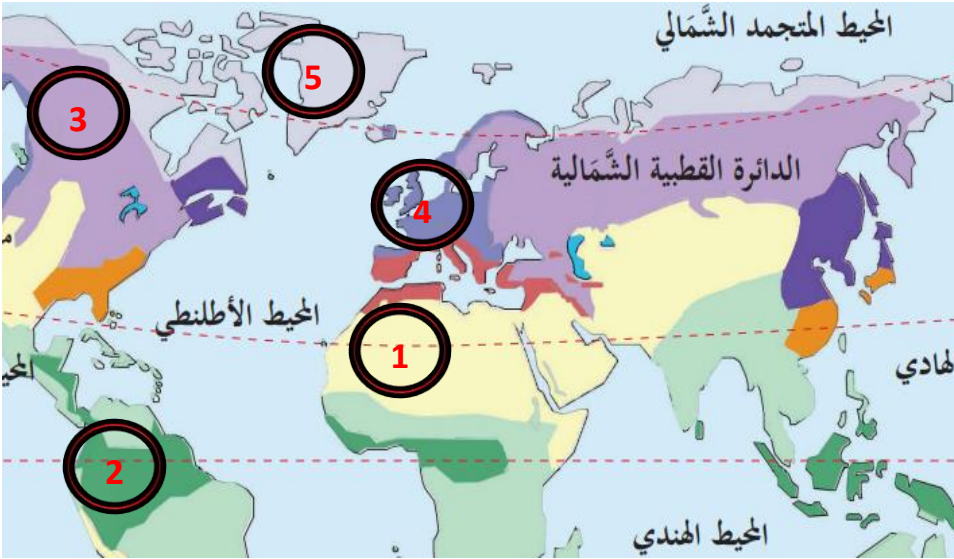
(3) اذكر أسباب اختلاف الضغط الجوي من منطقة لأخرى على سطح الأرض .

أ
ب
ج

(4) عدد مظاهر التكاثف؟

- أ- القريبة من سطح الأرض :-
ب- البعيدة عن سطح الأرض :-

(5) بالنظر الى خريطة العالم الأقاليم المناخية الظاهرة امامك اكتب مدلول الأرقام التالية .



- 1.....
2.....
3.....
4.....
5.....

أولا : الأسئلة الموضوعية (التاريخ) الوحدة الثانية – حضارات بلاد الرافدين .

1- ثبت دعائم دولته على ركائز متينة من خلال التشريعات والقوانين :

- أ- سرجون الأول ب- آشور بانبيال ج- حمورابي د- نبوخذ نصر

2- أول شعوب حضارة بلاد الرافدين عرفوا الكتابة .

- أ- الأكاديون ب- البابليون ج- الآشوريون د- السومريون

3- يعد من اشهر ملوك الدولة السومرية وسن القوانين والأنظمة .

- أ- اورنمو ب- نبوخذ نصر ج- سرجون الأول د- آشوربانيبال

4- مصطلح يطلق على الأرض التي تقع بين أكثر من نهر وتحديدًا المنطقة الواقعة بين نهري دجلة والفرات .

- أ- بلاد الفراعنة ب- بلاد فارس ج- بلاد الاغريق د- بلاد الرافدين

5- أي مما يلي يمثل الطبقة الدنيا في مجتمع حضارة بلاد الرافدين :

- أ- العمال والفلاحون ب- الملك والكهنة ج- أسرى الحرب د- ملاك الأراضي وكبار التجار

6- دونّ سكان بلاد الرافدين الوثائق الرسمية والعقود على الواح .

- أ- خشبية ب- طينية ج- زجاجية د- معدنية

ثانياً: الأسئلة المقالية (التاريخ) الوحدة الثانية – حضارات بلاد الرافدين .

1- اذكر العوامل التي ساعدت على قيام حضارات بلاد الرافدين .

- أ.....
ب.....
ج.....

2- اذكر ثلاث مدن حضارية في حضارة بلاد الرافدين .

- أ.....
ب.....
ج.....

3- اذكر بعض المحاصيل الزراعية التي اشتهرت في بلاد الرافدين :

- أ-
- ب-
- ج-
- د-

4- بم تفسر كل مايلي :

أ- تسمية بلاد الرافدين بهذا الاسم .

ب- يعد الملك أورنمو من أشهر ملوك الدولة السومرية .

5- اذكر أسباب سقوط الدولة الاشورية في نهاية القرن السابع قبل الميلاد :

- أ-
- ب-

6- قارن بين فئات الطبقات في المجتمع بلاد الرافدين من حيث (فئات السكان) :

فئات السكان	الطبقة
.....	الطبقة العليا
.....	الطبقة الوسطى
.....	الطبقة الدنيا

أولاً : الأسئلة الموضوعية (المواطنه) الوحدة الثالثة – السلطات الدستورية .

1- يتولى أمير البلاد السلطة التنفيذية ويعاونه :

أ-مجلس الوزراء ب- مجلس الشورى ج- المجلس القضائي د- المجلس البلدي

2- عدد أعضاء مجلس الشورى في دولة قطر .

أ- 25 عضو ب- 35 عضو ج- 45 عضو د- 55 عضو

3- " مجموعة القواعد الأساسية التي تحدد شكل الدولة ، وترسم نظام الحكم فيها والسلطات العامة " تشير
العبارة السابقة الى تعريف :

أ- السلطة ب- الدستور ج- القوانين د- الصلاحيات

ثانياً: الأسئلة المقالية (المواطنه) الوحدة الثالثة – السلطات الدستورية .

1- اذكر أركان الدولة .

أ.....

ب.....

ج.....

2- عدد اختصاصات السلطة التشريعية

أ.....

ب.....

ج.....

3-قارن بين السلطات الدستورية التالية من حيث الاختصاص لكل من السلطة التشريعية والسلطة القضائية .

وجه المقارنة	السلطة التشريعية	السلطة القضائية
الاختصاصات لكل منهما	ا-	أ-.....

	ب-.....	ب-.....

أولا : الأسئلة الموضوعية (الجغرافيا) الوحدة الرابعة – التوزيع الجغرافي للسكان .

1- أكثر قارات العالم من حيث عدد السكان .

أ- آسيا ب- إفريقيا ج- أوروبا د- أمريكا الشمالية

2- من العوامل الطبيعية المؤثرة في توزيع السكان .

أ- الثروات المعدنية ب- النقل والمواصلات ج- الزراعة د- الأحداث السياسية

3- يرجع سبب قلة إعداد السكان في الأجزاء الشمالية و الجنوبية من الكرة الأرضية إلى :

أ- شدة البرودة ب- وعورة السطح ج- الطقس الحار د- سقوط الامطار

4- الحرفة التي لا تحتاج لأعداد كبيرة من السكان :

أ- الزراعة ب- الصناعة ج- التجارة د- الرعي

ثانيا: الأسئلة المقالية (الجغرافيا) الوحدة الرابعة – التوزيع الجغرافي للسكان .

1- عدد العوامل الطبيعية المؤثرة في توزيع السكان .

أ-

ب-

ت-

2- فسر لماذا تعد السهول من أنسب و أفضل المناطق الطبيعية تركز للسكان عليها .

أ-

ب-

ت-

3- عدد العوامل البشرية المؤثرة في توزيع السكان .

أ-

ب-

ت-

4- تعد المناطق الجبلية غير جاذبة للسكان وذلك بسبب .

أ-

ب-

ج-

أولاً : الأسئلة الموضوعية (التاريخ) الوحدة الخامسة – الخلافة العباسية .

1- أول خلفاء الدولة العباسية الخليفة :

أ- الأمين ب- المأمون ج- أبو العباس د- هارون الرشيد

2- أنشأ الخليفة المعتصم بالله مدينة :

أ- دمشق ب- خراسان ج- بغداد د- سر من رأى

3- بدأ منصب الخلافة العباسية يضعف مع وفاة الخليفة :

أ- المعتصم ب- الواثق ج- المأمون د- المهدي

4- فتحت عمورية عام 223هـ على يد الخليفة :

أ- المأمون ب- المنصور ج- المعتصم د- الواثق

ثانياً: الأسئلة المقالية (التاريخ) الوحدة الخامسة – الخلافة العباسية .

1- عدد سمات العصر العباسي الأول :

أ-

ب-

ت-

2- عدد أعمال الخليفة أبو جعفر المنصور:

أ-

ب-

ج-

3- برهن بالأدلة على أهم أعمال الخليفة العباسي المأمون التي أدت إلى النهوض بالحياة العلمية والثقافية :

- أ-
- ب-.....
- ج-.....
- د-.....

4- عدد مظاهر ضعف الدولة العباسية في العصر العباسي الثاني :

- أ.....
- ب.....
- ج.....

5- وضح الأسباب التي أدت إلى سقوط الدولة العباسية:

- أ-.....
- ب-.....
- ج-.....
- ت-.....

6- وضح العوامل التي أدت إلى فتح مدينة عمورية .

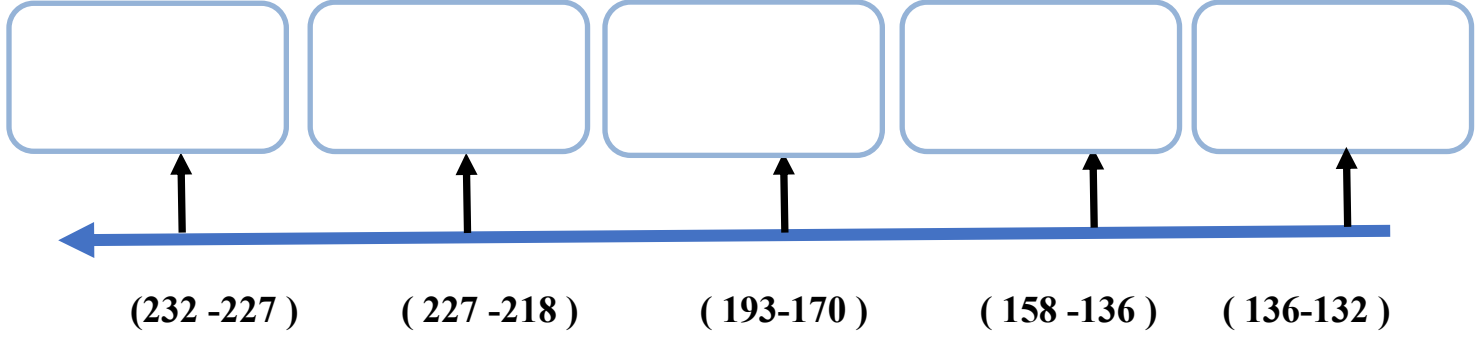
- أ.....
- ب-.....

7- عدد الإجراءات التي قاموا بها الخلفاء العباسيون لحماية دولتهم :

- أ-.....
- ب-.....

8- من خلال الخط الزمني التالي رتب الخلفاء العباسيين من الاقدم إلى الأحدث ترتيباً تصاعدياً

(هارون الرشيد - أبو العباس - المعتصم - أبو جعفر المنصور - الواثق) :



أولاً : الأسئلة الموضوعية (المواطنة) الوحدة السادسة - الأمن الوطني.

1- أي مما يلي يعد من أهداف الأمن العسكري:

أ- قدرة الدولة الدفاعية ب- الاكتفاء الذاتي ج- الحماية من عوامل الفوضى د- إيجاد أسواق متعددة

2- " قدرة الدولة على حماية أرضيها وشعبها من أي عدوان خارجي والقدرة على التصدي لكل مشاكل الداخلية " المفهوم السابق يشير إلى :

أ- الأمن السياسي ب- الأمن القومي ج- الأمن الوطني د- الأمن الاقتصادي

3- تمثلت أهداف الأمن الاقتصادي في الدولة بوحدة مما يلي :

أ- الاستغلال الأمثل للموارد ب- حماية امن الدولة ج- تحقيق النمو والتطور د- الولاء والانتماء

4- واحدة من التالي تعتبر من مهام قوات الأمن القطرية ممثلة (بالشرطة و الفرعة) :

أ- تقديم المساعدة لمن يحتاجها ب- الاكتفاء الذاتي ج- التطور والرفاهية د- الاعتزاز بالهوية الوطنية

5- حماية البيانات والأفراد والشركات من عدم الاختراق تعد من مهام الامن :

أ- السياسي ب- الوطني ج- الاقتصادي د- السيبراني

ثانيا: الأسئلة المقالية (المواطنة) الوحدة السادسة – الأمن الوطني .

1- عدد أبعاد الأمن الوطني :

- أ-
- ب-
- ج-
- د-

2- وضح أبعاد الامن الاجتماعى :

- أ-
- ب-
- ج-

3- وضح أبعاد الأمن السياسى :

- أ
- ب
- ج