

شكراً لتحميلك هذا الملف من موقع المناهج القطرية



اختبار وتدريبات نهاية الفصل

[موقع المناهج](#) ← [المناهج القطرية](#) ← [المستوى السابع](#) ← [اجتماعيات](#) ← [الفصل الأول](#) ← [الملف](#)

تاريخ نشر الملف على موقع المناهج: 2023-11-28 18:38:51

التواصل الاجتماعي بحسب المستوى السابع



روابط مواد المستوى السابع على تلغرام

[الرياضيات](#)

[اللغة الانجليزية](#)

[اللغة العربية](#)

[التربية الاسلامية](#)

المزيد من الملفات بحسب المستوى السابع والمادة اجتماعيات في الفصل الأول

جدول مواصفات اختبار نهاية الفصل	1
اوراق عمل منتصف الفصل	2
تحميل كتاب الطالب	3
كتاب المعلم الفصل الأول 2022-2023م	4
كتاب الطالب الفصل الأول 2022-2023	5

مادة الاجتماعيات

تدريبات إثرائية نهائية

الفصل الدراسي الأول

للعام الدراسي 2023-2022

الصف السابع

اسم الطالب:

الصف: 7 /

التدريبات لا تقضي عن الكتاب المدرسي

الوحدة الاولى (جغرافيا)

س1 : اختار الاجابة الصحيحة بوضع علامة (X) داخل المربع :

1- رياح تهب بانتظام طوال العام من مناطق الضغط المرتفع إلى مناطق الضغط المنخفض:

الرياح اليومية		الرياح المحلية		الرياح الموسمية		الرياح الدائمة	
----------------	--	----------------	--	-----------------	--	----------------	--

2- تشمل الأقاليم الحارة: الإقليم الاستوائي والاقليم المداري و:

الإقليم الصحراوي		الإقليم القاري		الإقليم اللورانسي		الإقليم الصيني	
------------------	--	----------------	--	-------------------	--	----------------	--

3- تشمل الأقاليم المعتدلة الدفيئة: الإقليم الصيني وإقليم:

الصحراوي		اللورانسي		الاستوائي		البحر المتوسط	
----------	--	-----------	--	-----------	--	---------------	--

4- تشمل الأقاليم المعتدلة الباردة: الإقليم اللورانسي والإقليم القاري والإقليم:

الصحراوي		اللورانسي		الاستوائي		غرب أوروبا	
----------	--	-----------	--	-----------	--	------------	--

5- تعد أهم العناصر المناخية:

الحرارة		الرطوبة		الرياح		الضغط الجوي	
---------	--	---------	--	--------	--	-------------	--

6- أدى اختلاف زاوية سقوط أشعة الشمس وطول النهار إلى:

اختلاف الرطوبة		اختلاف درجة الحرارة		اختلاف الرياح		اختلاف الضغط الجوي	
----------------	--	---------------------	--	---------------	--	--------------------	--

7- تمثل أكبر المناطق الحرارية على سطح الأرض:

المنطقة المعتدلة		المنطقة الباردة		المنطقة الحارة		المنطقة الدفيئة	
------------------	--	-----------------	--	----------------	--	-----------------	--

8- تمتد المنطقة الباردة شمالاً وجنوباً من دائرة عرض 66.5 وتنتهي عند النقطة:

60		70		80		90	
----	--	----	--	----	--	----	--

9- ينخفض الضغط الجوي عند الدائرة الاستوائية بسبب:

انخفاض درجة الحرارة		ارتفاع درجة الحرارة		زيادة الرطوبة		هبوب الرياح	
---------------------	--	---------------------	--	---------------	--	-------------	--

10- يرتفع الضغط الجوي عند القطبين بسبب:

هبوب الرياح		ارتفاع درجة الحرارة		زيادة الرطوبة		انخفاض درجة الحرارة
-------------	--	---------------------	--	---------------	--	---------------------

11- حركة الهواء الأفقية على سطح الأرض:

الحرارة		الرطوبة		الرياح		الضغط الجوي
---------	--	---------	--	--------	--	-------------

12- رياح تهب يوميا بسبب اختلاف درجة الحرارة ليلا ونهاراً:

الرياح الدائمة		الرياح الموسمية		الرياح المحلية		الرياح اليومية
----------------	--	-----------------	--	----------------	--	----------------

س2 : أكمل الفراغات التالية :

1- تعرف الرياح المحلية التي تهب على دولة قطر برياح

2- ينتج عن اختلاف طول النهار من منطقة لأخرى

3- يتكون المناخ من مجموعة من العناصر هي الحرارة، و..... و..... و.....

4 - تنقسم الرياح إلى عدة أنواع وهي و..... و..... و..... و.....

س3: أجب عن الأسئلة الآتية وفقاً لما يطلب منك:-

1- وضح الخصائص المناخية للإقليم الاستوائي من حيث الحرارة والأمطار

.....
.....

2- أذكر الخصائص المناخية لإقليم البحر المتوسط من حيث الحرارة والأمطار

.....
.....

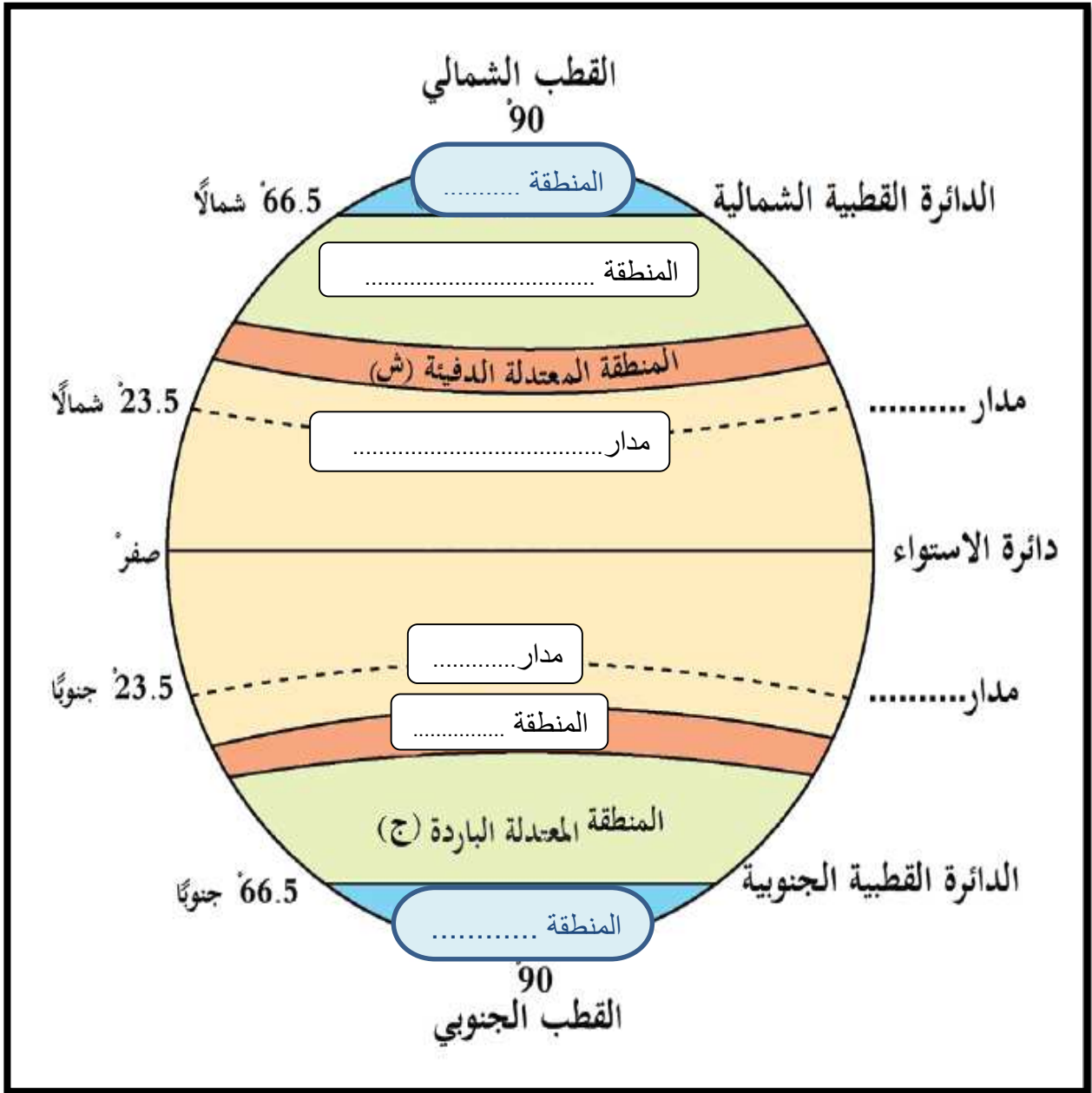
3- عرف الإقليم المناخي

.....

س4: أكمل بيانات الجدول التالي:

مظاهر التكاثف القريبة من سطح الأرض	مظاهر التكاثف البعيدة عن سطح الأرض

س5: أكمل الشكل التالي الذي يوضح المناطق الحرارية على سطح الكرة الأرضية.



الوحدة الثانية (تاريخ)

س1 : اختار الاجابة الصحيحة بوضع علامة (X) داخل المربع :

1- أول الشعوب التي سكنت بلاد الرافدين:

البابليون	<input type="checkbox"/>	السومريون	<input type="checkbox"/>	الاكاديون	<input type="checkbox"/>	الأشوريون	<input type="checkbox"/>
-----------	--------------------------	-----------	--------------------------	-----------	--------------------------	-----------	--------------------------

2- أشهر ملوك الدولة الاكادية:

حمورابي	<input type="checkbox"/>	آشور بانبيال	<input type="checkbox"/>	سرجون الاول	<input type="checkbox"/>	نبوخذ نصر	<input type="checkbox"/>
---------	--------------------------	--------------	--------------------------	-------------	--------------------------	-----------	--------------------------

3- عاصمة الحضارة الأشورية:

آشور	<input type="checkbox"/>	بابل	<input type="checkbox"/>	اكاد	<input type="checkbox"/>	أور	<input type="checkbox"/>
------	--------------------------	------	--------------------------	------	--------------------------	-----	--------------------------

4- سقطت دولة الكلدانيون على يد

الفرس	<input type="checkbox"/>	العرب	<input type="checkbox"/>	العجم	<input type="checkbox"/>	الروم	<input type="checkbox"/>
-------	--------------------------	-------	--------------------------	-------	--------------------------	-------	--------------------------

5- سجل سكان بلاد الرافدين الوثائق الرسمية والعقود على ألواح :

خشبية	<input type="checkbox"/>	طينية	<input type="checkbox"/>	زجاجية	<input type="checkbox"/>	معدنية	<input type="checkbox"/>
-------	--------------------------	-------	--------------------------	--------	--------------------------	--------	--------------------------

6- تعد من روائع بلاد الرافدين في مجال النحت :

برج بابل	<input type="checkbox"/>	حدائق بابل	<input type="checkbox"/>	الثور المجنح	<input type="checkbox"/>	قصر خورساد	<input type="checkbox"/>
----------	--------------------------	------------	--------------------------	--------------	--------------------------	------------	--------------------------

7- تمثلت الطبقة الوسطى في مجتمع بلاد الرافدين من :

الملك والكهنة	<input type="checkbox"/>	العمال والفلاحون	<input type="checkbox"/>	أسرى الحروب والعبيد	<input type="checkbox"/>	ملاك الأراضي وكبار التجار	<input type="checkbox"/>
---------------	--------------------------	------------------	--------------------------	------------------------	--------------------------	------------------------------	--------------------------

8- من أهم الآثار المعمارية لحضارات بلاد الرافدين:

برج بابل	<input type="checkbox"/>	حدائق عشتار	<input type="checkbox"/>	المسلات	<input type="checkbox"/>	الثور المجنح	<input type="checkbox"/>
----------	--------------------------	-------------	--------------------------	---------	--------------------------	--------------	--------------------------

س2- اجب عن الأسئلة الآتية وفقا لما يطلب منك :

1- وضح العوامل التي ساعدت على قيام حضارات بلاد الرافدين.

أ-

ب-

ج-

2- رتب حضارات بلاد الرافدين على الخط الزمني الذي أمامك من الأقدم إلى الأحدث:

(الأكاديون – الأشوريون – الكلدانيون – البابليون – السومريون)



(الأحدث)

(الأقدم)

3- بم تفسر: انهيار الدولة البابلية الأولى؟

أ-

ب-

س3 أكمل ما يلي :

1- أول الشعوب التي سكنت بلاد الرافدين

2- ظهرت الكتابة المسمارية في حضارات

3- من أسباب سقوط الدولة الآشورية

..... و..... سياسة العنف والتدمير

4- من أسباب ازدهار الزراعة في بلاد الرافدين

..... و..... إقامة السدود والقنوات

5- كان نظام الحكم السائد في بلاد الرافدين

6- من خصائص الحياة الدينية في بلاد الرافدين

..... و..... والاعتقاد بوجود حياة بعد الموت

- 7- من أشهر ملوك الدولة البابلية الأولى وأشتهر بسن القوانين والتشريعات.....
- 8- سقطت دولة الكلدانيون على يد

س4: أكمل المخطط التالي الذي يوضح طبقات المجتمع في بلاد الرافدين.

الطبقة وتشمل..... و..... و.....
الطبقة وتشمل و..... و.....
الطبقة وتشمل..... و..... و.....

الوحدة الثالثة (مواطنة)

س1 : اختار الاجابة الصحيحة بوضع علامة (X) داخل المربع :

يتولى السلطة التشريعية في دولة قطر:

مجلس الوزراء	<input type="checkbox"/>	المحاكم	<input type="checkbox"/>	المجلس البلدي	<input type="checkbox"/>	مجلس الشورى	<input type="checkbox"/>
--------------	--------------------------	---------	--------------------------	---------------	--------------------------	-------------	--------------------------

2- يتولى أمير البلاد رئاسة السلطة التنفيذية ويعاونه:





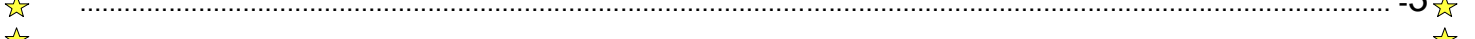

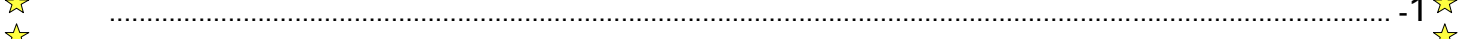
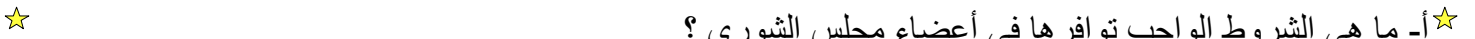
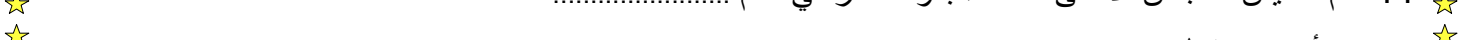
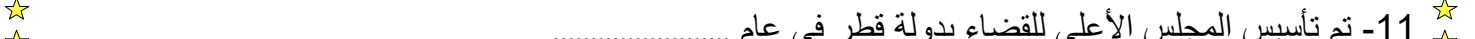
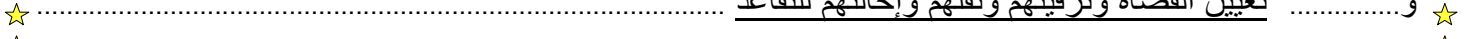
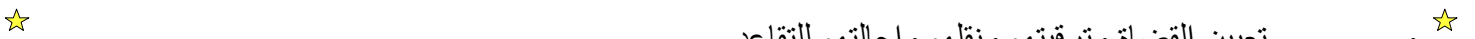
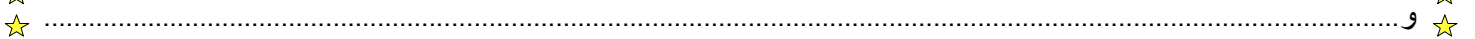

السلطة المركزية	<input type="checkbox"/>	السلطة القضائية	<input type="checkbox"/>	السلطة التشريعية	<input type="checkbox"/>	مجلس الوزراء	<input type="checkbox"/>
-----------------	--------------------------	-----------------	--------------------------	------------------	--------------------------	--------------	--------------------------

3- يتكون نظام الحكم في دولة قطر من ثلاث سلطات هي السلطة التشريعية والتنفيذية و:

النيابية	<input type="checkbox"/>	البرلمانية	<input type="checkbox"/>	الوزارية	<input type="checkbox"/>	القضائية	<input type="checkbox"/>
----------	--------------------------	------------	--------------------------	----------	--------------------------	----------	--------------------------

س2: أكمل العبارات التالية:

1. من مهام واختصاصات أمير البلاد بدولة قطر
و..... اعتماد رؤساء البعثات الدبلوماسية والقنصلية
2. - يتألف مجلس الشورى من عضواً
3. يتولى رئاسة السلطة التنفيذية ويعاونه
4. يعتبر مجلس الشورى ممثلاً للسلطة
- 5- تبلغ مدة انعقاد مجلس الشورىسنوات.
- 6- من اختصاصات مجلس الوزراء بدولة قطر.....
و.....
و..... مراقبة عمل الحكومة
- 7- من أنواع السلطات الدستورية بدولة قطر
و..... السلطة القضائية
- 8- تتكون الدولة من ثلاثة أركان هي و..... و..... الإقليم
- 9- من أنواع المحاكم بدولة قطر و..... محكمة التمييز



10- من اختصاصات المجلس الأعلى للقضاء.....

و.....

و..... تعيين القضاة وترقيتهم ونقلهم وإحالتهم للتقاعد

11- تم تأسيس المجلس الأعلى للقضاء بدولة قطر في عام.....

س 3: أجب عما يلي.

أ- ما هي الشروط الواجب توافرها في أعضاء مجلس الشورى؟

1-

2-

3-

الوحدة الرابعة (جغرافيا)

س1 : اختار الإجابة الصحيحة بوضع علامة (X) داخل المربع :

1 - من العوامل الطبيعية المؤثرة في توزيع السكان؛ الثروات المعدنية، والتضاريس، والمناخ، و.....:

التجارة		الصناعة		الحروب		التربة	
---------	--	---------	--	--------	--	--------	--

2- يتركز السكان في مناطق السهول الساحلية بسبب المناخ المعتدل، و.....:

ارتفاع الحرارة		زيادة الرطوبة		سقوط الأمطار		الجفاف	
----------------	--	---------------	--	--------------	--	--------	--

3- يتركز السكان في مناطق السهول الفيضية بسبب:

ارتفاع الحرارة		زيادة الرطوبة		تساقط الثلوج		وجود الأنهار	
----------------	--	---------------	--	--------------	--	--------------	--

4- يتركز السكان في المدن الكبرى والعواصم بسبب وفرة فرص العمل و:

شدة البرودة		زيادة الرطوبة		سقوط الأمطار		الخدمات	
-------------	--	---------------	--	--------------	--	---------	--

س2: صنف العوامل التالية المؤثرة في توزيع السكان في الجدول الذي يليها:

(التربة - الأنشطة الاقتصادية - التضاريس - المناخ - النقل والمواصلات - الحروب - الموارد المعدنية)

العوامل البشرية	العوامل الطبيعية
.....
.....
.....
.....

س3: اكمل مايلي :-

- 1- تعد السهول انصب أنواع السطح لتركز السكان بسبب
و..... سهولة ممارسة الزراعة والصناعة
- 2- من أسباب تركيز السكان في مدينة مسيديد بدولة قطر
- 3- الحرفة التي لا تحتاج لأعداد كبيرة من السكان هي حرفة
- 4- المناطق الجبلية غير جاذبة للسكان ولا يتركزون فيها بسبب.....
و..... وعورة وتعرج السطح
- 5- تعد قارة أكثر قارات العالم سكاناً.
- 6- يتركز السكان بكثرة في غرب أوروبا بسبب وجود النشاط

س4: دلل على صحة العبارات التالية:

- 1- تأثير المواصلات على التركيز السكاني.

.....
.....

- 2- تأثير المناخ على التوزيع الجغرافي للسكان.

.....
.....

الوحدة الخامسة (تاريخ)

س 1 : اختار الإجابة الصحيحة بوضع علامة (X) داخل المربع :

1 - أول خلفاء الدولة العباسية ولقب بالسفاح:

أبو العباس	المأمون	المعتصم	هارون الرشيد
------------	---------	---------	--------------

2- خامس خلفاء الدولة العباسية، ويعد عصره أزهى عصورها:

المهدي	المأمون	المعتصم	هارون الرشيد
--------	---------	---------	--------------

3 - امتاز العصر العباسي الأول بـ:

القوة	الضعف	التفكك	الانقسام
-------	-------	--------	----------

4- سابع الخلفاء العباسيين وقيل عنه " لو لم يكن خليفة لكان عالماً بارزاً:

الوائق	أبو جعفر المنصور	المعتصم بالله	المأمون
--------	------------------	---------------	---------

س2- أكمل الفراغات التالية:

1- من أسباب سقوط الدولة العباسية

و

و

و

و..... تزايد الأطماع الخارجية في الدولة

2- من سمات العصر العباسي الأول.....

و

3- سقطت الدولة العباسية علي يد عام 656 هـ

4- بدأ منصب الخليفة العباسي يضعف بعد وفاة الخليفة

5- من إنجازات الخليفة هارون الرشيد إنشاء مكتبة

6- يعد الخليفة العباسي أبو جعفر المنصور المؤسس الحقيقي للدولة العباسية ويرجع ذلك إلى أعماله التي قام بها

وهي

.....

و..... حماية وتحصين الدولة

7- قام الخليفة العباسي المعتصم بالله بفتح مدينة

س 4: ارسم مخططاً زمنياً لخلفاء الدولة العباسية من الاقدم الي الاعدث.

الوحدة السادسة (مواطنة)

س1 : اختار الإجابة الصحيحة بوضع علامة (X) داخل المربع :

1- يعبر الهدف " تحقيق الاستغلال الأمثل للموارد " عن الأمن:

العسكري	السياسي	الاقتصادي	الاجتماعي
---------	---------	-----------	-----------

2- حماية أمن البلاد من الفوضى والاضطرابات يعد من أهداف الأمن:

الاقتصادي	السياسي	العسكري	الاجتماعي
-----------	---------	---------	-----------

3- يهدف الأمن الاجتماعي إلى:

تعزيز قدرة الدولة الدفاعية	السياسي	العسكري	الحفاظ على أمن واستقرار المجتمع
----------------------------	---------	---------	---------------------------------

4- من أهداف الأمن العسكري:

تعزيز قدرة الدولة الدفاعية	الحفاظ على أمن واستقرار المجتمع	تحقيق الاكتفاء الذاتي من السلع	حماية البلاد من الفوضى
----------------------------	---------------------------------	--------------------------------	------------------------

س2: عرف الأمن الوطني:

س3: قارن من حيث أوجه الاختلاف بين أهداف كلا من الأمن العسكري والأمن السياسي.

وجه المقارنة	الأمن العسكري	الأمن السياسي
أوجه الاختلاف		

مع أطيب التمنيات بالنجاح والتوفيق