

شكراً لتحميلك هذا الملف من موقع المناهج القطرية



اوراق عمل منتصف الفصل مدرسة مسيعيد غير مجانية

[موقع المناهج](#) ⇨ [المناهج القطرية](#) ⇨ [المستوى السابع](#) ⇨ [اجتماعيات](#) ⇨ [الفصل الثاني](#) ⇨ [الملف](#)

تاريخ نشر الملف على موقع المناهج: 2024-02-15 17:37:30 | اسم المدرس: مدرسة مسيعيد

التواصل الاجتماعي بحسب المستوى السابع



روابط مواد المستوى السابع على تلغرام

[الرياضيات](#)

[اللغة الانجليزية](#)

[اللغة العربية](#)

[التربية الاسلامية](#)

المزيد من الملفات بحسب المستوى السابع والمادة اجتماعيات في الفصل الثاني

[تدريبات الفرقان منتصف الفصل](#)

1

[تدريبات دعم وإثراء منتصف الفصل مع الحل](#)

2

[تدريبات دعم وإثراء منتصف الفصل](#)

3

[حل تدريبات النقل والمواصلات](#)

4

[كتاب الطالب](#)

5

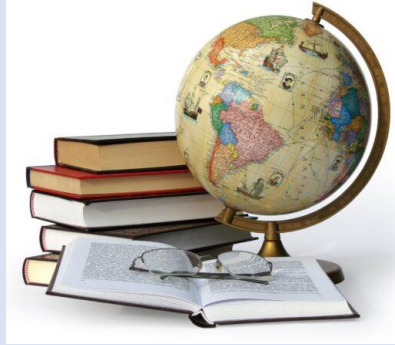


العام الدراسي

2024-2023

الصف السابع

7



الدراسات الاجتماعية

تدريبات علاجية - واجبات (غير محلول)

منتصف الفصل الدراسي الثاني

اسم الطالب:

الصف: السابع

ملحوظة هامة: هذه الأسئلة إثرائية ولا تغني عن الكتاب المدرسي وهو المصدر الرئيس
للتعلم



قسم	الدراسات الاجتماعية	الصف السابع	الأسبوع	الأول
الوحدة	الأولى - (الموارد والأنشطة الاقتصادية) درس 1: النقل والتواصلات		التاريخ	18-8 / 1 / 2024 م

أولاً: الاختيار من متعدد:

اختر الإجابة الصحيحة بوضع علامة (X) في المربع المقابل لها:-

1 "عملية انتقال الأفراد والبضائع من مكان إلى آخر" يشير التعريف السابق الى مفهوم:

النقل

التجارة الداخلية

التجارة الخارجية

الهجرات الوافدة

2 " أي من الأنهار الآتية يوجد في قارة إفريقيا؟

النيل

الراين

الأمازون

المسيحي

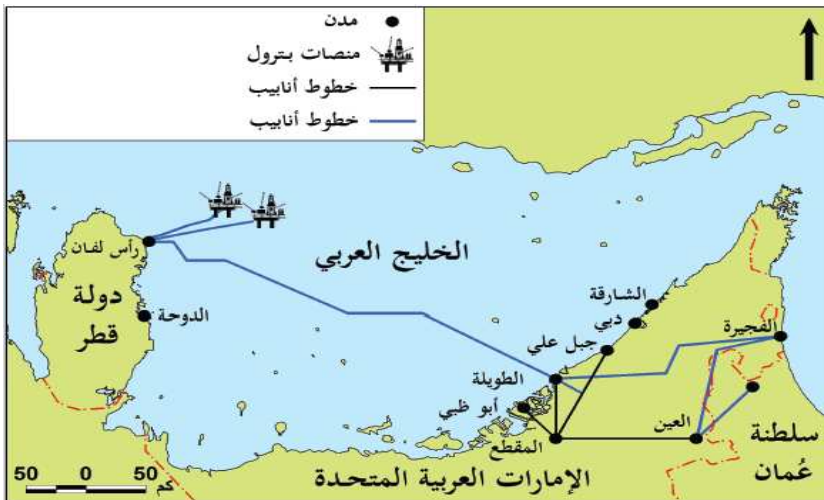
3 أي خطوط الأنابيب التالية يمتد في دولة قطر؟

سوميد

دولفين

بترولين

التابلاين





أرخص أنواع النقل

5

الجوي

المائي

الأنابيب

السكك الحديدية

ثانياً: الأسئلة المقالية:

أجب عن الآتي:

١- عدد أنواع النقل المائي.

- -1
- -2
- -3

٢- وضح أسباب عدم صلاحية معظم أنهار العالم للملاحة.

- -1
- -2
- -3

٣- وضح دور النقل البحري في نقل البضائع.

- -1
- -2
- -3



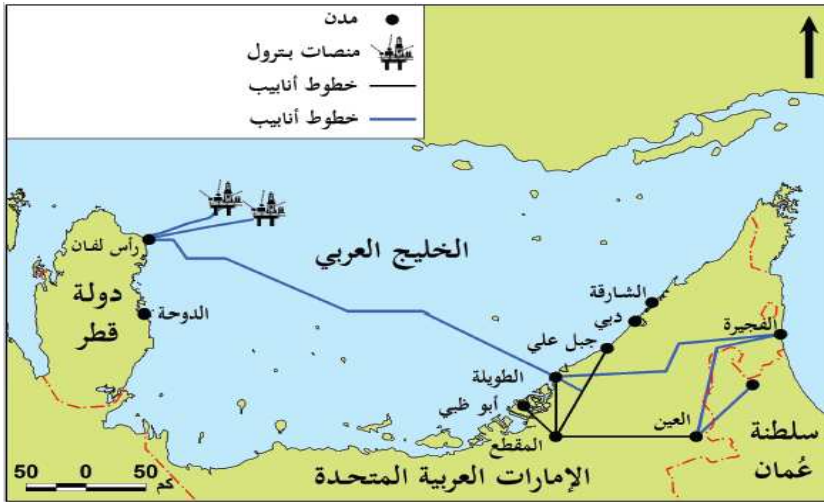
قسم	الدراسات الاجتماعية	الصف السابع	الأسبوع	الثاني
الوحدة	الأولى - (الموارد والأنشطة الاقتصادية) درس 1: النقل والتواصلات		التاريخ	18-14 / 1 / 2024 م

أولاً: الاختيار من متعدد:

اختر الإجابة الصحيحة بوضع علامة (x) في المربع المقابل لها:-

أي خطوط الأنابيب التالية يمتد في دولة قطر؟

1



سوميد

دولفين

بترولين

التابلاين

أرخص أنواع النقل

2

الجوي

المائي

الأنابيب

السكك الحديدية

١- وضح مميزات السكك الحديدية.

..... -1

..... -2

..... -3



٢- ما أهمية النقل؟

..... -1

..... -2

..... -3

٣- عدم صلاحية بعض الأنهار للملاحة النهرية.

..... -1

..... -2

..... -3

٤- يتميز النقل الجوي عن باقي أنواع النقل.

..... -1

..... -2

..... -3

٥- ما المشكلات البيئية الناتجة عن التطور السريع لوسائل النقل والمواصلات؟

..... -1

..... -2

..... -3



قسم	الدراسات الاجتماعية	الصف السابع	الأسبوع	الثالث
الوحدة	الأولى - (الموارد والأنشطة الاقتصادية)	درس 2: التجارة	التاريخ	2024 / 1 / 25-21 م

أولاً: الاختيار من متعدد:

اختر الإجابة الصحيحة بوضع علامة (X) في المربع المقابل لها:

"تبادل السلع والخدمات بين دول العالم على شكل صادرات وواردات"، يشير التعريف السابق إلى مفهوم التجارة:

1

العالمية

الدولية

الداخلية

الخارجية

"تبادل السلع والخدمات داخل حدود الدولة"، يشير التعريف إلى مفهوم التجارة:

2

الدولية

الداخلية

العالمية

الخارجية

أكثر دول العالم استقبلاً للصادرات القطرية هي:

3

تركيا

ماليزيا

اليابان

كوريا الجنوبية



ثانياً: الأسئلة المقالية:

أجب عن الآتي:

١- عدد مقومات التجارة.

- -1
- -2
- -3

٢- وضح أهمية التجارة؟

- -1
- -2
- -3

٣- قارن بين التجارة الداخلية والتجارة الخارجية من حيث المفهوم:

	التجارة الداخلية
	التجارة الخارجية



٤- اذكر مكونات التجارة الدولية .

	مصادر الطاقة
	السلع الغذائية
	السلع الصناعية
	المحاصيل
	السلع المعدنية



الترابج	الأسبوع	الف الصف السابج	الدراسات الاجتماعية	قسم
م 2024 / 2/1 - 1/28	التاريخ		الثانية - (الحضارة الإسلامية في الدولة العباسية) درس 1: مظاهر السياسية و الاقتصادية	الوحدة

أولاً: الاختيار من متعدد:

اختر الإجابة الصحيحة بوضع علامة (X) في المربع المقابل لها:-

1 ظهر منصب قاضي القضاة في عصر الخليفة:

المأمون

المتعصم

هارون الرشيد

أبي جعفر المنصور

2 ازدهرت صناعة ورق البردي في:

مصر

العراق

بلاد فارس

بلاد الشام

3 الجهاز الإداري في الدولة العباسية الشبيه بالوزارات هو:

العسس

القضاء

الولايات

الدواوين



الدائرة الرسمية التي تتولى الاشراف على مراسلات الخليفة:

4

الجيش

البريد

الشرطة

الأوقاف

ظهر منصب قاضي القضاة في عصر الخليفة:

5

المأمون

المعتصم

هارون الرشيد

أبي جعفر المنصور

الشخص الذي يتولى إدخال الناس على الخليفة:

6

الوالي

الحاجب

الكاتب

الوزير



ثانياً: الأسئلة المقالية:

أجب عن الآتي:

١- بم تفسر ازدهار الحياة الاقتصادية في الدولة العباسية؟

- -1
..... -2
..... -3

٢- وضح نتائج اهتمام العباسيين بالتجارة البرية والبحرية.

- -1
..... -2
..... -3

٣- عدد أسماء المدن التجارية.

- -1
..... -2
..... -١

٤- بم تفسر لعب التجار المسلمين دور في نشر الإسلام؟

- -1
..... -2
..... -3



٥- دلل على اهتمام العباسيين بالدواوين.

- -1
- -2
- -3

٦- بم تفسر أهمية الشرطة والعسس في الدولة العباسية؟

- -1
- -2
- -3

٧- عدد أهم الأسلحة في الجيش العباسي.

- -1
- -2
- -3



القسم	الدراسات الاجتماعية	الصف السابع	الأسبوع	الخامس
الوحدة	الثانية - (الحضارة الإسلامية في الدولة العباسية) درس 2: مظاهر الاجتماعية و الثقافية		التاريخ	7-4 / 2 / 2024 م

أولاً: الاختيار من متعدد:

اختر الإجابة الصحيحة بوضع علامة (X) في المربع المقابل لها:-

1 أي الطبقات الآتية تمثل الطبقة العليا في المجتمع الإسلامي؟

الجنود

الخلفاء

العلماء

أصحاب الحرف

2 الخليفة الذي شيد قصر الذهب في العصر العباسي:

المعتصم

المأمون

هارون الرشيد

أبو جعفر المنصور

3 يعتبر الحسن بن الهيثم مؤسس علم:

الفلك

الكيمياء

البصريات

الرياضيات



ثانياً: الأسئلة المقالية:

أجب عن الآتي:

١- ما النتائج المترتبة على توسع صناعة الورق في الدولة العباسية؟

..... -1

..... -2

..... -3

٢- بم تفسر اهتمام المسلمين في العصر العباسي بعلم الجغرافيا؟

..... -1

..... -2

..... -3

٣- دلل على اهتمام الخلفاء العباسيين بالزراعة.

..... -1

..... -2

..... -٤



السادس	الأسبوع	الصف السابع	الدراسات الاجتماعية	قسم
2024 / 2 / 15-11 م	التاريخ		الثانية – (الحضارة الإسلامية في الدولة العباسية) درس 2: مظاهر الاجتماعية و الثقافية	الوحدة

أولاً: الاختيار من متعدد:

اختر الإجابة الصحيحة بوضع علامة (X) في المربع المقابل لها:-

أي من العلماء المسلمين صاحب كتاب الحاوي:

الرازي

ابن سينا

الفارابي

الخوارزمي

الخليفة الذي شيد قصر الذهب في العصر العباسي:

المأمون

المعتصم

هارون الرشيد

أبو جعفر المنصور

بم تفسر:

١- ازدهار الحضارة الإسلامية في الدولة العباسية؟

..... -1

..... -2

..... -3



٢- ازدهار الحياة الثقافية والعلمية في الدولة العباسية؟

..... -1

..... -2

..... -3

٣- اذكر فئات المجتمع بالعصر العباسي.

..... -1

..... -2

..... -٥



قسم	الدراسات الاجتماعية	الصف السابع	الأسبوع	السابع
الوحدة	الثالثة - (التغير الاجتماعي) درس 1: أنواع التغير الاجتماعي في المجتمع القطري و عوامله		التاريخ	2024 / 2 / 22-18 م

أولاً: الاختيار من متعدد:

اختر الإجابة الصحيحة بوضع علامة (X) في المربع المقابل لها:

"التحول في الطريقة التي يعيش فيها أفراد المجتمع" يشير التعريف السابق إلى مفهوم التغير:

1

الكلي

النوعي

الثقافي

التكنولوجي

يعتبر الدور الأبرز في إحداث التغيرات بالمجتمع القطري للعامل:

1

السكاني

التعليمي

الاجتماعي

الاقتصادي

ثانياً: الأسئلة المقالية:

أجب عن الآتي:

١- عدد عوامل التغير الاجتماعي في المجتمع القطري.

..... -١

..... -٢

..... -٣



٢- بم تفسر لعب التطور الاقتصادي الدور الأبرز في إحداث التغيرات في المجتمع

القطري؟

- 1
- 2
- 3

٣- ما النتائج المترتبة على تنوع الأنشطة الاقتصادية في المجتمع القطري.

- 1
- 2
- 3

٤- عدد مظاهر التغير الاجتماعي في المجتمع القطري.

- 1
- 2
- 3