

تم تحميل هذا الملف من موقع المناهج القطرية



أوراق عمل اثرائية شاملة نهاية الفصل مع الإجابة النموذجية

موقع المناهج ← المناهج القطرية ← المستوى السابع ← اجتماعيات ← الفصل الأول ← أوراق عمل ← الملف

تاريخ إضافة الملف على موقع المناهج: 20:22:23 2024-11-17

ملفات اكتب للمعلم اكتب للطالب | اختبارات الكترونية | اختبارات | حلول | عروض بوربوينت | أوراق عمل
منهج انجليزي | ملخصات وتقارير | مذكرات وبنوك | الامتحان النهائي للمدرس

المزيد من مادة
اجتماعيات:

التواصل الاجتماعي بحسب المستوى السابع



صفحة المناهج
القطرية على
فيسبوك

الرياضيات

اللغة الانجليزية

اللغة العربية

التربية الاسلامية

المواد على تلغرام

المزيد من الملفات بحسب المستوى السابع والمادة اجتماعيات في الفصل الأول

حل تدريبات الكتاب من الصفحة ٢٧ وحتى ٨٥

1

أوراق عمل الأندلس الوحدة الأولى مع الإجابة النموذجية

2

أوراق عمل الأندلس الوحدة الثانية والثالثة مع الإجابة النموذجية

3

أوراق عمل مسيعيد منتصف الفصل مع الإجابة النموذجية

4

أوراق عمل مسيعيد منتصف الفصل غير مجابة

5




تدريبات اثرائية مادة الدراسات الاجتماعية

المستوى السابع
العام الدراسي 2023 / 2024 م
الفصل الدراسي الأول

هذه الأوراق
لا تغني عن الكتاب المدرسي

اليوم الوطني
القطري



قطر Qatar
18TH National Day
18 DECEMBER

اليوم الوطني
القطري

الحل

السؤال الأول: اختر الإجابة الصحيحة من بين البدائل التالية:

1

1- ينتج عن اختلاف طول النهار من منطقة لأخرى:

أ- زيادة كميّة الأمطار.

ب- اختلاف درجة الحرارة.

ج- تغير اتجاه الرياح.

د- ارتفاع الضغط الجوي.

2- أكبر المناطق الحرارية على سطح الأرض امتدادًا للمنطقة:

أ- الباردة.

ب- المعتدلة الدافئة.

ج- الحارة.

د- المعتدلة الباردة.

3- يرتفع الضغط الجوي عند المنطقة القطبية بسبب:

أ- انخفاض درجة الحرارة.

ب- هبوب الرياح القطبية.

ج- زيادة نسبة الرطوبة.

د- ارتفاع درجة الحرارة.

4- الرياح المحلية التي تهبّ على دولة قطري:

أ- الكوس.

ب- الطوز.

ج- السموم.

د- المسترال.

1- أيُّ الأقاليم التالية يتميَّز بصيفٍ حارٍّ وجافٍّ، وشتاءٍ دافئٍ وممطرٍ؟

أ- البحر المتوسط.

ب- الصيني.

ج- القطبي.

د- اللورانسِي.

2- إقليم مناخي يمتدُّ بين دائرتي عرض 0° و 8° شمالًا وجنوبًا:

أ- الصيني.

ب- الاستوائي.

ج- المداري.

د- الصحراوي.

3- من أوجه التشابه بين الإقليم الصيني وإقليم البحر المتوسط أن كليهما:

أ- يمتدُّ في شرق القارات.

ب- ترتفع فيه الحرارة طوال العام.

ج- تسقط فيه الأمطار طوال العام.

د- يقع بين دائرتي عرض 30° - 40° .

4- توجد دولة قطر ضمن إقليم المناخ:

أ- المداري.

ب- الصحراوي.

ج- اللورانسِي.

د- الصيني.

5- إقليم مناخي يتميَّز بارتفاع درجة الحرارة صيفًا وانخفاضها شتاءً وندرة الأمطار:

أ- القاري.

ب- الصحراوي.

ج- المداري.

د- الصيني.

1

السؤال الثاني: عرّف المصطلحات التالية:

1- الإشعاع الشمسي:

هو مقدار الأشعة الشمسية الساقطة على المساحة

2- التساقط:

هو قطرات مائية تسقط من السحب على الأرض .

3- الرطوبة:

هي بخار الماء الموجود في الهواء

السؤال الثالث: بِمَ تُفسَّر:

1- اختلاف درجة الحرارة من منطقة لأخرى على سطح الأرض.

1- اختلاف زاوية سقوط اشعة الشمس

2- طول النهار

2- بم تفسر : انخفاض الضغط الجوي عند الدائرة الاستوائية

ارتفاع درجة الحرارة

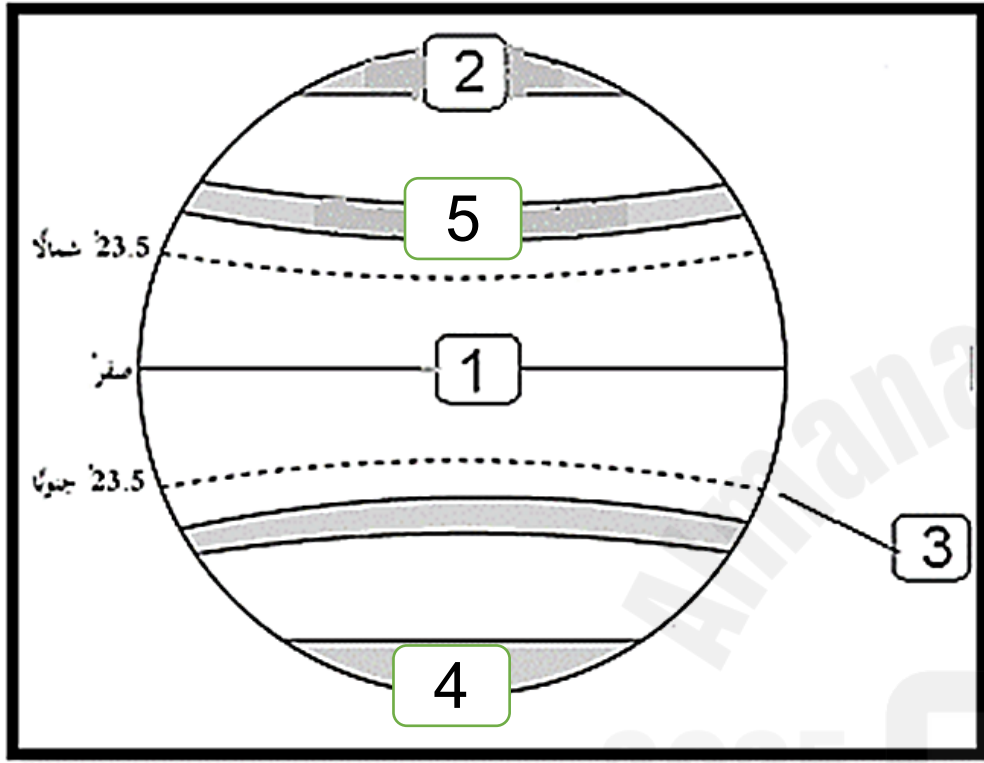
3- عدد أنواع الرياح .

أ- ... الدائمة ب- الموسمية ج- المحلية د- اليومية

4- أذكر عناصر المناخ .

أ- .. الحرارة ب- الضغط الجوي ج- الرياح د- الرطوبة والتكاثف

2- اكتب مدلول الأرقام الأقسام الموضحة على الشكل الذي امامك :



خط الاستواء

المنطقة الباردة الشمالية

المدار الجدي

المنطقة الباردة / ج

المنطقة المعتدلة الدفينة

1- دائرة : ..

2- المنطقة : ..

3- مدار : ..

4- المنطقة : ..

5- المنطقة : ..

السؤال الخامس: اكتب مدلول الأرقام الموجودة على خريطة الأقاليم المناخية:



1 - الإقليم الصحراوي

2 - الإقليم القطبي

3 - الإقليم القاري

السؤال الثاني:

قارن بين الإقليم الصحراوي وإقليم البحر المتوسط من حيثُ الموقع الفلكي، والحرارة والأمطار.

وجه المقارنة	الإقليم الصحراوي	إقليم البحر المتوسط
الموقع الفلكي	18°، 30°	30°، 40°
الحرارة والأمطار	1. صيف حار 2. انخفاض درجة الحرارة شتاءً 3. امطار نادرة	1. صيف حار جاف 2. وشتاء دافئ ممطر 3. امطار شتوية

السؤال الثالث:

عرّف مفهوم الإقليم المناخي.

هو منطقة متشابهة في خصائصها المناخية من حرارة، وأمطار، ورياح، ورطوبة، وتمتيزة عن غيرها من الأقاليم المجاورة.

السؤال الرابع:

ما الخصائص المشتركة بين كلٍّ من:

1- الإقليم الاستوائي والمداري؟

..... حرارة مرتفعة وأمطار غزيرة

2- الإقليم اللوراني وغرب القارات؟

..... الموقع بين 40 - 60 - أمطار طول العام

3- الإقليم القاري والقطبي؟

..... شتاء طويل شديد البرودة وصيف قصير دافئ

1- أذكر مظاهر التكاثف؟

القريبة : أ- الندى ب- الضباب ج- الصقيع

البعيدة : أ- السحب ب- التساقط

السؤال الرابع: أجب عما يلي:

1 - عدّد أنواع الرياح الدائمة.

..... القطبية - العكسية - التجارية

2 - ما الفرق بين الرياح الموسمية الصيفية والشتوية؟

..... الصيفية (مطرة) - الشتوية (جافة)

السؤال الثاني: أجب عما يأتي:

أ - ما المقصود ببلاد الرافدين؟

هي مصطلح يطلق على الأرض التي تقع بين أكثر من نهر ، وتحديداً المنطقة الواقعة بين نهري دجلة والفرات ، في جمهورية العراق حالياً

ب- اذكر ثلاث شخصيات مؤثرة في تاريخ بلاد الرافدين.

1. سرجون الأول

2. آشور بانيبال

3. نبوخذ نصر

ج- اذكر عوامل قيام حضارة بلاد الرافدين.

1. الموقع الجغرافي

2. دور نهرا دجلة والفرات

3. الهجرات البشرية

السؤال الأول: اختر الإجابة الصحيحة من بين البدائل التالية:

1 - أول الشعوب التي سكنت بلاد الرافدين:

أ - البابليون. ب - الأكاديون.

ج - الآشوريون. د - السومريون.

2 - ثبتت دعائم دولته على ركائز متينة من خلال التشريعات والقوانين:

أ - سرجون الأول. ب - آشور بانيبال.

ج - حمورابي. د - نبوخذ نصر.

تعد من روائع حضارة بلاد الرافدين في مجال العمارة :

التمائيل

برج بابل

المسلات

الثور المجنح

السؤال الأول: اختر الإجابة الصحيحة من بين البدائل التالية:

1 - سجل سكان بلاد الرافدين الوثائق الرسمية والعقود على ألواح:

أ - خشبية.

ب - طينية.

ج - زجاجية.

د - معدنية.

2 - من مميزات الحياة الدينية عند سكان بلاد الرافدين:

أ - تعدد المعبودات.

ب - الاعتقاد بعدم وجود حياة بعد الموت

ج - الإيمان باليوم الآخر.

د - الإيمان بإله واحد.

3 - تُعدُّ من روائع حضارة بلاد الرافدين في مجال النحت:

أ - قصر خورسباد.

ب - حدائق بابل.

ج - الثور المجنح.

د - برج بابل.

4 - تمثلت الطبقة الوسطى في مجتمع بلاد الرافدين من:

أ - العمال والفلاحين.

ب - أسرى الحروب والعبيد.

ج - الملك والكهنة.

د - مُلَّاك الأراضي وكبار التُّجار.

تمثلت الطبقة العليا في مجتمع بلاد الرافدين من :

الصناع والتجار

العمال والفلاحين

أسرى الحروب والعبيد

ملاك الأراضي وكبار التجار

السؤال الثالث: أجب عما يأتي:

أ - ما النتائج المترتبة على اختراع الكتابة المسمارية؟

كتابة العقود والوثائق الرسمية

ب - اذكر أهم القوانين التي عرفتها بلاد الرافدين.

قوانين حمورابي

ج - عدد طبقات المجتمع في بلاد الرافدين.

العليا (الكهنة) الوسطى (العمال) الدنيا (العبيد)

ج - وضَّح طبقات المجتمع في بلاد الرافدين.

1. العليا (الكهنة – ملاك الأراضي – كبار التجار)
2. الوسطى (العمال والفلاحون)
3. الدنيا (أسرى الحروب والعبيد)

السؤال الثالث: فسِّر ما يأتي:

1- تمكَّن سرجون الأول من بسط سيطرته على المدن السومرية.

1) بفضل قوة الجيش النظامي

2- انهيار الدولة البابلية الأولى.

1) ضعف شخصية الملوك.

2) كثرة الثورات الداخلية.

3- سقوط الدولة الآشورية في نهاية القرن السابع قبل الميلاد على يد الكلدانيين.

أ- سياسة العنف والتدمير.

ب- إهمال ثروات البلاد الاقتصادية

أ - ازدهار الزراعة في حضارة بلاد الرافدين.

توفر المياه – توفر التربة الخصبة

ب - تنوع المنتجات الصناعية في حضارة بلاد الرافدين.

توفر المواد الخام – توفر التربة الطينية

د - نمو الحركة التجارية في حضارة بلاد الرافدين.

الموقع الجغرافي – توفر المنتجات – الامن

- المواصلات

السؤال الرابع: ما النتائج المترتبة على:

1 - سياسة العنف والقسوة التي اتبعها الآشوريون في البلاد التي توسعوا فيها ؟

1- ثورات الشعوب التي كانت خاضعة لحكمهم .

2- سقوط الدولة الآشورية

2 - كثرة الثورات الداخلية في عهد الدولة البابلية الأولى.

أدى إلى انهيار الدولة البابلية الأولى.

2- اذكر اختصاصات أمير البلاد .

- (1) رسم السياسة العامة للدولة .
- (2) المصادقة على القوانين .
- (3) اعتماد البعثات الدبلوماسية

السؤال الثاني: اذكر ثلاثة من اختصاصات مجلس الوزراء.

- (1) إدارة شؤون للدولة .
- (2) اقتراح وتنفيذ القوانين .
- (3) رقابة النظام الحكومي .

السؤال الثالث: بين اختصاصات السلطة التشريعية في دولة قطر.

- (1) تشريع القوانين .
- (2) إقرار الموازنة العامة .
- (3) رقابة السلطة التنفيذية .

السؤال الأول: اختر الإجابة الصحيحة من بين البدائل التالية:

التدريبات

1- يتولى أمير البلاد السلطة التنفيذية ويعاونه:

- أ- مجلس الوزراء .
 ب- مجلس الشورى .
 ج- المجلس القضائي .
 د - المجلس البلدي .

2- يُعتبر مجلس الشورى ممثلاً للسلطة:

- أ - التنفيذية .
 ب- القضائية .
 ج- التشريعية .
 د - الصحافية .

3- عدد أعضاء مجلس الشورى .

- أ - 25 .
 ب- 35 .
 ج- 45 .
 د - 55 .

4- تتولى الرقابة على أعمال السلطة التنفيذية.

- أ - السلطة التشريعية .
 ب- السلطة القضائية .
 ج- مجلس الوزراء .
 د - المجلس البلدي .

السؤال الثالث: ما المقصود بمبدأ الفصل بين السلطات؟

الدولة مقسّمة إلى سلطات كل منها منفصلة ومستقلة

السؤال الرابع: أجب عمّا يلي:

1- فسّر تأسيس المجلس الأعلى للقضاء في دولة قطر عام 1999م.

ضمان استقلالية القضاء

2- عدد أنواع السلطات الدستورية في دولة قطر.

التشريعية - التنفيذية - القضائية

3- أذكر أنواع المحاكم في دولة قطر.

الابتدائية - الاستئنافية - التمييز

السؤال الأول: اختر الإجابة الصحيحة من بين البدائل التالية:

1- الفصل في المنازعات الإدارية مسؤولية:

ب- السلطة القضائية.

أ- البلديات.

د - مراكز الشرطة.

ج- مجلس الشورى.

2- يهدف مبدأ الفصل بين السلطات إلى منع:

ب- التعاون بين السلطات.

أ- الاستبداد بالسلطة.

د - التنازع بين أفراد الشعب.

ج- تقسيم السلطة.

السؤال الثاني: - عدد اختصاصات المجلس الأعلى للقضاء في دولة قطر.

1. تعيين القضاة

2. تطوير النظام القضائي

3. وتحقيق استقلال القضاء.

السؤال الثاني: بِمَ تُفسِّر:

2- تُعدُّ السهول من أفضل وأنسب أنواع السطح للتركُّز البشري.

- 1- سهولة مد طرق المواصلات.
- 2- إقامة المنشآت العمرانية.
- 3- ممارسة الأنشطة الزراعية.

4- يقلُّ التَّركُّز السُّكَّاني في المناطق الجبلية.

- 1- تعرج السطح.
- 2- تعرية التربة.
- 3- صعوبة التنقل.

تضم الأقاليم المناخية المعتدلة نصف سكان العالم .

- 1- الامطار المناسبة
- 2- اعتدال درجة الحرارة
- 3- ممارسة الأنشطة الاقتصادية

ثانياً:
التدريبات

السؤال الأول: اختر الإجابة الصحيحة مما يلي:

1- من أمثلة مناطق تركُّز السُّكَّان في العالم:

- أ- الصحاري الحارة.
- ب- الصحاري الجليدية.
- ج- السهول الفيضية.
- د- الغابات الاستوائية.

2- أكبر قارات العالم من حيث عدد السُّكَّان:

- أ- آسيا.
- ب- إفريقيا.
- ج- أوروبا.
- د- أمريكا الشماليَّة.

3- من العوامل الطبيعية المؤثرة في توزيع السُّكَّان:

- أ- الثروات المعدنية.
- ب- النقل والمواصلات.
- ج- الزراعة.
- د- الأحداث السياسية.

أقل قارات العالم من حيث عدد السكان :

آسيا

أوروبا

إفريقيا

استراليا

قلة السكان في أقصى الأجزاء الشمالية والجنوبية من الكرة الأرضية بسبب :

شدة البرودة

ارتفاع الحرارة

سقوط الأمطار

المناخ المعتدل

السؤال الثاني: بِمَ تُفسِّر:

1 - الهجرة القسرية للسكان.

بسبب الحروب والمشكلات السياسية

2 - تجتذب الزراعة أعدادًا قليلة من الأيدي العاملة في دول العالم المتقدّم.

بسبب استخدام الميكنة في الزراعة

3 - تركّز السكان في غرب أوروبا.

بسبب انتشار الصناعة

السؤال الأول: اختر الإجابة الصحيحة من بين البدائل التالية:

1- من العوامل البشرية المؤثرة في توزيع سكان العالم:

أ- معدّلات الأمطار. ب- مصادر الطاقة.

ج- النشاط الاقتصادي. د- التربة.

2- من المدن الصناعية التي تشهد تركّزًا سُكّانيًا بدولة قطر:

أ- مدينة مسيعة. ب- مدينة الشّمال.

ج- مدينة الشحانية. د- مدينة أمّ صلال.

3- الحرفة التي لا تحتاج لأعداد كبيرة من السكان:

أ- الزراعة. ب- الصناعة.

ج- التجارة. د- الرعي.

السؤال الثالث: دَلِّ على صحة العبارة التالية:

1 - ليست جميع المناطق المرتفعة طاردة للسكان.

تركز السكان في المناطق المرتفعة (أديس أبابا / صنعاء)

2 - للمناخ تأثير غير مباشر على توزيع السُّكَّان.

حيث يؤثر على التربة والنبات والزراعة

السؤال الرابع: أجب عمَّا يلي:

1 - ما النتائج المترتبة على ظهور النفط في منطقة الخليج العربي.

ساهم في نشأة المدن ومراكز التعدين وموانئ التصدير

2 - «للتربة دورها المؤثر في توزيع السُّكَّان» وَصِّح ذلك.

تركز السكان في التربة الفيضية الخصبة - التربة البركانية

السؤال الثالث: دَلِّ على صحة العبارة التالية:

1 - تأثير المواصلات على التركز السكاني.

الطرق في الولايات المتحدة - شبكة الطرق في قطر

2 - تأثير النشاط الاقتصادي على التركز السكاني.

بسبب الرعي والزراعة والصناعة يتركز السكان

السؤال الرابع: ما النتائج المترتبة على:

1 - الاحتلال الإسرائيلي لأرض فلسطين سكانياً؟

هجرة السكان القسرية إلى مناطق آمنة ومستقرة

2 - استخدام الآلات في الزراعة بالدول المتقدمة؟

قلة الحاجة إلى الأيدي العاملة

1- أول خلفاء الدولة العباسية الخليفة:

أ- الأمين.

ب- أبو العباس.

ج- هارون الرشيد.

د- المأمون.

2- وُصِفَ بَأَنَّهُ لَوْ لَمْ يَكُن خَلِيفَةً لَكَانَ عَالِمًا:

أ- أبو جعفر المنصور.

ب- المعتصم بالله.

ج- هارون الرشيد.

د- المأمون.

3- أنشأ الخليفة المعتصم بالله مدينة:

أ- بغداد.

ج- خُراسان.

د- دمشق.

4- من إنجازات الخليفة هارون الرشيد:

أ- فتح عمورية.

ب- الاهتمام بحركة الترجمة.

ج- إنشاء مرصد فلكي في بغداد.

د- إنشاء بيت الحكمة.

السؤال الثاني: بِمَ تُفسِّر:

1- يُطلق على العصر العباسي الأول اسم عصر القوة.

(1) قوة الخليفة.

(2) إحياء السُّنة.

(3) ازدهار الحضارة.

1- عدّد أعمال الخليفة هارون الرشيد.

(1) أنشأ بيت الحكمة.

(2) ازدهار الحياة الاقتصادية.

2- يُعدُّ أبو جعفر المنصور المؤسس الحقيقي للدولة العباسية.

(1) ثبت أركان الدولة.

(2) جهاز مراقبة الموظفين.

(3) حماية الدولة.

(4) بنى بغداد.

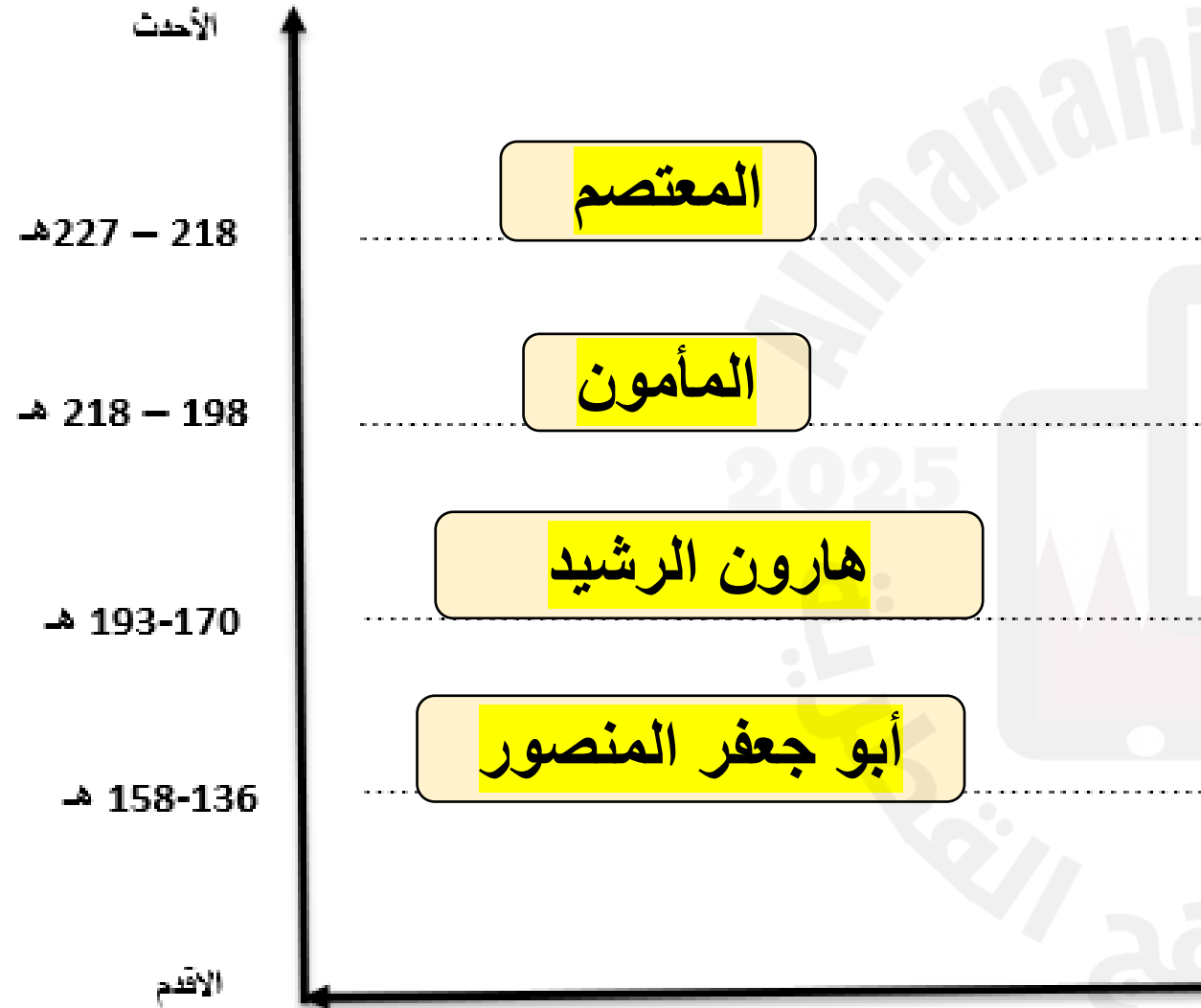
2- اذكر أعمال الخليفة المعتصم بالله.

(1) قضى على الثورات.

(2) بنى سامراء.

السؤال الرابع: رتّب خلفاء الدولة العباسية من الأقدم إلى الأحدث.

(المعتصم - هارون الرشيد - أبو جعفر المنصور - المأمون).



السؤال الثاني: بِمَ تُفسِّر:

3- اشتهر عصر المأمون بالنهضة العلمية والثقافية.

- (1) اهتمّ بالعلم والعلماء .
- (2) ازدهار العلوم .
- (3) نشطت حركة الترجمة .
- (4) أصبح بيت الحكمة أكبر مركز علمي .

السؤال الأول: اختر الإجابة الصحيحة من بين البدائل التالية:

1- من أسباب سقوط الدولة العباسية:

أ- وحدة البيت العباسي.

ج- تزايد الأطماع الخارجية في الدولة.

ب- الاهتمام بالزراعة والصناعة.

د- وجود خلفاء قادرين على إدارة شؤون الدولة.

2- بدأ منصب الخلافة العباسية يضعف مع وفاة الخليفة:

أ- المعتصم بالله.

ب- الواثق.

ج- المأمون.

د- المهدي.

3- سقطت الدولة العباسية على يد:

أ- الصليبيين.

ب- الفاطميين.

ج- المغول.

د- السلاجقة.

4- فُتحت عمورية عام 223 هـ على يد الخليفة:

أ- المأمون.

ب- المنصور.

ج- المعتصم بالله.

د- الواثق بالله.

السؤال الخامس: ما النتائج المترتبة على:

1- معركة الزاب الكبير سنة 132 هـ؟

انتصار العباسيين على الامويين

2- إنشاء الخليفة أبي جعفر المنصور جهازًا إداريًا مُحكَمًا؟

لمراقبة وضبط موظفي الدولة.

السؤال السادس: دَلِّل على ما يلي:

1- تشجيع الخليفة هارون الرشيد الحركة العلمية والأدبية.

أنشأ بيت الحكمة.

2- تشجيع الخليفة المأمون لحركة الترجمة من الكتب الأجنبية إلى اللغة العربية.

كان يُعطي للمترجم وزن الكتاب ذهباً.

4- اذكر أهمَّ الإجراءات التي اتخذها العباسيون لحماية دولتهم.

1- بناء القلاع لتقوية الثغور

2- فتح عمورية

السؤال الثالث: أجب عن الأسئلة التالية:

1- ما العلاقة بين تراجع النشاط العسكري وسقوط الدولة العباسية؟

تهديد الخطر المغولي والصليبي أدى إلى سقوط الدولة العباسية

2- ماذا ترتب على عوامل الفرقة والانقسام داخل الدولة العباسية؟

تراجع النشاط العسكري

3- عدد أسباب سقوط الدولة العباسية؟

1- ضعف الخلفاء . 4- ضعف الجيش والإدارة.

2- إهمال الزراعة والصناعة. 5- اتساع مساحة الدولة

3- تزايد الأطماع الخارجية.

4- اذكر أهم الإجراءات التي اتخذها العباسيون لحماية دولتهم.

1- بناء القلاع لتقوية الثغور

2- فتح عمورية

السؤال الرابع: فسّر ما يلي:

1- انقسام أراضي الدولة العباسية إلى عدد من الدويلات المستقلة.

بسبب التفكك والانقسام

2- تردّي الأوضاع الاقتصادية والاجتماعية في عصر الدولة العباسية الثاني.

انتشار الفساد

ضعف تحصيل الضرائب

انتشار الفوضى .

3- ظهور قوى وأخطار خارجية هدّدت الدولة العباسية في عصرها الثاني.

الفرقة والانقسام .

تراجع النشاط العسكري .

السؤال الخامس: ما النتائج المترتبة على:

- انغماس الخلفاء خلال العصر العباسي الثاني في حياة الترف والملذات؟

زيادة النفقات

قلة الضرائب

قدرة الدولة على حماية أراضيها وشعبها
من أي عدوان خارجي او داخلي

السؤال الرابع: يُعتبر الأمن الاجتماعي من أبعاد الأمن الوطني، وضح العبارة.

1. استقرار المجتمع وتماسكه.

2. يحقق النمو والتطور والرفاهية.

السؤال الثاني: من خلال دراستك حدد أهداف كل بُعد من أبعاد الأمن القومي
مُستعيناً بالجدول التالي.

الأمن الاقتصادي	الأمن السياسي	الأمن العسكري	الأمن الاجتماعي	البُعد
1. استغلال الموارد	1. الحماية من الفوضى	1. تعزيز القدرة الدفاعية.	1. استقرار المجتمع	الهدف
2. الاكتفاء الذاتي	2. الالتفاف حول الأمير	2. اعداد المواطن الصالح	2. تحقيق النمو والتطور	

1- يُعبّر الهدف «تحقيق الاستغلال الأمثل للموارد» عن الأمن:

أ- العسكري.

ب- السياسي.

د - الاجتماعي.

ج- الاقتصادي.

2- من أهداف الأمن العسكري:

أ- تعزيز قدرة الدولة الدفاعية.

ج- الحماية من عوامل الفوضى.

ب- تحقيق الاكتفاء الذاتي.

د - إيجاد أسواق مُتعددة.

السؤال السادس: من أبعاد الأمن الوطني: الأمن العسكري والسياسي، وضح ذلك،
مع بيان العلاقة بينهما.

العلاقة بينهم حماية الدولة في الداخل والخارج

– والالتفاف حول قيادة سمو الأمير