

تم تحميل هذا الملف من موقع المناهج القطرية



أوراق عمل مدرسة مسيعيد منتصف الفصل مع الإجابة النموذجية

موقع المناهج ← المناهج القطرية ← المستوى الثامن ← اجتماعيات ← الفصل الأول ← أوراق عمل ← الملف

تاريخ إضافة الملف على موقع المناهج: 2024-10-21 22:34:15

ملفات اكتب للمعلم اكتب للطالب | اختبارات الكترونية | اختبارات | حلول | عروض بوربوينت | أوراق عمل
منهج انجليزي | ملخصات وتقارير | مذكرات وبنوك | الامتحان النهائي | للمدرس

المزيد من مادة
اجتماعيات:

التواصل الاجتماعي بحسب المستوى الثامن



صفحة المناهج
القطرية على
فيسبوك

الرياضيات

اللغة الانجليزية

اللغة العربية

التربية الاسلامية

المواد على تلغرام


المزيد من الملفات بحسب المستوى الثامن والمادة اجتماعيات في الفصل الأول

أوراق عمل مسيعيد منتصف الفصل غير مجابة	1
أوراق عمل الأندلس الوحدة الأولى مع الإجابة النموذجية	2
اختبار وتدريب نهاية الفصل	3
جدول مواصفات اختبار نهاية الفصل	4
نماذج اختبارات منتصف الفصل تاريخ وجغرافيا ومواطنة	5



العام الدراسي
2025-2024

الصف الثامن
8



مادة الدراسات الاجتماعية

الإجابات النموذجية للتدريبات علاجية - والواجبات

منهاج منتصف الفصل الدراسي الأول
الوحدة الأولى + الوحدة الثانية + الوحدة الثالثة

اسم الطالب:

الصف: الثامن /

ملحوظة هامة: هذه الأسئلة إثرائية ولا تغني عن الكتاب المدرسي وهو
المصدر الرئيس للتعلم



الوحدة الأولى:

جغرافيا

(الدرس الأول تركيب باطن الأرض)

(الدرس الثاني اغلفة الارض)



الأسبوع	الوحدة الاولى جغرافيا	التاريخ
1	(الدرس الأول تركيب باطن الأرض) من ص (12 الي 20)	01 – 09/05 /2024 م

تعليمات
اختر الإجابة الصحيحة لكل من الأسئلة من 1 إلى 2 وذلك بوضع علامة X داخل المربع المجاور للإجابة الصحيحة.

1

أي طبقات باطن الأرض الآتية رقيقة السمك؟

السيما ☐

الوشاح ☐

السيال ☐

القشرة الأرضية ☐

2

الطبقة التي تقع أسفل القشرة الأرضية مباشرة وتعتبر أكثر طبقات الأرض سمكًا هي:

الوشاح ☐

النواة الداخلية ☐

النواة الخارجية ☐

القشرة الأرضية ☐



تعليمات

عند الإجابة على الأسئلة من 03 إلى 04، اكتب إجابتك في الفراغ المخصص للإجابة:

3

أ- عدد طبقات الوشاح أو الكسوة؟

الإجابة:

1 - الوشاح العلوي

2 - الوشاح السفلي

ب - اذكر مصادر المعلومات عن تركيب باطن الأرض؟

الإجابة:

1- البراكين

2- الموجات الزلزالية

د- عدد أقسام القشرة الأرضية؟

الإجابة:

1- قشرة قارية (طبقة السيل)

2- قشرة محيطية (طبقة السيم)



تعليمات

عند الإجابة على الأسئلة من 3 إلى 4 اكتب إجابتك في الفراغ المخصص للإجابة:

4

أ - قارن بين أنواع الصخور التي توجد في كل من القشرة القارية والقشرة المحيطية:

القشرة المحيطية	القشرة القارية
صخور بازلتية	صخور جرانيتية



الأسبوع	الوحدة الاولى جغرافيا	التاريخ
2	(الدرس الثاني اغلفة الارض) من ص (22 الي 26)	08 – 09/12 /2024م

تعليمات
اختر الإجابة الصحيحة لكل من الأسئلة من 1 إلى 6 وذلك بوضع علامة X داخل المربع المجاور للإجابة الصحيحة.

1

تبلغ نسبة غاز النيتروجين في الغلاف الجوي من حجم الهواء حوالي:

- ☒ 78 %
☐ 79 %
☐ 80 %
☐ 81 %

2

تبلغ نسبة غاز الاكسجين في الغلاف الجوي من حجم الهواء حوالي:

- ☒ 21 %
☐ 22 %
☐ 23 %
☐ 24 %

3

أي القارات الآتية تقع فيها البحيرات العظمى العذبة ؟

- ☐ آسيا
☐ افريقيا
☐ أمريكا الجنوبية
☒ أمريكا الشمالية



أكبر المحيطات من حيث المساحة؟

4

- ☒ الهادي
- ☐ الهندي
- ☐ الاطلنطي
- ☐ القطبي الشمالي

تبلغ نسبة المياه العذبة من إجمالي مساحة الغلاف المائي حوالي:

5

- ☒ 2.5 %
- ☐ 3.5 %
- ☐ 4.5 %
- ☐ 5.5 %

نسبة المياه المالحة من إجمالي مساحة الغلاف المائي حوالي:

6

- ☐ 95.5 %
- ☐ 96.5 %
- ☒ 97.5 %
- ☐ 98.5 %



تعليمات

عند الإجابة على الأسئلة من 07 إلى 08، اكتب إجابتك في الفراغ المخصص للإجابة:

7

أ- اذكر أنواع الصخور.

الإجابة:

- 1 - صخور نارية (توجد على شكل كتل) (شديدة الصلابة)
- 2 - صخور رسوبية (توجد على شكل طبقات) (قليلة الصلابة)

ب- وضح أهمية الغلاف الصخري للأرض؟

الإجابة:

- 1 - مصدر للمعادن ومصادر الطاقة
- 2 - مصدر للصخور والتربة

ج- وضح أهمية الغلاف الجوي ؟

الإجابة:

- 1- يحتوي على الغازات الأساسية
- 2- يحافظ على درجات الحرارة
- 3 - يوجد بها طبقة الأوزون التي تحمي الأرض من الشهب والنيازك



تعليمات

عند الإجابة على الأسئلة من 07 إلى 08، اكتب إجابتك في الفراغ المخصص للإجابة:

8

أ - ما أهمية الغلاف المائي؟

الإجابة:

1- مصدر للماء العذب

2- تشكيل سطح الأرض

3- مستودع للغذاء

ب - اذكر عناصر الغلاف الحيوي.

الإجابة:

1- الإنسان

2- الحيوان

3- النباتات

ج - وضح أهمية الغلاف الحيوي؟

الإجابة:

1- يمثل الوسط الذي تعيش فيه الكائنات الحية

2- يعتبر موردا هاما طبيعيا كالغابات ومصادر الطاقة



الوحدة الثانية:

تاريخ

(الدرس الأول الحضارة المصرية)

(الدرس الثاني مظاهر الحضارة المصرية)



الأسبوع	الوحدة الثانية تاريخ	التاريخ
3	(الدرس الأول الحضارة المصرية) من ص (40 الي 48)	15 - 09/19 /2024م

تعليمات اختر الإجابة الصحيحة لكل من الأسئلة من 1 إلى 6 وذلك بوضع علامة X داخل المربع المجاور للإجابة الصحيحة.

1 تم توحيد القطرين الشمالي والجنوبي لمصر على يد الملك:

- ☐ خوفو
☐ خفرع
☐ زوسر
☒ نارمر

2 أي من العصور التاريخية التالية من الحضارة المصرية القديمة تميز بالرخاء الاقتصادي الدولة:

- ☐ العتيق
☐ القديمة
☐ الحديثة
☒ الوسطي

3 جاء الفتح الإسلامي لمصر بقيادة عمرو بن العاص عام:

- ☒ 641 م
☐ 642 م
☐ 643 م
☐ 644 م



أي الصناعات المصرية القديمة الآتية تعتمد على نبات البردي؟

4

- ☐ التيجان
- ☐ الأثاث
- ☐ الورق
- ☐ المنسوجات

أهم المحاصيل الزراعية عند المصري القديم؟

5

- ☐ الارز
- ☐ الكتان
- ☐ القمح
- ☐ الشوفان

أسهم نهر النيل بدور فعال في قيام الحضارة:

6

- ☐ البابلية
- ☐ المصرية
- ☐ السومرية
- ☐ الاغريقية



تعليمات

عند الإجابة على الأسئلة من 07 إلى 08، اكتب إجابتك في الفراغ المخصص للإجابة:

7

أ- بم تفسر بلغت المرأة المصرية مكانة هامة في الحضارة المصرية القديمة.

الإجابة:

- 1 - تولي شؤون البيت
- 2 - العمل بحرفة التجارة والصناعة
- 3 - مواجهة الغزاة

ب - عدد طبقات المجتمع المصري القديم.

الإجابة:

- 1 الطبقة العليا (الفرعون)
- 2 الطبقة الوسطى (صغار الموظفين)
- 3 الطبقة الدنيا (العمال)

ج - اذكر عناصر الحكم في الحضارة المصرية القديمة.

الإجابة:

- 1- الفرعون
- 2- الوزير
- 3- الإدارة المركزية
- 4- حكام الأقاليم



تعليمات

عند الإجابة على الأسئلة من 07 إلى 08، اكتب إجابتك في الفراغ المخصص للإجابة:

8

أ- ما عوامل قيام الحضارة المصرية القديمة؟

الإجابة:

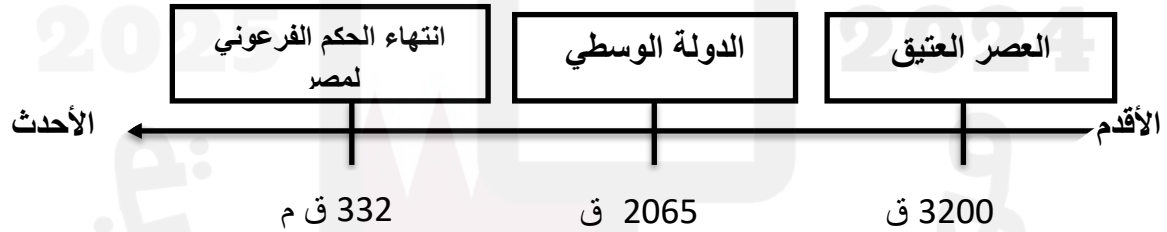
1- الموقع الجغرافي (النشاط التجاري وتبادل الثقافات والحضارات)

2- نهر النيل (الاستقرار والزراعة)

3- المناخ المعتدل (تنوع الأنشطة الاقتصادية)

ب - رتب الأحداث التاريخية الآتية في الحضارة المصرية القديمة ترتيباً زمنياً صحيحاً من الأقدم إلى لأحدث على الخط الزمني التالي:

(انتهاء الحكم الفرعوني لمصر – العصر العتيق – الدولة الوسطي)



ج - عدد الصناعات التي اشتهرت بها الحضارة المصرية القديمة؟

الإجابة:

(1) الصناعات المعدنية الاسلحة

(2) الصناعات الخشبية السفن وصناعة الورق من نبات البردي



الأسبوع	الوحدة الثانية تاريخ	التاريخ
4	(الدرس الثاني مظاهر الحضارة المصرية) من ص (50 الي 61)	22 – 09/26 /2024م

تعليمات
اختر الإجابة الصحيحة لكل من الأسئلة من 1 إلى 3 وذلك بوضع علامة X داخل المربع المجاور للإجابة الصحيحة.

1 أي العصور التاريخية القديمة التالية أطلق عليه عصر (بناء الأهرامات)؟

☐ العتيق

☐ الوسطي

☐ الحديثة

☐ القديمة

2 اهتم المصريون القدماء بعلم التحنيط بسبب:

☐ تعدد المعبودات

☐ الإيمان بالعقاب

☐ الإيمان بالثواب

☐ الاعتقاد في البعث والخلود

3 برع المصري القديم في العمل بالتجارة نتيجة لـ :

☐ تطور الزراعة

☐ الحرف اليدوية

☐ ازدهار الصناعة

☐ الموقع الجغرافي المتميز



تعليمات

عند الإجابة على الأسئلة من 04 إلى 05، اكتب إجابتك في الفراغ المخصص للإجابة:

4

أ- عدد العلوم التي برع فيها المصري القديم؟

الإجابة:

1 - علم الحساب 2 - علم الطب 3 - علم الفلك

ب- مآلاتنتائج المترتبة علي براعة المصريين القدماء في فن العمارة؟

الإجابة:

1. بناء المعابد مثل معبد الكرنك

2 الأهرامات

ج- بم تميز عصر الدولة الحديثة في الحضارة المصرية القديمة؟

الإجابة:

1- استقرار البلاد

2- تكوين امبراطورية مصرية واسعة



تعليمات

عند الإجابة على الأسئلة من 04 إلى 06، اكتب إجابتك في الفراغ المخصص للإجابة:

5

أ- بم تميز العصر العتيق في الحضارة المصرية القديمة؟

الإجابة:

1- اول حكومة مركزية في مصر

2- بناء مدينة منف والاستقرار والامن

ب- ما أهمية عصر الدولة الوسطى في تاريخ الحضارة المصرية القديمة؟

الإجابة:

1- الرخاء الاقتصادي

2- إقامة السدود مثل سد اللاهون

3- اهتمام الملوك بالمشروعات الاقتصادية

ج- "تميز المصريون القدماء في مجال فن النحت " ايد بالادلة التاريخية صحة العبارة السابقة؟

الإجابة:

1 تمثال أبي الهول

2. المسلات

3. تابوت توت عنخ امون



6

أ- أذكر عملا واحدا لكل من .

الإجابة:

- 1- الملك احمس الاول طرد الهكسوس
- 2- الملك سنوسرت الثالث شق قناة تصل النيل بالبحر الاحمر

ب- وضح خصائص الديانة المصرية القديمة؟

الإجابة:

- 1 - تعدد المعبودات
- 2 - الاعتقاد في البعث والخلود
- 3 - الاعتقاد في الحساب

ج- ماالنتائج المترتبة علي براعة المصريين القدماء في فن العمارة؟

الإجابة:

1. بناء المعابد مثل معبد الكرنك
- 2 الازهرامات



الوحدة الثالثة:

مواطنة

(الدرس الثاني المشاركة المدنية في دولة قطر)



الأسبوع	الوحدة الثالثة مواطنة	التاريخ
5	(الدرس الثاني) من ص (76 الي 83)	9 /29 – 2024 /10/3م

تعليمات
اختر الإجابة الصحيحة لكل من الأسئلة من 1 إلى 4 وذلك بوضع علامة X داخل المربع المجاور للإجابة الصحيحة.

1 " تمكين كبار السن ورعايتهم للتمتع بحياة كريمة وآمنة " من أهداف مؤسسة :

- أمان ☐
- دريمة ☐
- إحسان ☐
- الشفلح ☐

2 تأسست جمعية الهلال الأحمر القطري في عام :

- 1975 م ☐
- 1976 م ☐
- 1977 م ☐
- 1978 م ☐

3 أي الأهداف الآتية تقوم بها جمعية نماء القطرية ؟

- رعاية الاطفال ☐
- مساعدة الشباب ☐
- مساعدة المعاقين ☐
- رعاية كبار السن ☐



تعليمات

عند الإجابة على الأسئلة من 05 إلى 06، اكتب إجابتك في الفراغ المخصص للإجابة:

5

أ- وضح جهود هيئات المجتمع المدني من أجل خدمة أفراد المجتمع:

الإجابة:

- 1 - تنفيذ برامج متكاملة
- 2 - المساعدة في توصيل الخدمات
- 3 - تعزيز القيم والأخلاق الحميدة

ب- عدد جهود مؤسسة الهلال الأحمر القطرية.

الإجابة:

- 1 - تقديم المساعدات المالية
- 2 - نشر ثقافة العمل التطوعي
- 3 - تقديم محاضرات ودورات تدريبية

ج- عدد جهود مؤسسة طموح القطرية لإدارة العمل التطوعي.

الإجابة:

- 1 - تلبية احتياجات أجهزة الدولة الحكومية
- 2 - تنسيق الدورات التدريبية



تعليمات

عند الإجابة على الأسئلة من 05 إلى 06، اكتب إجابتك في الفراغ المخصص للإجابة:

6

أ- ما أثر مشاركة الفرد في هيئات المجتمع المدني؟

الإجابة:

1- تعزيز الروابط الاجتماعية بين افراد المجتمع

2- ممارسة الفرد لحقوقه

3 - ترسيخ القيم كالتعاون والتسامح

ب- قارن بين مؤسسة نماء القطرية ومؤسسة إحسان من حيث أهداف كل منهما :

اهداف مؤسسة إحسان	اهداف مؤسسة نماء
رعاية كبار السن نشر الوعي	بناء قدرات الشباب توسيع الخيارات المتاحة للشباب

ج - اذكر أمثلة لهيئات المجتمع المدني في دولة قطر :

الإجابة:

1- جمعية الهلال الاحمر

2- جمعية نماء

3 - مركز تمكين ورعاية كبار السن (احسان)



الأسبوع	أسئلة وتدريبات شاملة منهاج منتصف الفصل الدراسي الأول	التاريخ
6	الكتاب المدرسي	6 - 10/10/2024م

اختر الإجابة الصحيحة لكل من الأسئلة من 1 إلى 5 وذلك بوضع علامة X داخل المربع المجاور للإجابة الصحيحة.

تعليمات

أي طبقات باطن الأرض الآتية رقيقة السمك؟

1

السيما ☐

الوشاح ☐

السيال ☐

القشرة الأرضية ☐

تمثل نسبة المياه المالحة من إجمالي مساحة الغلاف المائي حوالي:

2

95.5 % ☐

96.5 % ☐

97.5 % ☐

98.5 % ☐

تأسست جمعية الهلال الأحمر القطري عام :

3

1975 م ☐

1976 م ☐

1977 م ☐

1978 م ☐



أكبر المحيطات من حيث المساحة:

4

الهادي ☐

الهندي ☐

الاطلنطي ☐

القطبي الشمالي ☐





تعليمات

عند الإجابة على الأسئلة من 06 إلى 09، اكتب إجابتك في الفراغ المخصص للإجابة:

6

أ- وضح جهود هيئات المجتمع المدني من أجل خدمة افراد المجتمع:

الإجابة:

- 1 - تنفيذ برامج متكاملة
- 2 - المساعدة في توصيل الخدمات
- 3 - تعزيز القيم والأخلاق الحميدة

ب- عدد جهود مؤسسة الهلال الأحمر القطرية.

الإجابة:

- 1 - تقديم المساعدات المالية
- 2 - نشر ثقافة العمل التطوعي
- 3 - تقديم محاضرات ودورات تدريبية

ج- ما أهمية الغلاف المائي؟

الإجابة:

- 1- مصدر للماء العذب
- 2- تشكيل سطح الارض
- 3- مستودع للغذاء



7

أ- ما عوامل قيام الحضارة المصرية القديمة؟

الإجابة:

1- الموقع الجغرافي (النشاط التجاري وتبادل الثقافات والحضارات)

2- نهر النيل (الاستقرار والزراعة ووفرة المحاصيل)

3- المناخ المعتدل (تنوع الأنشطة الاقتصادية)

ب- قارن بين مؤسسة نماء القطرية ومؤسسة إحسان من حيث أهداف كل منهما :

اهداف مؤسسة إحسان	اهداف مؤسسة نماء
رعاية كبار السن نشر الوعي	بناء قدرات الشباب توسيع الخيارات المتاحة للشباب

ج - اذكر مصادر المعلومات عن تركيب باطن الأرض؟

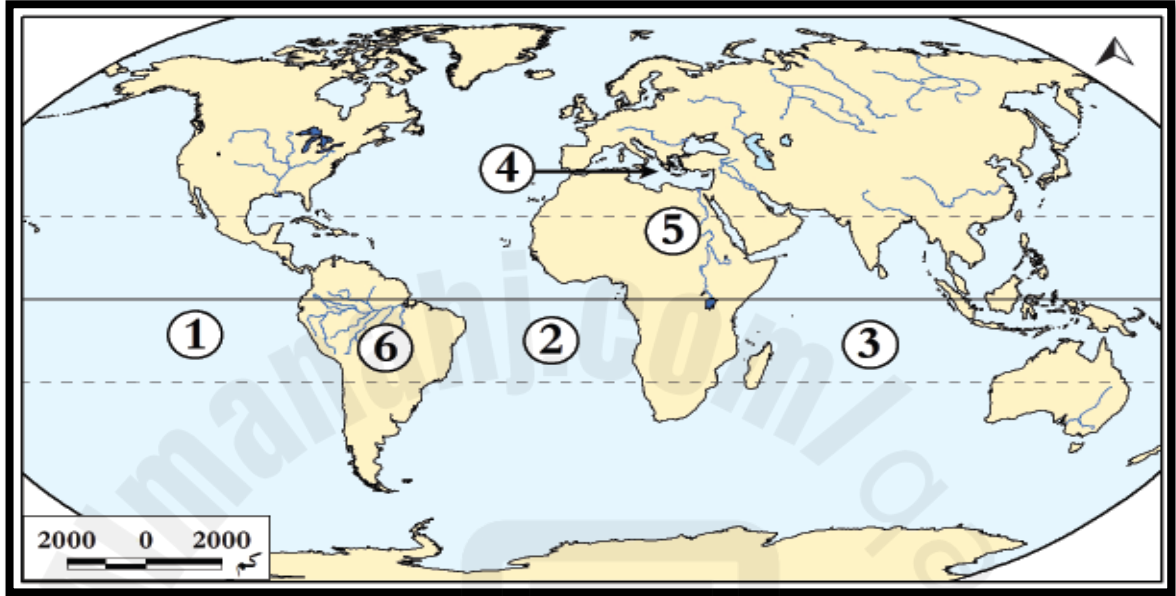
الإجابة:

1- البراكين

2- الموجات الزلزالية

8

1- أ- أمامك خريطة صماء للعالم وضع الي ما تدل عليه الأرقام التالية :



- 1) المحيط الهادي
- 2) المحيط الاطلنطي
- 3) المحيط الهندي
- 4) البحر المتوسط
- 5) نهر النيل
- 6) نهر الامازون



9

أ - رتب الأحداث التاريخية الآتية في الحضارة المصرية القديمة ترتيباً زمنياً صحيحاً من الأقدم إلى الأحدث على الخط الزمني التالي:

(طرد الهكسوس - عصر بناء الاهرامات - الدولة الوسطي)

