

تم تحميل هذا الملف من موقع المناهج القطرية



تدريبات اثرائية وعلاجية منتصف الفصل غير مجانية



موقع المناهج ← المناهج القطرية ← المستوى الثامن ← اجتماعيات ← الفصل الأول ← ملفات متنوعة ← الملف

تاريخ إضافة الملف على موقع المناهج: 2024-10-22 02:40:18

ملفات اكتب للمعلم اكتب للطالب | اختبارات الكترونية | اختبارات | حلول | عروض بوربوينت | أوراق عمل
منهج انجليزي | ملخصات و تقارير | مذكرات و بنوك | الامتحان النهائي للمدرس

المزيد من مادة
اجتماعيات:

التواصل الاجتماعي بحسب المستوى الثامن



صفحة المناهج
القطرية على
فيسبوك

الرياضيات

اللغة الانجليزية

اللغة العربية

التربية الاسلامية

المواد على تلغرام

المزيد من الملفات بحسب المستوى الثامن والمادة اجتماعيات في الفصل الأول

مراجعات الأندلس منتصف الفصل غير مجانية	1
أوراق عمل الأندلس الوحدة الثانية والثالثة مع الإجابة النموذجية	2
أوراق عمل الأندلس الوحدة الثانية والثالثة غير مجانية	3
أوراق عمل الأندلس الوحدة الأولى غير مجانية	4
تدريبات اثرائية غير مجانية استعدادا لاختبار منتصف الفصل	5

الدراسات الاجتماعية

الفصل الدراسي الأول

المستوى الثامن

كتاب الطالب

الدراسات الاجتماعية (الصف الثامن)

المراجعة والتدقيق العلمي والتربوي

خبراء تربويون وأكاديميون من:

كلية التربية - جامعة قطر

إدارة المناهج الدراسية ومصادر التعلم

إدارة التوجيه التربوي

معلمي ومنسقي المدارس

الإشراف العام

إدارة المناهج الدراسية ومصادر التعلم



تدريبات اثرائية وعلاجية
منتصف الفصل الأول للعام
الدراسي 2024-2025

هذه الأوراق لا تغني عن الكتاب

الصف الثامن	تدريبات اثرانية وعلاجية (الدراسات الاجتماعية) منتصف الفصل الاول 2024-2025	هذه الأوراق لا تغني عن الكتاب	
المجال: الجغرافيا	الوحدة الأولى 36-12	الدرس الأول : تركيب باطن الأرض الدرس الثاني : أغلفة الأرض	
السؤال الأول : اختر الإجابة الصحيحة مما يلي :			
أولاً: الطبقة التي تقع أسفل القشرة الأرضية مباشرة :			
أ- النواة الداخلية	ب- النواة الخارجية	ج- الوشاح العلوي	
د- الوشاح السفلي			
ثانياً: إحدى طبقات الأرض رقيقة السُمك :			
أ- القشرة الأرضية	ب- النواة	ج- الوشاح العلوي	
د- الوشاح السفلي			
ثالثاً: تمثل طبقة السيماء :			
أ- قمم الجبال الخارجية	ب- قيعان المحيطات	ج- النواة الداخلية	
د- النواة			
رابعاً: أكثر طبقات الأرض سمكاً:			
أ- النواة الداخلية	ب- القشرة الأرضية	ج- الوشاح	
د- النواة الخارجية			
خامساً: يتركز الحديد والنيكل في طبقة :			
أ- السيماء	ب- النواة	ج- السيل	
د- الوشاح			
سادساً: أي مما يلي من أنواع الصخور النارية :			
أ- النيس	ب- الطين	ج- الجرانيت	
د- الشيست			
سابعاً: الطبقة التي تقع أسفل القشرة الأرضية مباشرة:			
أ- النواة الداخلية	ب- النواة الخارجية	ج- الوشاح العلوي	
د- الوشاح السفلي			
ثامناً: أكبر المحيطات مساحة المحيط:			
أ- الهادي	ب- الهندي	ج- الاطلنطي	
د- المتجمد الشمالي			
عاشراً: الوسط الذي تعيش فيه الكائنات الحية يسمى الغلاف:			
أ- المائي	ب- الغازي	ج- الحيوي	
د- الصخري			
حادي عشر: أي مما يلي يعد أطول انهار العالم:			
أ- النيل	ب- دارلنج	ج- المسيسيبي	
د- الأمازون			
ثاني عشر: الطبقة التي تعد أكثر طبقات الأرض حرارة:			
أ- النواة الداخلية	ب- النواة الخارجية	ج- الوشاح العلوي	
ب-	د- الوشاح السفلي		

الصف الثامن

تدريبات اثرانية وعلاجية (الدراسات الاجتماعية)
منتصف الفصل الاول 2024-2025

هذه الأوراق لا تغني عن الكتاب

ثالث عشر: استدل العلماء على تركيب باطن الأرض من خلال :

أ- البحار ب- المحيطات ج- التضاريس د- الزلازل والبراكين

ب- رابع عشر: يعتبر المحيط القطبي الشمالي.....المحيطات :

أ- أصغر ب- أكبر ج- اعماق د- أغزر

السؤال الثاني : أجب عن الأسئلة التالية :

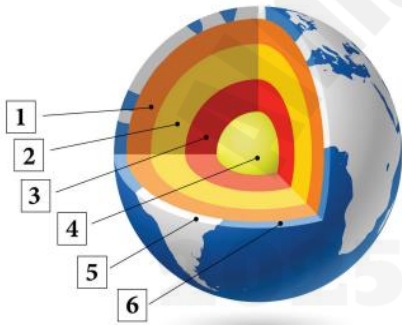
أولا : عدد طبقات باطن الأرض الرئيسية

1-.....

2-.....

3-.....

ثانيا: من الشكل التالي وضح ما تشير إليه الأرقام الآتية :



1- طبقة:.....

2-طبقة:.....

3-طبقة.....

4-طبقة.....

5-طبقة.....

6- طبقة.....

ثالثا: قارن بين النواة الداخلية والنواة الخارجية من حيث الحالة ودرجة الحرارة :

أوجه المقارنة	النواة الداخلية	النواة الخارجية
الحالة		
درجة الحرارة		

رابعاً: ما الفرق بين طبقة سيال وطبقة السيماء

.....

.....

- وضح كيف استدل العلماء على تركيب باطن الأرض.

..... و.....

- وضح أي الطبقات أكثر سماكة

- حدد أكثر طبقات باطن الأرض حرارة

- بم تفسر أهمية الغلاف الحيوي ؟

.....

.....

أجب عما يلي :

عدد أنواع صخور القشرة الأرضية .

..... و..... و.....

وضح أهمية الغلاف الجوي .

.....-1

.....-2

.....-3

اذكر مكونات الغلاف الجوي.

.....-1-2-3

ما النتائج المترتبة على :

1- وجود طبقة الأوزون في الغلاف الجوي

.....

2- ارتفاع نسبة المياه المالحة على سطح الأرض

.....

خامسا : بم تفسر ما يلي :

1- أهمية الغلاف الصخري .

.....

.....

.....

الصف الثامن

تدريبات اثرانية وعلاجية (الدراسات الاجتماعية)
منتصف الفصل الاول 2024-2025

هذه الأوراق لا تغني عن الكتاب

2- أهمية الغلاف المائي .

.....

.....

.....

سادسا: قارن بين أنواع الصخور القشرة الأرضية من خلال الجدول التالي :

نوع الصخور	النارية	الرسوبية
الشكل
المميزات
الأمثلة

سابعا: قارن بين أقسام الغلاف المائي من حيث النسبة والأمثلة :

الاقسام	المياه العذبة	المياه المالحة
النسبة %
الأمثلة

ثامنا : عرف ما يلي :

1- الغلاف الصخري .

.....

2- الغلاف الجوي .

.....

3- الغلاف الحيوي .

.....

تاسعا : أمامك خريطة للعالم وضح ما تدل عليه الأرقام :

1- المحيط:

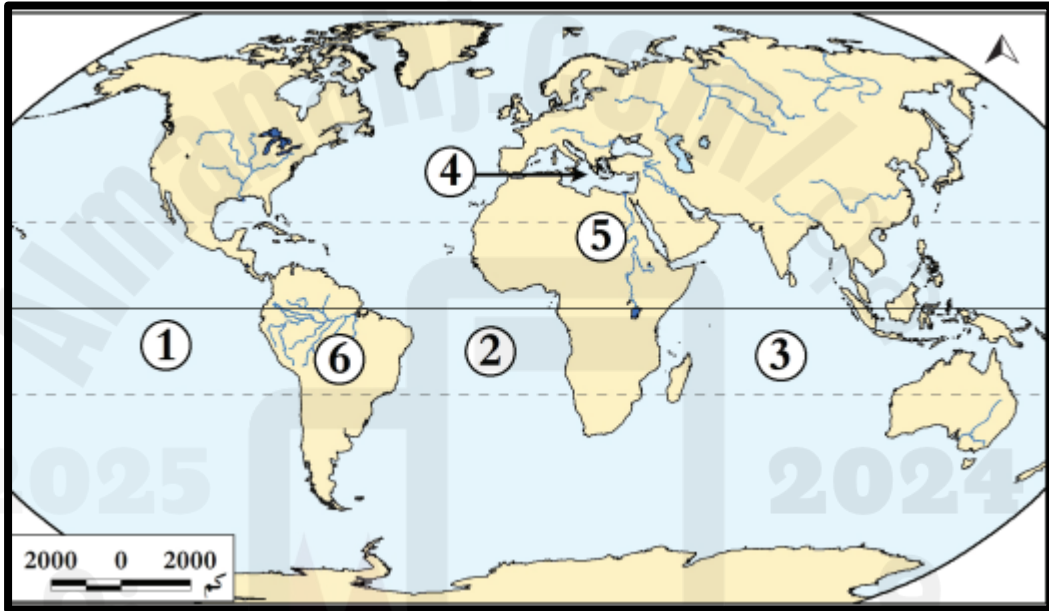
2- المحيط:

3- المحيط:

4- البحر:

5- نهر: 6- نهر:

-6



الصف الثامن	تدريبات اثرانية وعلاجية (الدراسات الاجتماعية) منتصف الفصل الاول 2024-2025	هذه الأوراق لا تغني عن الكتاب
-------------	--	-------------------------------

المجال: التاريخ	الوحدة الثانية 61-42	الدرس الأول: الحضارة المصرية وعوامل قيامها الدرس الثاني: مظاهر الحضارة المصرية
-----------------	-------------------------	---

السؤال الأول: اختر الإجابة الصحيحة مما يلي:

أولاً: تم توحيد القطرين الشمالي والجنوبي لمصر على يد الملك:

أ- نارمر ب- خوفو ج- سنفرو د- زوسر

ثانياً: تميزت مصر بالرخاء الاقتصادي في عصر الدولة:

أ- القديمة ب- الوسطى ج- الحديثة د- العتيق

ثالثاً: عاصمة الدولة القديمة:

أ- منف ب- طيبة ج- الجيزة د- الأقصر

رابعاً: أي مما يلي الملك الذي طرد الهكسوس من مصر:

أ- زوسر ب- خوفو ج- سنوسرت الثالث د- أحمس الأول

خامساً: من أهم ملوك عصر الدولة الوسطى:

أ- أحمس الأول ب- نارمر ج- زوسر د- سنوسرت الثالث

سادساً: يرجع اهتمام المصريين القدماء بالتحنيط الى:

أ- تعدد المعبودات ب- الحساب بعد الموت ج- الاهتمام بالطب د- الاعتقاد بالبعث والخلود

سابعاً: من الصناعات القائمة على ورق البردي:

أ- الأثاث ب- المنسوجات ج- التيجان د- الورق

ثامناً: من النساء اللاتي كان لهن دور في مواجهة الهكسوس

أ- كليوباترا ب- حتشبسوت ج- مريت آتون د- إياح حُتَب

عاشراً: أي مما يلي من اهم المعابد التي بناها المصريون القدماء:

أ- الكرنك ب- جيبيل ج- الأسود المجنحة د- إدفو

حادي عشر: "على هيئة صور لظواهر طبيعية وكانات حية عبروا من خلالها عن المعاني التي يريدونها" يشير التعريف السابق الى الكتابة:

أ- الاوغاريتية ب- المسمارية ج- الهيروغليفية د- الفينيقية

ثاني عشر: أي مما يلي من مكونات الطبقة الدنيا للمجتمع المصري القديم:

أ- الخدم والعمال ب- الفرعون ج- الوزير د- صغار الفنانين

الصف الثامن

تدريبات أثرانية وعلاجية (الدراسات الاجتماعية)
منتصف الفصل الاول 2024-2025

هذه الأوراق لا تغني عن الكتاب

السؤال الثاني : أجب عن الأسئلة التالية :

1- قارن بين العصر العتيق وعصر الدولة القديمة من حيث الاسر الحاكمة وسمات كل عصر:

وجه المقارنة	العصر العتيق	عصر الدولة القديمة
الاسر الحاكمة
سمات كل عصر

2- عرف كلا مما يلي :

الأهرامات :

.....

التحنيط :

.....

الكتابة الهيروغليفية :

.....

3- أسهمت مجموعة من العوامل في قيام الحضارة المصرية. وضح ذلك

1-.....

2-.....

3-.....

الصف الثامن

تدريبات أثرانية وعلاجية (الدراسات الاجتماعية)
منتصف الفصل الاول 2024-2025

هذه الأوراق لا تغني عن الكتاب

اذكر عملا منسوباً لكل من الشخصيات التاريخية التالية في الحضارة المصرية :
أحمس الأول :
سنوسرت الثالث:

دلل على ما يلي : تميز عصر الدولة الوسطى في مصر قديماً بالرخاء الاقتصادي :

دلل على براعة المصريين القدماء في مجال النحت .

ما العلاقة بين موقع مصر وازدهار التجارة ؟

أمامك مجموعة من مظاهر الحضارة المصرية القديمة صنفها في الجدول التالي :
الكتابة الهيروغليفية - التحنيط - إقامة السدود - بناء المعابد - الوزير - ورق البردي

المظاهر الثقافية والفكرية:
المظاهر الفنية:
المظاهر الدينية:
المظاهر السياسية:
المظاهر الاقتصادية:

ما العلاقة بين نهر النيل وقيام الحضارة المصرية القديمة ؟

الصف الثامن

تدريبات اثرانية وعلاجية (الدراسات الاجتماعية)
منتصف الفصل الاول 2024-2025

هذه الأوراق لا تغني عن الكتاب

4- اذكر عناصر الحكم في الحضارة المصرية القديمة .

- 1-
2-
3-
4 -

5- وضح أهم خصائص الديانة المصرية القديمة .

- 1-
2-
3-

6- تكون المجتمع المصري من عدة طبقات , دال على ذلك .

- 1-
2-
3-

7- دال على مكانة المرأة العالية عند المصريين القدماء

-
.....

8- رتب الاحداث التاريخية التالية ترتيبا صحيحا على الخط الزمني بدءا من الاقدم الى

الاحداث:

(دخول عمرو بن العاص مصر - توحيد القطرين - طرد الهكسوس - انتهاء الحكم الفرعوني)

--	--	--	--

9- ماذا ترتب على اعتقاد المصريين القدماء بالبعث والخلود

-
.....

مع التمنيات بالتوفيق والنجاح

الصف الثامن	تدريبات اثرانية وعلاجية (الدراسات الاجتماعية) منتصف الفصل الاول 2024-2025	هذه الأوراق لا تغني عن الكتاب
-------------	--	-------------------------------

المجال: المواطنة الإثرائية : الدرس الأول المواطنة	الوحدة الثالثة ص 76-83	الدرس الثاني: المشاركة المدنية في دولة قطر ص 76-83
--	---------------------------	---

السؤال الأول : اختر الإجابة الصحيحة مما يلي :

أولاً: " جمعيات غير ربحية مستقلة عن الحكومة ينشئها اشخاص بغرض خدمة المجتمع وتحقيق أهدافه " يشير ما سبق لمفهوم :

أ-الولاء ب- الانتماء ج-المواطنة د- هيئات المجتمع المدني

ثانياً: تلبية احتياجات أجهزة الدولة الحكومية والخاصة من المتطوعين من أهداف :

أ-نماء ب- طموح ج- إحسان د- جمعية الهلال الأحمر القطري

ثالثاً: "تمكين كبار السن ورعايتهم من أهداف :

أ- نماء ب- طموح ج- إحسان د- جمعية الهلال الأحمر القطري

رابعاً: تهدف جمعية الهلال الأحمر القطري إلى :

أ- رعاية كبار السن ب- تمويل المشاريع ج- إقامة المعسكرات التدريبية د- تقديم مساعدات مالية

السؤال الثاني : أجب عن الأسئلة التالية :

1- بم تفسر أهمية هيئات المجتمع المدني .

.....

.....

.....

2- عدد هيئات المجتمع المدني في دولة قطر .

.....

.....

.....

الصف الثامن

تدريبات اثرانية وعلاجية (الدراسات الاجتماعية)
منتصف الفصل الاول 2024-2025

هذه الأوراق لا تغني عن الكتاب

3- وضح مجالات مشاركة الفرد في هيئات المجتمع المدني

.....
.....
.....

4- اذكر أهداف جمعية الهلال الأحمر القطري .

.....
.....

5- وضح أثر مشاركة الفرد في هيئات المجتمع المدني .

.....
.....
.....

6- عدد اهداف مركز تمكين ورعاية كبار السن (احسان)

.....
.....

7- اذكر أهداف مؤسسة طموح لإدارة العمل التطوعي .

.....

الصف الثامن

تدريبات اثرانية وعلاجية (الدراسات الاجتماعية)
منتصف الفصل الاول 2024-2025

هذه الأوراق لا تغني عن الكتاب

