

تم تحميل هذا الملف من موقع المناهج القطرية



أوراق مراجعة المهارات النظرية منتصف الفصل غير محلولة

موقع المناهج ← المناهج القطرية ← المستوى الثامن ← علوم الحاسب ← الفصل الأول ← أوراق عمل ← الملف

تاريخ إضافة الملف على موقع المناهج: 2024-10-23 19:49:36

ملفات اكتب للمعلم اكتب للطالب الاختبارات الكترونية الاختبارات ا حلول اعروض بوربوينت ا أوراق عمل
منهج انجليزي ا ملخصات وتقارير ا مذكرات وبنوك الامتحان النهائي للمدرس

المزيد من مادة
علوم الحاسب:

التواصل الاجتماعي بحسب المستوى الثامن



صفحة المناهج
القطرية على
فيسبوك

الرياضيات

اللغة الانجليزية

اللغة العربية

التربية الاسلامية

المواد على تلغرام

المزيد من الملفات بحسب المستوى الثامن والمادة علوم الحاسب في الفصل الأول

أوراق عمل اثنائية لاختبار منتصف الفصل غير محلولة

1

أوراق عمل الأندلس منتصف الفصل مع الإجابة النموذجية

2

أوراق عمل الأندلس منتصف الفصل غير محلولة

3

الإجابة النموذجية لتدريبات الكتاب المدرسي

4

أوراق عمل ومراجعات اختبار منتصف الفصل

5

مراجعة المهارات النظرية في مادة الحاسوب منتصف الفصل الدراسي الأول صف ثامن
أكمل ما يلي :-

1- القصة في السيناريو مجزأة إلى مشاهد وكل مشهد ينقسم إلى

2- الخطوة الأولى لصنع الفيلم هي

3- من امتدادات ملفات الصورة و و

4- من امتدادات ملفات الصوت و

5- من امتدادات ملفات الفيديو و و

6- تصنف ملفات الوسائط إلى الصور والصوت و.....

7- AVI هو أحد تنسيقات ملفات

8- أكثر ملفات الصوت المضغوطة شيوعاً

9- الحدث الذي يحصل في مكان ووقت معين هو.....

10- هو التخطيط لظهور كل مشهد بشكل تفصيلي

-قارن باختصار بين ملفات الصوت المضغوطة وغير المضغوطة من حيث الحجم والجودة

| - ملفات الصوت غير المضغوطة | - ملفات الصوت المضغوطة |
|----------------------------|------------------------|
| | |
| | |

مراجعة المهارات النظرية في مادة الحاسوب منتصف الفصل الدراسي الأول صف ثامن

| | |
|----|---|
| 1. | امتداد الملف يُظهر _____. |
| 2. | تصنف ملفات الوسائط إلى الصور و _____ ومقاطع الفيديو. |
| 3. | تتميز مقاطع الفيديو عالية الدقة (HD) بجودة أعلى من مقاطع الفيديو _____. |
| 4. | حجم مقطع الفيديو (HD) _____ حجم مقطع فيديو (SD). |
| 5. | حجم الملف الأصلي _____ من حجم الملف المضغوط. |
| 6. | AVI هو أحد تنسيقات ملفات _____. |

مراجعة المهارات النظرية في مادة الحاسوب منتصف الفصل الدراسي الأول صف ثامن

اختر الإجابة الصحيحة.

| | | |
|-----------------------|---------------|---------------------------------|
| <input type="radio"/> | القصة المصورة | 1. الخطوة الأولى لصنع الفيلم هي |
| <input type="radio"/> | السيناريو | |
| <input type="radio"/> | الحوار | |
| <input type="radio"/> | التجزئة | |

| | | |
|-----------------------|---------|-------------------------|
| <input type="radio"/> | الأبطال | 2. ليس جزء من السيناريو |
| <input type="radio"/> | الأحداث | |
| <input type="radio"/> | الحوار | |
| <input type="radio"/> | التجزئة | |

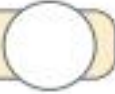
| | | |
|-----------------------|--------------------------------|---------------------------------|
| <input type="radio"/> | لقطات وكل لقطة تنقسم إلى مشاهد | 3. القصة في السيناريو مجزأة إلى |
| <input type="radio"/> | مشاهد وكل مشهد ينقسم إلى لقطات | |
| <input type="radio"/> | أحداث وكل حدث ينقسم إلى لقطات | |
| <input type="radio"/> | لقطات وكل لقطة تنقسم إلى أحداث | |

| | | |
|-----------------------|----------------------|---|
| <input type="radio"/> | مصمم موقع التصوير | 4. الشخص/مجموعة الأشخاص الذين لديهم الكلمة الأخيرة حول المشهد |
| <input type="radio"/> | الممثلين | |
| <input type="radio"/> | المخرج | |
| <input type="radio"/> | أي عضو في فريق العمل | |


مراجعة المهارات النظرية في مادة الحاسوب منتصف الفصل الدراسي الأول صف ثامن

صل كل امتداد بنوع الملف المناسب. يمكنك البحث عبر الويب للحصول على المعلومات.

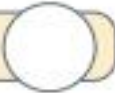
.gif




.mp3




.mpg



.tif



.png



1. ملفات الصور

.wma



.mp4

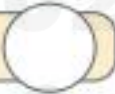


2. ملف صوتي

.jpg

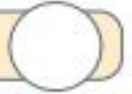


.bmp



3. ملف فيديو

.wav



.wmv



.avi



.mkv



مراجعة المهارات النظرية في مادة الحاسوب منتصف الفصل الدراسي الأول صف ثامن

ضع علامة ✓ أمام العبارة الصحيحة وعلامة ✗ أمام العبارة الخاطئة، ثم صحح العبارات الخاطئة.

| | |
|----|---|
| 1. | كلما زاد عدد الميجا بكسل وكانت عدسة الكاميرا أفضل زادت درجة وضوح الصورة. |
| 2. | يجمع ملف الفيديو صوتًا وأصواتًا ونصوصًا مختلفة، لكل منها ترميزه الخاص به. |
| 3. | يعتبر TIF امتدادًا لملف صورة بحجم أكبر من JPEG وبجودة أعلى. |
| 4. | جودة الملفات الصوتية غير المضغوطة تبقى تمامًا كما تم تسجيلها وهي صغيرة جدًا في الحجم. |
| 5. | أكثر ملفات الصوت المضغوطة شيوعًا هي MP3 و WMA. |
| 6. | من غير الممكن ضغط الملف لتصغير حجمه دون إحداث تأثير على جودته. |
| 7. | تبقى الملفات الصوتية غير المضغوطة محتفظة بجودتها ولكنها تأخذ حيزًا كبيرًا من المساحة عند الحفظ. |

مراجعة المهارات النظرية في مادة الحاسوب منتصف الفصل الدراسي الأول صف ثامن

اختر الإجابة الصحيحة لكل مما يلي:

| | | |
|-----------------------|---|--|
| <input type="radio"/> | .gif | 1. أي من التالية يعد امتداد لصورة؟ |
| <input type="radio"/> | .aac | |
| <input type="radio"/> | .avi | |
| <input type="radio"/> | .MP4 | |
| <input type="radio"/> | أصغر في الحجم وتفقد بعض من جودتها. | 2. ملفات الصوت المضغوطة: |
| <input type="radio"/> | أصغر في الحجم ولا تفقد شيئاً من جودتها. | |
| <input type="radio"/> | أكبر في الحجم وتفقد بعض من جودتها. | |
| <input type="radio"/> | أكبر في الحجم ولا تفقد شيئاً من جودتها. | |
| <input type="radio"/> | اسم فقط. | 3. لكل ملف: |
| <input type="radio"/> | اسم وامتداد. | |
| <input type="radio"/> | اسمان وامتداد. | |
| <input type="radio"/> | اسمان وامتدادان. | |
| <input type="radio"/> | .gif | 4. أي من الامتدادات التالية لملف صوتي: |
| <input type="radio"/> | .jpg | |
| <input type="radio"/> | .mp3 | |
| <input type="radio"/> | .avi | |