

تم تحميل هذا الملف من موقع المناهج القطرية



أوراق عمل مسيعيد قبل اختبار منتصف الفصل غير محلولة

موقع المناهج ← المناهج القطرية ← المستوى التاسع ← اجتماعيات ← الفصل الأول ← أوراق عمل ← الملف

تاريخ إضافة الملف على موقع المناهج: 2024-10-22 21:16:04

ملفات اكتب للمعلم اكتب للطالب | اختبارات الكترونية | اختبارات | حلول | عروض بوربوينت | أوراق عمل
منهج انجليزي | ملخصات وتقارير | مذكرات وبنوك | الامتحان النهائي للمدرس

المزيد من مادة
اجتماعيات:

التواصل الاجتماعي بحسب المستوى التاسع



صفحة المناهج
القطرية على
فيسبوك

الرياضيات

اللغة الانجليزية

اللغة العربية

التربية الاسلامية

المواد على تلغرام

المزيد من الملفات بحسب المستوى التاسع والمادة اجتماعيات في الفصل الأول

أوراق عمل مسيعيد قبل اختبار منتصف الفصل مع الإجابة النموذجية

1

أوراق عمل شاملة لاختبار منتصف الفصل مع الإجابة النموذجية

2

أوراق عمل الوحدة الأولى مع الإجابة النموذجية

3

أوراق عمل في الوحدة الثالثة مع الإجابة النموذجية

4

أوراق عمل في الوحدة الثانية مع الإجابة

5



العام الدراسي
2025-2024

الصف التاسع
9



مادة الدراسات الاجتماعية

تدريبات علاجية - واجبات

منهاج منتصف الفصل الدراسي الأول
الوحدة الأولى + الوحدة الثانية + الوحدة الثالثة

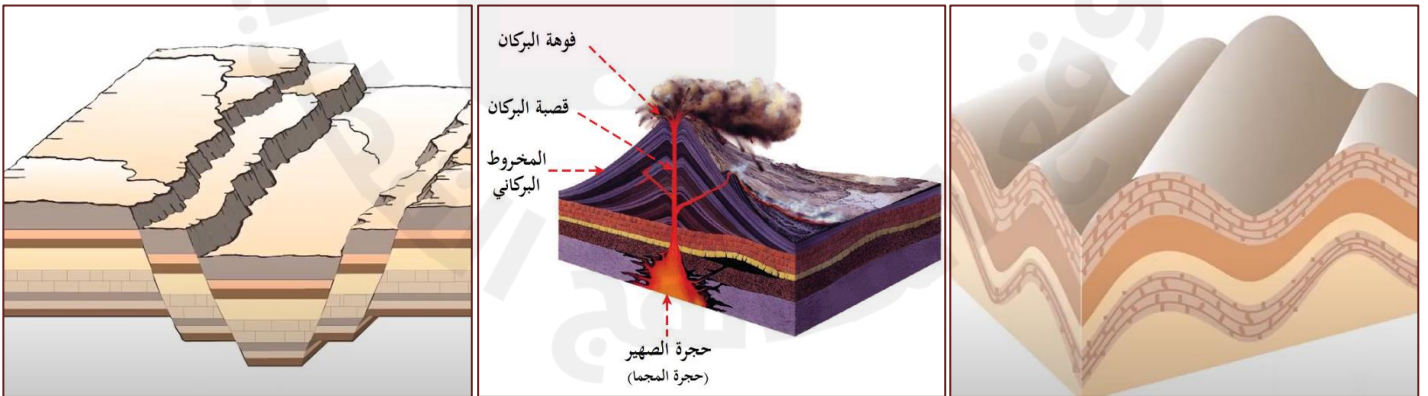
اسم الطالب:

الصف: التاسع

ملحوظة هامة: هذه الأسئلة إثرائية ولا تغني عن الكتاب المدرسي وهو
المصدر الرئيس للتعلم



الوحدة الأولى: العوامل الباطنية المؤثرة في تشكيل سطح الأرض





التاريخ	الدرس	الأسبوع
01 - 05/09/2024م	العوامل الباطنية البطيئة المؤثرة في تشكيل سطح الأرض	1

اختر الإجابة الصحيحة لكل من الأسئلة من 1 إلى 4 وذلك بوضع علامة x داخل المربع المجاور للإجابة الصحيحة.

تعليمات

1- (شق يحدث في الصخور الصلبة للقشرة الأرضية بسبب قوى شد أو ضغط رأسية)؛

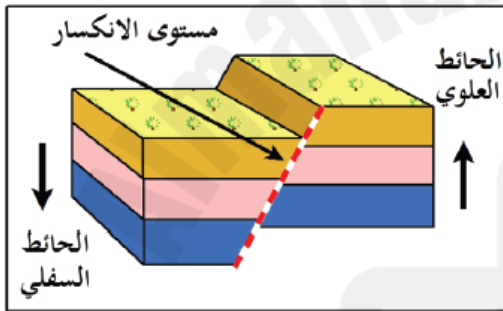
يشير التعريف السابق لمفهوم:

الالتواء

الانكسار

البراكين

الزلازل



2- يشير الشكل المقابل لأحد أنواع الانكسارات وهو:

السلمي

المعكوس

صدع الشد

صدع الضغط

3- أي الجبال الآتية تمثل أحد الجبال الانكسارية شرق البحر الأحمر؟

الحجاز

الهيمالايا

زاغروس

دراكنزبرج

4- (ثني الطبقات الصخرية اللينة الرسوبية وتقوسها إلى أعلى أو أسفل نتيجة لحركات الضغط الأفقي من الجانبين)

يشير التعريف السابق لمفهوم:

الالتواء

الانكسار

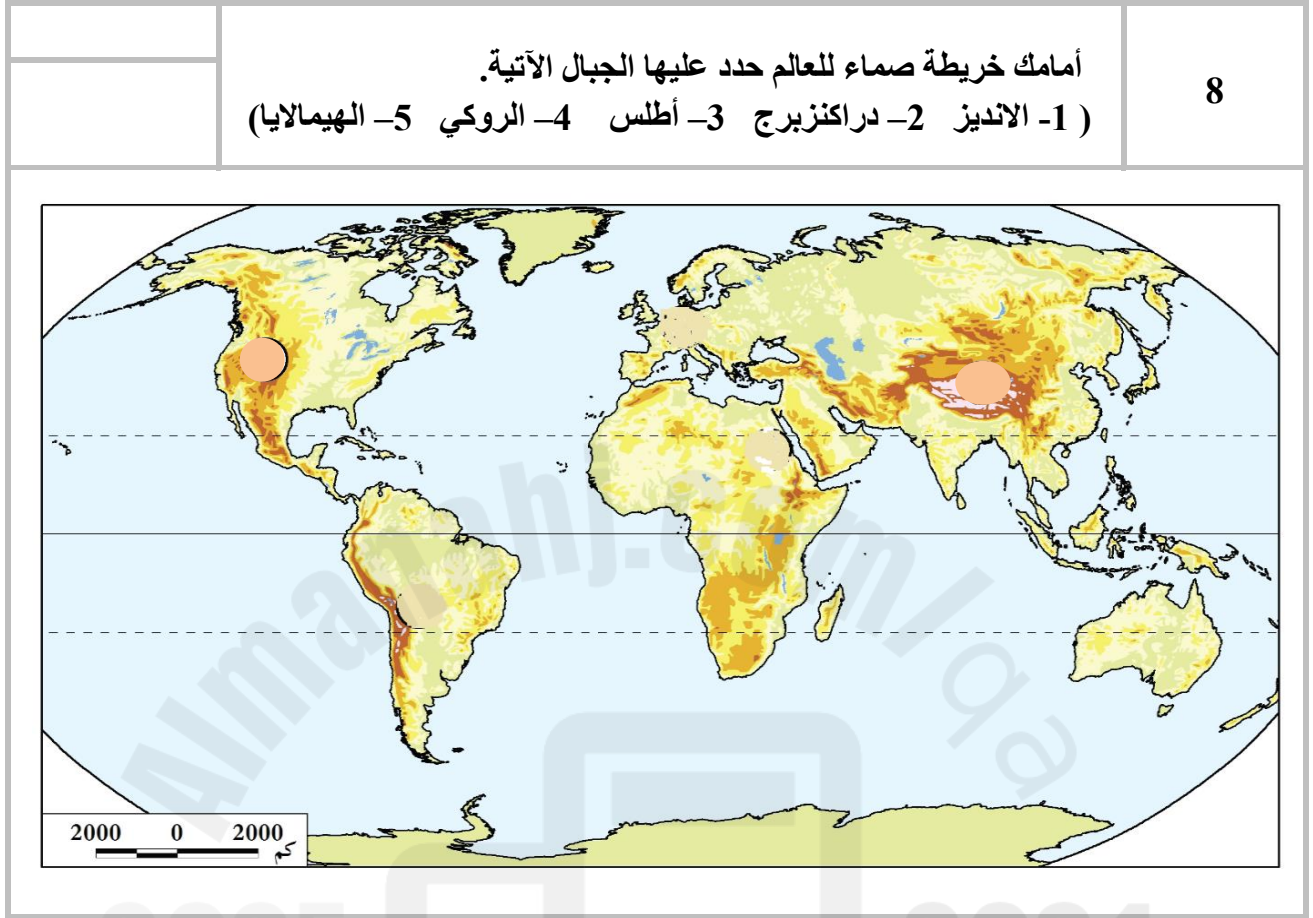
البراكين

الزلازل



تعليمات عند الإجابة على الأسئلة من 05 إلى 08، اكتب إجابتك في الفراغ المخصص للإجابة:

تعليمات					
5	قارن بين الأشكال التضاريسية الناتجة عن كل من الالتواءات والانكسارات.				
	<table border="1"><thead><tr><th>الأشكال التضاريسية الناتجة عن الالتواءات</th><th>الأشكال التضاريسية الناتجة عن الانكسارات</th></tr></thead><tbody><tr><td></td><td></td></tr></tbody></table>	الأشكال التضاريسية الناتجة عن الالتواءات	الأشكال التضاريسية الناتجة عن الانكسارات		
الأشكال التضاريسية الناتجة عن الالتواءات	الأشكال التضاريسية الناتجة عن الانكسارات				
6	اذكر أهم الجبال الانكسارية شرق البحر الأحمر.				
	الإجابة: -1 -2 -3				
7	عدد أنواع الانكسارات.				
	الإجابة: -1 -2 -3				





التاريخ	الدرس	الأسبوع
08 - 12 / 09 / 2024م	العوامل الباطنية البطيئة والسريعة المؤثرة في تشكيل سطح الأرض	2

اختر الإجابة الصحيحة لكل من الأسئلة من 1 إلى 4 وذلك بوضع علامة x داخل المربع المجاور للإجابة الصحيحة.

تعليمات

1- أي الأشكال التضاريسية الآتية تمثل الخوانق الأرضية العميقة؟

- خليج العقبة
 غور الأردن
 الخليج العربي
 نهر كلورادو

2- الهضبة الالتوائية الممتدة في قارة أمريكا الشمالية:

- التبت
 الشطوط
 المكسيك
 الأناضول

3- (هزات أرضية سريعة تصيب أجزاء من القشرة الأرضية، وتنتشر على شكل موجات أفقية)؛

يشير التعريف السابق لمفهوم:

- الالتواء
 الانكسار
 البراكين
 الزلازل

4- يبدأ نطاق البحر المتوسط الآسيوي للزلازل من:

- إيران
 تركيا
 اندونيسيا
 جزر الأزور



	8	أمامك شكل يوضح الأجزاء التي يتكون منها البركان، اكتب الأجزاء المشار إليها بالأرقام الآتية:
	الإجابة: -1 -2 -3	
	9	حدد طرق التعامل مع أخطار الزلازل حال وقوعها في الأماكن الآتية:
	داخل مبنى: -1 -2 -3 في الشارع: -1 -2 -3	
	10	اذكر نطاقات توزيع الزلازل.
	الإجابة: -1 -2	



التاريخ	الدرس	الأسبوع
15 - 19 / 09 / 2024م	العوامل الباطنية السريعة المؤثرة في تشكيل سطح الأرض	3

اختر الإجابة الصحيحة لكل من الأسئلة من 1 إلى 4 وذلك بوضع علامة x داخل المربع المجاور للإجابة الصحيحة.

تعليمات

1- أي الجبال الآتية تمثل أحد الجبال البركانية في اليابان؟

- فيجي
 كلمنجارو
 سانت هيلين
 مونت بيليه

2- تقع بحيرة تال أحد البحيرات البركانية في:

- إثيوبيا
 الفلبين
 اليابان
 تركيا

3- البراكين التي لا يعرف إذا كانت ستثور مرة ثانية:

- الميتة
 النشطة
 الخاملة
 المتقطعة

4- الهضبة البركانية التي توجد في جنوب غرب آسيا:

- إيران
 اليمن
 الحبشة
 سيبيريا



تعليمات

عند الإجابة على الأسئلة من 05 إلى 07، اكتب إجابتك في الفراغ المخصص للإجابة:

	عدد أنواع البراكين حسب الثوران.	5
الإجابة:		
	-1
	-2
	-3
	ما الأشكال التضاريسية الناتجة عن البراكين؟	6
الإجابة:		
	-1
	-2
	-3
	وضح طرق التعامل مع أخطار البراكين.	7
الإجابة:		
	-1
	-2
	-3



الوحدة الثانية: الحضارة اليونانية ” الإغريقية ”





التاريخ	الدرس	الأسبوع
22 - 09/26 / 2024م	نشأة الحضارة اليونانية	4

تعليمات
اختر الإجابة الصحيحة لكل من الأسئلة من 1 إلى 4 وذلك بوضع علامة x داخل المربع المجاور للإجابة الصحيحة.

1- أي الجزر الآتية تُعد المعبر الرئيس للاتصال الحضاري بين حضارات الشرق القديم والحضارة اليونانية القديمة؟

- كريت وقبرص
 صقلية وسردينيا
 رودس وصقلية
 قبرص وسردينيا

2- المدينة التي تميزت بنظامها العسكري الصارم هي:

- أثينا
 أسبرطة
 طروادة
 مقدونيا

3- المدينة التي تميزت بنظامها الديمقراطي هي:

- أثينا
 أسبرطة
 طروادة
 مقدونيا

4- السبب في انقسام الإمبراطورية اليونانية عام 323 ق م هو:

- وفاة الاسكندر
 غزو الرومان
 قيام دولة المدينة
 تولي فيليب المقدوني الحكم



تعليمات

عند الإجابة على الأسئلة من 05 إلى 07، اكتب إجابتك في الفراغ المخصص للإجابة:

		5	وضح عوامل قيام الحضارة اليونانية.
			الإجابة:
			1-
			2-
			3-
		6	رتب الأحداث التاريخية الآتية في الحضارة اليونانية ترتيباً زمنياً صحيحاً من الأقدم إلى الأحدث على الخط الزمني التالي:
			الأحداث : (إقامة الإمبراطورية اليونانية – تأسيس دولة المدينة – انقسام الإمبراطورية اليونانية)
			الإجابة:
			323 ق م
			332 ق م
			900 ق م
		7	قارن بين حضرتي مدينة أسبرطة ومدينة أثينا اليونانيتين؛ من حيث نظامها واهتماماتها:
			وجه المقارنة
			النظام المتبع فيها
			اهتماماتها



التاريخ	الدرس	الأسبوع
29 - 03/09 - 10 / 2024م	مظاهر الحضارة اليونانية	5

اختر الإجابة الصحيحة لكل من الأسئلة من 1 إلى 5 وذلك بوضع علامة x داخل المربع المجاور للإجابة الصحيحة.

تعليمات

1- كبير الآلهة عند الإغريق هو:

- آمون
- زيوس
- جوبيتر
- أريس

2- تم اشتقاق الحروف اليونانية من الحروف:

- الهندية
- الصينية
- اللاتينية
- الفينيقية

3- أول من كتب في التاريخ ولُقّب بأبي التاريخ:

- سقراط
- بطليموس
- فيثاغورث
- هيرودوتس

4- أبو الطب البشري الذي وضع قسماً فرضه على كل من أراد أن يمارس مهنة الطب:

- أبقراط
- سقراط
- بطليموس
- فيثاغورث

5- أبو الجغرافيا الذي من أفكاره أن الأرض كروية ثابتة:

- سقراط
- بطليموس
- فيثاغورث
- هيرودوتس



تعليمات

عند الإجابة على الأسئلة من 06 إلى 14، اكتب إجابتك في الفراغ المخصص للإجابة:

6	اذكر المراحل التي مر بها نظام الحكم في الحضارة اليونانية.
الإجابة:	
-1	
-2	
-3	
-4	
7	عرف مفهوم الدولة المدينة.
الإجابة:	
.....	
.....	
8	عدد أقسام الأراضي الزراعية في بلاد اليونان قديماً.
الإجابة:	
-1	
-2	
-3	
9	اذكر أشهر الصناعات التي قامت في بلاد اليونان قديماً.
الإجابة:	
-1	
-2	
-3	



					10	قارن بين الصادرات والواردات في بلاد اليونان قديماً.
الإجابة:						
		الواردات		الصادرات		
					11	عدد الفئات التي تشكل منها المجتمع في بلاد اليونان قديماً.
الإجابة:						
-1						
-2						
-3						
					12	دلل على براعة اليونانيين في المجالات الآتية:
الإجابة:						
الملاعب الرياضية		الفلسفة		العمارة		
					13	بم تفسر:
أ - لم تسهم أسبرطة بقسط كبير في الحضارة الإغريقية.						
الإجابة:						
-						



ب - برع اليونانيون في صناعة السفن.

الإجابة:

.....

ج - تميز النحت الإغريقي بالدقة والجمال.

الإجابة:

.....

د - تسمية الألعاب الأولمبية بهذا الاسم.

الإجابة:

.....

	اذكر عملاً تاريخياً للشخصيات الآتية:	14
--	--------------------------------------	----

أ/ الاسكندر المقدوني:

الإجابة:

.....

ب/ هيرودوتس:

الإجابة:

.....

ج / أبقرات:

الإجابة:

.....

د / فيثاغورث:

الإجابة:

.....

هـ/ بطليموس:

الإجابة:

.....



الوحدة الثالثة: الديمقراطية





التاريخ	الدرس	الأسبوع
06 - 10 / 10 / 2024م	أشكال الديمقراطية ومظاهرها	6

اختر الإجابة الصحيحة لكل من الأسئلة من 1 إلى 8 وذلك بوضع علامة x داخل المربع المجاور للإجابة الصحيحة.

تعليمات

1- تم إصدار الدستور الدائم لدولة قطر عام:

2002

2003

2004

2005

2- يبلغ عدد أعضاء المجلس البلدي المركزي نحو:

19

29

39

49

3- ساعد على حرية الرأي والتعبير بدولة قطر:

إنشاء مجلس الوزراء

إنشاء الديوان الأميري

إنشاء مجلس الشورى

إلغاء الرقابة على وسائل الإعلام

4- عدد أعضاء مجلس الشورى الذين يعينهم سمو الأمير:

10

15

20

25



5- المدة الزمنية التي يستمر خلالها الأعضاء في المجلس البلدي المركزي:

- عام
 عامين
 ثلاثة أعوام
 أربعة أعوام

6- أي مما يلي يمثل الديمقراطية شبه المباشرة في دولة قطر؟

- مجلس النواب
 مجلس الوزراء
 البرلمان الطلابي
 المجلس البلدي المركزي

7- يرجع تاريخ تأسيس مجلس الشورى في دولة قطر إلى عام:

- 1970
 1971
 1972
 1973

8- عدد الأعضاء الذين يتألف منها مجلس الشورى:

- 40
 45
 50
 55



تعليمات

عند الإجابة على الأسئلة من 09 إلى 13، اكتب إجابتك في الفراغ المخصص للإجابة:

	عدد أشكال الديمقراطية.	9
الإجابة:		
 -1	
 -2	
 -3	
	دلل على تطبيق الديمقراطية بدولة قطر.	10
الإجابة:		
 -1	
 -2	
 -3	
 -4	
	اذكر مهام مجلس الشورى بدولة قطر.	11
الإجابة:		
 -1	
 -2	
 -3	



12		وضح أهمية الدستور الدائم لدولة قطر؟
الإجابة:		
-1		
-2		
-3		
13		قارن بين أشكال الديمقراطية الموضحة بالجدول أدناه:
الإجابة:		
المباشرة	الغير المباشرة	شبه المباشرة
2024		2025