

تم تحميل هذا الملف من موقع المناهج القطرية



أوراق عمل شاملة لاختبار منتصف الفصل مع الإجابة النموذجية

موقع المناهج ← المناهج القطرية ← المستوى التاسع ← اجتماعيات ← الفصل الأول ← أوراق عمل ← الملف

تاريخ إضافة الملف على موقع المناهج: 2024-10-22 21:04:20

ملفات اكتب للمعلم اكتب للطالب | اختبارات الكترونية | اختبارات | حلول | عروض بوربوينت | أوراق عمل
منهج انجليزي | ملخصات وتقارير | مذكرات وبنوك | الامتحان النهائي للمدرس

المزيد من مادة
اجتماعيات:

التواصل الاجتماعي بحسب المستوى التاسع



صفحة المناهج
القطرية على
فيسبوك

الرياضيات

اللغة الانجليزية

اللغة العربية

التربية الاسلامية

المواد على تلغرام

المزيد من الملفات بحسب المستوى التاسع والمادة اجتماعيات في الفصل الأول

أوراق عمل الوحدة الأولى مع الإجابة النموذجية

1

أوراق عمل في الوحدة الثالثة مع الإجابة النموذجية

2

أوراق عمل في الوحدة الثانية مع الإجابة

3

تدريبات إثرائية وعلاجية عن الوحدة الأولى مرفقة بالإجابة

4

مراجعة منتصف الفصل الدراسي الأول

5

ورقة عمل رقم (1) / العام الدراسي 2024-2025

القسم	اجتماعيات	اليوم/التاريخ	2024 /.../... ..	الصف	التاسع
الوحدة/الموضوع	الوحدة الأولى	اسم الطالب			

السؤال الأول: اختر الإجابة الصحيحة بين البدائل التالية:

1. من الحركات الداخلية "الباطنية" البطيئة:

- أ - الزلازل.
ب - البراكين.
ج - الانكسارات.
د - التجوية.

2. تعمل الحركات الداخلية «الباطنية» البطيئة على:

- أ - تسوية سطح الأرض.
ب - تشكيل التضاريس الكبرى.
ج - تشكيل السهول بأنواعها.
د - تكوين التربة الخصبة.

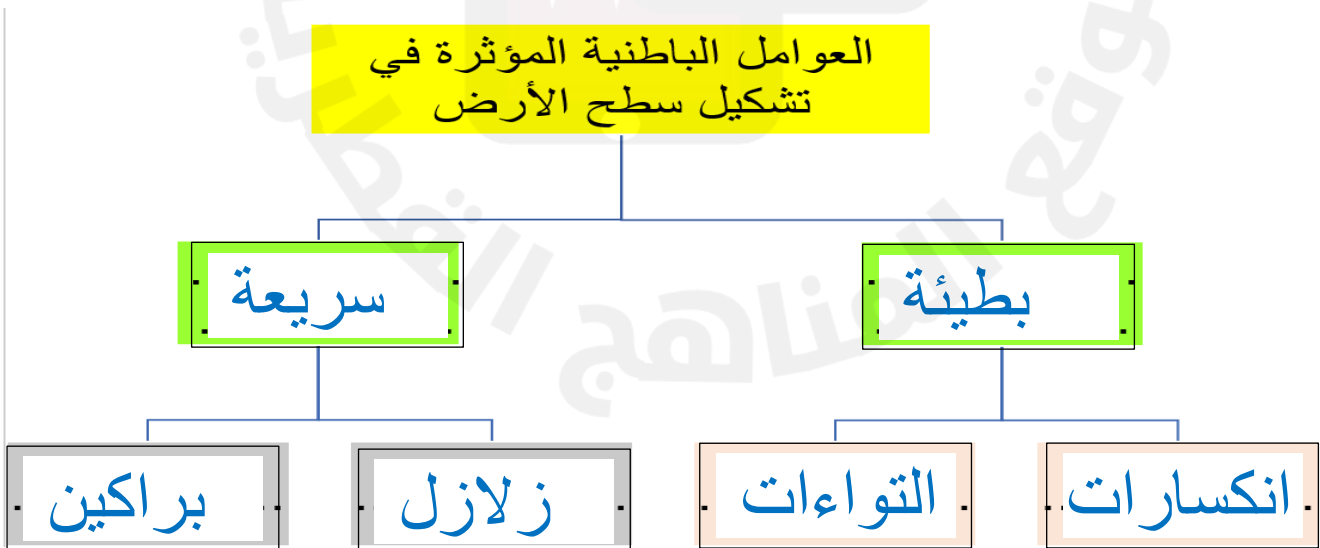
3. من جبال الوطن العربي الانكسارية:

- أ - أطلس.
ب - عمان.
ج - زاغروس.
د - عمير.

4. من أمثلة الجبال الالتوائية الكبرى في قارة أمريكا الشمالية:

- أ - الإنديز.
ب - روكي.
ج - الهيمالايا.
د - الألب.

السؤال الثاني: أكمل المخطط التالي



رؤيتنا : الريادة في توفير فرص تعلم دائمة ومبتكرة وذات جودة عالية للمجتمع القطري

Tel : 44049200 Fax: 44690634

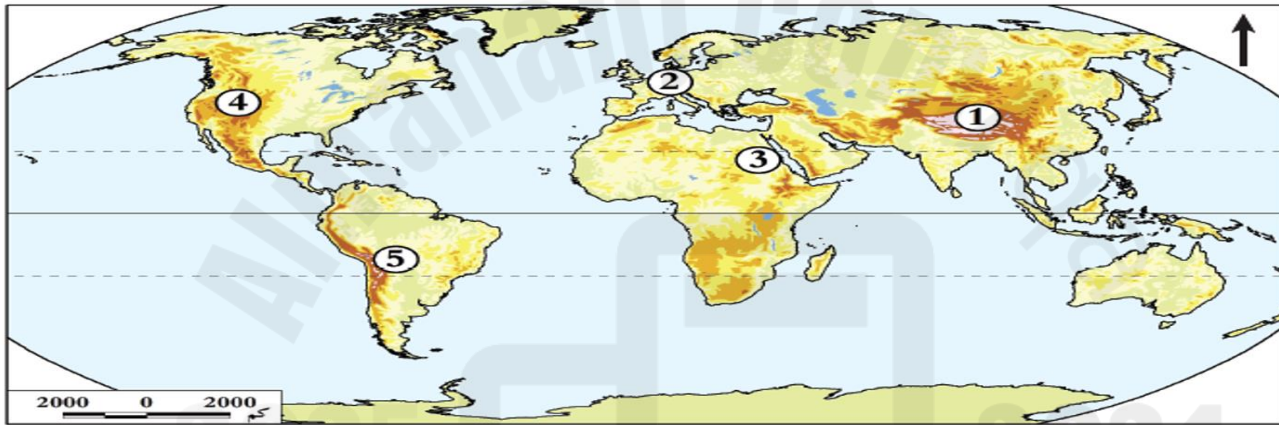
f YouTube @kbaschool

ورقة عمل رقم (2) / العام الدراسي 2024-2025

القسم	اجتماعيات	اليوم/التاريخ	2024 /.../... ..	الصف	التاسع
الوحدة/الموضوع	الوحدة الأولى	اسم الطالب			

السؤال الأول : وضح ما تدل عليه الأرقام

- | | |
|---------|--------------|
| 1- جبال | الهمالايا |
| 2- جبال | الألب |
| 3- جبال | البحر الأحمر |
| 4- جبال | روكي |
| 5- جبال | الإنديز |



السؤال الثاني : قارن بين الانكسارات والالتواءات من خلال الجدول التالي :

الالتواءات	الانكسارات	أوجه المقارنة
رسوبية لينة	صلبة	نوع الصخر
1- سلاسل الجبال الالتوائية الكبرى	1- جبال انكسارية	الأشكال
2- الهضاب	2- الخوانق الأرضية	التضاريسية
	3- الأغوار	النتيجة

ورقة عمل رقم (3) / العام الدراسي 2024-2025

القسم	اجتماعيات	اليوم/التاريخ	2024 /.../... ..	الصف	التاسع
الوحدة/الموضوع	الوحدة الأولى	اسم الطالب			

1- عرف المقصود بالزلازل .

هزات سريعة تصيب أجزاء من القشرة الأرضية وتنتشر على شكل موجات أفقية

1- عدد أنواع الزلازل .

زلازل تكتونية

2- زلازل بركانية

3- أكمل المخطط التالي :

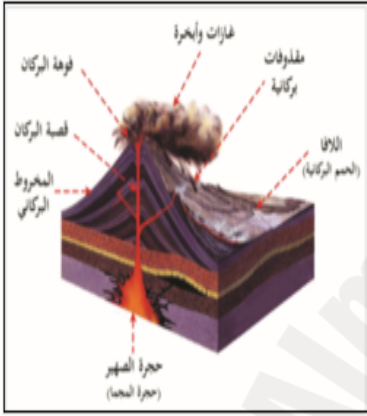


ورقة عمل رقم (4) / العام الدراسي 2024-2025

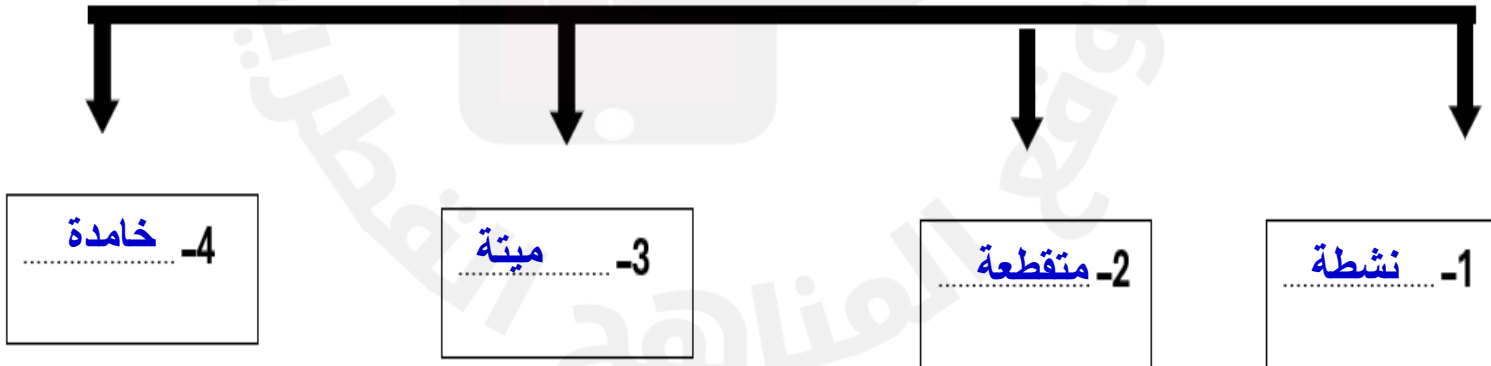
القسم	اجتماعيات	اليوم/التاريخ	2024 /.../... ..	الصف	التاسع
الوحدة/الموضوع	الوحدة الأولى	اسم الطالب			

البراكين : هي فتحة في القشرة الأرضية تندفع منها الأبخرة والغازات والحمم البركانية

1- عدد أجزاء البركان؟



عدد أنواع البراكين؟



ورقة عمل رقم (5) / العام الدراسي 2024\2024

القسم	اجتماعيات	اليوم/التاريخ	2024 \ 9 \ 1	الصف	التاسع
الوحدة/الموضوع	الثانية	اسم الطالب			

1- أكمل المخطط المعرفي التالي :



2- اختر الإجابة الصحيحة مما يلي :

1- المدينة التي تميّزت بنظامها العسكري الصارم هي:

أ - طروادة.

ب - مقدونيا.

ج - أسبرطة.

2- يرجع انقسام الإمبراطورية اليونانية إلى:

أ - قيام دولة المدينة.

ب - وفاة الإسكندر المقدوني.


ج - احتلال الرومان لليونان.

د - تولي فيليب المقدوني الحكم.


ورقة عمل رقم (6) / العام الدراسي 2024\2025

القسم	اجتماعيات	اليوم/التاريخ	2024 \ 10 \	الصف	التاسع
الوحدة/الموضوع	الثانية	اسم الطالب			


1- عدد المظاهر الفنية عند الإغريق القدماء



الملاعب الرياضية

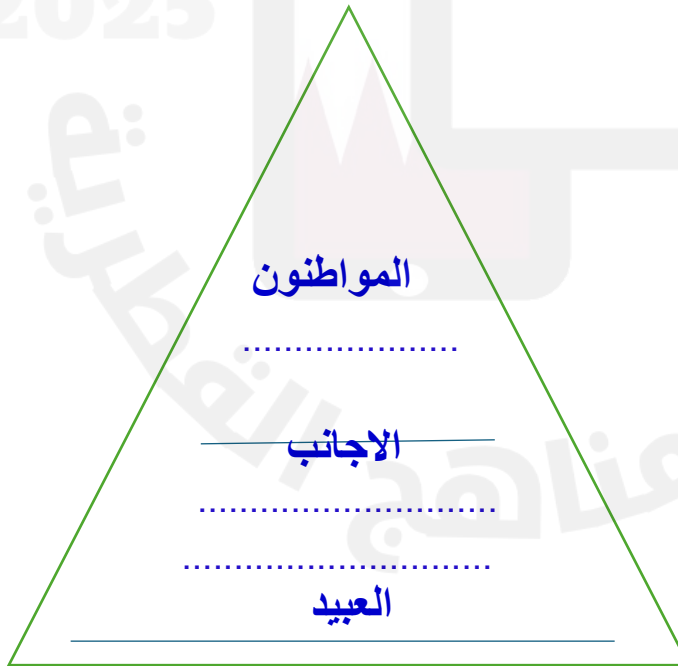


العمارة



النحت

2- اذكر الطبقات التي انقسم اليها المجتمع الإغريقي القديم



ورقة عمل رقم (7) / العام الدراسي 2024-2025

القسم	اجتماعيات	اليوم/التاريخ	2023\10 ...	الصف	التاسع
الوحدة/الموضوع	الثالثة	اسم الطالب			

2- عدد مظاهر الديمقراطية في دولة قطر

1- وضح أهمية دستور 2004 للمواطن القطري.



إلغاء الرقابة على الإعلام



مجلس الشورى



الاستفتاء على الدستور
اصدار الدستور



انتخابات المجلس البلدي



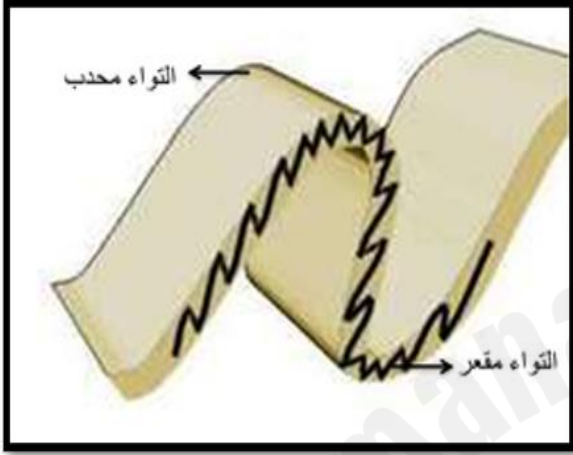
أبرسي الدعائم الأساسية للمجتمع

ب- يجسد المشاركة الشعبية

ج- يضمن الحقوق والحريات

ورقة عمل رقم (1) / العام الدراسي 2024-2025

القسم	اجتماعيات	اليوم/التاريخ	2024 /9/... ..	الصف	التاسع
الوحدة/الموضوع	الوحدة الأولى	اسم الطالب			



1- عدد أنواع الالتواءات

محدب

.....-1

مقعر

.....-2

2- وضح الفرق بين أنواع الالتواءات

1- محدب (هو انحناء الطبقات الصخرية لأعلى

.....-1

2- مقعر (هو انحناء الطبقات الصخرية لأسفل

.....-2

3- اذكر أهم الأشكال التضاريسية الناتجة عن الالتواءات



الهضاب

.....-2



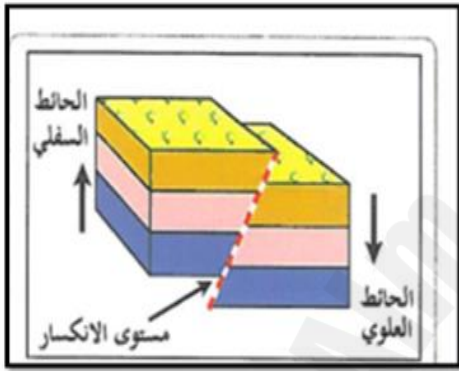
السلاسل الجبلية الكبرى

.....-1

ورقة عمل رقم (2) / العام الدراسي 2024-2025

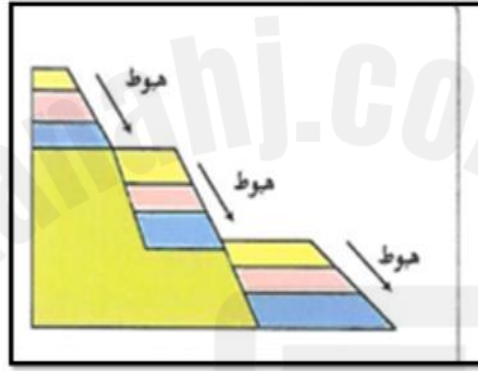
القسم	اجتماعيات	اليوم/التاريخ	2024 /9/... ..	الصف	التاسع
الوحدة/الموضوع	الوحدة الأولى	اسم الطالب			

1- عدد أنواع الانكسارات



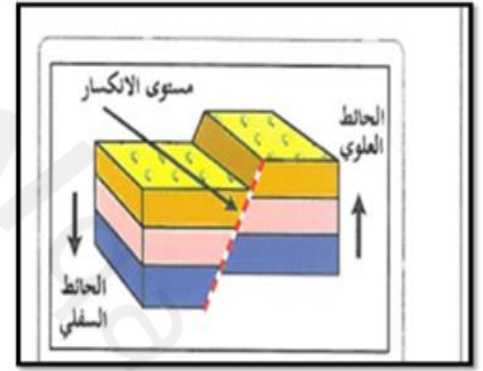
معكوس

3-



سلمي

2-



عادي

1-

2- أذكر أهم الأشكال التضاريسية الناتجة عن الانكسارات



الأغوار المنخفضة

3-



خوانق أرضية

2-



جبال انكسارية

1-

ورقة عمل رقم (3) العام الدراسي 2024 - 2025

القسم	اجتماعيات	اليوم/التاريخ	2023 /9/...	الصف	التاسع
الوحدة/الموضوع	الاولى	اسم الطالب			



1- عدد الآثار المترتبة على الزلازل

موجات تسونامي

انهيارات ثلجية

3- شقوق في القشرة الأرضية

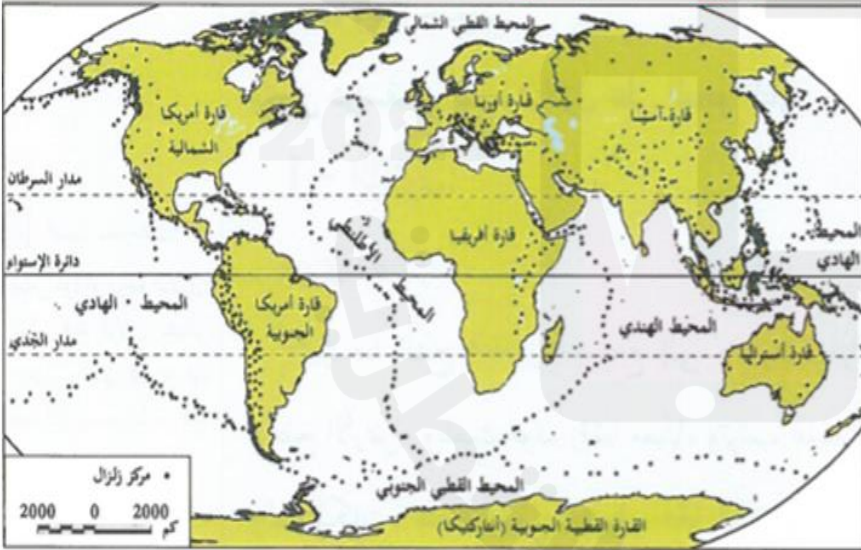
4- تدمير المنشآت - خسائر بشرية

2- وضع نطاقات توزيع الزلازل

1- الحلقة النارية

2- نطاق البحر المتوسط الآسيوي


التوزيع الجغرافي للزلازل



ورقة عمل رقم (4) / العام الدراسي 2024-2025

القسم	اجتماعيات	اليوم/التاريخ	2024 /9/...	الصف	التاسع
الوحدة/الموضوع	الوحدة الأولى	اسم الطالب			

عدد الآثار الناتجة عن البراكين



البحيرات البركانية
.....-4

الجزر البركانية
.....-3

الهضاب البركانية
.....-2

الجبال البركانية
.....-1

2- وضح طرق التعامل مع أخطار البراكين

أ/ التحلي بالهدوء وإذا كنت داخل مبنى فغادر فوراً

ب/ اركب سيارة وتحرك في اتجاه معاكس للاتجاه الذي تأتي منه سحابة الدخان

ج/ استمع لإرشادات الدفاع المدني

ورقة عمل رقم (5) / العام الدراسي 2024 - 20

القسم	اجتماعيات	اليوم/التاريخ	2024 /..9../... ..	الصف	التاسع
الوحدة/الموضوع	الوحدة الثانية	اسم الطالب			

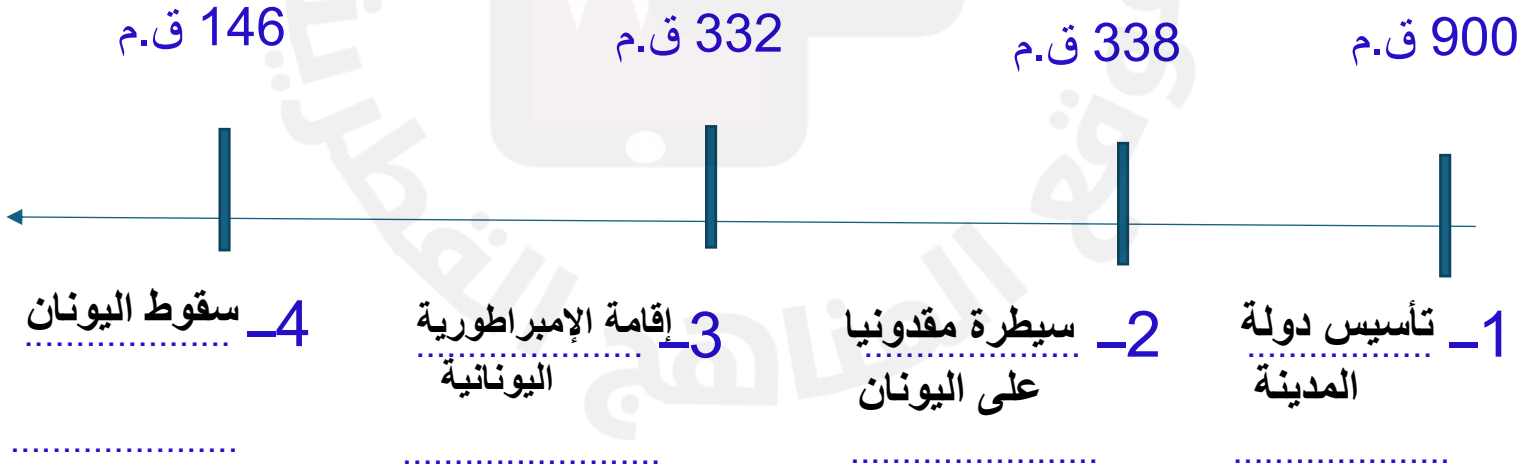
1- بم تفسر / لم تسهم اسبرطة بقسط كبير في الحضارة الإغريقية القديمة؟



لأنها اهتمت بالجيش على حساب إرثها الحضاري

2- رتب على الخط الزمني أهم أحداث الحضارة اليونانية القديمة من الأقدم إلى الأحدث :



(إقامة الإمبراطورية اليونانية - سقوط بلاد اليونان - سيطرة مقدونيا على اليونان - تأسيس دولة المدينة



ورقة عمل رقم (6) / العام الدراسي 2024 - 2025

القسم	اجتماعيات	اليوم/التاريخ	2024 /10/...	الصف	التاسع
الوحدة/الموضوع	الوحدة الثانية	اسم الطالب			

السؤال 1: صل بين العالم والمجال الذي برع فيه



1- برع في مجال الرياضيات من
من خلال الهندسة والنظريات

2- برع في الطب وفرض قسماً
لمن أراد ممارسة الطب

3- مفكر وفيلسوف يوناني قديم

4- نُقب بأبي التاريخ

السؤال الثاني : قارن بين طبقات المجتمع اليوناني من حيث تمتعها بالحقوق .

المواطنون / يتمتعون بكافة الحقوق

الأجانب / لهم بعض الحقوق (اعفاء من بعض الضرائب)

العبيد / ليس لهم حقوق

ورقة عمل رقم (7) العام الدراسي 2024 - 2025

القسم	اجتماعيات	اليوم/التاريخ	2024 /..10../... ..	الصف	التاسع
الوحدة/الموضوع	الثالثة	اسم الطالب			

1- حدد أوجه الاختلاف بين الديمقراطية المباشرة والديمقراطية غير المباشرة :

العنصر	الديمقراطية المباشرة	الديمقراطية غير المباشرة
وجه الاختلاف	الشعب يصوت على القرارات بنفسه.....	الشعب يختار نواب عنه في اتخاذ القرارات.....

2- بم تفسر أهمية الدستور الدائم لدولة قطر ؟

- يرسى الدعائم الأساسية للمجتمع

- يجسد المشاركة الشعبية في اتخاذ القرار

- يضمن الحقوق والحريات لأبناء الوطن

منسق المادة/ فادي قناعة

معلم المادة / محمد العواوده