

تم تحميل هذا الملف من موقع المناهج القطرية



أوراق عمل مسيعيد قبل اختبار منتصف الفصل مع الإجابة النموذجية

موقع المناهج ← المناهج القطرية ← المستوى التاسع ← اجتماعيات ← الفصل الأول ← أوراق عمل ← الملف

تاريخ إضافة الملف على موقع المناهج: 2024-10-22 21:08:13

ملفات اكتب للمعلم اكتب للطالب | اختبارات الكترونية | اختبارات | حلول | عروض بوربوينت | أوراق عمل منهج انجليزي | ملخصات وتقارير | مذكرات وبنوك | الامتحان النهائي للمدرس

المزيد من مادة اجتماعيات:

التواصل الاجتماعي بحسب المستوى التاسع



صفحة المناهج القطرية على فيسبوك

الرياضيات

اللغة الانجليزية

اللغة العربية

التربية الاسلامية

المواد على تلغرام

المزيد من الملفات بحسب المستوى التاسع والمادة اجتماعيات في الفصل الأول

أوراق عمل شاملة لاختبار منتصف الفصل مع الإجابة النموذجية

1

أوراق عمل الوحدة الأولى مع الإجابة النموذجية

2

أوراق عمل في الوحدة الثالثة مع الإجابة النموذجية

3

أوراق عمل في الوحدة الثانية مع الإجابة

4

تدريبات إثرائية وعلاجية عن الوحدة الأولى مرفقة بالإجابة

5



العام الدراسي
2025-2024

الصف التاسع
9



مادة الدراسات الاجتماعية

تدريبات علاجية – واجبات - محلولة

منهاج منتصف الفصل الدراسي الأول
الوحدة الأولى + الوحدة الثانية + الوحدة الثالثة

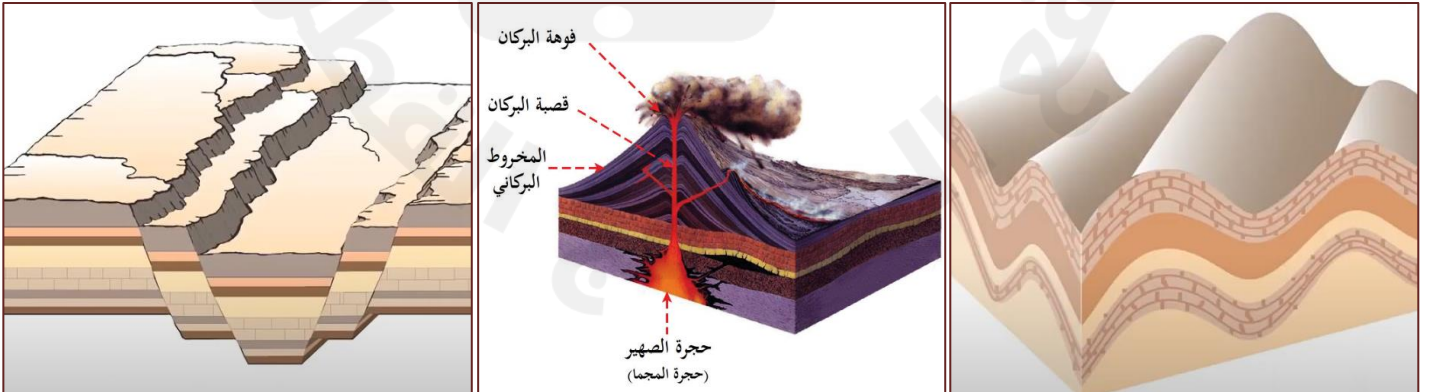
اسم الطالب:

الصف: التاسع

ملحوظة هامة: هذه الأسئلة إثرائية ولا تغني عن الكتاب المدرسي وهو
المصدر الرئيس للتعلم



الوحدة الأولى: العوامل الباطنية المؤثرة في تشكيل سطح الأرض





التاريخ	الدرس	الأسبوع
01 - 05/09/2024م	العوامل الباطنية البطيئة المؤثرة في تشكيل سطح الأرض	1

اختر الإجابة الصحيحة لكل من الأسئلة من 1 إلى 4 وذلك بوضع علامة x داخل المربع المجاور للإجابة الصحيحة.

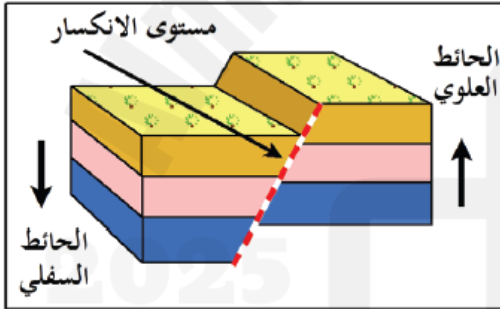
تعليمات

1- (شق يحدث في الصخور الصلبة للقشرة الأرضية بسبب قوى شد أو ضغط رأسية)

يشير التعريف السابق لمفهوم:

- الالتواء
 الانكسار
 البراكين
 الزلازل

2- يشير الشكل المقابل لأحد أنواع الانكسارات وهو:



- السلمي
 المعكوس
 صدع الشد
 صدع الضغط

3- أي الجبال الآتية تمثل أحد الجبال الانكسارية شرق البحر الأحمر؟

- الحجاز
 أطلس
 زاغروس
 دراكنزبرج

4- (ثني الطبقات الصخرية اللينة الرسوبية وتقوسها إلى أعلى أو أسفل نتيجة لحركات الضغط الأفقي من الجانبين)

يشير التعريف السابق لمفهوم:

- الالتواء
 الانكسار
 البراكين
 الزلازل



تعليمات

عند الإجابة على الأسئلة من 05 إلى 08، اكتب إجابتك في الفراغ المخصص للإجابة:

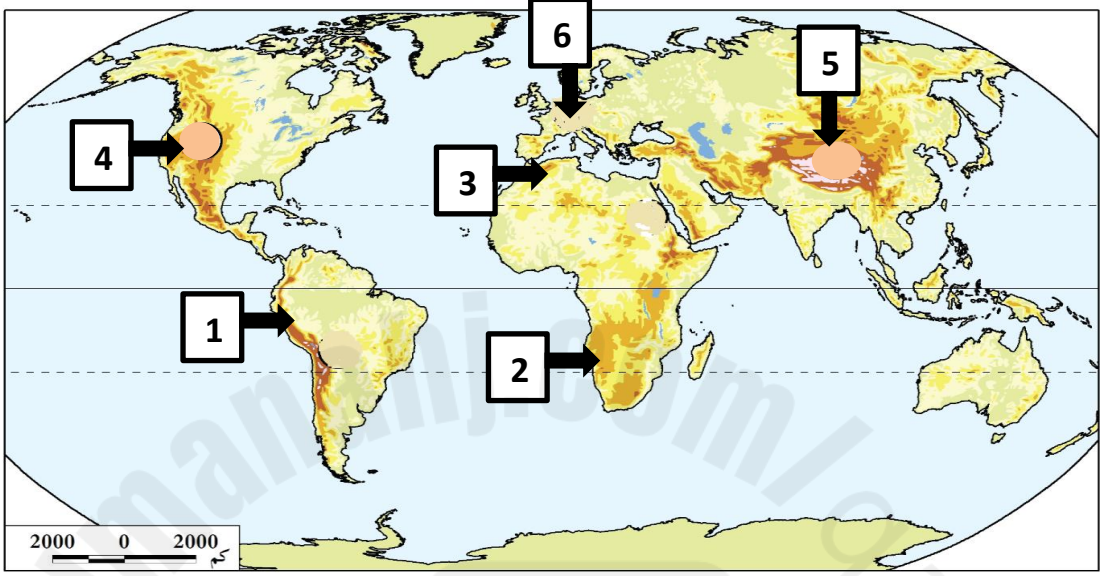
5		قارن بين الأشكال التضاريسية الناتجة عن كل من الالتواءات والانكسارات.
الأشكال التضاريسية الناتجة عن الالتواءات	الأشكال التضاريسية الناتجة عن الانكسارات	
1- الجبال الالتوائية الكبرى (الهيمالايا – أطلس – الألب – الروكي – الانديز – الألب الأسترالية – دراكنزبرج) 2- الهضاب الالتوائية (التبت – المكسيك – الشطوط)	1- الجبال الانكسارية: الحجاز وعسير واليمن والبحر الأحمر 2- الحافات الانكسارية: شرق أفريقيا 3- الأغوار المنخفضة: غور الأردن وخليج العقبة 4- الخوانق العميقة: خانق نهر كلورادو	
6		اذكر أهم الجبال الانكسارية شرق البحر الأحمر.
الإجابة: 1- الحجاز 2- عسير 3- اليمن		
7		عدد أنواع الانكسارات.
الإجابة: 1- عادي 2- سلمى 3- معكوس		



أمامك خريطة صماء للعالم حدد عليها الجبال الآتية.

8

(1- الانديز 2- دراكنزبرج 3- أطلس 4- الروكي 5- الهيمالايا 6- الألب)



2025

2024

موقع المناهج القطرية



التاريخ	الدرس	الأسبوع
08 - 12 / 09 / 2024م	العوامل الباطنية البطيئة والسريعة المؤثرة في تشكيل سطح الأرض	2

اختر الإجابة الصحيحة لكل من الأسئلة من 1 إلى 4 وذلك بوضع علامة x داخل المربع المجاور للإجابة الصحيحة.

تعليمات

1- أي الأشكال التضاريسية الآتية تمثل الخوانق الأرضية العميقة؟

- خليج العقبة
 غور الأردن
 الخليج العربي
 نهر كلورادو

2- الهضبة اللتوانية الممتدة في قارة أمريكا الشمالية:

- التبت
 الشطوط
 المكسيك
 الأناضول

3- (هزات أرضية سريعة تصيب أجزاء من القشرة الأرضية، وتنتشر على شكل موجات أفقية)

يشير التعريف السابق لمفهوم:

- الالتواء
 الانكسار
 البراكين
 الزلازل

4- يبدأ نطاق البحر المتوسط الآسيوي للزلازل من:

- إيران
 تركيا
 اندونيسيا
 جزر الأزور



		8	أمامك شكل يوضح الأجزاء التي يتكون منها البركان؛ اكتب الأجزاء المشار إليها بالأرقام الآتية:
		الإجابة: 1- فوهة البركان 2- قصبية البركان 3- المخروط البركاني	
		9	حدد طرق التعامل مع أخطار الزلازل حال وقوعها في الأماكن الآتية:
		<u>داخل مبنى:</u> 1- الابتعاد عن النوافذ 2- اختبئ أسفل الأثاث 3- اقطع الغاز والكهرباء 4- لا تستخدم السلالم والمصاعد	<u>في الشارع:</u> 1- قف في مكان واسع 2- ابتعد عن الشواطئ 3- ابق داخل السيارة 4- استمع للمذيع
		10	اذكر نطاقات توزيع الزلازل.
		الإجابة: 1- البحر المتوسط الآسيوي: يبدأ من جزر الأزور – البحر المتوسط – تركيا – إيران – الهيمالايا – اندونيسيا 2- الحلقة النارية: السواحل الشرقية والغربية للمحيط الهادي	



التاريخ	الدرس	الأسبوع
15 - 19 / 09 / 2024م	العوامل الباطنية السريعة المؤثرة في تشكيل سطح الأرض	3

اختر الإجابة الصحيحة لكل من الأسئلة من 1 إلى 4 وذلك بوضع علامة x داخل المربع المجاور للإجابة الصحيحة.

تعليمات

1- أي الجبال الآتية تمثل أحد الجبال البركانية في اليابان؟

فيجي

كلمنجارو

سانت هيلين

مونت بيليه

2- تعد بحيرة تال أحد البحيرات البركانية في:

إثيوبيا

الفلبين

اليابان

تركيا

3- البراكين التي لا يعرف إذا كانت ستثور مرة ثانية:

الميتة

النشطة

الخامدة

المتقطعة

4- الهضبة البركانية التي توجد في جنوب غرب آسيا:

إيران

اليمن

الحبشة

سيبيريا



تعليمات

عند الإجابة على الأسئلة من 05 إلى 07، اكتب إجابتك في الفراغ المخصص للإجابة:

	عدد أنواع البراكين حسب الثوران.	5
	الإجابة: 1- نشطة 2- خامدة 3- متقطعة 4- مبيئة	
	ما الأشكال التضاريسية الناتجة عن البراكين.	6
	الإجابة: 1- الجبال البركانية: جبل فيجي باليابان – جبل كلمنجارو بأفريقيا 2- الهضاب البركانية: هضبة اليمن وهضبة الحبشة 3- البحيرات البركانية: بحيرة تال بالفلبين 4- الجزر البركانية: جزر هاواي	
	وضح طرق التعامل مع أخطار البراكين.	7
	الإجابة: 1- مغادرة المبنى 2- ركوب السيارة والاتجاه عكس سحابة الدخان 3- حماية الجهاز التنفسي بقناع 4- الاستماع لإرشادات الدفاع المدني	



الوحدة الثانية: الحضارة اليونانية ” الإغريقية ”





التاريخ	الدرس	الأسبوع
22 - 26 / 09 / 2024م	نشأة الحضارة اليونانية	4

تعليمات
اختر الإجابة الصحيحة لكل من الأسئلة من 1 إلى 4 وذلك بوضع علامة x داخل المربع المجاور للإجابة الصحيحة.

1- أي الجزر الآتية تعد المعبر الرئيس للاتصال الحضاري بين حضارات الشرق القديم والحضارة اليونانية القديمة؟

كريت وقبرص

قبرص وسردينيا

رودس وصقلية

صقلية وسردينيا

2- المدينة التي تميزت بنظامها العسكري الصارم هي:

أثينا

أسبرطة

طروادة

مقدونيا

3- المدينة التي تميزت بنظامها الديمقراطي هي:

أثينا

أسبرطة

طروادة

مقدونيا

4- السبب في انقسام الإمبراطورية اليونانية عام 323 ق م هو:

وفاة الاسكندر

غزو الرومان

قيام دولة المدينة

تولي فيليب المقدوني الحكم



تعليمات

عند الإجابة على الأسئلة من 05 إلى 07، اكتب إجابتك في الفراغ المخصص للإجابة:

		5	وضح عوامل قيام الحضارة اليونانية.									
			الإجابة: 1- الموقع الجغرافي: ساهم في اقتباس العديد من منجزات الحضارات الأخرى 2- المناخ المعتدل: ساهم في استقرار الانسان وقيام الحضارة 3- التضاريس: قيام نظام دولة المدينة 4- حرية التفكير: تمسك الإغريق بحقوقهم وحريتهم									
		6	رتب الأحداث التاريخية الآتية في الحضارة اليونانية ترتيباً زمنياً صحيحاً من الأقدم إلى الأحدث على الخط الزمني التالي:									
			الأحداث : (إقامة الإمبراطورية اليونانية – تأسيس دولة المدينة – انقسام الإمبراطورية اليونانية) الإجابة: <table border="1" style="width: 100%; text-align: center;"> <tr> <td>انقسام الإمبراطورية اليونانية</td> <td>إقامة الإمبراطورية اليونانية</td> <td>تأسيس دولة المدينة</td> </tr> <tr> <td>323 ق م</td> <td>332 ق م</td> <td>900 ق م</td> </tr> </table>	انقسام الإمبراطورية اليونانية	إقامة الإمبراطورية اليونانية	تأسيس دولة المدينة	323 ق م	332 ق م	900 ق م			
انقسام الإمبراطورية اليونانية	إقامة الإمبراطورية اليونانية	تأسيس دولة المدينة										
323 ق م	332 ق م	900 ق م										
		7	قارن بين حضرتي مدينة أسبرطة ومدينة أثينا اليونانيتين؛ من حيث نظامها واهتماماتها:									
			<table border="1" style="width: 100%; text-align: center;"> <thead> <tr> <th>وجه المقارنة</th> <th>مدينة أسبرطة</th> <th>مدينة أثينا</th> </tr> </thead> <tbody> <tr> <td>النظام المتبع فيها</td> <td>عسكري</td> <td>ديمقراطي</td> </tr> <tr> <td>اهتماماتها</td> <td>اهتمت بالجيش على حساب إرثها الحضاري</td> <td>اهتمت بحرية الفكر والابداع</td> </tr> </tbody> </table>	وجه المقارنة	مدينة أسبرطة	مدينة أثينا	النظام المتبع فيها	عسكري	ديمقراطي	اهتماماتها	اهتمت بالجيش على حساب إرثها الحضاري	اهتمت بحرية الفكر والابداع
وجه المقارنة	مدينة أسبرطة	مدينة أثينا										
النظام المتبع فيها	عسكري	ديمقراطي										
اهتماماتها	اهتمت بالجيش على حساب إرثها الحضاري	اهتمت بحرية الفكر والابداع										



التاريخ	الدرس	الأسبوع
29 - 03/09 - 10 / 2024م	مظاهر الحضارة اليونانية	5

اختر الإجابة الصحيحة لكل من الأسئلة من 1 إلى 5 وذلك بوضع علامة x داخل المربع المجاور للإجابة الصحيحة.

تعليمات

1- كبير الآلهة عند الإغريق هو:

- أمون
 زيوس
 جوبيتر
 آريس

2- تم اشتقاق الحروف اليونانية من الحروف:

- الهندية
 الصينية
 اللاتينية
 الفينيقية

3- أول من كتب في التاريخ وأُقب بأبي التاريخ:

- سقراط
 بطليموس
 فيثاغورث
 هيرودوتس

4- أبو الطب البشري الذي وضع قسماً فرضه على كل من أراد أن يمارس مهنة الطب:

- أبقراط
 سقراط
 بطليموس
 فيثاغورث

5- أبو الجغرافيا الذي من أفكاره أن الأرض كروية ثابتة:

- سقراط
 بطليموس
 فيثاغورث
 هيرودوتس



تعليمات

عند الإجابة على الأسئلة من 06 إلى 14، اكتب إجابتك في الفراغ المخصص للإجابة:

6	اذكر المراحل التي مر بها نظام الحكم في الحضارة اليونانية.
الإجابة:	
1- الملكي الوراثي 2- الديمقراطي 3- الامبراطوري 4- الملكي	
7	عرف مفهوم الدولة المدينة.
الإجابة:	
- كيان سياسي مستقل محوره مدينة رئيسة تتبعها مجموعة من القرى والنواحي	
8	عدد أقسام الأراضي الزراعية في بلاد اليونان قديماً.
الإجابة:	
1- إقطاعات كبيرة 2- أراضي للأفراد 3- أراضي للمراعي	
9	اذكر أشهر الصناعات التي قامت في بلاد اليونان قديماً.
الإجابة:	
1- زيت الزيتون 2- السفن 3- الأواني الفخارية والمعدنية	



				10	قارن بين الصادرات والواردات في بلاد اليونان قديماً.						
					الإجابة:						
					<table border="1"> <thead> <tr> <th>الواردات</th> <th>الصادرات</th> </tr> </thead> <tbody> <tr> <td>الحبوب – الأقمشة</td> <td>الرخام – المعادن – الزيوت</td> </tr> </tbody> </table>	الواردات	الصادرات	الحبوب – الأقمشة	الرخام – المعادن – الزيوت		
الواردات	الصادرات										
الحبوب – الأقمشة	الرخام – المعادن – الزيوت										
				11	عدد الفئات التي تشكل منها المجتمع في بلاد اليونان قديماً.						
					الإجابة:						
					<p>1- المواطنون: ممارسة الحقوق السياسية</p> <p>2- الأجانب: الإعفاء من بعض الضرائب</p> <p>3- العبيد: ليس لهم أي حقوق</p>						
				12	دل على براعة اليونانيين في المجالات الآتية:						
					الإجابة:						
					<table border="1"> <thead> <tr> <th>الملاعب الرياضية</th> <th>الفلسفة</th> <th>العمارة</th> </tr> </thead> <tbody> <tr> <td>مدينة أولمبيا</td> <td>سقراط وأفلاطون</td> <td>معبد البارثينون</td> </tr> </tbody> </table>	الملاعب الرياضية	الفلسفة	العمارة	مدينة أولمبيا	سقراط وأفلاطون	معبد البارثينون
الملاعب الرياضية	الفلسفة	العمارة									
مدينة أولمبيا	سقراط وأفلاطون	معبد البارثينون									
				13	بم تفسر:						
					<p>أ - لم تسهم أسبرطة بقسط كبير في الحضارة الإغريقية.</p> <p>- بسبب اهتمامهم بالجيش على حساب إرثهم الحضاري</p> <p>ب - برع اليونانيون في صناعة السفن.</p> <p>- لطبيعة بلادهم الساحلية</p> <p>ج - تميز النحت الإغريقي بالدقة والجمال.</p> <p>- بسبب اهتمامهم بالحركة وتفصيل الأشياء</p>						



- د - تسمية الألعاب الأولمبية بهذا الاسم.
- نسبة إلى مدينة أولمبيا اليونانية

اذكر عملاً تاريخياً للشخصيات الآتية:

14

أ/ الاسكندر المقدوني:

- سيطر على بلاد اليونان - كون إمبراطورية واسعة

ب/ هيروdotus:

- أول من كتب في التاريخ " أبو التاريخ "

ج / أبقراط:

- وضع قسماً فرضه على كل من أراد أن يمتحن مهنة الطب " أبو الطب "

د / فيثاغورث:

- برع في الرياضيات في مجال المتوازيات والمثلثات

هـ/ بطليموس:

- من أفكاره أن الأرض كروية ثابتة " أبو الجغرافيا "



الوحدة الثالثة: الديمقراطية





التاريخ	الدرس	الأسبوع
06 - 10 / 10 / 2024م	أشكال الديمقراطية ومظاهرها	6

اختر الإجابة الصحيحة لكل من الأسئلة من 1 إلى 8 وذلك بوضع علامة x داخل المربع المجاور للإجابة الصحيحة.

تعليمات

1- تم إصدار الدستور الدائم لدولة قطر عام:

2002

2003

2004

2005

2- عدد أعضاء المجلس البلدي المركزي نحو:

19

29

39

49

3- ساعد على حرية الرأي والتعبير بدولة قطر:

إنشاء مجلس الوزراء

إنشاء الديوان الأميري

إنشاء مجلس الشورى

إلغاء الرقابة على وسائل الإعلام

4- عدد أعضاء مجلس الشورى الذين يعينهم سمو الأمير:

10

15

20

25



5- المدة الزمنية التي يستمر خلالها الأعضاء في المجلس البلدي المركزي:

- عام
 عامين
 ثلاثة أعوام
 أربعة أعوام

6- أي مما يلي يمثل الديمقراطية شبه المباشرة في دولة قطر؟

- مجلس النواب
 مجلس الوزراء
 البرلمان الطلابي
 المجلس البلدي المركزي

7- يرجع تاريخ تأسيس مجلس الشورى في دولة قطر إلى عام:

- 1970
 1971
 1972
 1973

8- عدد الأعضاء الذين يتألف منها مجلس الشورى:

- 40
 45
 50
 55



تعليمات

عند الإجابة على الأسئلة من 09 إلى 13، اكتب إجابتك في الفراغ المخصص للإجابة:

9	عدد أشكال الديمقراطية.
الإجابة:	
1- المباشرة	
2- غير المباشرة " النيابية "	
3- شبه المباشرة	
10	دال على تطبيق الديمقراطية بدولة قطر.
الإجابة:	
1. الاستفتاء على الدستور 2003 م	
2. إصدار الدستور الدائم 2004 م	
3. مجلس الشورى	
4. المجلس البلدي المركزي	
11	اذكر مهام مجلس الشورى بدولة قطر.
الإجابة:	
1- يتولى سلطة التشريع	
2- إقرار الموازنة العامة	
3- الرقابة على السلطة التنفيذية	



12 وضوح أهمية الدستور الدائم لدولة قطر؟

12

الإجابة:

- 1- استكمال أسباب الحكم الديمقراطي
- 2- يضمن الحقوق والحريات
- 3- المشاركة الشعبية في اتخاذ القرار

13 قارن بين أشكال الديمقراطية الآتية:

13

الإجابة:

المباشرة	الغير المباشرة	شبه المباشرة
يكون فيها الشعب مصدر السلطات	ينتخب فيها الشعب نواباً ينوبون عنه في اتخاذ القرارات.	يحتفظ فيها الشعب بحقه في اتخاذ القرارات