

تم تحميل هذا الملف من موقع المناهج القطرية



أوراق عمل مجمعة لاختبار منتصف الفصل غير محلولة

موقع المناهج ← المناهج القطرية ← المستوى التاسع ← اجتماعيات ← الفصل الأول ← أوراق عمل ← الملف

تاريخ إضافة الملف على موقع المناهج: 2024-10-22 21:18:44

ملفات اكتب للمعلم اكتب للطالب | اختبارات الكترونية | اختبارات | حلول | عروض بوربوينت | أوراق عمل
منهج انجليزي | ملخصات وتقارير | مذكرات وبنوك | الامتحان النهائي للمدرس

المزيد من مادة
اجتماعيات:

التواصل الاجتماعي بحسب المستوى التاسع



صفحة المناهج
القطرية على
فيسبوك

الرياضيات

اللغة الانجليزية

اللغة العربية

التربية الاسلامية

المواد على تلغرام

المزيد من الملفات بحسب المستوى التاسع والمادة اجتماعيات في الفصل الأول

أوراق عمل تعزيزية لاختبار منتصف الفصل غير محلولة	1
أوراق عمل مسييد قبل اختبار منتصف الفصل غير محلولة	2
أوراق عمل مسييد قبل اختبار منتصف الفصل مع الإجابة النموذجية	3
أوراق عمل شاملة لاختبار منتصف الفصل مع الإجابة النموذجية	4
أوراق عمل الوحدة الأولى مع الإجابة النموذجية	5

ورقة عمل رقم (1) / العام الدراسي 2024-2025

القسم	اجتماعيات	اليوم/التاريخ	2024 /.../... ..	الصف	التاسع
الوحدة/الموضوع	الوحدة الأولى	اسم الطالب			

السؤال الأول: اختر الإجابة الصحيحة بين البدائل التالية:

1. من الحركات الداخلية "الباطنية" البطيئة:

- أ - الزلازل.
ب - البراكين.
ج - الانكسارات.
د - التجوية.

2. تعمل الحركات الداخلية «الباطنية» البطيئة على:

- أ - تسوية سطح الأرض.
ب - تشكيل التضاريس الكبرى.
ج - تشكيل السهول بأنواعها.
د - تكوين التربة الخصبة.

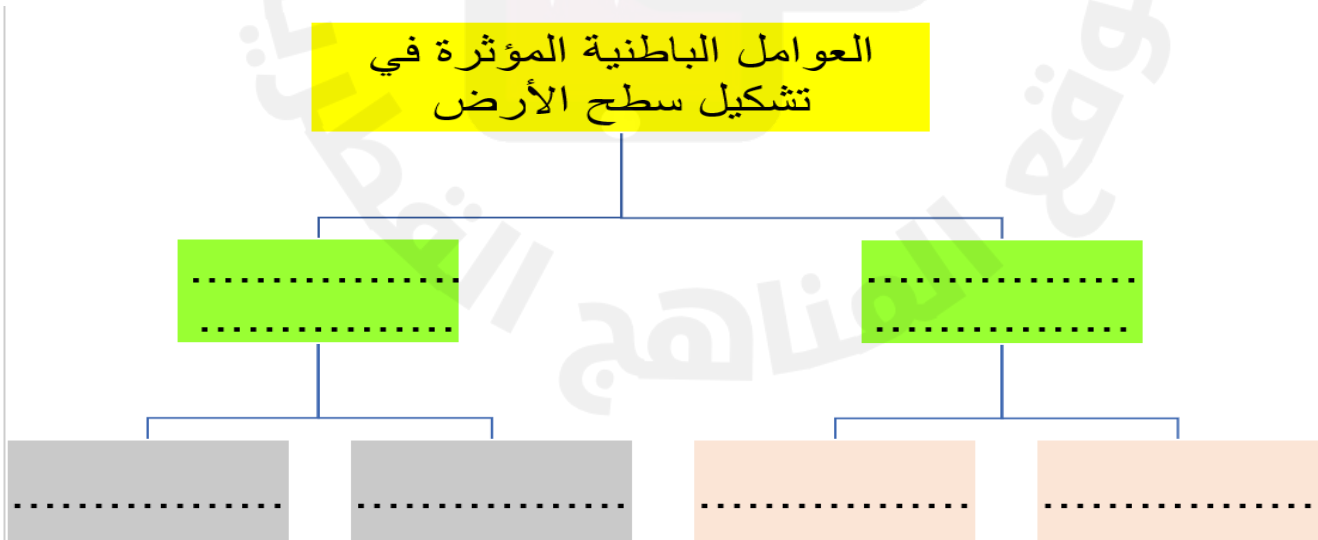
3. من جبال الوطن العربي الانكسارية:

- أ - أطلس.
ب - عمان.
ج - زاغروس.
د - عسير.

4. من أمثلة الجبال الالتوائية الكبرى في قارة أمريكا الشمالية:

- أ - الإنديز.
ب - روكي.
ج - الهيمالايا.
د - الألب.

السؤال الثاني: أكمل المخطط التالي



رؤيتنا : الريادة في توفير فرص تعلم دائمة ومبتكرة وذات جودة عالية للمجتمع القطري

Tel : 44049200 Fax: 44690634

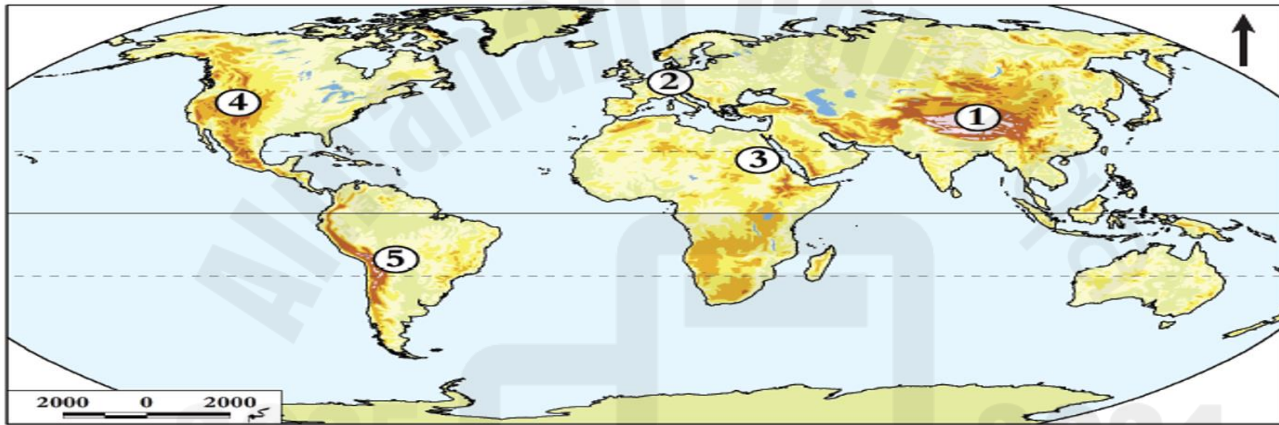
f YouTube @kbaschool

ورقة عمل رقم (2) / العام الدراسي 2024-2025

القسم	اجتماعيات	اليوم/التاريخ	2024 /.../... ..	الصف	التاسع
الوحدة/الموضوع	الوحدة الأولى	اسم الطالب			

السؤال الأول : وضح ما تدل عليه الأرقام

- 1- جبال
2- جبال
3- جبال
4- جبال
5- جبال



السؤال الثاني : قارن بين الانكسارات والالتواءات من خلال الجدول التالي :

الالتواءات	الانكسارات	أوجه المقارنة
		نوع الصخر
		الأشكال
		التضاريسية
		النتيجة

ورقة عمل رقم (3) / العام الدراسي 2024-2025

القسم	اجتماعيات	اليوم/التاريخ	2024 /.../... ..	الصف	التاسع
الوحدة/الموضوع	الوحدة الأولى	اسم الطالب			

1- عرف المقصود بالزلازل .

.....
.....

1- عدد أنواع الزلازل .

.....-1
.....-2

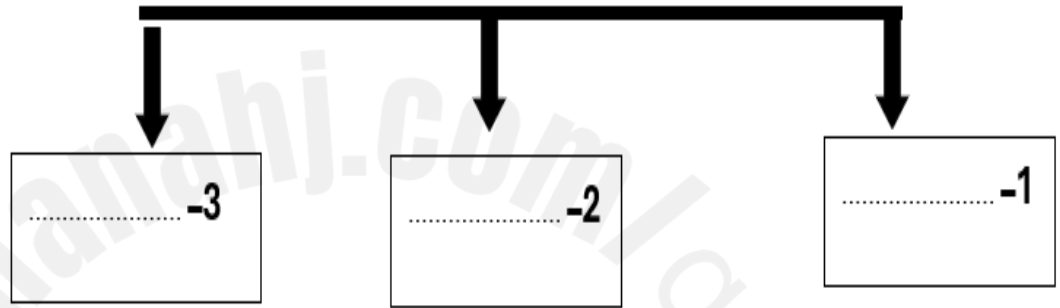
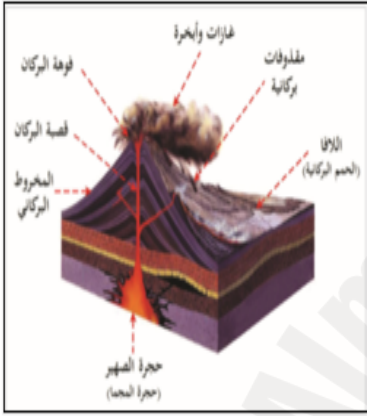
3- أكمل المخطط التالي :



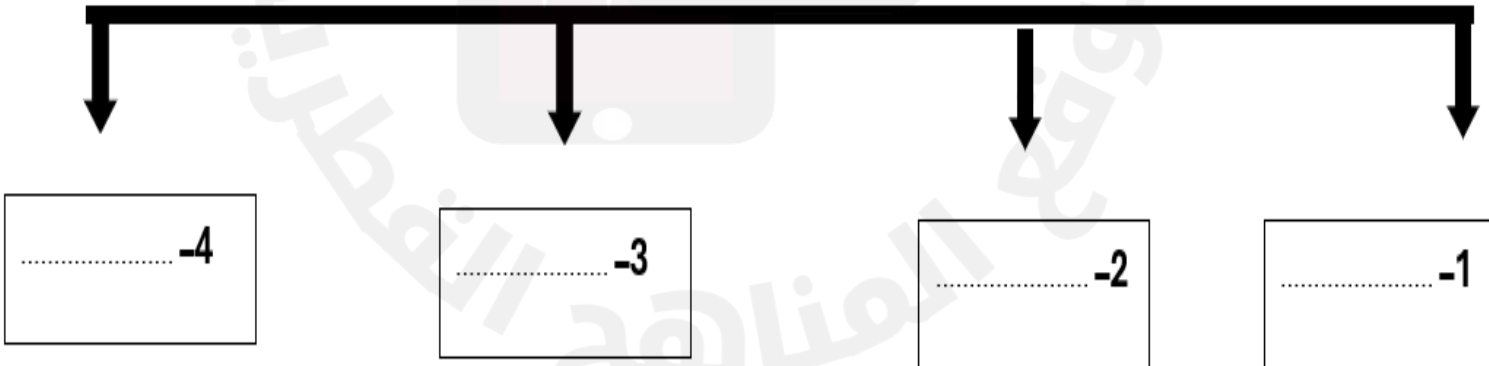
ورقة عمل رقم (4) / العام الدراسي 2024-2025

القسم	اجتماعيات	اليوم/التاريخ	2024 /.../... ..	الصف	التاسع
الوحدة/الموضوع	الوحدة الأولى	اسم الطالب			

1- عدد أجزاء البركان؟



عدد أنواع البراكين؟



ورقة عمل رقم (5) / العام الدراسي 2024\2025

القسم	اجتماعيات	اليوم/التاريخ	2024 \ 9 \ 1	الصف	التاسع
الوحدة/الموضوع	الثانية	اسم الطالب			

1- أكمل المخطط المعرفي التالي :

2- اختر الإجابة الصحيحة مما يلي :



1- المدينة التي تميّزت بنظامها العسكري الصارم هي:

- أ - طروادة.
ب - مقدونيا.
ج - أسبرطة.
د - أثينا.




2- يرجع انقسام الإمبراطورية اليونانية إلى:

- أ - قيام دولة المدينة.
ب - وفاة الإسكندر المقدوني.
ج - احتلال الرومان لليونان.
د - تولي فيليب المقدوني الحكم.

ورقة عمل رقم (6) / العام الدراسي 2024\2025

القسم	اجتماعيات	اليوم/التاريخ	10 \ 2024	الصف	التاسع
الوحدة/الموضوع	الثانية	اسم الطالب			

1- عدد المظاهر الفنية عند الإغريق القدماء



2- اذكر الطبقات التي انقسم اليها المجتمع الإغريقي القديم

2025 2024

موقع المناهج الإلكترونية

.....

.....

.....

.....

.....

ورقة عمل رقم (7) / العام الدراسي 2024-2025

القسم	اجتماعيات	اليوم/التاريخ	2023\10\ ...	الصف	التاسع
الوحدة/الموضوع	الثالثة	اسم الطالب			

2- عدد مظاهر الديمقراطية في دولة قطر

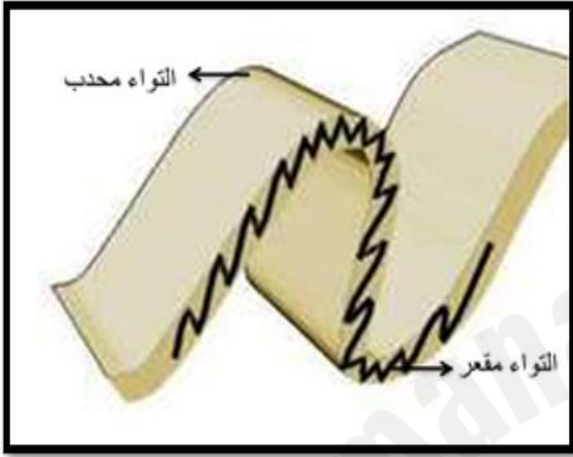
1- وضح أهمية دستور 2004 للمواطن القطري.



أ.....
ب.....
ج.....

ورقة عمل رقم (1) / العام الدراسي 2024-2025

القسم	اجتماعيات	اليوم/التاريخ	2024 /9/... ..	الصف	التاسع
الوحدة/الموضوع	الوحدة الأولى	اسم الطالب			



1- عدد أنواع الالتواءات

.....-1

.....-2

2- وضح الفرق بين أنواع الالتواءات

.....-1

.....-2

3- اذكر أهم الأشكال التضاريسية الناتجة عن الالتواءات



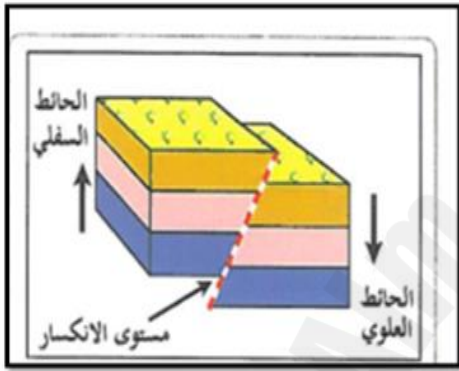
.....-2

.....-1

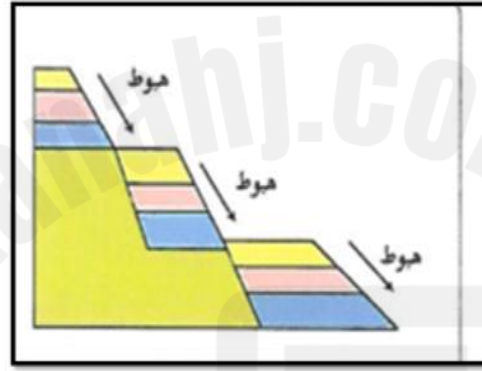
ورقة عمل رقم (2) / العام الدراسي 2024-2025

القسم	اجتماعيات	اليوم/التاريخ	2024 /9/... ..	الصف	التاسع
الوحدة/الموضوع	الوحدة الأولى	اسم الطالب			

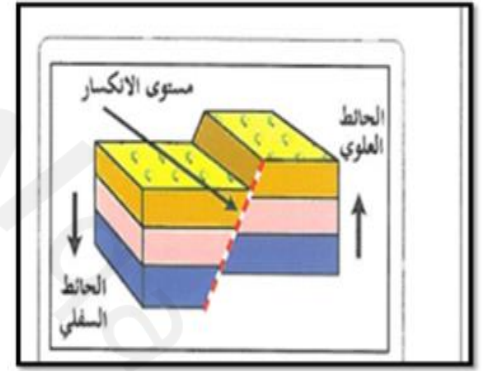
1- عدد أنواع الانكسارات



3-



2-



1-

2- أذكر أهم الأشكال التضاريسية الناتجة عن الانكسارات



3-



2-



1-

ورقة عمل رقم (3) العام الدراسي 2024 - 2025

القسم	اجتماعيات	اليوم/التاريخ	2023 /9/...	الصف	التاسع
الوحدة/الموضوع	الاولى	اسم الطالب			



1- عدد الآثار المترتبة على الزلازل

..... -1

..... -2

..... -3

..... -4

التوزيع الجغرافي للزلازل



2- وضح نطاقات توزيع الزلازل


..... -1

..... -2

ورقة عمل رقم (4) / العام الدراسي 2024-2025

القسم	اجتماعيات	اليوم/التاريخ	2024 /9/...	الصف	التاسع
الوحدة/الموضوع	الوحدة الأولى	اسم الطالب			

عدد الآثار الناتجة عن البراكين



.....-4

.....-3

.....-2

.....-1

2- وضح طرق التعامل مع أخطار البراكين

..... أ/

..... ب/

..... ج/

ورقة عمل رقم (5) / العام الدراسي 2024 - 20

القسم	اجتماعيات	اليوم/التاريخ	2024 /..9../... ..	الصف	التاسع
الوحدة/الموضوع	الوحدة الثانية	اسم الطالب			

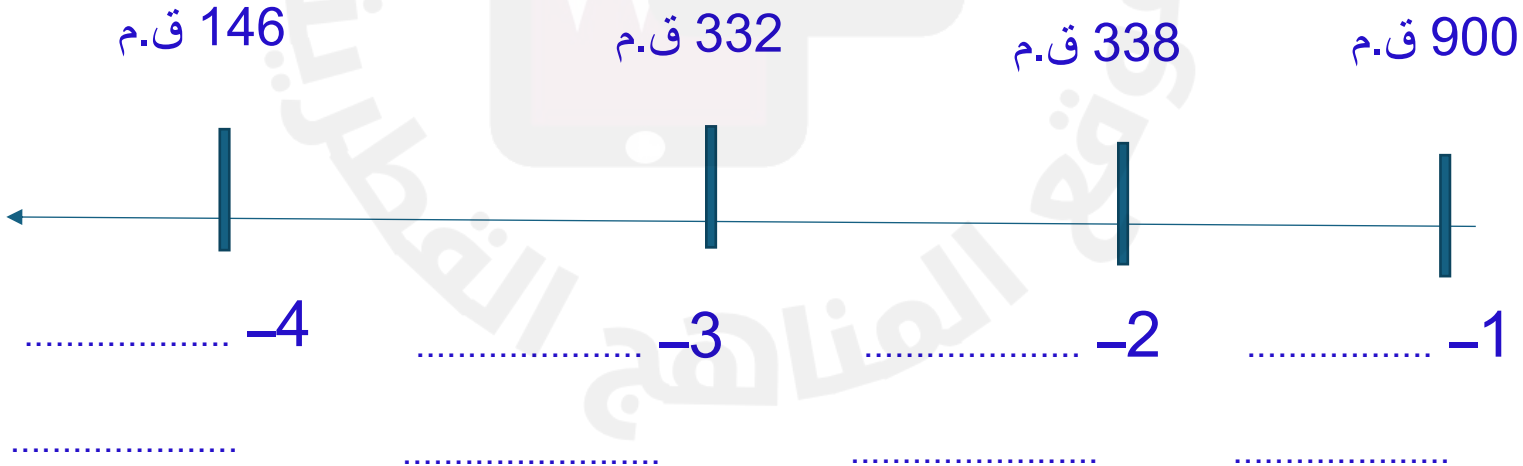
1- بم تفسر / لم تسهم اسيرطة بقسط كبير في الحضارة الإغريقية القديمة؟



.....
.....


2- رتب على الخط الزمني أهم أحداث الحضارة اليونانية القديمة من الأقدم إلى الأحدث :

(إقامة الإمبراطورية اليونانية - سقوط بلاد اليونان - سيطرة مقدونيا على اليونان - تأسيس دولة المدينة



ورقة عمل رقم (6) / العام الدراسي 2024 - 2025

القسم	اجتماعيات	اليوم/التاريخ	2024 /10./...	الصف	التاسع
الوحدة/الموضوع	الوحدة الثانية	اسم الطالب			



السؤال 1: صل بين العالم والمجال الذي برع فيه


1- برع في مجال الرياضيات من
من خلال الهندسة والنظريات



2- برع في الطب وفرض قسماً
لمن أراد ممارسة الطب



3- مفكر وفيلسوف يوناني قديم



4- نُقب بأبي التاريخ

السؤال الثاني : قارن بين طبقات المجتمع اليوناني من حيث تمتعها بالحقوق .

.....

.....

ورقة عمل رقم (7) العام الدراسي 2024 - 2025

القسم	اجتماعيات	اليوم/التاريخ	2024 /..10../... ..	الصف	التاسع
الوحدة/الموضوع	الثالثة	اسم الطالب			

1- حدد أوجه الاختلاف بين الديمقراطية المباشرة والديمقراطية غير المباشرة :

العنصر	الديمقراطية المباشرة	الديمقراطية غير المباشرة
وجه الاختلاف		

2- بم تفسر أهمية الدستور الدائم لدولة قطر ؟

.....

.....

.....

.....

منسق المادة/ فادي قناعة

معلم المادة / محمد العواوده