

تم تحميل هذا الملف من موقع المناهج القطرية



مراجعة منتصف الفصل الدراسي الأول

موقع المناهج ← المناهج القطرية ← المستوى التاسع ← اجتماعيات ← الفصل الأول ← ملفات متنوعة ← الملف

تاريخ إضافة الملف على موقع المناهج: 18:57:48 2024-10-17

ملفات اكتب للمعلم اكتب للطالب | اختبارات الكترونية | اختبارات | حلول | عروض بوربوينت | أوراق عمل
منهج انجليزي | ملخصات وتقارير | مذكرات وبنوك | الامتحان النهائي للمدرس

المزيد من مادة
اجتماعيات:

التواصل الاجتماعي بحسب المستوى التاسع



صفحة المناهج
القطرية على
فيسبوك

الرياضيات

اللغة الانجليزية

اللغة العربية

التربية الاسلامية

المواد على تلغرام

المزيد من الملفات بحسب المستوى التاسع والمادة اجتماعيات في الفصل الأول

نموذج اختبار الوحدة الثانية الحضارة اليونانية

1

اختبار الوحدة الثالثة (الديموقراطية)

2

اختبار الوحدة الأولى العوامل الباطنية المؤثرة في تشكيل سطح الأرض

3

تدريبات إثرائية وعلاجية عن الوحدة الأولى

4

مذكرة الوحدة الأولى الحركات الباطنية البطيئة (الانكسارات والالتواءات)

5

اسم الطالب :-
السؤال الأول : اختر الإجابة الصحيحة بوضع علامة (x) داخل المربع :-

1. من الحركات الباطنية السريعة :

- أ الزلازل
ب التعرية
ج التجوية
د الالتواءات

2. أي مما يلي من الجبال الالتوائية في قارة أمريكا الشمالية؟

- أ الألب
ب روكي
ج الإنديز
د الهيمالايا

3. من الحركات الباطنية البطيئة :

- أ الزلازل
ب البراكين
ج التجوية
د الانكسارات

4. البراكين التي لا يُعرف إذا كانت ستثور مرة أخرى أم لا هي:

- أ الميتة
ب النشطة
ج الخاملة
د المتقطعة

5. توجد جبال الإنديز الالتوائية في قارة:

- أ أوروبا
ب إفريقيا
ج أمريكا الشمالية
د أمريكا الجنوبية

6. أي مما يلي من الهضاب الالتوائية في قارة آسيا:

- أ التبت
ب الحبشة
ج المكسيك
د الشطوط

7. البراكين دائمة الثوران:

- أ الميتة
ب النشطة
ج الخاملة
د المتقطعة

اجب عن الأسئلة التالية:

1. عدد أنواع الالتواءات .

أ -

ب -

2. كيف تتصرف في حالة حدوث زلزال؟

أ -

ب -

ج -

3. للبراكين أنواع عديدة اذكرها .

.....

.....

4. عرف المفاهيم التالية:

أ - الالتواءات :

.....

ب - الزلازل :

.....

ج - البراكين :

.....

د - الانكسارات :

.....

5. قارن بين النتائج المترتبة على كلٍ من .

البراكين	الزلازل
أ -	أ -
.....
ب -	ب -
.....

6. ما النتائج المترتبة على الانكسارات .

- أ.....
ب -.....
ج -.....

7. بم تفسر:

أ- تسمية الحركات البطيئة بهذا الاسم ؟

.....

ب- تكون جبال الهيمالايا في قارة آسيا ؟

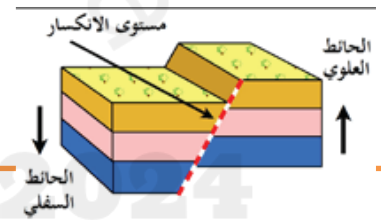
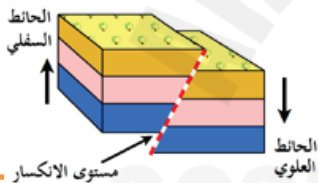
.....

عدد نطاقات توزيع الزلازل :

أ-.....

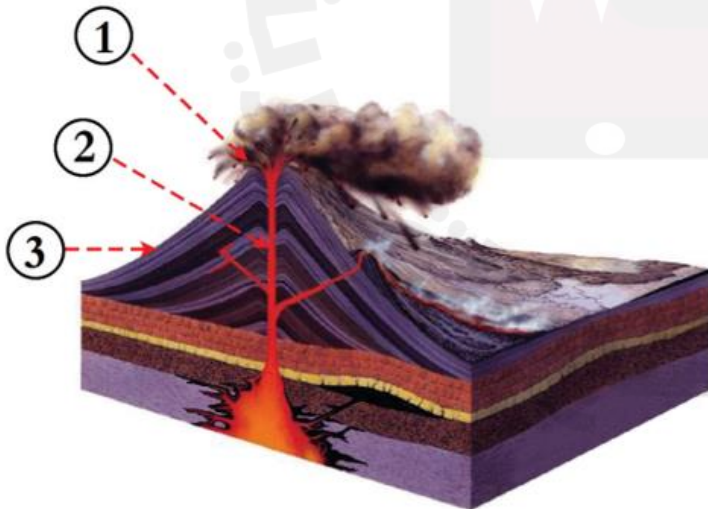
ب-.....

8- أمامك مجموعة من الصور توضح أنواع الانكسارات صنفها .



9- من الشكل المقابل وضح ما

تشير إليه الأرقام التالية .



.....-1

.....-2

.....-3

السؤال الأول : اختر الإجابة الصحيحة بوضع علامة (x) داخل المربع :-

1. من الجبال الانكسارية جبال :

- أ فيجي
ب كلمنجارو
ج الحجاز
د دراكنزبرج

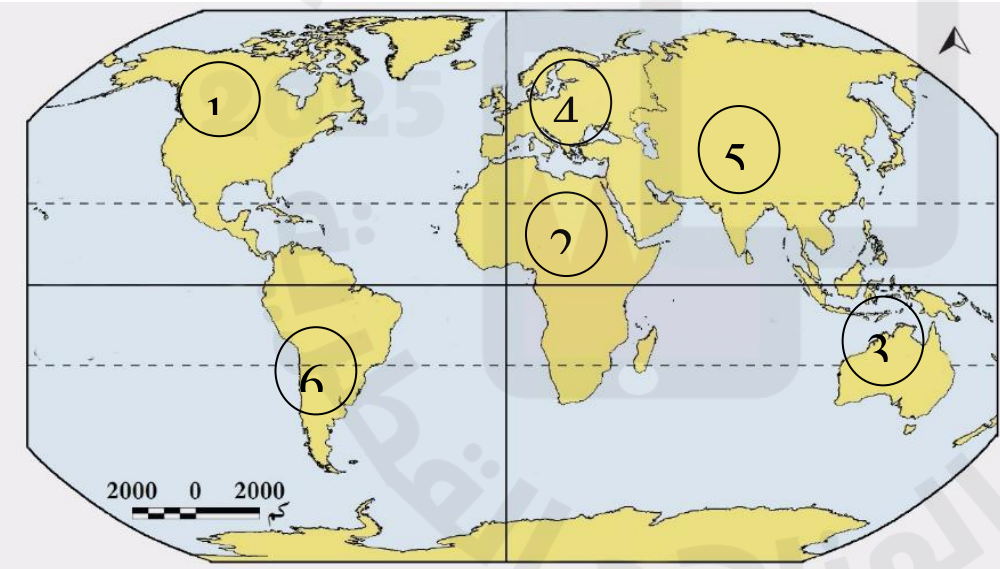
2. من الجبال البركانية جبل فيجي في :

- أ الهند
ب الصين
ج اليابان
د إندونيسيا

3. تكونت الأغوار المنخفضة نتيجة :

- أ الالتواءات
ب الانكسارات
ج الزلازل
د البراكين

2. اكتب مدلول الأرقام التالية على خريطة العالم الطبيعية.



- 1- جبال
- 2- قارة
- 3- جبال
- 4- قارة
- 5- جبال
- 6- جبال

أولاً: اختر الإجابة الصحيحة بوضع علامة (×) داخل المربع:

1. المدينة التي تميزت بنظامها الديمقراطي هي:

أ أثينا ج أسيرطة

ب مقدونيا د طروادة

2. الفئة التي يحق لها ممارسة الحقوق السياسية في الحضارة اليونانية:

أ العبيد ج المقيمون

ب الأجانب د المواطنون

3. أشهر علماء الفلسفة في الحضارة اليونانية:

أ أبقراط ج بطليموس

ب سقراط د هيروdotus

4. "فيثاغورث" من أشهر علماء الإغريق في مجال:

أ الطب ج الفلك

ب التاريخ د الرياضيات

5. الفئة التي ليس لها أي حقوق:

أ العبيد ج المقيمون

ب الأجانب د المواطنون

6. انتقلت الحضارات القديمة إلى بلاد اليونان عن طريق جزيرتي:

أ رودس وكريت ج قبرص وصقلية

ب كريت وقبرص د رودس وصقلية

7. يرجع انقسام الإمبراطورية اليونانية إلى:

أ قيام دولة المدينة ج وفاة الإسكندر المقدوني

ب احتلال الرومان لليونان د تولي فيليب المقدوني الحكم

ثانياً: بم تفسر:

1. لم تُسهم أسبرطة بنصيب كبير في الحضارة اليونانية؟

.....

2. تسمية الألعاب الأولمبية بهذا الاسم؟

.....

3. لعب الموقع الجغرافي دوراً مهماً في قيام الحضارة اليونانية؟

.....

4. اهتمام اليونانيون بصناعة السفن؟

.....

ثالثاً: اذكر:

1. عوامل قيام الحضارة اليونانية .

أ -

ب -

ج -

2. أنظمة الحكم عند اليونانيين القدماء.

أ -

ب -

ج -

3. طبقات المجتمع اليوناني .

أ -

ب -

ج -

أجب على الأسئلة التالية :-

1- ما أثر التضاريس في قيام الحضارة اليونانية ؟

.....
.....

2. فسر سبب تقسيم الإمبراطورية اليونانية ؟

.....
.....

3. ما أثر حركة التفكير على قيام الحضارة اليونانية ؟

.....
.....

4. حدد وجه الاختلاف بين كل من حضارة أسبرطة، وحضارة أثينا .

الحضارة	حضارة أسبرطة	حضارة أثينا
وجه الاختلاف	أ-.....	أ-.....

	ب-.....	ب-.....

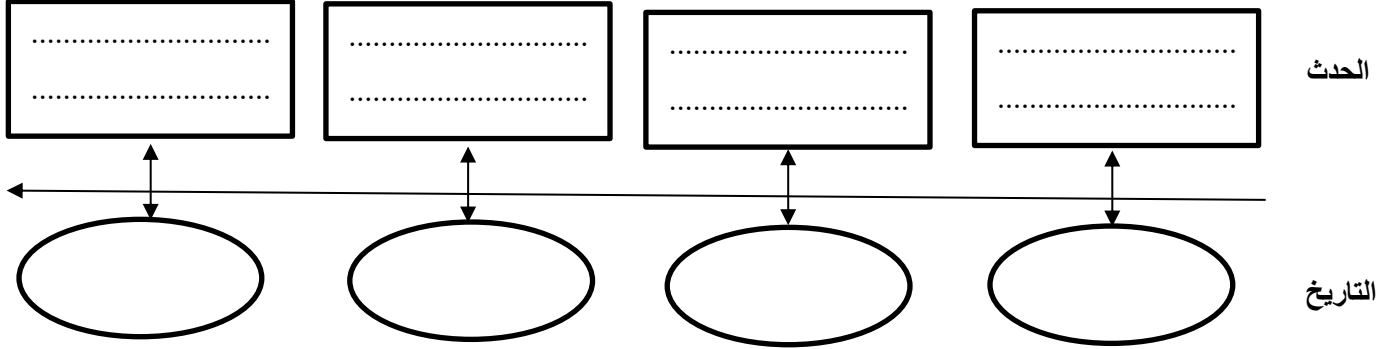
5- حدد أسباب شهرة بعض العلماء الإغريق من خلال تكملة الجدول التالي .

العالم	شهرته
هيرودوتس
أبقراط
فيثاغورث
بطليموس

رتب الأحداث التاريخية التالية على الخط الزمني من الأقدم إلى الأحدث .

(إقامة الإمبراطورية اليونانية - انقسام الإمبراطورية اليونانية - تأسيس دولة المدينة - سيطرة مقدونيا على

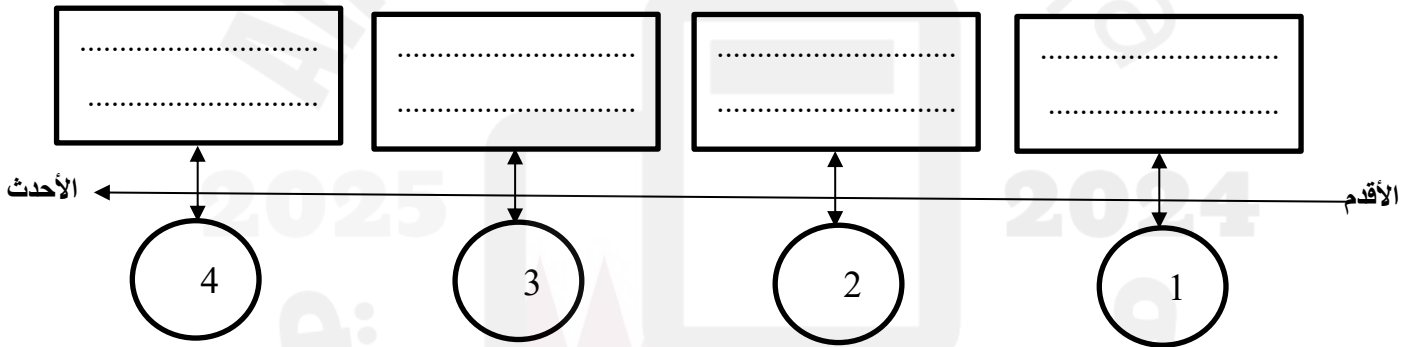
بلاد اليونان)



رتب الأحداث التاريخية التالية على الخط الزمني من الأقدم إلى الأحدث .

(إقامة الإمبراطورية اليونانية - سقوط بلاد اليونان - تأسيس دولة المدينة - سيطرة مقدونيا على بلاد

اليونان)



أولاً: اختر الإجابة الصحيحة بوضع علامة (×) داخل المربع:

1. صدر الدستور الدائم لدولة قطر عام :

- أ 2002م
- ب 2004م
- ج 2006م
- د 2008م

2. عدد أعضاء مجلس الشورى القطري :

- أ 35
- ب 40
- ج 45
- د 50

3. ساعد على حرية الرأي والتعبير في دولة قطر :

- أ إنشاء مجلس الوزراء
- ب إنشاء مجلس الشورى
- ج إنشاء الديوان الأميري
- د إلغاء الرقابة على وسائل الإعلام

4. مدة المجلس البلدي المركزي أربع سنوات وعدد أعضائه :

- أ 29
- ب 39
- ج 49
- د 59

5. يُعد الاستفتاء على الدستور القطري صورة من صور الديمقراطية :

- أ النيابة
- ب المباشرة
- ج غير المباشرة
- د شبه المباشرة

ثانياً: بم تفسر:

1- للدستور الدائم أهمية كبيرة لدولة قطر؟

- أ -
ب -
ج -

2- تُعرف الديمقراطية غير المباشرة بالنيابية؟

.....

ثالثاً: اجب عن الأسئلة:

1. عدد مهام مجلس الشورى القطري .

- أ -
ب -
ج -

2. عدد مظاهر الديمقراطية في دولة قطر .

- أ -
ب -
ج -

3. قارن بين أنواع الديمقراطية المختلفة .

الديمقراطية المباشرة	الديمقراطية غير المباشرة	الديمقراطية المباشرة
.....
.....
.....
.....