

تم تحميل هذا الملف من موقع المناهج القطرية



* للحصول على أوراق عمل لجميع الصفوف وجميع المواد اضغط هنا

<https://almanahj.com/qa>

* للحصول على أوراق عمل لجميع مواد المستوى التاسع اضغط هنا

<https://almanahj.com/qa/9>

* للحصول على جميع أوراق المستوى التاسع في مادة رياضيات ولجميع الفصول, اضغط هنا

<https://almanahj.com/qa/9math>

* للحصول على أوراق عمل لجميع مواد المستوى التاسع في مادة رياضيات الخاصة بـ الفصل الأول اضغط هنا

<https://almanahj.com/qa/9math1>

* لتحميل كتب جميع المواد في جميع الفصول للمستوى التاسع اضغط هنا

<https://almanahj.com/qa/grade9>

للتحدث إلى بوت المناهج القطرية على تلغرام: اضغط هنا

https://t.me/qacourse_bot

أوراق عمل إثرائية علاجية

مادة الرياضيات

9

منتصف الفصل الدراسي الأول

للعام الدراسي 2021-2022

math



اسم الطالب:

الصف: 9 /

الأوراق لا تفسى عن الكتاب المدرسي



س1: اختر الإجابة المناسبة بوضع علامة (×) داخل المربع :

A	$k = 3h - g$	(1) ما حل المعادلة $k - 3h = g$ بدلالة المتغير k ؟
B	$k = g + 3h$	
C	$k = 3hg$	
D	$k = \frac{g}{3h}$	

A	$x = \frac{7a - 2y}{3}$	(2) ما حل المعادلة $3x + 2y = 7a$ بدلالة المتغير x ؟
B	$x = \frac{7a + 2y}{3}$	
C	$x = \frac{2y - 7a}{3}$	
D	$x = \frac{7a - 3y}{2}$	

A	1	(3) ما ميل المستقيم الذي معادلته $y = -2x + 1$ ؟
B	$-\frac{1}{2}$	
C	$\frac{1}{2}$	
D	-2	

A	$y = 3x + 6$	(4) ما معادلة المستقيم بصيغة الميل والمقطع والذي ميله 6 والمقطع y يساوي 3 ؟
B	$y = 3x - 6$	
C	$y = 6x + 3$	
D	$y = 6x - 3$	

A	$b = -7$	(5) ما مقطع y للمستقيم الذي معادلته $y = \frac{3}{4}x - 7$ ؟
B	$b = -\frac{3}{4}$	
C	$b = 7$	
D	$b = 3$	

س²: - ما حل المعادلة

$$kx + 7y = 8h \text{ بدلالة المتغير } x \text{ ؟}$$

موضحاً خطوات الحل

س³: - ما حل المعادلة

$$5m + 2 = y - 3 \text{ بدلالة المتغير } m \text{ ؟}$$

موضحاً خطوات الحل

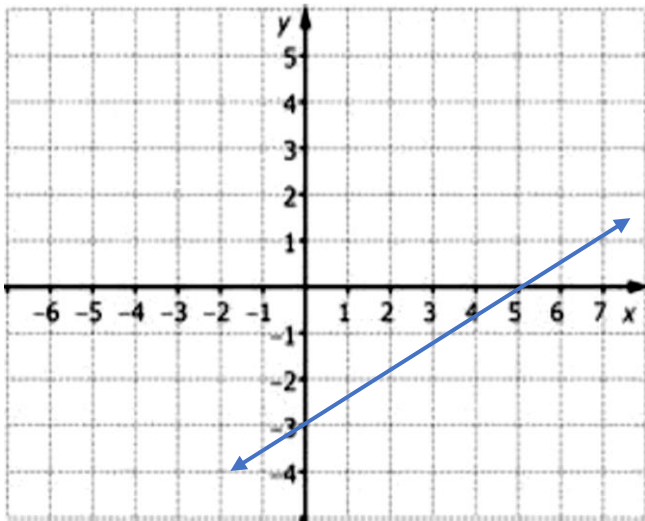
almanahj.com/qa
المنهجية التطويرية

س⁴: - من التمثيل البياني أدناه ، أوجد ما يلي :(1) المقطع $y =$

(2) ميل المستقيم =

(3) معادلة المستقيم في صيغة الميل والمقطع

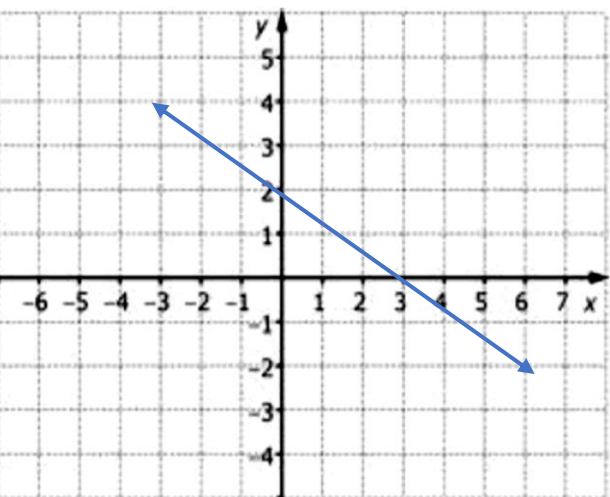
.....
.....

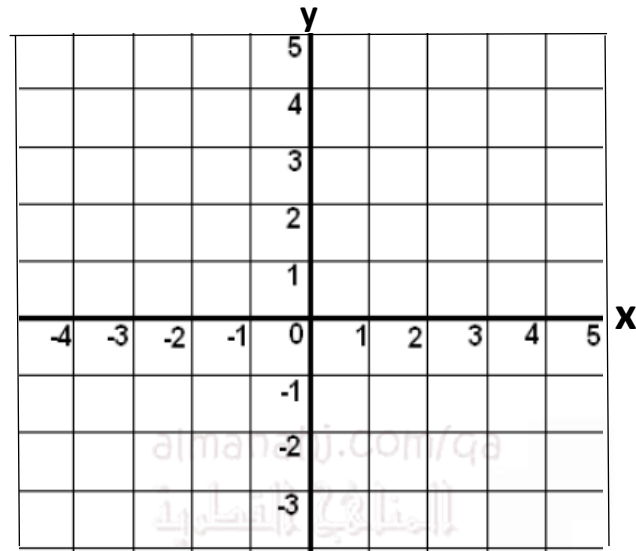
س⁵: - من التمثيل البياني أدناه ، أوجد ما يلي :(1) المقطع $y =$

(2) ميل المستقيم =

(3) معادلة المستقيم في صيغة الميل والمقطع

.....
.....





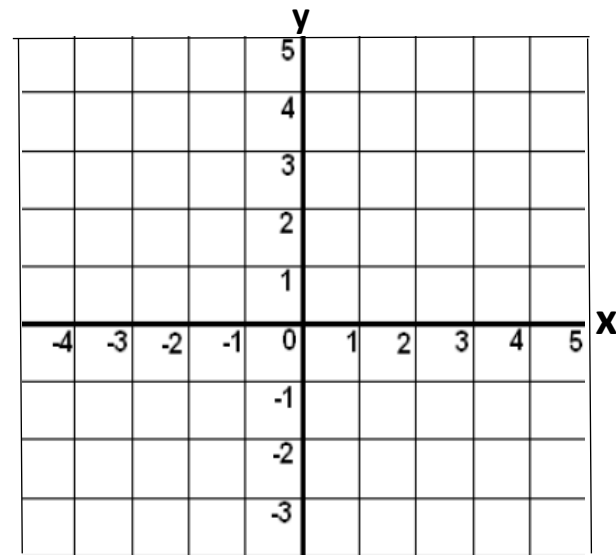
س6: - إذا كانت معادلة المستقيم $y = \frac{-1}{2}x + 3$

أوجد كل مما يأتي :

(1) ميل المستقيم =

(2) المقطع y =

(3) مثل بيانيا معادلة المستقيم في الرسم البياني أمامك



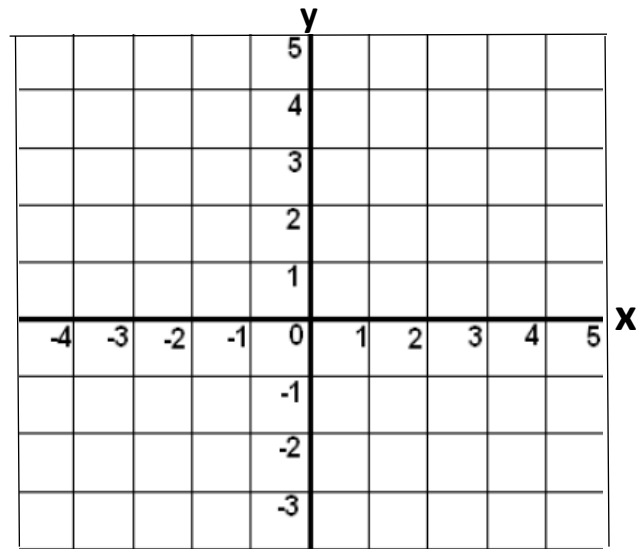
س7: - إذا كانت معادلة المستقيم $y = \frac{3}{4}x - 1$

أوجد كل مما يأتي :

(1) ميل المستقيم =

(2) المقطع y =

(3) مثل بيانيا معادلة المستقيم في الرسم البياني أمامك



س8: - إذا كانت معادلة المستقيم $y = -5x + 4$

أوجد كل مما يأتي :

(1) ميل المستقيم =

(2) المقطع y =

(3) مثل بيانيا معادلة المستقيم في الرسم البياني أمامك



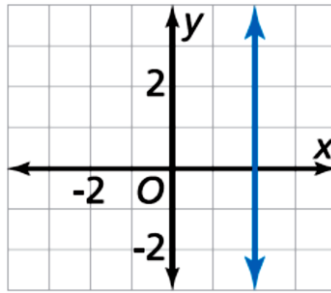
س1: اختر الإجابة المناسبة بوضع علامة (×) داخل المربع :

A	$m = -\frac{1}{2}$	(1) ما هو ميل المستقيم الذي معادلته $y + 3 = -\frac{1}{2}(x - 5)$ ؟
B	$m = \frac{1}{2}$	
C	$m = -3$	
D	$m = 5$	

A	$(-5, 3)$	(2) ما هي النقطة التي يمر بها المستقيم الذي معادلته : $y + 3 = -\frac{1}{2}(x - 5)$ ؟
B	$(-3, 5)$	
C	$(5, -3)$	
D	$(5, 3)$	

A	$y + 7 = -\frac{3}{4}(x - 2)$	(3) إذا كان ميل مستقيم $-\frac{3}{4}$ ويمر بالنقطة $(-2, 7)$ ما معادلة المستقيم بصيغة الميل ونقطة ؟
B	$y - 7 = -\frac{3}{4}(x + 2)$	
C	$y - 7 = \frac{3}{4}(x - 2)$	
D	$y + 2 = -\frac{3}{4}(x - 7)$	

A	$y = -2$	(4) في الشكل المقابل :- ما معادلة المستقيم الممثل أمامك ؟
B	$y = 2$	
C	$x = -2$	
D	$x = 2$	



A	غير معرف m	(5) ما ميل المستقيم الذي معادلته $y = 4$ ؟
B	$m = 4$	
C	$m = 0$	
D	$m = -4$	

A	غير معرف m	(6) ما ميل المستقيم الذي معادلته $x = -5$ ؟
B	$m = -5$	
C	$m = 0$	
D	$m = 5$	

س8: - حدد المقطعين x, y للمعادلة

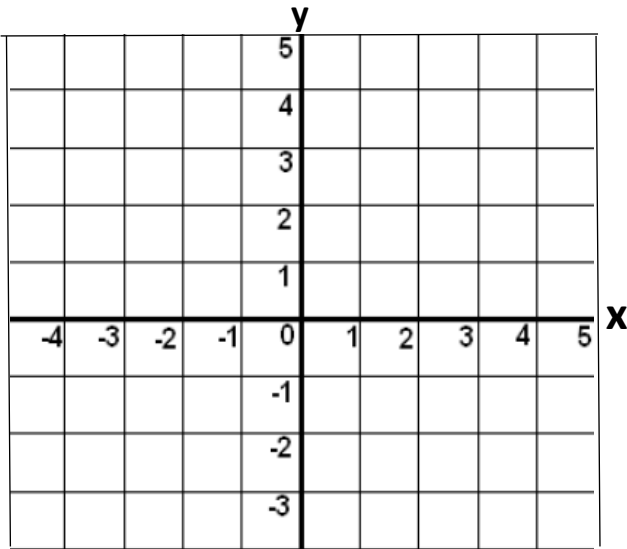
$$5x - 3y = -15$$



almanahj.com/qa
المنهجية

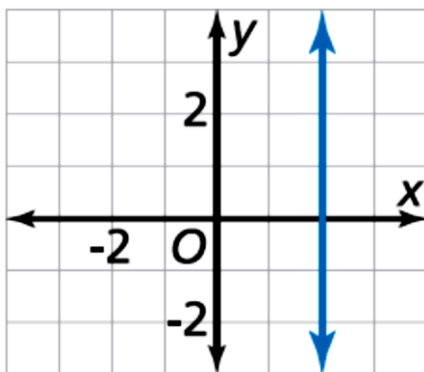
س7: - حدد المقطعين x, y للمعادلة

$$3x + 4y = 12$$

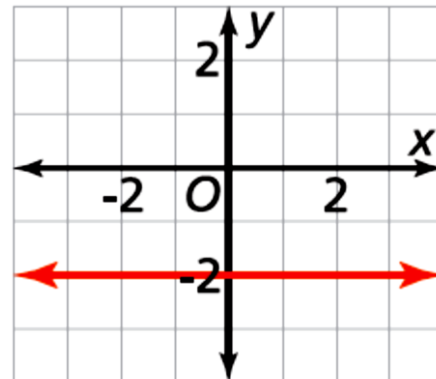
س9: - إذا كانت معادلة المستقيم $3x + 2y = 6$ (1) حدد المقطعين x, y للمعادلة

(2) مثل بيانيا معادلة المستقيم في الرسم البياني أمامك

س11: - ما معادلة المستقيم الممثل أمامك؟



س10: - ما معادلة المستقيم الممثل أمامك؟





أوراق عمل إثرائية علاجية (3) درس المستقيمات المتوازية والمتعامدة

الوحدة الأولى

س1: اختر الإجابة المناسبة بوضع علامة (x) داخل المربع :

A	$m = -\frac{4}{3}$	(1) ما هو ميل المستقيم <u>الموازي</u> للمستقيم الذي معادلته $y = \frac{3}{4}x - 5$ ؟
B	$m = \frac{3}{4}$	
C	$m = \frac{4}{3}$	
D	$m = -5$	

A	$m = -\frac{4}{5}$	(2) ما هو ميل المستقيم <u>العمودي</u> على المستقيم الذي معادلته $y + 3 = \frac{4}{5}(x + 1)$ ؟
B	$m = \frac{4}{5}$	
C	$m = -\frac{5}{4}$	
D	$m = \frac{5}{4}$	

A	$y = 4x + 5$	(3) أيّ من المستقيمات التالية <u>عمودي</u> على المستقيم الذي معادلته $y = \frac{1}{4}x - 3$ ؟
B	$y = -4x + 5$	
C	$y = \frac{1}{4}x + 5$	
D	$y = -\frac{1}{4}x + 5$	

A	متوازيان	(4) ما وضع المستقيمان اللذان معادلتهما ؟ $y = 5x + 2$, $y = 5x - 6$
B	متعامدان	
C	متقاطعان	
D	غير ذلك	

A	$y - 5 = \frac{1}{7}(x - 3)$	(5) ما معادلة المستقيم المار بالنقطة $(-5, 3)$ و <u>الموازي</u> للمستقيم الذي معادلته $y = \frac{1}{7}x + 4$ ؟
B	$y - 5 = \frac{1}{7}(x + 3)$	
C	$y - 3 = \frac{1}{7}(x + 5)$	
D	$y + 5 = \frac{1}{7}(x - 3)$	



س2:- أكمل الجدول التالي بما هو مناسب :-

معادلة المستقيم	ميل المستقيم الموازي	ميل المستقيم العمودي
$y = 3x + 1$		
$y = \frac{2}{3}x + 7$		
$y = \frac{-5}{7}x + 7$		
$5x + 6y = -1$		


س3:- اكتب معادلة المستقيم المار بالنقطة $(4, 7)$ و الموازي للمستقيم الذي معادلته $y = -\frac{2}{3}x + 8$ س4:- اكتب معادلة المستقيم المار بالنقطة $(-1, 3)$ و الموازي للمستقيم الذي معادلته $y = 5x - 9$ س5:- اكتب معادلة المستقيم المار بالنقطة $(-5, -3)$ و الموازي للمستقيم الذي معادلته $y = \frac{1}{2}x + 4$ 



س6:- اكتب معادلة المستقيم المار بالنقطة (9 , 8) والعمودي على المستقيم الذي معادلته $y = \frac{3}{4}x - 2$



س7:- اكتب معادلة المستقيم المار بالنقطة (-2 , 5) والعمودي على المستقيم الذي معادلته $y = -\frac{1}{3}x + 4$



س8:- حدد ما إذا كان المستقيمان متوازيان أم متعامدان أم غير ذلك :-

$$y = -\frac{3}{4}x + 2 \quad , \quad y = -\frac{4}{3}x - 9 \quad (1)$$

$$y = 2x + 1 \quad , \quad y = -\frac{1}{2}x - 6 \quad (2)$$

$$y = \frac{4}{7}x - 3 \quad , \quad y = \frac{4}{7}x + 5 \quad (3)$$



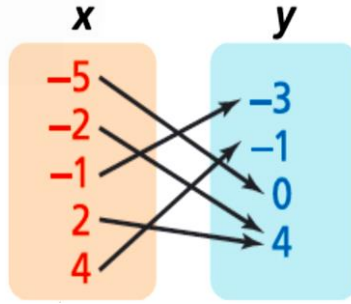
الوحدة الثانية | أوراق عمل إثرائية علاجية (4) درس العلاقات والدوال - درس الدوال الخطية وتحويلها

س1: اختر الإجابة المناسبة بوضع علامة (×) داخل المربع :

A	{1, 2, 3, 4}	(1) ما هو مجال الدالة الممثلة في الجدول أمامك ؟
B	{2, 3, 4, 5}	
C	{2, 3, 4, 5, 6}	
D	{0, 1, 2, 3, 4}	

x	2	3	4	5	6
y	0	1	2	3	4

A	{-5, -2, -1, 2}	(2) ما هو مجال الدالة الممثلة في المخطط السهمي أمامك ؟
B	{-2, -1, 2, 4}	
C	{-3, -1, 0, 4}	
D	{-5, -2, -1, 2, 4}	

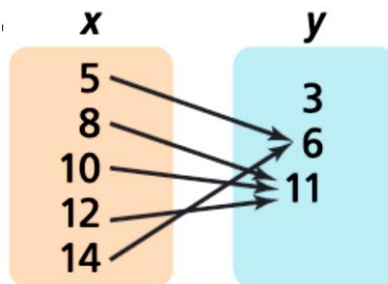


A	{1, 5, 7}	(3) ما هو مجال الدالة لمجموعة الأزواج المرتبة الموضحة أدناه ؟ {(1, 2), (5, 6), (7, -1), (8, 0)}
B	{1, 5, 7, 8}	
C	{2, 6, -1, 0}	
D	{1, 2, 5, 6, 7, -1}	

A	{-3, -1, 1, 3, 4}	(4) ما هو مدى الدالة الممثلة في الجدول أمامك ؟
B	{1, 3, -2, 2, 6}	
C	{-3, -1, 1, 3}	
D	{-2, 2, 6}	

x	-3	-1	1	3	4
y	1	3	-2	2	6

A	{6, 11}	(5) ما هو مدى الدالة الممثلة في المخطط السهمي أمامك ؟
B	{3, 6, 11}	
C	{5, 8, 10, 12}	
D	{5, 8, 10, 12, 14}	





A	8	(6) إذا كانت $f(x) = 2x + 1$ ، ما قيمة $f(5)$ ؟
B	9	
C	10	
D	11	

A	-6	(7) ما قيمة الدالة $g(x) = 2x + 1$ ، عندما $x = -3$ ؟
B	-5	
C	5	
D	6	

A	$f(x) = 5x - 1$	(8) ما هي الدالة الخطية للبيانات الواردة بالجدول باستعمال رمز الدالة ؟
B	$f(x) = 5x + 1$	
C	$f(x) = 5x + 3$	
D	$f(x) = 5x + 4$	

x	0	1	2	3	4
y	-1	4	9	14	19

A	$f(x) = 3x + 1$	(9) ما هي الدالة الخطية للبيانات الواردة بالجدول باستعمال رمز الدالة ؟
B	$f(x) = 3x - 1$	
C	$f(x) = 3x - 2$	
D	$f(x) = 3x - 3$	

x	1	2	3	4
y	1	4	7	10

A	$f(x) = -2x + 5$	(10) ما هي الدالة الخطية للبيانات الواردة بالجدول باستعمال رمز الدالة ؟
B	$f(x) = -2x + 3$	
C	$f(x) = -2x - 1$	
D	$f(x) = -2x + 1$	

x	-2	-1	0	1	2
f(x)	5	3	1	-1	-3

A	إزاحة رأسية لأسفل 3 وحدات	(11) ما وجه المقارنة بين التمثيل البياني للدالة $f(x) = 7x$ والتمثيل البياني للدالة $f(x) = 7x + 3$ ؟
B	إزاحة رأسية لأعلى 3 وحدات	
C	إزاحة أفقية لليمين 3 وحدات	
D	إزاحة أفقية لليسار 3 وحدات	



A	إزاحة رأسية لأسفل 3 وحدات	(12) ما وجه المقارنة بين التمثيل البياني للدالة $f(x) = 7x$ والتمثيل البياني للدالة $f(x) = 7x - 3$ ؟
B	إزاحة رأسية لأعلى 3 وحدات	
C	إزاحة أفقية لليمين 3 وحدات	
D	إزاحة أفقية لليسار 3 وحدات	

A	إزاحة رأسية لأسفل 3 وحدات	(13) ما وجه المقارنة بين التمثيل البياني للدالة $f(x) = 7x$ والتمثيل البياني للدالة $f(x) = 7(x + 3)$ ؟
B	إزاحة رأسية لأعلى 3 وحدات	
C	إزاحة أفقية لليمين 3 وحدات	
D	إزاحة أفقية لليسار 3 وحدات	

A	إزاحة رأسية لأسفل 3 وحدات	(14) ما وجه المقارنة بين التمثيل البياني للدالة $f(x) = 7x$ والتمثيل البياني للدالة $f(x) = 7(x - 3)$ ؟
B	إزاحة رأسية لأعلى 3 وحدات	
C	إزاحة أفقية لليمين 3 وحدات	
D	إزاحة أفقية لليسار 3 وحدات	

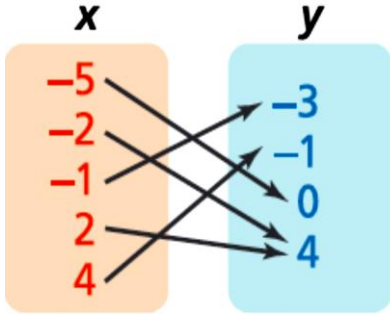
A	إزاحة رأسية لأسفل 5 وحدات	(15) ما وجه المقارنة بين التمثيل البياني للدالة $f(x) = 3x + 8$ والتمثيل البياني للدالة $f(x) = 3(x - 5) + 8$ ؟
B	إزاحة رأسية لأعلى 5 وحدات	
C	إزاحة أفقية لليمين 5 وحدات	
D	إزاحة أفقية لليسار 5 وحدات	

A	تمدد رأسي معاملته 4	(16) ما وجه المقارنة بين التمثيل البياني للدالة $f(x) = x + 1$ والتمثيل البياني للدالة $f(x) = (4x) + 1$ ؟
B	تضييق رأسي معاملته 4	
C	تمدد أفقي معاملته 4	
D	تضييق أفقي معاملته 4	

A	تمدد رأسي معاملته 4	(17) ما وجه المقارنة بين التمثيل البياني للدالة $f(x) = x + 1$ والتمثيل البياني للدالة $f(x) = 4(x + 1)$ ؟
B	تضييق رأسي معاملته 4	
C	تمدد أفقي معاملته 4	
D	تضييق أفقي معاملته 4	



س2 :- حدد مجال العلاقة أدناه ومداهما .



(1) المجال =

(2) المدى =

هل العلاقة دالة ؟ وضح إجابتك .

الإجابة :-

التوضيح :-

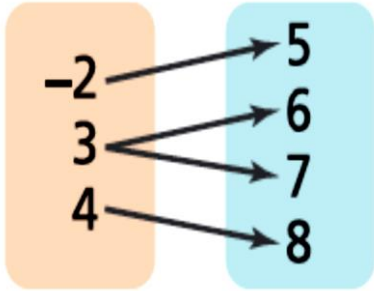
وإذا كانت العلاقة دالة ، هل الدالة دالة واحد لواحد ؟

الإجابة :-

almanahi.com/qa

المنهاجي للتعليم

س3 :- حدد مجال العلاقة أدناه ومداهما .



(1) المجال =

(2) المدى =

هل العلاقة دالة ؟ وضح إجابتك .

الإجابة :-

التوضيح :-

وإذا كانت العلاقة دالة ، هل الدالة دالة واحد لواحد ؟

الإجابة :-

س4 :- حدد مجال العلاقة أدناه ومداهما .

x	-3	-1	1	3	4
y	1	3	-2	2	6

(1) المجال =

(2) المدى =

هل العلاقة دالة ؟ وضح إجابتك .

الإجابة :-

التوضيح :-

وإذا كانت العلاقة دالة ، هل الدالة دالة واحد لواحد ؟

الإجابة :-



س6:- ما قيمة الدالة $f(x) = 5x + 3$ ،
عندما $x = 2$ ؟

س5:- إذا كانت $f(x) = 3x - 5$ ، ما قيمة $f(10)$

س7:-
لتكن $f(x) = 3x + 5$ صف كيف تقارن بين التمثيل البياني للدالة g
والتمثيل البياني للدالة $f(x)$

س7:-

الوصف	الدالة g
	$g(x) = (3x + 5) + 8$
	$g(x) = (3x + 5) - 4$
	$g(x) = 3(x + 10) + 5$
	$g(x) = 3(x - 1) + 5$

س8:-
لتكن $f(x) = 3x$ صف كيف تقارن بين التمثيل البياني للدالة g
والتمثيل البياني للدالة $f(x)$

س8:-

الوصف	الدالة g
	$g(x) = 5(3x)$
	$g(x) = 8(3x)$
	$g(x) = 0.5(3x)$
	$g(x) = 3(7x)$
	$g(x) = 3(0.1x)$

مع صادق رجائنا بالتفوق .