

تم تحميل هذا الملف من موقع المناهج السعودية



نماذج اختبار تشخيصي للفصل الثالث 1446هـ

موقع المناهج ← المناهج السعودية ← الصف الأول ← علوم ← الفصل الثالث ← اختبارات ← الملف

تاريخ إضافة الملف على موقع المناهج: 2025-03-01 22:31:59

ملفات اكتب للمعلم اكتب للطالب | اختبارات الكترونية | اختبارات | حلول | عروض بوربوينت | أوراق عمل
منهج انجليزي | ملخصات وتقارير | مذكرات وبنوك | الامتحان النهائي للمدرس

المزيد من مادة
علوم:

التواصل الاجتماعي بحسب الصف الأول



صفحة المناهج
السعودية على
فيسبوك

الرياضيات

اللغة الانجليزية

اللغة العربية

التربية الاسلامية

المواد على تلغرام

المزيد من الملفات بحسب الصف الأول والمادة علوم في الفصل الثالث

الاختبار التشخيصي القبلي لبرنامج تعزيز المهارات

1

نماذج اختبار تشخيصي للفصل الثالث 1446هـ

2

الخطة الأسبوعية للفصل الثالث

3

ورقة عمل الطقس من حولنا





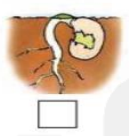


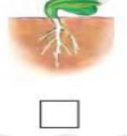



4

عرض بوربوينت الطقس من حولنا

5

اختبار تشخيصي مادة العلوم للصف الأول نموذج (١)

الاسم/

<table border="1"> <tr> <td>اجتاز</td> <td><input type="radio"/></td> </tr> <tr> <td>لم يجتاز</td> <td><input type="radio"/></td> </tr> </table>	اجتاز	<input type="radio"/>	لم يجتاز	<input type="radio"/>	<p>س١/ صنف الصور التالية إلى مخلوقات حية وأشياء غير حية: (بالتوصيل)</p> <div style="display: flex; justify-content: space-around;"> <div style="border: 1px solid black; border-radius: 15px; padding: 5px; width: 150px; text-align: center;">أشياء غير حية</div> <div style="border: 1px solid black; border-radius: 15px; padding: 5px; width: 150px; text-align: center;">مخلوقات حية</div> </div> <div style="display: flex; justify-content: space-around; margin-top: 10px;">     </div>	<p>المقارنة بين المخلوقات الحية والأشياء غير الحية وتصنيفها</p>
اجتاز	<input type="radio"/>					
لم يجتاز	<input type="radio"/>					
<table border="1"> <tr> <td>اجتاز</td> <td><input type="radio"/></td> </tr> <tr> <td>لم يجتاز</td> <td><input type="radio"/></td> </tr> </table>	اجتاز	<input type="radio"/>	لم يجتاز	<input type="radio"/>	<p>س٢/ رتب مراحل حياة نبات الفاصوليا بوضع الرقم المناسب (١ - ٢ - ٣ - ٤)</p> <div style="display: flex; justify-content: space-around; margin-top: 10px;">     </div>	<p>وصف دورة حياة نبات.</p>
اجتاز	<input type="radio"/>					
لم يجتاز	<input type="radio"/>					
<table border="1"> <tr> <td>اجتاز</td> <td><input type="radio"/></td> </tr> <tr> <td>لم يجتاز</td> <td><input type="radio"/></td> </tr> </table>	اجتاز	<input type="radio"/>	لم يجتاز	<input type="radio"/>	<p>س٣/ ضع علامة (✓) تحت الموطن الذي تنمو فيه أشجار كثيرة وطويلة :</p> <div style="display: flex; justify-content: space-around; margin-top: 10px;">    </div> <div style="display: flex; justify-content: space-around; margin-top: 20px;"> <input type="checkbox"/> <input type="checkbox"/> <input type="checkbox"/> </div>	<p>وصف مواطن اليابسة.</p>
اجتاز	<input type="radio"/>					
لم يجتاز	<input type="radio"/>					

<table border="1"> <tr> <td>اجتاز</td> <td><input type="radio"/></td> </tr> <tr> <td>لم يجتاز</td> <td><input type="radio"/></td> </tr> </table>	اجتاز	<input type="radio"/>	لم يجتاز	<input type="radio"/>	<p>س٤/ ضع دائرة حول الإجابة الصحيحة: أيّ الحيوانات التالية يعيش في البحيرة:</p> <table border="1"> <tr> <td></td> <td>ج</td> <td></td> <td>ب</td> <td></td> <td>أ</td> </tr> </table>		ج		ب		أ	<p>وصف مواطن الماء</p>
اجتاز	<input type="radio"/>											
لم يجتاز	<input type="radio"/>											
	ج		ب		أ							
<table border="1"> <tr> <td>اجتاز</td> <td><input type="radio"/></td> </tr> <tr> <td>لم يجتاز</td> <td><input type="radio"/></td> </tr> </table>	اجتاز	<input type="radio"/>	لم يجتاز	<input type="radio"/>	<p>س٥/ اختر الإجابة الصحيحة: من الموارد الطبيعية غير الحية: (الماء - الجمل - الخروف)</p>	<p>التعرف على الموارد الطبيعية ووصفها</p>						
اجتاز	<input type="radio"/>											
لم يجتاز	<input type="radio"/>											
<table border="1"> <tr> <td>اجتاز</td> <td><input type="radio"/></td> </tr> <tr> <td>لم يجتاز</td> <td><input type="radio"/></td> </tr> </table>	اجتاز	<input type="radio"/>	لم يجتاز	<input type="radio"/>	<p>س٦/ أيّ الصور التالية تدل على فصل الشتاء:</p> <table border="1"> <tr> <td></td> <td></td> <td></td> </tr> <tr> <td><input type="radio"/></td> <td><input type="radio"/></td> <td><input type="radio"/></td> </tr> </table>				<input type="radio"/>	<input type="radio"/>	<input type="radio"/>	<p>وصف كيفية تغير الفصول مع تغير الطقس</p>
اجتاز	<input type="radio"/>											
لم يجتاز	<input type="radio"/>											
												
<input type="radio"/>	<input type="radio"/>	<input type="radio"/>										
<table border="1"> <tr> <td>اجتاز</td> <td><input type="radio"/></td> </tr> <tr> <td>لم يجتاز</td> <td><input type="radio"/></td> </tr> </table>	اجتاز	<input type="radio"/>	لم يجتاز	<input type="radio"/>	<p>س٧/ أخط الإجابة الصحيحة: المادة التي تأخذ شكل الوعاء الذي توضع فيه هي: (الصلبة - السائلة - الغازية)</p>	<p>تحديد بعض خصائص المادة.</p>						
اجتاز	<input type="radio"/>											
لم يجتاز	<input type="radio"/>											

مديرة المدرسة:












اسم المعلمة:

المشرفة التربوية:

*يرجى الاحتفاظ بالشواهد في ملف خاص بالمعلمة

اختبار تشخيصي مادة العلوم للصف الأول نموذج (٢)

الاسم/

<table border="1"> <tr> <td>اجتاز</td> <td>0</td> </tr> <tr> <td>لم يجتاز</td> <td>0</td> </tr> </table>	اجتاز	0	لم يجتاز	0	<p>س١/ اختر الإجابة الصحيحة: أي مما يلي يحتاج إلى الغذاء والماء والهواء:</p> <div style="display: flex; justify-content: space-around; align-items: center;"> <div style="text-align: center;">  <input type="checkbox"/> </div> <div style="text-align: center;">  <input type="checkbox"/> </div> <div style="text-align: center;">  <input type="checkbox"/> </div> </div>	<p>المقارنة بين المخلوقات الحية الأشياء غير الحية وتصنيفها</p>
اجتاز	0					
لم يجتاز	0					
<table border="1"> <tr> <td>اجتاز</td> <td>0</td> </tr> <tr> <td>لم يجتاز</td> <td>0</td> </tr> </table>	اجتاز	0	لم يجتاز	0	<p>س٢/ أيّ الصور التالية تمثل بذرة:</p> <div style="display: flex; justify-content: space-around; align-items: center;"> <div style="text-align: center;">  <input type="checkbox"/> </div> <div style="text-align: center;">  <input type="checkbox"/> </div> <div style="text-align: center;">  <input type="checkbox"/> </div> </div>	<p>وصف دورة حياة نبات.</p>
اجتاز	0					
لم يجتاز	0					
<table border="1"> <tr> <td>اجتاز</td> <td>0</td> </tr> <tr> <td>لم يجتاز</td> <td>0</td> </tr> </table>	اجتاز	0	لم يجتاز	0	<p>س٣/ صل الحيوان بمكان عيشه :</p> <div style="display: flex; justify-content: space-around;"> <div style="text-align: center;">   </div> <div style="text-align: center;">   </div> </div>	<p>وصف مواطن اليابسة.</p>
اجتاز	0					
لم يجتاز	0					
<table border="1"> <tr> <td>اجتاز</td> <td>0</td> </tr> <tr> <td>لم يجتاز</td> <td>0</td> </tr> </table>	اجتاز	0	لم يجتاز	0	<p>س٤/ ضع دائرة حول الإجابة الصحيحة: من مواطن المياه المالحة (المحيط - البحيرة)</p> <div style="text-align: center;">  </div>	<p>وصف مواطن الماء</p>
اجتاز	0					
لم يجتاز	0					

س٥ / صل الصورة بما يناسبها:

التعرف على الموارد الطبيعية
ووصفها

اجتاز	<input type="radio"/>
لم يجتاز	<input type="radio"/>

موارد حية	
موارد غير حية	

س٦ / أكتب الكلمة المناسبة في الفراغ :

(الصيف - الخريف - الشتاء)



١- أشد الفصول برودة فصل

وصف كيفية تغير
الفصول مع تغير الطقس

اجتاز	<input type="radio"/>
لم يجتاز	<input type="radio"/>

س٧ / أكتب رقم كل عبارة في العمود (أ) أمام ما يناسبها في العمود(ب):

اجتاز	<input type="radio"/>
لم يجتاز	<input type="radio"/>

(ب)	(أ)
 <input type="checkbox"/>	(١) مادة صلبة شكلها ثابت.
 <input type="checkbox"/>	(٢) سوائل تنساب بسرعة.

تحديد بعض خصائص المادة.

مديرة المدرسة:











اسم المعلمة:










المشرفة التربوية:

*يرجى الاحتفاظ بالشواهد في ملف خاص بالمعلمة

اختبار تشخيصي مادة العلوم للصف الأول نموذج (٣)

الاسم/

<table border="1"> <tr> <td>اجتاز</td> <td><input type="radio"/></td> </tr> <tr> <td>لم يجتاز</td> <td><input type="radio"/></td> </tr> </table>	اجتاز	<input type="radio"/>	لم يجتاز	<input type="radio"/>	<p>س١ / اختر الإجابة الصحيحة: أي مما يلي مخلوق حي:</p> <div style="display: flex; justify-content: space-around; align-items: center;"> <div style="text-align: center;">  <input type="radio"/> </div> <div style="text-align: center;">  <input type="radio"/> </div> <div style="text-align: center;">  <input type="radio"/> </div> </div>	<p>المقارنة بين المخلوقات الحية الأشياء غير الحية وتصنيفها</p>
اجتاز	<input type="radio"/>					
لم يجتاز	<input type="radio"/>					
<table border="1"> <tr> <td>اجتاز</td> <td><input type="radio"/></td> </tr> <tr> <td>لم يجتاز</td> <td><input type="radio"/></td> </tr> </table>	اجتاز	<input type="radio"/>	لم يجتاز	<input type="radio"/>	<p>س٢ / حدد جزء النبات الذي ينبت ثم ينمو ويصبح نباتا جديدا:</p> <div style="display: flex; justify-content: space-around; align-items: center;">    </div>	<p>وصف دورة حياة نبات.</p>
اجتاز	<input type="radio"/>					
لم يجتاز	<input type="radio"/>					
<table border="1"> <tr> <td>اجتاز</td> <td><input type="radio"/></td> </tr> <tr> <td>لم يجتاز</td> <td><input type="radio"/></td> </tr> </table>	اجتاز	<input type="radio"/>	لم يجتاز	<input type="radio"/>	<p>س٣ / ضع علامة (✓) تحت الموطن الذي يتميز بكثرة أعشابه:</p> <div style="display: flex; justify-content: space-around; align-items: center;">    </div> <div style="display: flex; justify-content: space-around; align-items: center; margin-top: 10px;"> <input type="checkbox"/> <input type="checkbox"/> <input type="checkbox"/> </div>	<p>وصف مواطن اليابسة.</p>
اجتاز	<input type="radio"/>					
لم يجتاز	<input type="radio"/>					
<table border="1"> <tr> <td>اجتاز</td> <td><input type="radio"/></td> </tr> <tr> <td>لم يجتاز</td> <td><input type="radio"/></td> </tr> </table>	اجتاز	<input type="radio"/>	لم يجتاز	<input type="radio"/>	<p>س٤ / ضع دائرة حول الإجابة الصحيحة: من مواطن المياه العذبة . (المحيط - البحيرة)</p> <div style="text-align: center;">  </div>	<p>وصف مواطن الماء</p>
اجتاز	<input type="radio"/>					
لم يجتاز	<input type="radio"/>					

<table border="1"> <tr> <td>اجتاز</td> <td><input type="radio"/></td> </tr> <tr> <td>لم يجتاز</td> <td><input type="radio"/></td> </tr> </table>	اجتاز	<input type="radio"/>	لم يجتاز	<input type="radio"/>	<p>س٥ / اختر الإجابة الصحيحة: من الموارد الطبيعية الحية: (القلم - الحيوانات - الكتاب)</p>	<p>التعرف على الموارد الطبيعية ووصفها</p>						
اجتاز	<input type="radio"/>											
لم يجتاز	<input type="radio"/>											
<table border="1"> <tr> <td>اجتاز</td> <td><input type="radio"/></td> </tr> <tr> <td>لم يجتاز</td> <td><input type="radio"/></td> </tr> </table>	اجتاز	<input type="radio"/>	لم يجتاز	<input type="radio"/>	<p>س٦ / أكتب الكلمة المناسبة في الفراغ: (الخريف - الشتاء) ١ - يصبح الطقس معتدلاً وتتساقط أوراق بعض النباتات في فصل</p>	<p>وصف كيفية تغير الفصول مع تغير الطقس</p>						
اجتاز	<input type="radio"/>											
لم يجتاز	<input type="radio"/>											
<table border="1"> <tr> <td>اجتاز</td> <td><input type="radio"/></td> </tr> <tr> <td>لم يجتاز</td> <td><input type="radio"/></td> </tr> </table>	اجتاز	<input type="radio"/>	لم يجتاز	<input type="radio"/>	<p>س٧ / صل العبارة في العمود (أ) بما يناسبها في العمود(ب):</p> <table border="1"> <thead> <tr> <th data-bbox="359 862 782 918">(ب)</th> <th data-bbox="782 862 1228 918">(أ)</th> </tr> </thead> <tbody> <tr> <td data-bbox="359 918 782 1108">  </td> <td data-bbox="782 918 1228 1518" rowspan="3"> <p>مادة صلبة شكلها ثابت.</p> </td> </tr> <tr> <td data-bbox="359 1108 782 1288">  </td> </tr> <tr> <td data-bbox="359 1288 782 1518">  </td> </tr> </tbody> </table>	(ب)	(أ)		<p>مادة صلبة شكلها ثابت.</p>			<p>تحديد بعض خصائص المادة.</p>
اجتاز	<input type="radio"/>											
لم يجتاز	<input type="radio"/>											
(ب)	(أ)											
	<p>مادة صلبة شكلها ثابت.</p>											
												
												

مديرة المدرسة:

اسم المعلمة:

المشرفة التربوية:

*يرجى الاحتفاظ بالشواهد في ملف خاص بالمعلمة

