

تم تحميل هذا الملف من موقع المناهج السعودية



* للحصول على أوراق عمل لجميع الصفوف وجميع المواد اضغط هنا

<https://www.almanahj.com/sa>

[1/sa/com.almanahj//:https](https://www.almanahj.com/sa/1math)

* للحصول على أوراق عمل لجميع مواد الصف الأول اضغط هنا

* للحصول على جميع أوراق الصف الأول في مادة رياضيات ولجميع الفصول, اضغط هنا

<https://www.almanahj.com/sa/1math>

* للحصول على أوراق عمل لجميع مواد الصف الأول في مادة رياضيات الخاصة بـ الفصل الأول اضغط هنا

<https://www.almanahj.com/sa/1math1>

* لتحميل كتب جميع المواد في جميع الفصول للـ الصف الأول اضغط هنا

<https://www.almanahj.com/sa/grade1>

[sacourse/me.t//:https](https://www.almanahj.com/sa/course)

للحصول على جميع روابط الصفوف على تلغرام وفيسبوك من قنوات وصفحات: اضغط هنا

المملكة العربية السعودية

وزارة التعليم

إدارة التعليم بمحافظ عسير

مدرسة الكسائي الابتدائية

الدرجة: _____

توقيع ولي الأمر:



اختبار الفترة الثانية

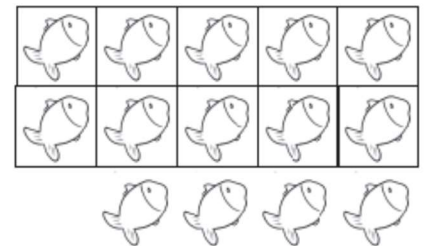
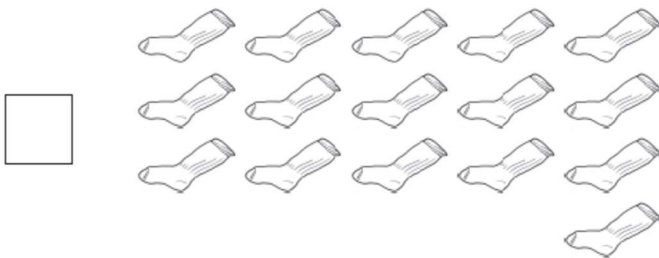


الصف : الأول الابتدائي

المادة : رياضيات

اسم الطالب:

السؤال الأول: اكتب الأعداد مرتبة من ١ إلى ٢٠ في الجدول التالي:

السؤال الثاني: عدّ الأشكال التالية ثم اكتب عددها في المربع المجاور لها.



السؤال الثالث: اوجد نواتج الجمع التالية.

$$= ٣ + ٥$$

$$= ١ + ٤$$

$$= ٣ + ٣$$

انتهت الأسئلة: وفقكم الله وجعلكم فخرا لوطنكم وأمتكم