

## شكراً لتحميلك هذا الملف من موقع المناهج السعودية



## نموذج اختبار منتصف الفصل الدراسي الثالث

[موقع المناهج](#) ← [المناهج السعودية](#) ← [الصف الأول](#) ← [علوم](#) ← [الفصل الثالث](#) ← [الملف](#)

تاريخ نشر الملف على موقع المناهج: 2024-04-21 19:27:22

## التواصل الاجتماعي بحسب الصف الأول



اضغط هنا للحصول على جميع روابط "الصف الأول"

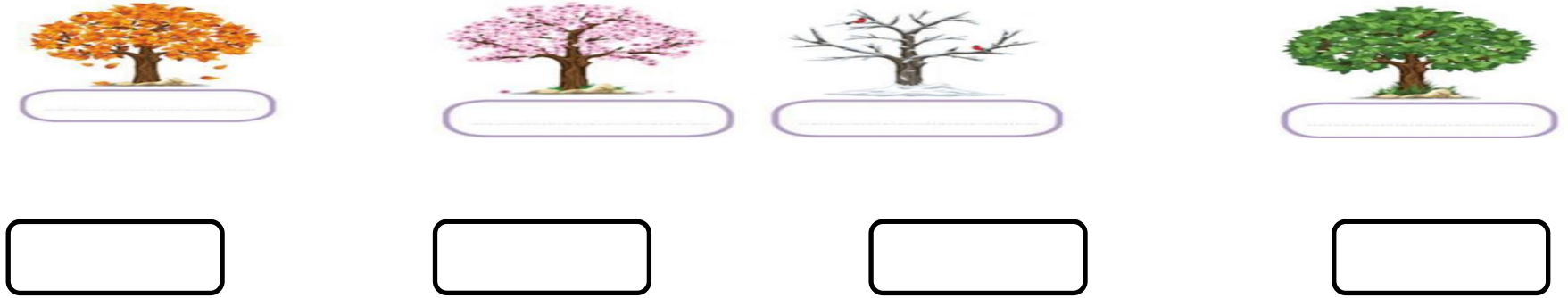
## المزيد من الملفات بحسب الصف الأول والمادة علوم في الفصل الثالث

<a href="#">اختبار تشخيصي أول سكرة الشمري</a>	1
<a href="#">ملزمة أوراق عمل لتقييم المهارات</a>	2
<a href="#">سجل متابعة يومية للدروس</a>	3
<a href="#">ملخص مهارات الفصل الثالث</a>	4
<a href="#">نموذج تقويمي للمهارات سكرة الشمري</a>	5

التاريخ:	 وزارة التعليم Ministry of Education	المملكة العربية السعودية
المادة: العلوم		وزارة التعليم
الصف: الأول الابتدائي		الإدارة العامة للتعليم بمنطقة .....
الفصل / .....		اسم الطالب/ة .....

## تقويم ختامي لمهارات علوم الصف الأول – (الفصل الدراسي الثالث) عام ١٤٤٤


السؤال الأول: نكتب (الصيف\_ الشتاء\_ الربيع\_ الخريف) تحت صورة كل فصل:



السؤال الثاني: نصل كل كلمة بالصورة المناسبة:



السؤال الثالث: نحدد موقع الأشياء ب (تحت\_ يمين - فوق \_ خلف ) تحت كل صورة :



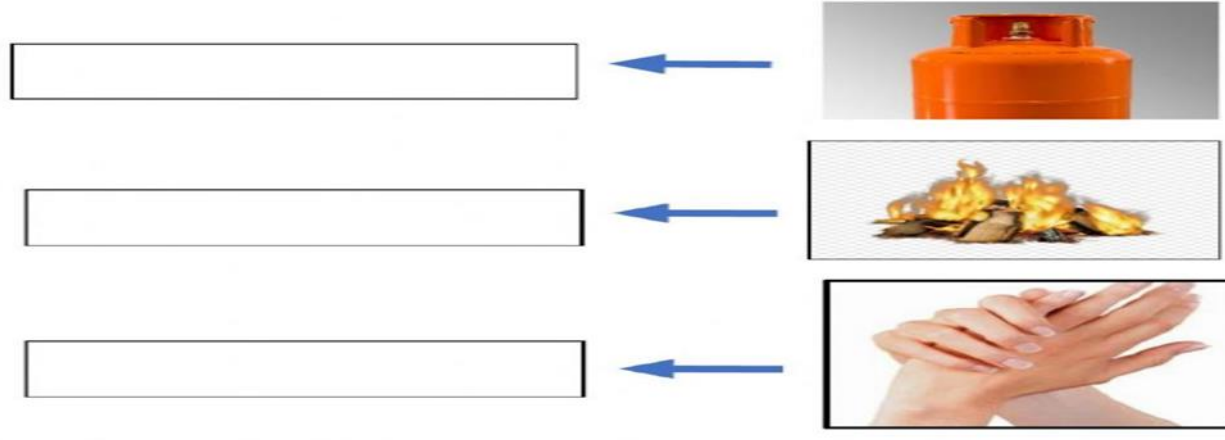
السؤال الرابع: \* نضع إشارة صح تحت الجسم الذي يسمح بمرور الضوء من خلاله :




ب/ ايهما نلبس في فصل الشتاء؟



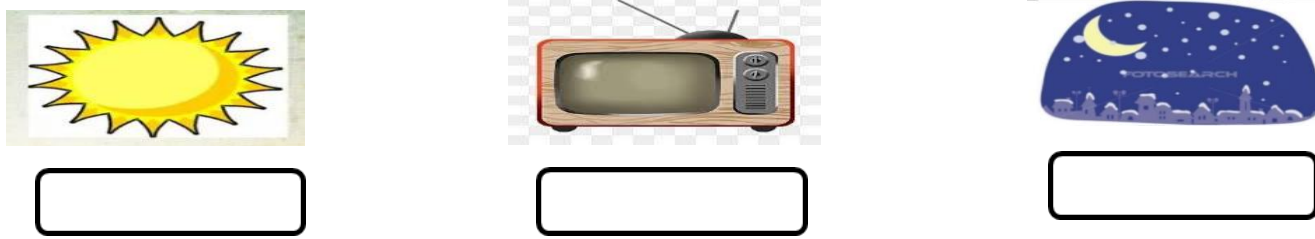
السؤال الخامس: نكتب مصادر الحرارة بجانب كل صورة ( الاحتكاك \* احتراق الخشب \* الغاز )



السؤال السادس: ١- أيهما يصدر صوت:



٢ / ما مصادر الضوء الطبيعية على الأرض:



السؤال السابع: ١- نصف نوع الحركة في الصور التالية ( دورانية \* مستقيم \* متعرج):



ب- نصل كل مفردة بمعناها

مقدار البعد بين جسمين

السرعة

وصف حركة الجسم سريعة او بطيئة

المسافة



بالتوفيق يا صغاري

سكره الشمري

التاريخ:	 وزارة التعليم Ministry of Education	المملكة العربية السعودية
المادة: العلوم		وزارة التعليم
الصف: الأول الابتدائي		الإدارة العامة للتعليم بمنطقة .....
اسم الطالب/ة.....		الفصل/.....

## تقويم ختامي لمهارات علوم الصف الأول - (الفصل الدراسي الثالث) عام ١٤٤٤

السؤال الأول: نكتب (الصيف\_ الشتاء\_ الربيع\_ الخريف) تحت صورة كل فصل:



الخريف



الربيع




الشتاء



الصيف

السؤال الثاني: نصل كل كلمة بالصورة المناسبة:



السؤال الثالث: نحدد موقع الأشياء ب (تحت - يمين - فوق - خلف) تحت كل صورة:



فوق



تحت

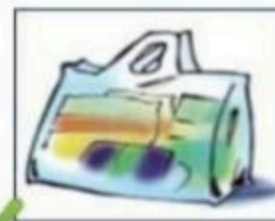


يمين



خلف

السؤال الرابع: \* نضع إشارة صح تحت الجسم الذي يسمح بمرور الضوء من خلاله:






ب/ ايهما نلبس في فصل الشتاء؟






غيب عطاء ممة ☁️ ☁️

السؤال الخامس: نكتب مصادر الحرارة بجانب كل صورة ( الاحتكاك \* احتراق الخشب \* الغاز )

<input type="text" value="الغاز"/>	←	
<input type="text" value="احتراق الخشب"/>	←	
<input type="text" value="الاحتكاك"/>	←	

السؤال السادس: ١ - أيهما يصدر صوت :

		
<input type="text"/>	<input type="text"/>	<input checked="" type="text"/>

٢ / ما مصادر الضوء الطبيعية على الأرض :

		
<input checked="" type="text"/>	<input type="text"/>	<input type="text"/>

السؤال السابع: ١ - نصف نوع الحركة في الصور التالية ( دورانية \* مستقيم \* متعرج ):

		
<input type="text" value="دورانية"/>	<input type="text" value="متعرج"/>	<input type="text" value="مستقيم"/>

ب - نصل كل مفردة بمعناها

<u>مقدار البعد بين جسمين</u>	<input type="text" value="السرعة"/>
<u>وصف حركة الجسم سريعة او بطيئة</u>	<input type="text" value="المسافة"/>



بالتوفيق يا صغاري

سكره الشمري

تم الحل بواسطة:

غي عطاء مة