


بِسْمِ اللَّهِ الرَّحْمَنِ الرَّحِيمِ

الصف : الأول
الحصة :
الاسم :

المادة / رياضيات
التاريخ / / / ١٤
الموضوع / التهينة

- لون الشاحنة بالأصفر والكرة بالأزرق والطائر بالأسود
والوردة بالأحمر



بِسْمِ اللَّهِ الرَّحْمَنِ الرَّحِيمِ

الصف : الأول

الحصة :

الاسم :

المادة / رياضيات

التاريخ / / / ١٤

الموضوع / التصنيف وفق خاصية واحدة

أضع حول الشيء داخل الإطار الذي له نفس الصفة



بِسْمِ اللّٰهِ الرَّحْمٰنِ الرَّحِیْمِ

الصف : الأول
الحصة :

المادة / رياضيات
التاريخ / / / ١٤

الاسم :

الموضوع / التصنيف وفق أكثر من خاصية

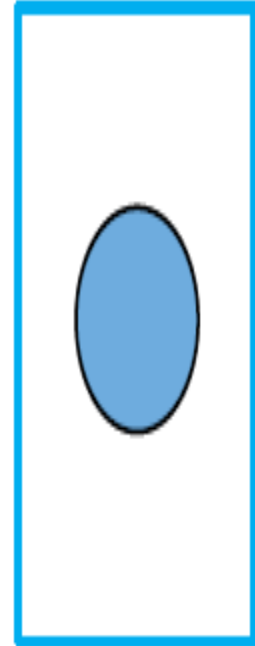
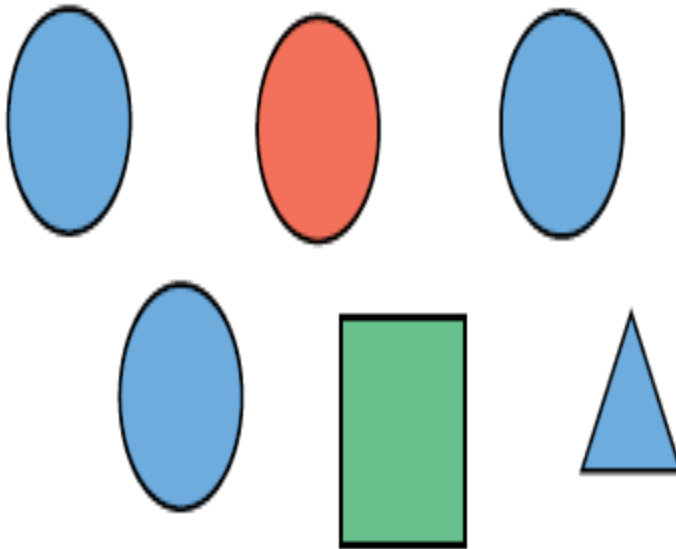

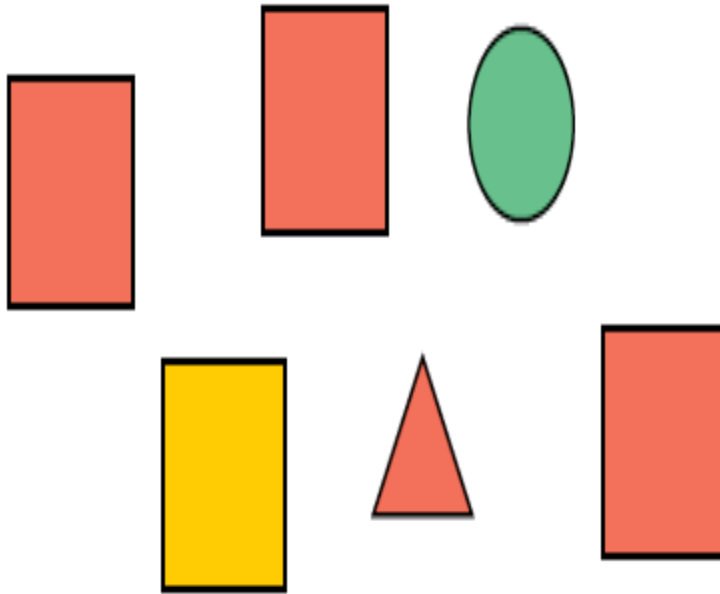
أضع ○ حول الشكل المماثل و علامة × حول الشكل المختلف

www.almanahj.com/sa موقع المناهج

بِسْمِ اللّٰهِ الرَّحْمٰنِ الرَّحِیْمِ

الصف : الأول
الحصة :

المادة / رياضيات
التاريخ / / / ١٤



الاسم :

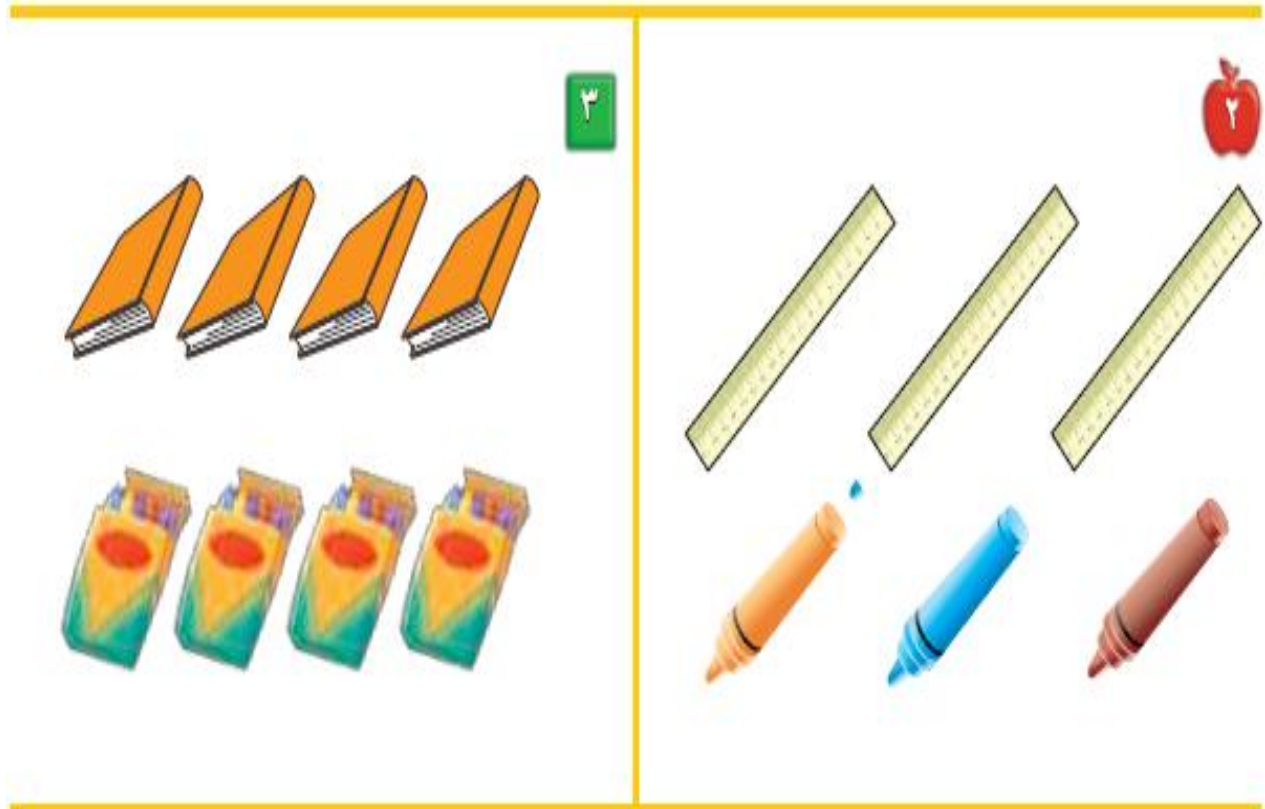
الموضوع / التصنيف وفق أكثر من خاصية

أصل بخط بين عناصر المجموعتين المتقابلتين

بِسْمِ اللَّهِ الرَّحْمَنِ الرَّحِيمِ

الصف : الأول
الحصّة :

المادة / رياضيات
التاريخ / / / ١٤



الاسم :

الموضوع / التصنيف (أكثر من وأقل من)

بِسْمِ اللّٰهِ الرَّحْمٰنِ الرَّحِیْمِ

الصف : الأول
الحصة :

المادة / رياضيات

التاريخ / / / ١٤

أصل بخط بين المجموعتين وضع حول المجموعة التي عناصرها أكثر



الاسم :

الموضوع / الأعداد ١ ، ٢ ، ٣ .










.....

بِسْمِ اللّٰهِ الرَّحْمٰنِ الرَّحِیْمِ

الصف : الأول
الحصة :

المادة / رياضيات
التاريخ / / / ١٤

أعد المربعات ثم ألونها

 ٣ 	 ١ 	
 ٥ 	 ٣ 	

الاسم :

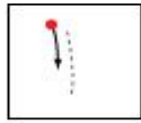
الموضوع / قراءة الأعداد (١ ، ٢ ، ٣)

بِسْمِ اللَّهِ الرَّحْمَنِ الرَّحِيمِ

الصف : الأول
الحصّة :

المادة / رياضيات
التاريخ / / / ١٤

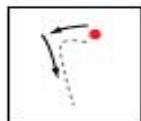
أعد الأشياء وانطق العدد ثم اكتبه ثلاث مرات



واحد



ثلاثة



اثنان



بِسْمِ اللَّهِ الرَّحْمَنِ الرَّحِيمِ

الصف : الأول

الحصّة :

الاسم :

المادة / رياضيات

التاريخ / / / ١٤

الموضوع / العدادان ، ٤ ، ٥

ارسم ٤ تفاحات على الشجرة الأولى و ٥ تفاحات على الشجرة الثانية



بِسْمِ اللّٰهِ الرَّحْمٰنِ الرَّحِیْمِ

الصف : الأول
الحصة :

المادة / رياضيات
التاريخ / / / ١٤

الاسم :

الموضوع / قراءة العددين ٤ ، ٥ وكتابتهم

أعد الأشياء وانطق العدد ثم اكتب العدد ثلاث مرات

موقع المناهج
www.almanahj.com/sa

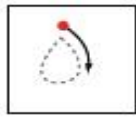
بِسْمِ اللّٰهِ الرَّحْمٰنِ الرَّحِیْمِ

الصف : الأول
الحصة :


المادة / رياضيات
التاريخ / / / ١٤



أَرْبَعَةٌ



خَمْسَةٌ



أَرْبَعَةٌ



الاسم :







الموضوع / قراءة العدد صفر, وكتابتة

أعد الكرات في كل رسمة وعاء ثم قل العدد واكتبه

بِسْمِ اللَّهِ الرَّحْمَنِ الرَّحِيمِ

الصف : الأول
الحصه :

المادة / رياضيات
التاريخ / / / ١٤

الاسم :

الموضوع / الأعداد ٦ ، ٧ ، ٨

.....

بِسْمِ اللَّهِ الرَّحْمَنِ الرَّحِيمِ

الصف : الأول

الحصّة :

المادة / رياضيات

التاريخ / / / ١٤

أعد الأشياء وقل العدد واستعمل قطع العد الملونة لتمثيل العدد



الاسم :

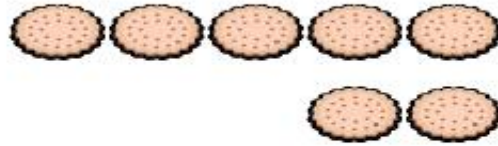
الموضوع/ قراءة الأعداد ٦ ، ٧ ، ٨ وكتابتها

أعد الأشياء وقل العدد ووضح عددها

بِسْمِ اللّٰهِ الرَّحْمٰنِ الرَّحِیْمِ

الصف : الأول
الحنة :

المادة / رياضيات
التاريخ / / / ١٤



الاسم :

الموضوع / أَعْدَادِ ٩ ، ١٠

.....

بِسْمِ اللَّهِ الرَّحْمَنِ الرَّحِيمِ

الصف : الأول
الحصّة :

المادة / رياضيات

التاريخ / / / ١٤

أعد المجموعات ثم قل عددها ثم حوّل المجموعة التي عدد عناصرها ٩ باللون الأحمر
والمجموعة التي عدد عناصرها ١٠ باللون الأزرق



الاسم :

الموضوع / قراءة العددين ٩ - ١٠

بِسْمِ اللّٰهِ الرَّحْمٰنِ الرَّحِیْمِ


الصف : الأول
الحصّة :

المادة / رياضيات
التاريخ / / / ١٤

أعد الحيوانات وقل العدد ثم اكتب العدد في المكان المخصص



٣



بِسْمِ اللَّهِ الرَّحْمَنِ الرَّحِيمِ

الصف : الأول
الحصة :
الاسم :

المادة / رياضيات
التاريخ / / / ١٤
الموضوع / مقارنة الأعداد حتى ١٠

أعد الأشياء في كل مجموعة ثم اكتب عددها وضع × على المجموعة الأقل





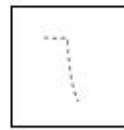
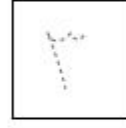



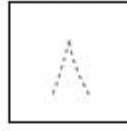
www.almanahj.com

بِسْمِ اللّٰهِ الرَّحْمٰنِ الرَّحِیْمِ

الصف : الأول
الحصة :
الاسم :

المادة / رياضيات
التاريخ / / / ١٤
الموضوع / ترتيب الأعداد حتى ١٠

أعد الأشياء ثم مرر قلمك على الأعداد المنقطة واكتب الأعداد المفقودة



بِسْمِ اللّٰهِ الرَّحْمٰنِ الرَّحِیْمِ

الصف : الأول
الحصة :
الاسم :

المادة / رياضيات
التاريخ / / / ١٤
الموضوع / العدد الترتيبي

اذكر ترتيب كل نسر وضع على النسر السادس و على النسر الثالث



www.almanahj.com

بِسْمِ اللَّهِ الرَّحْمَنِ الرَّحِيمِ


الصف : الأول
الوحدة :

المادة / رياضيات
التاريخ / / / ١٤

الاسم :

الموضوع / الفصل الثالث (الأعداد حتى ٢٠)

أعد الجزرات وحببات الفلفل عددها



www.almanahj.com

بِسْمِ اللّٰهِ الرَّحْمٰنِ الرَّحِیْمِ

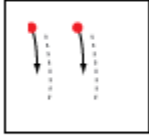
الصف : الأول
الحصّة :


المادة / رياضيات
التاريخ / / / ١٤

الاسم :

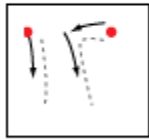
الموضوع / العدان ١١ ، ١٢


أعد الأشياء وانطق العدد ومرر قلمك على العدد المنقط واكتبه










www.almanahj.com

بِسْمِ اللَّهِ الرَّحْمَنِ الرَّحِيمِ


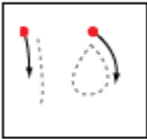

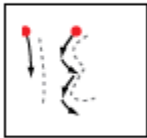
الصف : الأول
الحصة :

المادة / رياضيات
التاريخ / / / ١٤

الاسم :

الموضوع / الأعداد ١٣ ، ١٤ ، ١٥

أعد الأشياء وانطق العدد ومرر قلمك على العدد المنقط واكتبيه



بِسْمِ اللَّهِ الرَّحْمَنِ الرَّحِيمِ


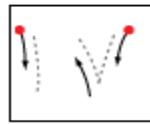
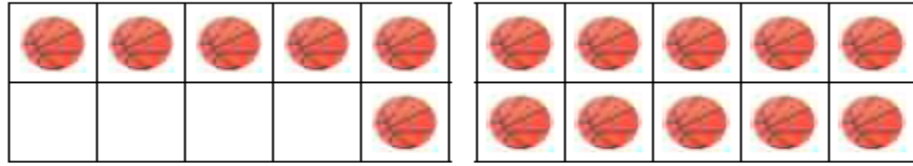
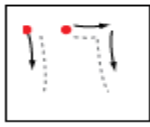
الصف : الأول
الحصّة :

المادة / رياضيات
التاريخ / / / ١٤

الاسم :

الموضوع / العدان ١٦ - ١٧

أعد الكرات وانطق العدد ثم مرر قلمك على العدد المنقط واكتب العدد



www.almanahj.com

بِسْمِ اللَّهِ الرَّحْمَنِ الرَّحِيمِ

الصف : الأول
الحصّة :

المادة / رياضيات
التاريخ / / / ١٤

الاسم :

الموضوع / أبحث عن نمط

أعد الريش ثم اكتب العدد وحدد النمط



م.

بِسْمِ اللَّهِ الرَّحْمَنِ الرَّحِيمِ

الصف : الأول
الحصة :

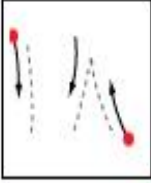
المادة / رياضيات
التاريخ / / / ١٤



















الاسم :

الموضوع / الأعداد ١٨ ، ١٩ ، ٢٠


أعد الأشياء واكتب العدد وكرر قلمك على العدد المنقط واكتبه




















1




									
									





















2



3



بِسْمِ اللَّهِ الرَّحْمَنِ الرَّحِيمِ




الصف : الأول
الحصة :


المادة / رياضيات
التاريخ / / / ١٤

الاسم :

الموضوع / مقارنة الأعداد حتى ٢٠

أعد الأشياء في كل طبق واكتب عددها وضعي \times على العدد الذي يمثل المجموعة الأكبر

			
<input type="text"/>	<input type="text"/>	<input type="text"/>	<input type="text"/>



بِسْمِ اللَّهِ الرَّحْمَنِ الرَّحِيمِ

الصف : الأول
الحصّة :

المادة / رياضيات
التاريخ / / / ١٤

الاسم :

الموضوع / ترتيب العدد حتى ٢٠ .

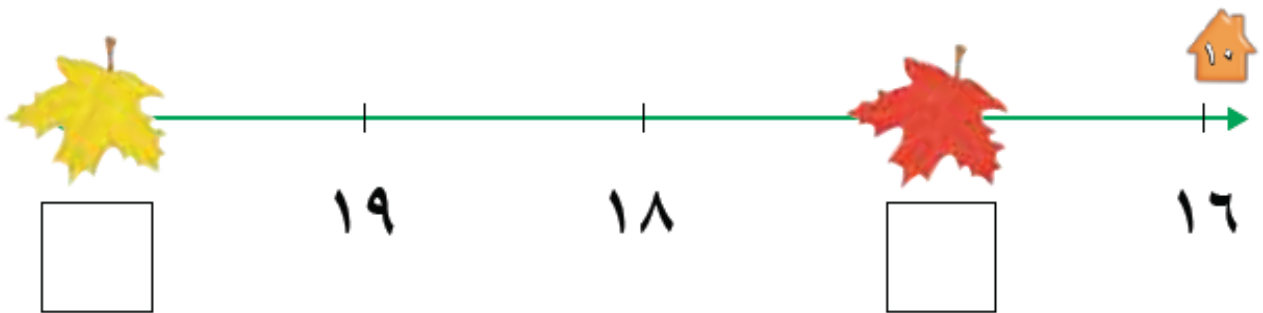
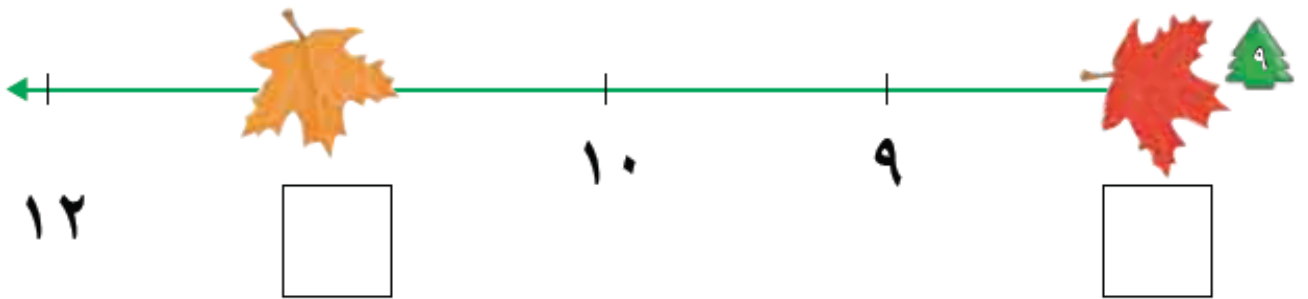
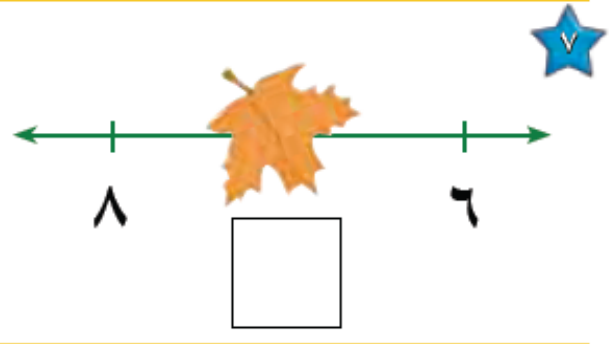
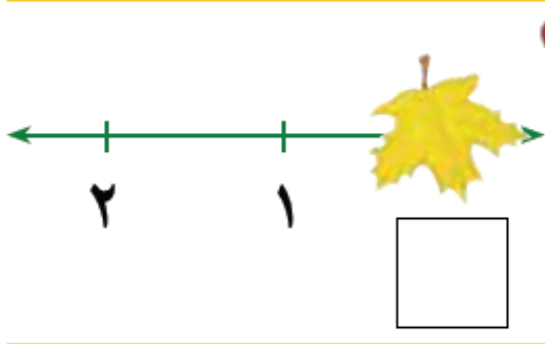
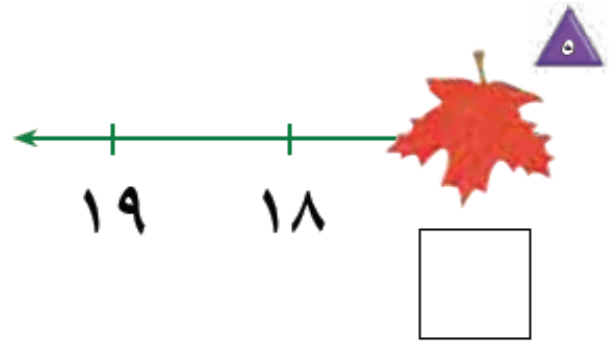
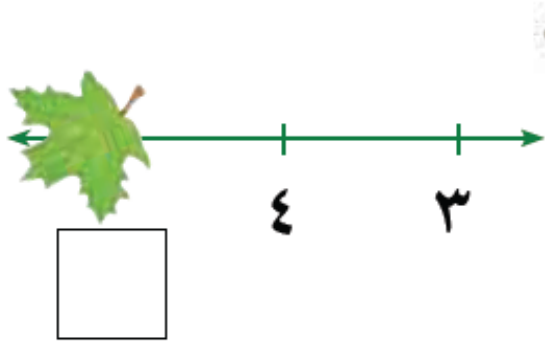
أكتب العدد المفقود في الفراغ

موقع المناهج
www.almanahj.com/sa

بِسْمِ اللّٰهِ الرَّحْمٰنِ الرَّحِیْمِ

الصف : الأول
الحصّة :

المادة / رياضيات
التاريخ / / / ١٤



الاسم :


الموضوع / الفصل الرابع (الجمع)

بِسْمِ اللَّهِ الرَّحْمَنِ الرَّحِيمِ

الصف : الأول
الحصة :

المادة / رياضيات
التاريخ / / / ١٤

ألاحظ الصورة واكتب عدد التفاحات



الاسم :

الموضوع / قصص الجمع

بِسْمِ اللّٰهِ الرَّحْمٰنِ الرَّحِیْمِ

الصف : الأول
الحصّة :

المادة / رياضيات
التاريخ / / / ١٤

احكي قصة عددية مستعملاً قطع العدد واكتب عدد الحيوانات



ثُعَالِبَ _____



غَزَالًا _____



فَرَّاشَةً _____

بِسْمِ اللَّهِ الرَّحْمَنِ الرَّحِيمِ

الصف : الأول
الحصة :
الاسم :

المادة / رياضيات
التاريخ / / / ١٤
الموضوع / تمثيل الجمع

استعمل ورقة العمل ٣ وقطع العد لإيجاد (الكل) المجموع

جزء	جزء
٥	٤
الكل	



جزء	جزء
٢	٣
الكل	



جزء	جزء
٥	٥
الكل	



جزء	جزء
٢	٥
الكل	



جزء	جزء
٢	٤
الكل	



جزء	جزء
٣	١
الكل	



جزء	جزء
٣	٣
الكل	



جزء	جزء
٢	١
الكل	



بِسْمِ اللّٰهِ الرَّحْمٰنِ الرَّحِیْمِ

الصف : الأول
الحصة :
الاسم :

المادة / رياضيات
التاريخ / / / ١٤
الموضوع / جمل الجمع

استعمل المكعبات لتمثيل جملة الجمع واكتبها



— () — () —



— () — () —



— () — () —



— () — () —



— () — () —



— () — () —

بِسْمِ اللّٰهِ الرَّحْمٰنِ الرَّحِیْمِ

الصف : الأول
الحصة :

المادة / رياضيات
التاريخ / / / ١٤

الاسم :

الموضوع / جمع الصفر

اكتب ناتج الجمع



$$\underline{\quad} = 0 + 3$$



$$\underline{\quad} = 0 + 5$$



$$\underline{\quad} = 1 + 0$$



$$\underline{\quad} = 0 + 6$$

$$\underline{\quad} = 8 + 0$$



$$\underline{\quad} = 0 + 7$$



$$\underline{\quad} = 1 + 2$$



$$\underline{\quad} = 3 + 3$$



بِسْمِ اللّٰهِ الرَّحْمٰنِ الرَّحِیْمِ

الصف : الأول
الحصّة :

المادة / رياضيات
التاريخ / / / ١٤

الاسم :

الموضوع / أحل المسألة

مثل قصص الجمع لإيجاد الناتج



$$\underline{\hspace{2cm}} = \underline{\hspace{2cm}} + \underline{\hspace{2cm}}$$



$$\underline{\hspace{2cm}} = \underline{\hspace{2cm}} + \underline{\hspace{2cm}}$$



$$\underline{\hspace{2cm}} = \underline{\hspace{2cm}} + \underline{\hspace{2cm}}$$

بِسْمِ اللَّهِ الرَّحْمَنِ الرَّحِيمِ





الصف : الأول
الحصّة :

المادة / رياضيات
التاريخ / / / ١٤

الاسم :

الموضوع / تكوين الأعداد ٤ ، ٥ ، ٦

استعمل قطع العد الكرة الحمراء والصفراء وضعهما في مجموعتين لتكوين العدد ٤ ثم لون واكتب الأعداد

تكوين العدد ٤					
التّاج	ميساوي		زائد		
٤	=	٣	+	١	
٤	=	—	+	—	
٤	=	—	+	—	



بِسْمِ اللَّهِ الرَّحْمَنِ الرَّحِيمِ

الصف : الأول
الحصّة :

المادة / رياضيات
التاريخ / / / ١٤

الاسم :

الموضوع / تكوين الأعداد ٧ ، ٨ ، ٩

استعمل قطع العد الكرة الحمراء والصفراء وضعهما في مجموعتين لتكوين العدان ٨ ، ٩ ثم
لون واكتب الأعداد

www.almanahj.com/sa

بِسْمِ اللَّهِ الرَّحْمَنِ الرَّحِيمِ

الصف : الأول
الحصّة :

المادة / رياضيات
التاريخ / / / ١٤

تكوّن العدد ٩				
الناتج	يُسَاوِي	زائد	+	الناتج
٩	=	_____	+	_____
٩	=	_____	+	_____
٩	=	_____	+	_____
٩	=	_____	+	_____
٩	=	_____	+	_____
٩	=	_____	+	_____
٩	=	_____	+	_____



تكوّن العدد ٨				
الناتج	يُسَاوِي	زائد	+	الناتج
٨	=	_____	+	_____
٨	=	_____	+	_____
٨	=	_____	+	_____
٨	=	_____	+	_____
٨	=	_____	+	_____
٨	=	_____	+	_____
٨	=	_____	+	_____



الاسم :

الموضوع / تكوين الأعداد ١٠ ، ١١ ، ١٢

استعمل قطع العد الكرة الحمراء والصفراء ثم ارسم دوائر واكتب العدد

بِسْمِ اللَّهِ الرَّحْمَنِ الرَّحِيمِ

الصف : الأول
الحصّة :

المادة / رياضيات
التاريخ / / / ١٤



$$10 = \text{---} + \text{---}$$



$$10 = \text{---} + \text{---}$$



$$11 = \text{---} + \text{---}$$



$$11 = \text{---} + \text{---}$$



$$12 = \text{---} + \text{---}$$



$$12 = \text{---} + \text{---}$$



$$12 = \text{---} + \text{---}$$



$$11 = \text{---} + \text{---}$$

الاسم :

الموضوع / الجمع الرأسي

اكتب الأعداد ثم أوجد الناتج

بِسْمِ اللَّهِ الرَّحْمَنِ الرَّحِيمِ

الصف : الأول
الحصّة :

المادة / رياضيات
التاريخ / / / ١٤




$$\begin{array}{r} \square \\ \square + \\ \hline \square \end{array}$$



$$\text{---} = \text{---} + \text{---}$$



$$\begin{array}{r} \square \\ \square + \\ \hline \square \end{array}$$



$$\text{---} = \text{---} + \text{---}$$

www.almanahj.com