

تم تحميل هذا الملف من موقع المناهج السعودية



الملف عرض درس الرابع الأشكال المستوية والمجسمات

[موقع المناهج](#) ⇨ [المناهج السعودية](#) ⇨ [الصف الأول](#) ⇨ [رياضيات](#) ⇨ [الفصل الثالث](#)

الملف عرض درس الرابع الأشكال المستوية والمجسمات

[موقع المناهج](#) ⇨ [المناهج السعودية](#) ⇨ [الصف الأول](#) ⇨ [رياضيات](#) ⇨ [الفصل الثالث](#)

المزيد من الملفات بحسب الصف الأول والمادة رياضيات في الفصل الثالث

تحضير عين لدروس الفصل الثالث	1
تحضير المنهج للفصل الثالث بطريقة الخطوات الأربعة	2
المهام الأدائية للفصل العاشر القياس	3
اختبار الفصل	4
أوراق عمل درس مقارنة السعات وترتيبها	5



تطوير - إنتاج - توثيق

almanahj.com/sa

المنهج السمويّة

٤ - ١٢

الأشكال المستوية والمجسمات



أ. أحمد الأحمدى

@ahmad9963



أميز الشكل
المستوي على
الجسم .

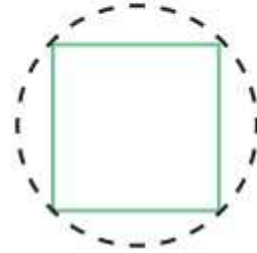
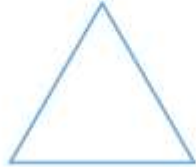
المفردات
شكل مستوي

تَظْهَرُ الدَّائِرَةُ
عَلَى المَخْرُوطِ .

تَظْهَرُ أَشْكَالٌ مُسْتَوِيَةٌ عَلَى
المُجَسَّمَاتِ .


أُمِّرُ قَلَمِي حَوْلَ الْمُجَسِّمِ، ثُمَّ أَحِوِّطُ الشَّكْلَ الَّذِي يَظْهَرُ عَلَيْهِ:

almanahj.com/sa
المنهج السموية

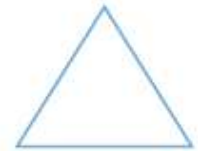


أحوطُ المُجَسَّم الَّذِي يَظْهَرُ عَلَيْهِ الشَّكْلُ المُسْتَوِي المُجَاوِرُ:

٣



٤

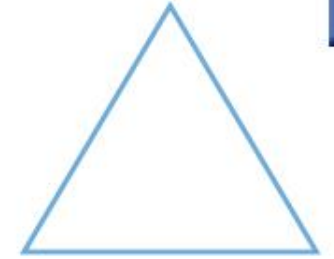


almanahj.com/sa
المنهج السعودية



أحوطُ المُجَسَّم الَّذِي يَظْهَرُ عَلَيْهِ الشَّكْلُ المُسْتَوِي المُجَاوِرُ:

أَتَدْرِبُ



٦



٧







أخِلُّ الْمَسْأَلَةِ

١٠ التَّفْكِيرُ النَّاقِدُ: مَا اسْمُ الْمُجَسَّمِ الَّذِي لَا يَظْهَرُ عَلَيْهِ أَيُّ شَكْلِ مُسْتَوٍ؟

almanahj.com/sa

المناهج السموية



أ.أحمد الأحمدى

@ahmad9963