

تم تحميل هذا الملف من موقع المناهج السعودية



موقع المناهج السعودي

*للحصول على أوراق عمل لجميع الصفوف وجميع المواد اضغط هنا

<https://www.almanahj.com/sa>

* للحصول على أوراق عمل لجميع مواد الصف الأول اضغط هنا

<https://almanahj.com/sa/1>

* للحصول على جميع أوراق الصف الأول في مادة علوم ولجميع الفصول, اضغط هنا

<https://almanahj.com/sa/1science>

* للحصول على أوراق عمل لجميع مواد الصف الأول في مادة علوم الخاصة بـ الفصل الثاني اضغط هنا

<https://www.almanahj.com/sa/1science2>

* لتحميل كتب جميع المواد في جميع الفصول للـ الصف الأول اضغط هنا

<https://www.almanahj.com/sa/grade1>

للحصول على جميع روابط الصفوف على تلغرام وفيسبوك من قنوات وصفحات: اضغط هنا

<https://t.me/sacourse>



الدرس: الضوء والصوت

المجموعة:

الصف: 1/

بالتعاون مع أفراد مجموعتي أتعرف على أشكال الطاقة
التالية:



الصف : الأول

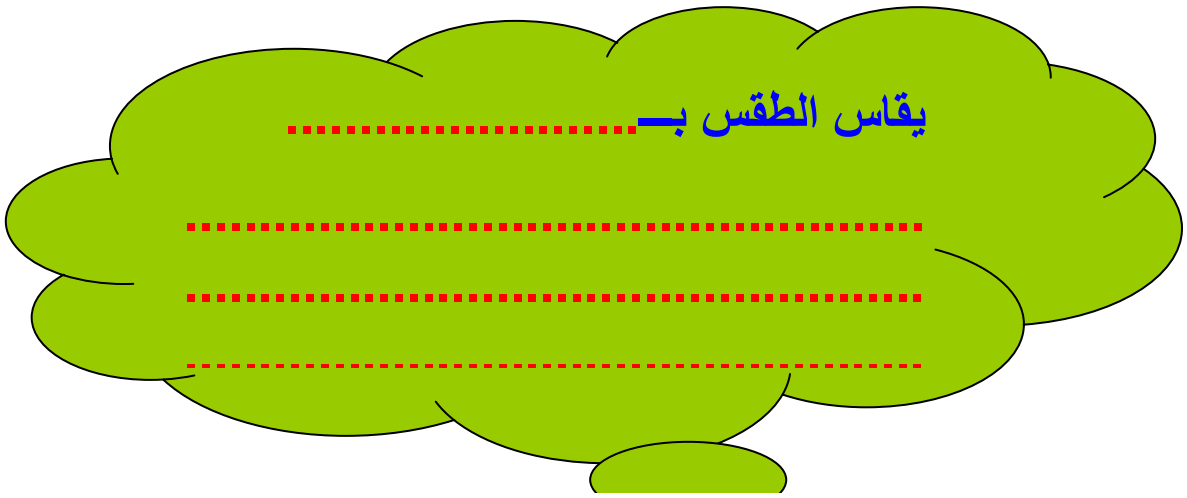
المادة / علوم

الاسم :

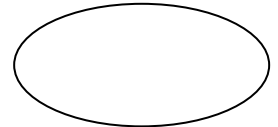
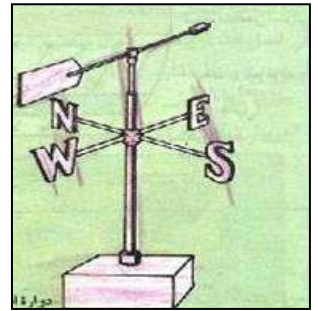
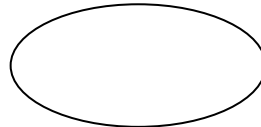
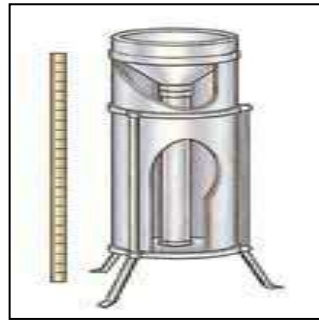
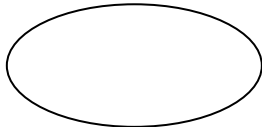

الموضوع: الطقس من حولنا

الحصه :

التاريخ :



ضعي الكلمة المناسبة في المكان المناسب (مقياس الحرارة- مقياس
المطر- السهم الدوار)



الواجب المنزلي

اسمي :

صفي : 1/


الرقم	المهارة	أنت قن	لم يتقن	توقيع ولي الأمر
24	معرفة مفهوم (الطقس).			

(1) أصل كل عبارة بالمصطلح المناسب:

يحدد اتجاه حركة الرياح



يقيس كمية المطر



حالة السماء والهواء خلال اليوم




الدرس: الفصول الأربعة

المجموعة:

الصف: 1/



بالتعاون مع أفراد مجموعتي أكتب كلا من (الربيع , الخريف ,
الشتاء , الصيف)



المادة / علوم

الصف : الأول

الموضوع : الفصول الأربعة

الاسم :

التاريخ :

الحصّة :

أكملي العبارة


يا جميلة



تنمو النباتات في فصل

- أكثر الفصول حرارة هو فصل

• أكتبي اسم الفصل تحت الصورة



.....



.....

أكملي العبارة

يا جميلة

تتساقط أوراق النبات في فصل

تتساقط الأمطار في فصل

• أكتبي اسم الفصل تحت الصورة



.....

.....

الواجب المنزلي


اسمي :

صفي : 1 /

الرفق	المهارة	أن قن	لم يتقن	توقيع ولي الأمر
26	تعداد الفصول الأربعة مع ذكر مظهر واحد من مظاهرها.			

(2) أعد الفصول الأربعة للسنة:

- 1-
- 2-
- 3-
- 4-



(3) يمتاز فصل الصيف بـ :





المجموعة :

الدرس : صفات المادة

الصف : 1/

بالتعاون مع أفراد مجموعتي احدد حالة المواد التالية :



لنستنتج حالات المادة






تكون المادة في حالات ثلاث إما :

.....-1

.....2

.....3





ورقة عمل فردي

التاريخ :

هي التي تتكون
منها جميع الأشياء
وتشغل حيز تری
من تكون ياذكية؟

إنها

.....



المجموعة :

الدرس :المواد الصلبة والسوائل والغازات

الصف :1/




بالتعاون مع أفراد مجموعتي أصل العبارة بالصورة المناسبة:



لها شكل محدد



ليس لها شكل محدد
وتنتشر في كل مكان



ليس لها شكل محدد
وتأخذ بشكل الوعاء
الذي توضع فيه

الواجب

اسمي :
.....

الرقم	المهارة	أتقن	لم يتقن	توقع ولي الأمر
30	معرفة مفهوم المادة مع تعداد حالاتها			

(1) ما المادة؟

..... المادة

(2) من حالات المادة :



الواجب

اسمي :

الرقم	المهارة	أتقن	لم يتقن	توقع ولي الأمر
31	المقارنة بين حالات المادة من خلال معرفة صفاتها.			

(1) أصل العبارة بالصورة المناسبة:



تستخدم المسطرة لقياسها



تنساب ببطء



ينتشر بسهولة




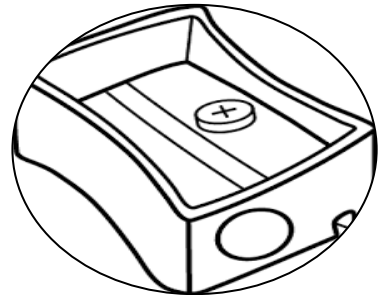
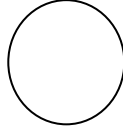
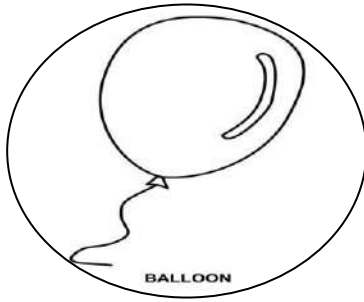


ينساب بسرعة

ورقة
عمل
مادة

الكتلة من خصائص المادة وكتلة
المواد تختلف من مادة لأخرى ترى
كيف يمكنك قياس
كتلة المواد



رقمي الصور من (1 إلى 3) حسب الكتلة
من الأكبر إلى الأصغر ؟





المجموعة :

الدرس : المادة تتغير

الصف : 1/

بالتعاون مع أفراد مجموعتي أضع إشارة ✓ تحت المادة التي تحولت إلى مادة أخرى:



الواجب

اسمي :

صفي : 1/

الرقم	المهارة	أتقن	لم يتقن	توقيع ولي الأمر
32	نشاط عملي			
33	استنتاج أن المادة تتغير			

2) أصل العبارة بالصور المناسبة:

المادة لا تتغير

المادة تتغير





المخلوط هو

.....
.....

ويمكن فصل المخاليط إما :

1_ اليد

2_ المصفاة

3_ الطفو



الدرس: المخالط

المجموعة :

الصف: 1/

بالتعاون مع أفراد مجموعتي أعدد المخلوط الذي يمكن فصله باليد من خلال الصور التالية بوضع إشارة تحته:



الواجب

اسمي :


صفي : 1/

الرقم	المهارة	أتقن	لم يتقن	توزيع ولي الأم
	فصل مكونات مخلوط ما توضيح مفهوم المخلوط			

• عرفي المخلوط ؟

.....

. ضعي الكلمة المناسبة في الفراغ المناسب
(لا يمكن فصله _ يمكن فصله بالطفو _ يمكن فصله باليد .)



.....

.....

.....



الدرس: الموقع والحركة

المجموعة :

الصف :1/

بالتعاون مع أفراد مجموعتي أحدد موقع لعبتي بوصفها
(فوق-تحت-يمين-يسار):



الواجب

اسمي :



صفي : 1/

الرقم	المهارة	أتقن	لم يتقن	توقيع ولي الأم
	معرفة مفهوم الحركة وتعداد بعض أنواع القوى (السحب. الدفع. الجاذبية. الاحتكاك)			

1) ما الحركة؟

الحركة :

2) أصور نوع القوة من خلال الصور التالية:



الدرس: الطاقة والحرارة

المجموعة:

الصف: 1/

بالتعاون مع أفراد مجموعتي أكتب الأشياء التي تولد الطاقة
أمام الصور المناسبة (الحرارة _ الضوء _ الكهرباء):



الواجب

اسمي :

صفي : 1/

الرقم	المهارة	أتقن	لم يتقن	توقع ولي الأمر
	توضيح مفهوم الطاقة ذكر بعض أشكال الطاقة تعداد بعض مصادر الحرارة			

اختاري الإجابة الصحيحة :

- تجعل الأشياء تعمل وتتغير (المولدات , المادة , الطاقة)
- من أشكال الطاقة (الصوت والضوء , الهواء , المادة)



عددي مصادر الحرارة ؟

- _1
- _2
- _3



الدرس: الطاقة والحرارة

المجموعة:

الصف: 1/

بالتعاون مع أفراد مجموعتي أكتب مصادر الحرارة من خلال
 الصور:



الواجب


اسمي :

صفي : 1/

الرقم	المهارة	أتقن	لم يتقن	توقيع ولي الأمر
	إستنتاج مفهوم الضوء من خلال قراءة الصور. التمثيل لبعض مصادر الضوء إستنتاج سبب حدوث الصوت.			

(3) أتأمل الصور التالية وأستنتج مفهوم الضوء ثم مثلي لبعض مصادر

الضوء :



الضوء هو :

مثل : و و









متى تصدر الشوكة الرنانة صوتاً؟
ما سبب حدوث الصوت؟





أميرة

٤٠٠

توقيع المعلمة	الأسبوع
	الثالث
	الرابع الخامس
	السادس السابع
	الثامن التاسع
	العاشر الحادي عشر
	الثاني عشر الثالث عشر
	الرابع عشر الخامس عشر
	السادس عشر

طالبتى العزيزة :

الطالبة المثالية هي المتفوقة في دراستها
الحسنة في أخلاقها والقدوة في تعاملها.

