

## شكراً لتحميلك هذا الملف من موقع المناهج السعودية



## تقويم اختبار الفترة الرابعة

[موقع المناهج](#) ← [المناهج السعودية](#) ← [الصف الأول](#) ← [علوم](#) ← [الفصل الأول](#) ← [الملف](#)

تاريخ نشر الملف على موقع المناهج: 21:28:31 2019-11-10

## التواصل الاجتماعي بحسب الصف الأول



## المزيد من الملفات بحسب الصف الأول والمادة علوم في الفصل الأول

<a href="#">ملخص مهارات علوم بصيغة الورد قابل للتعديل</a>	1
<a href="#">برزنتيشن شرح وتفسير درس النباتات واجزائها وورقة عمل للدرسين الأول والثاني</a>	2
<a href="#">شرح الدرس الأول المخلوقات الحية والأشياء الغريبة</a>	3
<a href="#">سحل متابعة يومي بصيغة الورد</a>	4
<a href="#">مهارات العلوم للفترتين الأولى والثانية</a>	5



التاريخ:	 وزارة التعليم Ministry of Education	المملكة العربية السعودية
المادة: العلوم		وزارة التعليم
الصف: الأول الابتدائي		الإدارة العامة للتعليم بمنطقة .....
اسم الطالب/ة.....		الفصل/.....

## تقويم ختامي لمهارات علوم الصف الأول - (الفصل الدراسي الثالث) عام ١٤٤٤

السؤال الأول: نكتب (الصيف - الشتاء - الربيع - الخريف) تحت صورة كل فصل:



الخريف



الربيع



الشتاء



الصيف

السؤال الثاني: نصل كل كلمة بالصورة المناسبة:



غانم

ضوء

حراره

صوت

دفع

السؤال الثالث: نحدد موقع الأشياء ب (تحت - يمين - فوق - خلف) تحت كل صورة:



فوق



تحت




يمين



خلف

السؤال الرابع: \* نضع إشارة صح تحت الجسم الذي يسمح بمرور الضوء من خلاله:



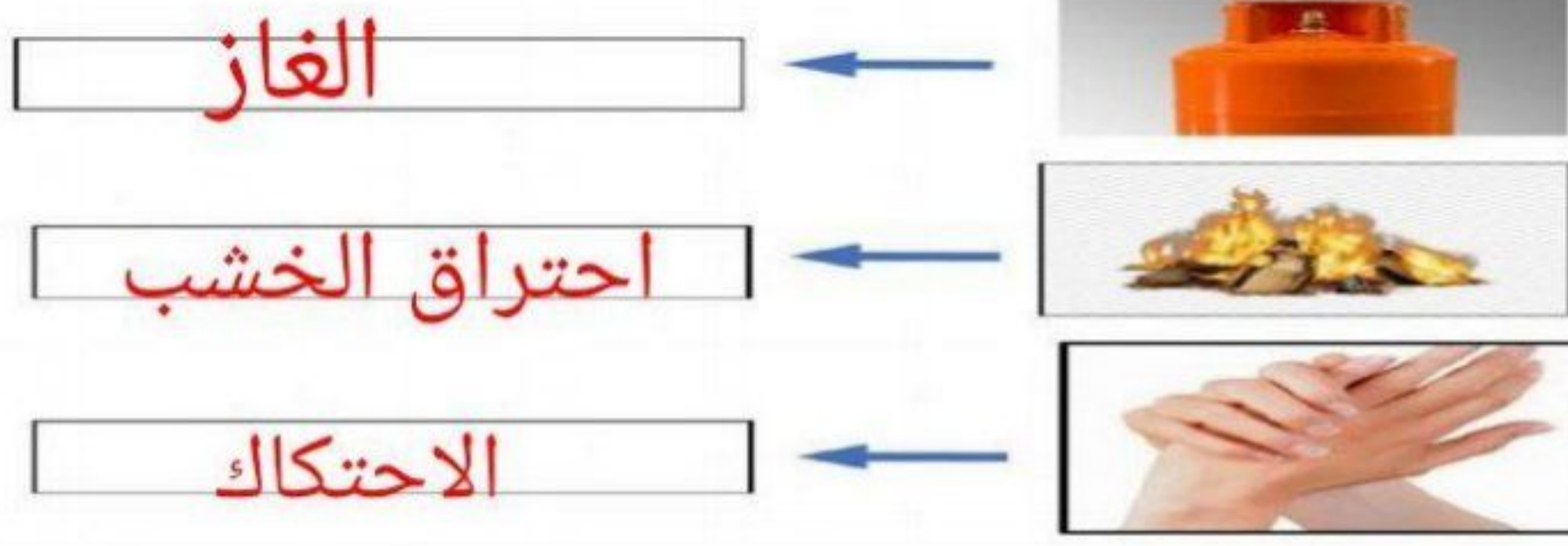
ب/ ايهما نلبس في فصل الشتاء؟




غيب عطاء ممة



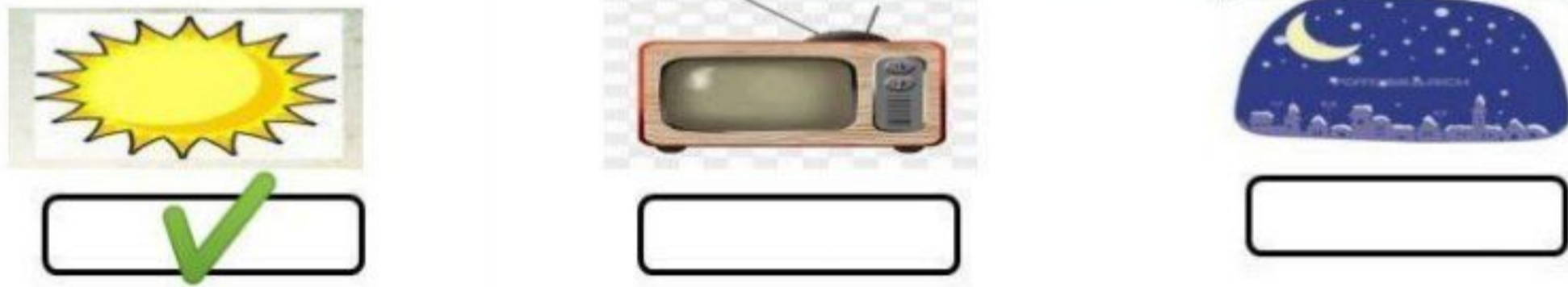
السؤال الخامس: نكتب مصادر الحرارة بجانب كل صورة ( الاحتكاك \* احتراق الخشب \* الغاز )



السؤال السادس: ١\_ أيهما يصدر صوت :



٢ / ما مصادر الضوء الطبيعية على الأرض :



السؤال السابع: ١\_ نصف نوع الحركة في الصور التالية ( دورانية \* مستقيم \* متعرج ):



دورانية ..... متعرج ..... مستقيم .....

ب\_ نصل كل مفردة بمعناها

مقدار البعد بين جسمين

وصف حركة الجسم سريعة او بطيئة

السرعة

المسافة



بالتوفيق يا صغاري

سكره الشمري

تم الحل بواسطة:

غيب عطاء ممة