


تم تحميل هذا الملف من موقع المناهج السعودية



الملف نموذج إجابة اختبار بعدي لتعزيز المهارات

موقع المناهج ⇨ المناهج السعودية ⇨ الصف الأول ⇨ رياضيات ⇨ الفصل الثالث

الملف نموذج إجابة اختبار بعدي لتعزيز المهارات

موقع المناهج ⇨ المناهج السعودية ⇨ الصف الأول ⇨ رياضيات ⇨ الفصل الثالث

المزيد من الملفات بحسب الصف الأول والمادة رياضيات في الفصل الثالث

| | |
|--|---|
| تحضير عين لدروس الفصل الثالث | 1 |
| تحضير المنهج للفصل الثالث بطريقة الخطوات الأربعة | 2 |
| المهام الأدائية للفصل العاشر القياس | 3 |
| اختبار الفصل | 4 |
| أوراق عمل درس مقارنة السعات وترتيبها | 5 |

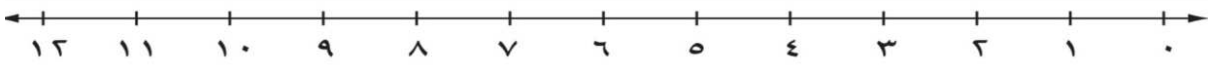
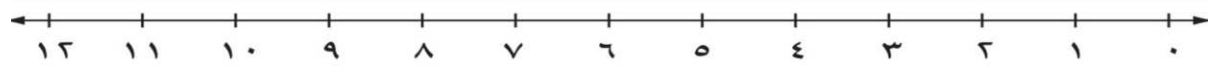
برنامج تعزيز المهارات الأساسية بالمرحلة الابتدائية في مواد (اللغة العربية، الرياضيات، العلوم)

الاختبار البعدي لمادة (الرياضيات) للصف (الأول) الفصل الدراسي (الثالث) للعام ١٤٤٣ هـ

| | |
|-------------|-------------|
| اسم المدرسة | اسم المعلمة |
| اسم الطالبة | الفصل |
| التاريخ | الدرجة |

almanahj.com/sa

أجيب على جميع الأسئلة الآتية:

| | |
|---------|--|
| المهارة | إيجاد ناتج الطرح من الأعداد (٤ ، ٥ ، ٦ ، ٧ ، ٨ ، ٩ ، ١٠ ، ١١ ، ١٢) |
| | ناتج طرح $6 - 9 = 3$ |
| المهارة | إيجاد ناتج الجمع بـ (العد التصاعدي ، استعمال خط الأعداد) |
| |  <p>في الحديقة ٧ أرانب ، ثم جاء أرنبان آخران إليهم ، فكم أرنباً أصبح في الحديقة؟</p> $7 + 2 = 9$ |
| المهارة | إيجاد ناتج الطرح بـ (العد التنازلي ، استعمال خط الأعداد) |
| |  <p>مع سعود ١٢ بطاقة ، فقد ٣ منها . فكم بطاقة بقيت معه ؟</p> $12 - 3 = 9$ |

انتهت الأسئلة.. نتمنى لك النجاح الدائم.