

تم تحميل هذا الملف من موقع المناهج السعودية



الملف اختبار الفترة الثانية للباب العاشر والحادي عشر

[موقع المناهج](#) ⇨ [المناهج السعودية](#) ⇨ [الصف الأول](#) ⇨ [رياضيات](#) ⇨ [الفصل الثالث](#)

الملف اختبار الفترة الثانية للباب العاشر والحادي عشر

[موقع المناهج](#) ⇨ [المناهج السعودية](#) ⇨ [الصف الأول](#) ⇨ [رياضيات](#) ⇨ [الفصل الثالث](#)

المزيد من الملفات بحسب الصف الأول والمادة رياضيات في الفصل الثالث

تحضير عين لدروس الفصل الثالث	1
تحضير المنهج للفصل الثالث بطريقة الخطوات الأربعة	2
المهام الأدائية للفصل العاشر القياس	3
اختبار الفصل	4
أوراق عمل درس مقارنة السعات وترتيبها	5

بِسْمِ اللَّهِ الرَّحْمَنِ الرَّحِيمِ

اسم الطالب :	 وزارة التعليم Ministry of Education	٢٠	المملكة العربية السعودية
المادة : رياضيات			وزارة التعليم
الصف : الأول ابتدائي			الإدارة العامة للتعليم بمنطقة ()
			مكتب التعليم ب
			مدرسة

اختبار الفترة الثانية الفصل الدراسي الثالث لعام ١٤٤٣هـ



أرّتب الأشياء من الأقصر إلى الأطول، وأكتب الأرقام ١ أو ٢ أو ٣ مبدئاً بالأقصر:

almanahj.com/sa
المنهج السعودية



أحوط الشيء الأَخَفَّ:



أحوط الشيء الذي سعته أقل:




أكتب العدد:

٧ عشرات =
سبعين

٥ عشرات =
خمسين

٩ عشرات =
تسعين

أَسْتَعْمِلُ  لِأَقِيسَ الطُّوْلَ:



حَوَالِي 

حَوَالِي 




حَوَالِي 



almanahj.com/sa


المنهج السمواتية



عَشْرَاتٍ

ثَمَانُونَ

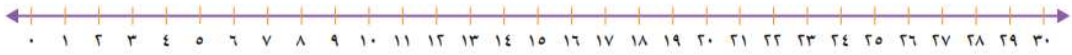
أَعِدُّ بِالْعَشْرَاتِ، ثُمَّ أَقْرَأُ الْعَدَدَ وَأَكْتُبُهُ:



عَشْرَاتٍ

أَرْبَعُونَ

أَسْتَعْمِلُ خَطَّ الْأَعْدَادِ لِأَعِدَّ بِالْقَفْزِ:



(١) ، ٤ ، ٢ ،

(٢) ، ٢٥ ، ، ١٥ ، ١٠ ،

(٣) ، ١٠ ، ٥ ، ،

انتهت الأسئلة

أ. أحمد الاحمدي
@ahmad9963