

شكراً لتحميلك هذا الملف من موقع المناهج السعودية



اختبار القيمة المنزلية

[موقع المناهج](#) ← [المناهج السعودية](#) ← [الصف الأول](#) ← [رياضيات](#) ← [الفصل الثالث](#) ← [الملف](#)

التواصل الاجتماعي بحسب الصف الأول



روابط مواد الصف الأول على تلغرام

[الرياضيات](#)

[اللغة الانجليزية](#)

[اللغة العربية](#)

[التربية الاسلامية](#)

المزيد من الملفات بحسب الصف الأول والمادة رياضيات في الفصل الثالث

بوربوينت مراجعة تراكمية للفصل الرابع الأعداد حتى 10	1
اختبار تحريبي للفترة الثانية	2
اختبار الفترة الثانية	3
اسئلة اختبار مهاراتي	4
اختبار القيمة المنزلية	5

اختبار : مادة الرياضيات
فصل(٩): القيمة المنزلية
للصف: الأول ابتدائي
لعام ١٤٤٤



المملكة العربية السعودية
وزارة التعليم
ادارة التعليم بمحافظة
مدرسة :

الصف : أولى /

الإسم :



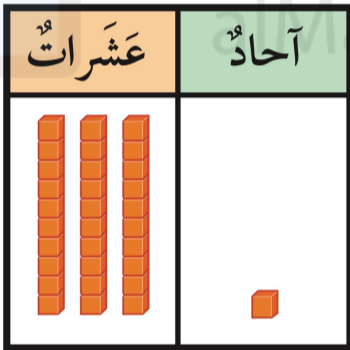
س١: مع خولة ١٠ خرزات . إذا وضعت كل ٥ منها في خيط،
فكم خيطاً تحتاج إليه ؟

..... خيط

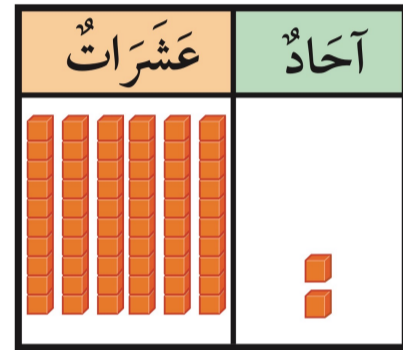
تم تحميل هذا الملف من

موقع المناهج السعودية

س٢: أقرأ العدد ثم أكتبه :



..... آحاد و عشرات
أكتب:



..... آحاد و عشرات
أكتب:

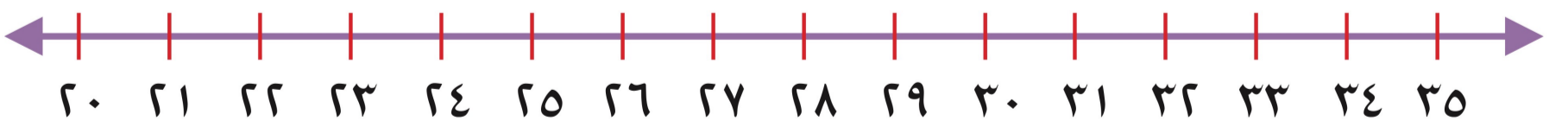
س٣: قارن بين الأعداد وأكتب إشارة (< أو > أو =) في \bigcirc

٩٩ \bigcirc ٥١

٣٦ \bigcirc ٣٦

١١ \bigcirc ٣٤

س٤:



أكتب العدد الواقع بين
العددين:

٣١ ، ... ، ٣٣

أكتب العدد الذي يلي
مباشرة:

٢٦ ، ...

أكتب العدد الذي يسبق
مباشرة:

٣٤ ، ...