

تم تحميل هذا الملف من موقع المناهج السعودية



# موقع المناهج السعودي

\* للحصول على أوراق عمل لجميع الصفوف وجميع المواد اضغط هنا

<https://www.almanahj.com/sa>

\* للحصول على أوراق عمل لجميع مواد الصف الأول اضغط هنا

<https://almanahj.com/sa/1>

\* للحصول على أوراق الصف الأول في مادة رياضيات ولجميع الفصول, اضغط هنا

<https://almanahj.com/sa/1math>

\* للحصول على أوراق عمل لجميع مواد الصف الأول في مادة رياضيات الخاصة بـ الفصل الثاني اضغط هنا

<https://www.almanahj.com/sa/1math2>

\* لتحميل كتب جميع المواد في جميع الفصول للـ الصف الأول اضغط هنا

<https://www.almanahj.com/sa/grade1>

للحصول على جميع روابط الصفوف على تلغرام وفيسبوك من قنوات وصفحات: اضغط هنا

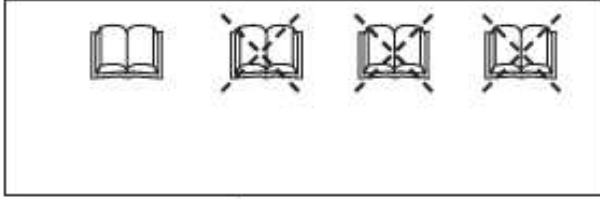
<https://t.me/sacourse>

ورقة عمل: أحل المسألة - أرسم صورة

الأحد ١ / ٦ / ١٤٤١ هـ

الصف : الأول

الاسم :



١ قرأ أحمد ٤ ،

وقرأ محمود ٣ .



كم قرأ أحمد زيادةً على محمود؟



٢ لدى عثمان ٤ ،

أعطى صديقه ٢ .



كم بقيت لدى عثمان؟



٣ عدت هند ٦ ،

طار ٥ منها .



كم بقيت؟



٤ ٦ في العش ،

طار ١ منها .




كم بقي؟

ورقة عمل: الطرح من الأعداد ٤ ، ٥ ، ٦

الخميس ٥ / ٦ / ١٤٤١ هـ

الصف : الأول


الاسم :


أَسْتَعْمِلُ  لِأَجْدَ نَاتِجِ الطَّرْحِ، ثُمَّ أَكْتُبُ الْعَدَدَ:


أَطْرَحُ مِنَ الْأَعْدَادِ ٤ ، ٥ ، ٦				
الْفَرْقُ	يُسَاوِي		نَاقِصٌ	
.....	=	٤	-	٤
.....	=	٤	-	٥
.....	=	٤	-	٦


- ١
- ٢
- ٣


أجد نواتج الطرح التالية:

..... = ١ - ٥ 


..... = ٣ - ٦ 


..... = ٠ - ٤ 


..... = ٣ - ٤ 

..... = ٥ - ٥ 

..... = ٢ - ٦ 

..... = ٥ - ٦ 

..... = ٢ - ٤ 


..... = ٢ - ٥ 



ورقة عمل: الطرح من الأعداد ٧ ، ٨ ، ٩

الخميس ٥ / ٦ / ١٤٤١ هـ

الصف : الأول

الاسم :

أَسْتَعْمِلُ  ، ثُمَّ أَكْتُبُ الأَعْدَادَ:


أَطْرَحُ مِنَ الأَعْدَادِ ٧ ، ٨ ، ٩				
الْفَرْقُ	يُسَاوِي		نَاقِصٌ	
.....	=	٤	-	٧
.....	=	٤	-	٨
.....	=	٤	-	٩


١


٢


٣


أجدُ نواتج الطرح التالية:


..... = ٥ - ٧ 


..... = ٤ - ٨ 


..... = ١ - ٩ 


..... = ٢ - ٨ 

..... = ٦ - ٩ 

..... = ٧ - ٨ 

..... = ٤ - ٧ 

..... = ٤ - ٩ 


..... = ٦ - ٧ 

ورقة عمل: جمل الطرح

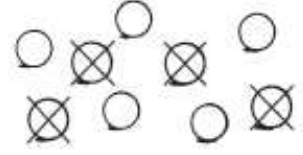
الخميس ٢٨ / ٥ / ١٤٤١ هـ

الصف : الأول

الاسم :

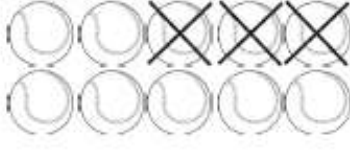
أَسْتَعْمِلُ  لِأُمْتَلَّ جُمَلَ الطَّرْحِ ثُمَّ أَكْتُبُهَا:

٢




..... ○ ..... ○ .....

١



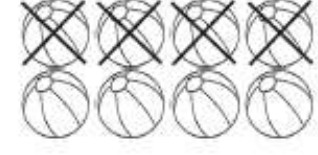
..... ○ ..... ○ .....

٤



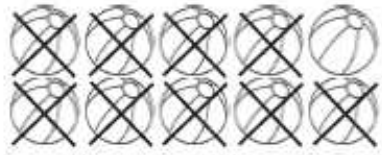
..... ○ ..... ○ .....

٣




..... ○ ..... ○ .....

٦



..... ○ ..... ○ .....

٥



..... ○ ..... ○ .....

٨ أطفال في المَسْبَحِ،  
خَرَجَ ٣ مِنْهُمْ. كَمْ طِفْلاً بَقِيَ؟

..... ○ ..... ○ .....

١٠ حَمَامَاتٍ عَلَى الْأَرْضِ،  
طَارَتْ ٢ مِنْهَا. كَمْ حَمَامَةً بَقِيَتْ؟

..... ○ ..... ○ .....

ورقة عمل: طرح الصفر والكل

الخميس ٢٨ / ٥ / ١٤٤١ هـ

الصف : الأول

الاسم :

اَكْتُبْ جُمَلَ الطَّرْحِ:



٢

..... ○ ..... ○ .....



١

..... ○ ..... ○ .....



٤

..... ○ ..... ○ .....



٣

..... ○ ..... ○ .....

أَجِدْ نَاتِجَ الطَّرْحِ (أَسْتَعْمِلُ قِطْعَ الْعَدِّ إِذَا لَزِمَ الْأَمْرُ):

..... = ٨ - ٨ ٧

..... = ٦ - ٦ ٦

..... = ٠ - ٧ ٥

..... = ٩ - ٩ ١٠

..... = ٠ - ٥ ٩

..... = ٠ - ٢ ٨

..... = ٤ - ٤ ١٣

..... = ٠ - ١٠ ١٢

..... = ١ - ١ ١١