



شكراً لتحميلك هذا الملف من موقع المناهج السعودية



أسئلة اختبار مهاراتي

[موقع المناهج](#) ← [المناهج السعودية](#) ← [الصف الأول](#) ← [رياضيات](#) ← [الفصل الثالث](#) ← [الملف](#)

التواصل الاجتماعي بحسب الصف الأول



روابط مواد الصف الأول على تلغرام

[الرياضيات](#)

[اللغة الانجليزية](#)

[اللغة العربية](#)

[التربية الاسلامية](#)

المزيد من الملفات بحسب الصف الأول والمادة رياضيات في الفصل الثالث

بوربوينت مراجعة تراكمية للفصل الرابع الأعداد حتى 10	1
اختبار تجريبي للفترة الثانية	2
اختبار الفترة الثانية	3
اسئلة اختبار مهاراتي	4
اختبار القيمة المنزلية	5

أسئلة اختبارات

مهاراتي

تم تحميل مهاراتي من
موقع المناهج السعودية


alManahj.com/sa


رياضيات – أول ابتدائي





أسئلة اختبارات مهاراتي

المادة	رياضيات
المرحلة التعليمية المستهدفة	اول ابتدائي


المهارة: كتابة جمل جمع باستعمال إشارتي الجمع والمساواة	
جملة الجمع الصحيحة هي	
	
	
أ) $5 = 2 + 3$	ب) $8 = 5 + 3$
ج) $6 = 3 + 3$	

المهارة: تمييز الأعداد ضمن العدد (٢٠) باستعمال رسوم توضيحية	
ترتيب القلم الأخضر المحاط بدائرة هو	
	
أ) ٧	ب) ٦
ج) ٥	

المهارة: استعمال التقابل لتحديد المجموعة التي فيها العدد نفسه من الأشياء	
عدد علبة الألوان.....عدد فرشاة الرسم	
	
أ) أكثر من	ب) أقل من
ج) يساوي	

المهارة: تمييز الأعداد ضمن العدد (٢٠) باستعمال رسوم توضيحية			
ما مجموعة الديدان التي لها عدد السمكات نفسه 			
(أ)		(ب)	
	(ج)		

المهارة: تكوين العدد ٥			
القبعات تمثل طريقة لتكوين العدد ٥ . ما الطريقة الأخرى لتكوين العدد ٥ ؟ 			
(أ)		(ب)	
	(ج)		

المهارة: تمييز الأعداد ضمن العدد (٢٠) باستعمال رسوم توضيحية			
عدد النحللات يساوي 			
(أ)	١٥	(ب)	١٦
	(ج)	١٧	

المهارة: إيجاد ناتج الطرح			
ناتج طرح $= . - ٧$			
(أ)	٧	(ب)	١
	(ج)	٠	

المهارة: تحديد أنماط الأشياء وتوسيعها		
الزر التالي في النمط		
.....		
(أ)	(ب)	(ج)

المهارة: ترتيب الأعداد من صفر إلى ١٠ باستعمال الصور التوضيحية		
العدد في <input type="text"/> يساوي		
<input type="text"/>		
(أ) ٦	(ب) ٥	(ج) ٢

المهارة: حل مسائل رياضية على الطرح		
في الطبق ٨ بيضات كُسر منها ٣ بيضات . كم بيضة بقيت؟		
(أ) ٣	(ب) ٤	(ج) ٥


المهارة: كتابة جمل الطرح باستعمال إشارتي الطرح والمساواة		
جملة الطرح الصحيحة		
(أ) $٣ = ١ - ٤$	(ب) $٢ = ٢ - ٤$	(ج) $٠ = ٠ - ٤$


المهارة: ترتيب الأعداد ضمن العدد (٢٠)		
العدد المفقود هو		
٩ (أ)	٧ (ب)	١١ (ج)

المهارة: استعمال التقابل لتحديد المجموعة التي فيها عدد من الأشياء أقل أو أكثر من الأخر		
عدد الفئران عدد قطعة الجبنة		
(أ) أكثر من	(ب) أقل من	(ج) يساوي

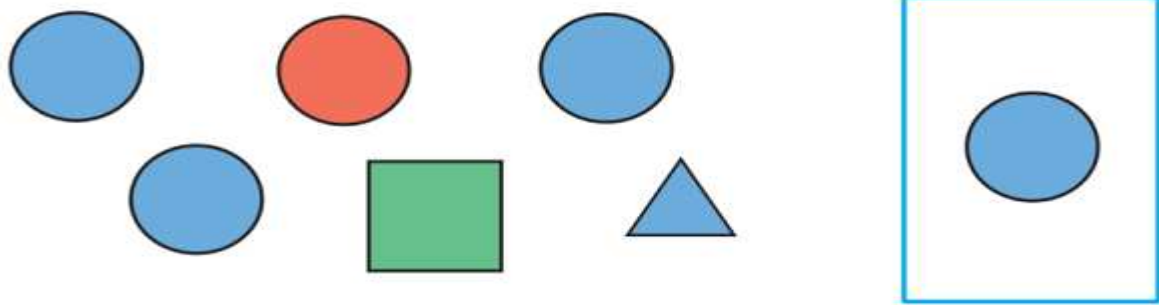
المهارة: استعمال خط الأعداد لإيجاد ناتج الجمع		
الجملة التي تمثل الشكل هي		
٢ + ٦ (أ)	٢ + ٨ (ب)	٢ + ٥ (ج)

المهارة: كتابة حقائق الجمع أفقياً ورأسياً		
ناتج الجمع		
$\underline{\quad} = \underline{\quad} + \underline{\quad}$		
٧ = ١ + ٦ (أ)	٦ = ٠ + ٦ (ب)	٨ = ١ + ٧ (ج)

المهارة: تمييز الأعداد ضمن العدد (٢٠) باستعمال رسوم توضيحية			
عدد الفراشات يساوي			
			
١ (ج)	٢ (ب)	٣ (أ)	١٦

المهارة: تحديد مواضع الأشياء بعضها بالنسبة إلى بعض باستعمال المفردات (أعلى، أوسط، أسفل)			
الصورة التي تدل على أن القبعة الحمراء تقع بالأعلى هي			
			١٧

المهارة: تمييز الأعداد ضمن العدد (٢٠) باستعمال رسوم توضيحية			
أي الرسومات تمثل الرقم ٤			
			١٨

المهارة: تصنيف مجموعة من الأشياء وفق خاصية واحدة			
الشكل الملون داخل الإطار يسمى			
			
(ج) مثلث	(ب) دائرة	(أ) مثلث	١٩

المهارة: تحديد مواضع الأشياء بعضها بالنسبة إلى بعض باستعمال المفردات (فوق، تحت)

يقع البالون الأحمر.....الشجرة



٢٠

(ج) فوق

(ب) تحت

(أ) وسط

تم تهيئة هذا الملف من
موقع المناهج السعودية

alManahj.com/sa