

تم تحميل هذا الملف من موقع المناهج السعودية



موقع المناهج السعودي

*للحصول على أوراق عمل لجميع الصفوف وجميع المواد اضغط هنا

<https://www.almanahj.com/sa>

* للحصول على أوراق عمل لجميع مواد الصف الأول اضغط هنا

<https://almanahj.com/sa/1>

* للحصول على جميع أوراق الصف الأول في مادة علوم ولجميع الفصول, اضغط هنا

<https://almanahj.com/sa/1science>

* للحصول على أوراق عمل لجميع مواد الصف الأول في مادة علوم الخاصة بـ الفصل الثاني اضغط هنا

<https://www.almanahj.com/sa/1science2>

* لتحميل كتب جميع المواد في جميع الفصول للـ الصف الأول اضغط هنا

<https://www.almanahj.com/sa/grade1>

للحصول على جميع روابط الصفوف على تلغرام وفيسبوك من قنوات وصفحات: اضغط هنا

<https://t.me/sacourse>

مهارات علوم الصف الأول الفترة (٣+٤)

اسم الطالبة:

رقم	المهارة	اتقنت/لم تتقن
١	توضيح مفهوم الطقس	

إختاري الإجابة الصحيحة:

*هي حالة السماء والجو خلال اليوم:
(المقياس - الطقس - درجة الحرارة)

رقم	المهارة	اتقنت/لم تتقن
٢	تعداد الأدوات المختلفة لقياس الطقس	

صلي من العامود الأول بما يناسبة من العمود الثاني:

اسم أداة	صورة الأداة
مقياس الحرارة	
مقياس المطر	
السهم الدوار	

رقم	المهارة	اتقنت/لم تتقن
٣	تعداد الفصول الأربعة مع ذكر مظهر واحد من مظاهرها	

صلي اسم كل فصل تحت الصورة التي تدل عليه:

(الربيع) . (الشتاء) . (الصيف) . (الخريف) .



رقم	المهارة	اتقنت/لم تتقن
٤	ذكر مفهوم المادة	

ضعي الكلمة المناسبة في الفراغ المناسب:

(المادة - الكتلة)

- 1) تشغل حيزا ومن خصائصها اللون والطعم.....
2) كمية المادة الموجودة في الشيء.....

مهارات علوم الصف الأول الفترة (٣+٤)

اسم الطالبة:

رقم	المهارة	اتقنت/لم تتقن
٥	تعدد حالات المادة	

(١) ضعي علامة خطأ تحت المادة السائلة:

(٢) ضعي خطأ تحت المادة الصلبة:




(٣) ضعي علامة صح تحت المادة الغازية:

رقم	المهارة	اتقنت/لم تتقن
٦	ترتيب مجموعة من الاجسام حسب كتلتها من الأصغر الى الأكبر باستخدام الميزان	

تقاس هذه المهارة عمليا

رتبي مرقمة من الاخف وزن الى الاثقل وزن:

رقم	المهارة	اتقنت/لم تتقن
٧	تصنيف بعض المواد الصلبة بحسب خصائصها	

أحيطي المواد السائلة فقط:



رقم	المهارة	اتقنت/لم تتقن
٨	المقارنة بين خصائص المادة السائلة والمادة الغازية بالقيام ببعض التجارب العلمية	

تقاس هذه المهارة عمليا

ضعي علامة صح امام العبارة الصحيحة وخطأ امام العبارة الخاطئة:

(١) المادة السائلة لها شكل محدد ()

(٢) إذا ثقب البالون ينتشر منه الهواء بسهولة ()

رقم	المهارة	اتقنت/لم تتقن
٩	استنتاج ان المادة تتغير بإجراء تطبيق عملي	

تقاس هذه المهارة عمليا

مهارات علوم الصف الأول الفترة (٣+٤)

اسم الطالبة:

رقم	المهارة	اتقنت/لم تتقن
١٠	توضح مفهوم المخلوط	
١١	فصل مكونات مخلوط ما	

اختاري الإجابة الصحيحة:

هي شينان او أشياء مختلفة توجد مجتمعة معا (المادة - المخلوط - الوزن)

انظري الى الصورة :



الطريقة التي اتبعناها لفصل مكونات المخلوط هي (النخل - الطفو)

رقم	المهارة	اتقنت/لم تتقن
١٢	التعبير عن مفهوم الحركة	
١٣	تعداد بعض أنواع القوى	

احيطي الصورة التي تدل على حدوث حركة:



صلي كل صورة بالكلمة المناسبة:

(قوى الجاذبية)

(السحب) .

(الدفع) .



رقم	المهارة	اتقنت/لم تتقن
١٤	توضح مفهوم الطاقة	
١٥	ذكر بعض اشكال الطاقة	

اختاري الإجابة الصحيحة:

هي التي تجعل الأشياء تعمل وتتغير:
(الوزن - المخلوط - الطاقة)

صلي كل صورة بالكلمة المناسبة:

طاقة الحرارة.

طاقة الصوت.

طاقة الضوء.



مهارات علوم الصف الأول الفترة (٣+٤)

اسم الطالبة:

رقم	المهارة	اتقنت/لم تتقن
١٦	تعدد بعض مصادر الحرارة	
١٧	استنتاج مفهوم الضوء من خلال قراءة الصور	

١) ضعي دائرة حول مصادر الحرارة:

(الشمس) . (القلم) . (الاحتكاك) . (الألوان) . (الشمعة)



٢) اختاري الإجابة الصحيحة:
هي طاقة تمكننا من رؤية الأشياء
(الصوت - الضوء - الظلام)

رقم	المهارة	اتقنت/لم تتقن
١٨	التمثيل لبعض مصادر الضوء	
١٩	استنتاج سبب حدوث الصوت	

احيطي مصادر الضوء:



اكلمي الفراغ بالكلمة المناسبة:
(يتغير . - يهتز)

يحدث الصوت عندما الجسم.