

شكراً لتحميلك هذا الملف من موقع المناهج السعودية



نموذج تقويمي للمهارات سكرة الشمري

[موقع المناهج](#) ⇨ [المناهج السعودية](#) ⇨ [الصف الأول](#) ⇨ [علوم](#) ⇨ [الفصل الثالث](#) ⇨ [الملف](#)

التواصل الاجتماعي بحسب الصف الأول



روابط مواد الصف الأول على تلغرام

[الرياضيات](#)

[اللغة الانجليزية](#)

[اللغة العربية](#)

[التربية الاسلامية](#)

المزيد من الملفات بحسب الصف الأول والمادة علوم في الفصل الثالث

نموذج تقويمي للمهارات سكرة الشمري	1
عرض وشرح درس الموقع والحركة	2
ملزمة أوراق عمل لتقييم المهارات	3
ملخص شامل (الطقس، الطاقة)	4
ملخص المهارات الأساسية	5

المملكة العربية السعودية وزارة التعليم الإدارة العامة للتعليم بمنطقة	وزارة التعليم Ministry of Education	التاريخ:
		المادة: العلوم
		الصف: الأول الابتدائي
اسم الطالب/ة.....	الفصل /.....	

تقويم ختامي لمهارات علوم الصف الأول – (الفصل الدراسي الثالث) عام ١٤٤٤

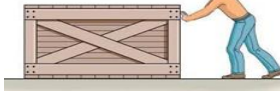
السؤال الأول: نكتب (الصيف_ الشتاء_ الربيع_ الخريف) تحت صورة كل فصل:



موقع المناهج السعودية

alManahj.com/sa

السؤال الثاني: نصل كل كلمة بالصورة المناسبة:



غائم

ضوء

حرارة



صوت

دفع

السؤال الثالث: نحدد موقع الأشياء ب (تحت _ يمين - فوق _ خلف) تحت كل صورة :

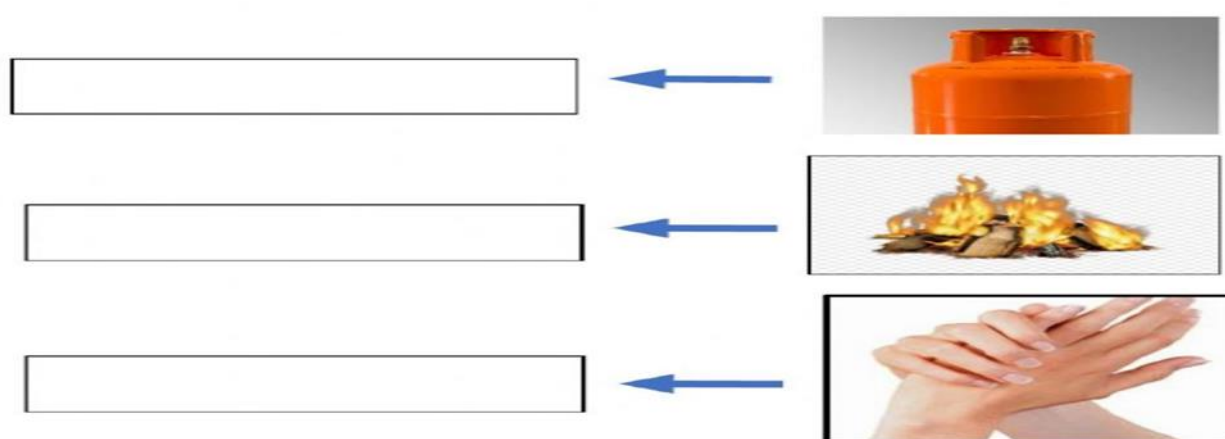


السؤال الرابع: * نضع إشارة صح تحت الجسم الذي يسمح بمرور الضوء من خلاله :



ب/ ايهما نلبس في فصل الشتاء ؟

السؤال الخامس: نكتب مصادر الحرارة بجانب كل صورة (الاحتكاك * احتراق الخشب * الغاز)



السؤال السادس: ١ - أيهما يصدر صوت : تم تحميل هذا الملف من موقع المناهج السعودية



٢ / ما مصادر الضوء الطبيعية على الأرض :



السؤال السابع: ١ - نصف نوع الحركة في الصور التالية (دورانية * مستقيم * متعرج):



.....

ب - نصل كل مفردة بمعناها

مقدار البعد بين جسمين

السرعة

وصف حركة الجسم سريعة او بطيئة

المسافة



بالتوفيق يا صغاري

سكره الشمري