

تم تحميل هذا الملف من موقع المناهج السعودية



الملف درس الأشكال المستوية

[موقع المناهج](#) ⇨ [المناهج السعودية](#) ⇨ [الصف الأول](#) ⇨ [رياضيات](#) ⇨ [الفصل الثالث](#)

الملف درس الأشكال المستوية

[موقع المناهج](#) ⇨ [المناهج السعودية](#) ⇨ [الصف الأول](#) ⇨ [رياضيات](#) ⇨ [الفصل الثالث](#)

المزيد من الملفات بحسب الصف الأول والمادة رياضيات في الفصل الثالث

تحضير عين لدروس الفصل الثالث	1
تحضير المنهج للفصل الثالث بطريقة الخطوات الأربعة	2
المهام الأدائية للفصل العاشر القياس	3
اختبار الفصل	4
أوراق عمل درس مقارنة السعات وترتيبها	5



تطوير - إنتاج - توثيق

almanahj.com/sa

المنهج السمويّة

٥ - ١٢

الأشكال المستوية



أ. أحمد الأحمد

@ahmad9963



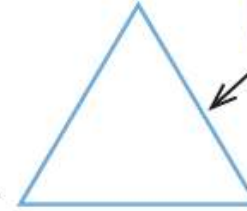
بَعْضُ الْأَشْكَالِ الْمُسْتَوِيَّةِ لَهَا أَضْلَاعٌ وَرُؤُوسٌ.



مُسْتَطِيلٌ



رَأْسٌ



ضِلْعٌ

مِثْلٌ



دَائِرَةٌ



مَرَبَعٌ

فكرة الدرس

أتعرف أشكالاً
مستوية وأصفاها .

المفردات
مثلث
مستطيل
مربع
دائرة
ضلع
رأس

أ.أحمد الأحمد

@ahmad9963


أَسْمِي الشَّكْلَ الْمُسْتَوِيَّ الْمُجَاوِرَ، وَأُحَوِّطُ الْأَشْيَاءَ الَّتِي لَهَا الشَّكْلُ نَفْسُهُ :



١



٢



أَسْمِي الشَّكْلَ الْمُسْتَوِيَّ الْمُجَاوِرَ، وَأُحَوِّطُ الْأَشْيَاءَ الَّتِي لَهَا الشَّكْلُ نَفْسُهُ :

أَتَدْرِبُ



ع



ه





أَكْتُبْ عَدَدَ الْأَضْلَاعِ وَالرُّؤُوسِ:

٧



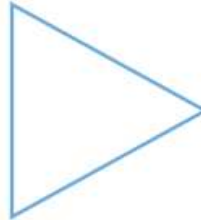
أَضْلَاعٌ رُؤُوسٌ

٦



أَضْلَاعٌ رُؤُوسٌ

٩



أَضْلَاعٌ رُؤُوسٌ

٨



أَضْلَاعٌ رُؤُوسٌ



مَسَائِلُ مهاراتِ التَّفكيرِ العُلْيَا

١٠ التَّبْرِيرُ الرِّيَاضِيُّ: كَيْفَ يَخْتَلِفُ المُرَبَّعُ عَنِ المُسْتَطِيلِ؟

almanahj.com/sa

المناهج السعودية

أ.أحمد الأحمدى

@ahmad9963

