

تم تحميل هذا الملف من موقع المناهج السعودية



اختبار الفترة الثانية

موقع المناهج ← المناهج السعودية ← الصف الأول ← رياضيات ← الفصل الثاني ← اختبارات ← الملف

تاريخ إضافة الملف على موقع المناهج: 11:00:03 2025-02-02

ملفات اكتب للمعلم اكتب للطالب | اختبارات الكترونية | اختبارات | حلول | عروض بوربوينت | أوراق عمل
منهج انجليزي | ملخصات وتقارير | مذكرات وبنوك | الامتحان النهائي للمدرس

المزيد من مادة
رياضيات:

التواصل الاجتماعي بحسب الصف الأول



صفحة المناهج
السعودية على
فيسبوك

الرياضيات

اللغة الانجليزية

اللغة العربية

التربية الاسلامية

المواد على تلغرام

المزيد من الملفات بحسب الصف الأول والمادة رياضيات في الفصل الثاني

اختبار نهائي الدور الأول

1

عرض بوربوينت (قصص الطرح)

2

اختبار الفترة الثانية

3

نماذج اختبارات متنوعة للفصل الثاني

4

تحميل كتاب الرياضيات نسخة 1446هـ

5

المملكة العربية السعودية

وزارة التعليم

إدارة التعليم بمحافظ عسير

مدرسة الكسائي الابتدائية

الدرجة: _____

توقيع ولي الأمر :



اختبار الفترة الثانية

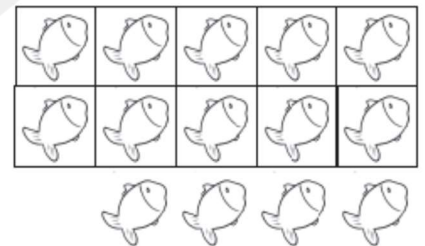



الصف : الأول الابتدائي

المادة : رياضيات

اسم الطالب:

السؤال الأول: اكتب الأعداد مرتبة من ١ إلى ٢٠ في الجدول التالي:

السؤال الثاني: عدّ الأشكال التالية ثم اكتب عددها في المربع المجاور لها.



السؤال الثالث: اوجد نواتج الجمع التالية.

$$= ٣ + ٥$$

$$= ١ + ٤$$

$$= ٣ + ٣$$

انتهت الأسئلة: وفقكم الله وجعلكم فخرا لوطنكم وأمتكم

