

تم تحميل هذا الملف من موقع المناهج السعودية



الملف حل ملزمة تعزيز المهارات سكره الشمري

[موقع المناهج](#) ← [المناهج السعودية](#) ← [الصف الأول](#) ← [علوم](#) ← [الفصل الثالث](#)

المزيد من الملفات بحسب الصف الأول والمادة علوم في الفصل الثالث

نموذج تقويمي للمهارات سكرة الشمري	1
عرض وشرح درس الموقع والحركة	2
ملزمة أوراق عمل لتقييم المهارات	3
ملخص شامل (الطقس، الطاقة)	4
ملخص المهارات الأساسية	5

المملكة العربية السعودية

وزارة التعليم

الإدارة العامة للتعليم بمنطقة
موقع

VISION 2030
موقع

وزارة التعليم
Ministry of Education

ملزمة تعزيز مهارات مادة العلوم الصف الأول الابتدائي


الفصل الدراسي الأول لعام ١٤٤٤ هـ

الاسم :

الفصل :



العلوم




تم تحويل هذا الملف من
موقع المناهج السعودية

alManahj.com

الفصل الأول

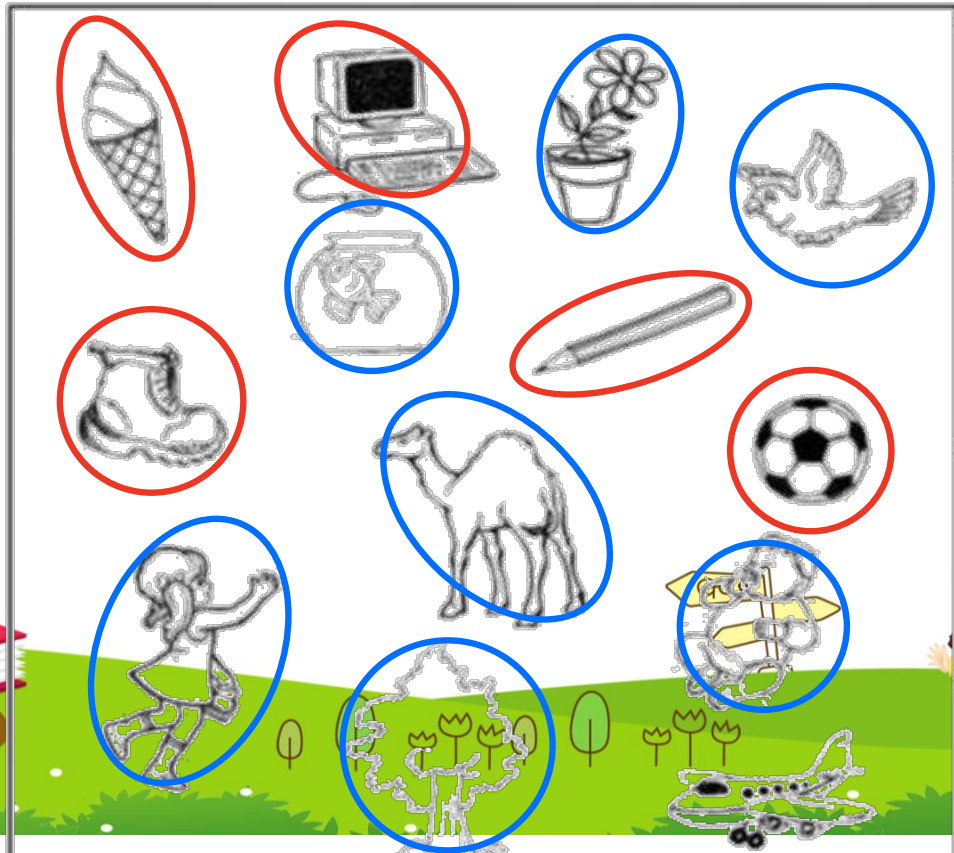





الدرس الأول: المخلوقات الحية

يقوم الطالب بالمقارنة بين المخلوقات الحية والأشياء غير الحية ويصنفها..













-أحوط المخلوقات الحية باللون الأزرق و الاشياء الغير حية باللون الأحمر:






تعرف إلى الكائنات الحية

اختر الكائن الحي:

 <input checked="" type="checkbox"/>	 <input type="checkbox"/>	 <input type="checkbox"/>
 <input checked="" type="checkbox"/>	 <input checked="" type="checkbox"/>	 <input checked="" type="checkbox"/>
 <input checked="" type="checkbox"/>	 <input type="checkbox"/>	 <input type="checkbox"/>
 <input type="checkbox"/>	 <input checked="" type="checkbox"/>	 <input type="checkbox"/>






الدرس الأول : المخلوقات الحية ٢

اختر الجواب الصحيح:

(١) كل مما يلي عبارة عن مخلوق حي إلا:



(٢) أي مما يلي مخلوق



صل كل صورة بما يُناسبها:




كانت حي



شيء غير حي






الدرس الثاني: النباتات وأجزاؤها


يقوم الطالب بالتعرف على أجزاء النبات (الجزور والسيقان
يصف وظائف أجزاء النبات.

اصل المفردات في مكانها الصحيح:

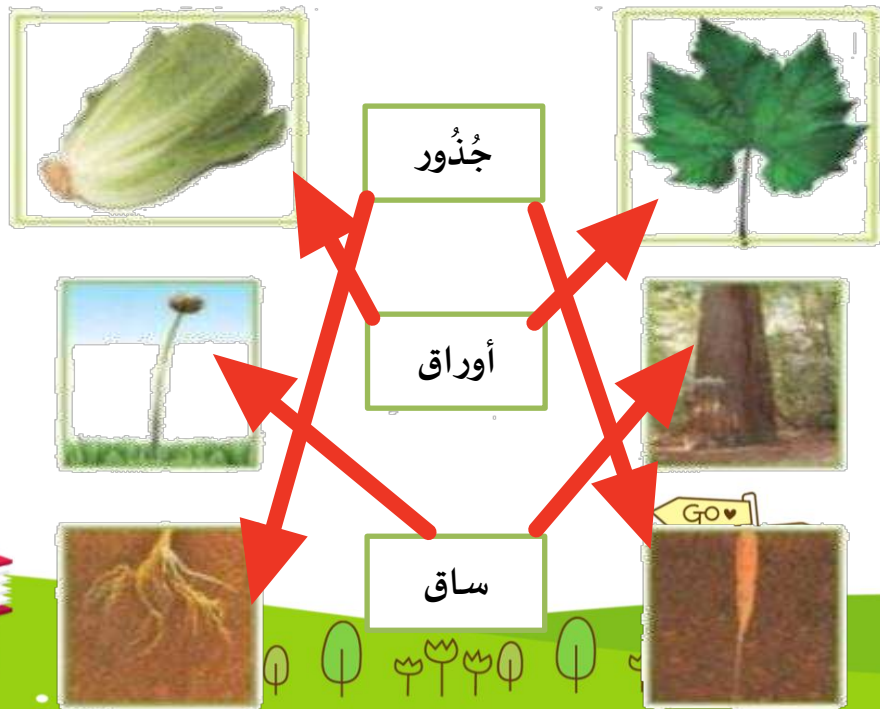
alManabi.com/sa

- الأزهار
- الباق
- الأوراق
- الجلور





صل كل صورة بما يُناسيها:






تحميل هذا الملف من
موقع المناهج السعودية

الفصل الثاني

alManahj.com/sa

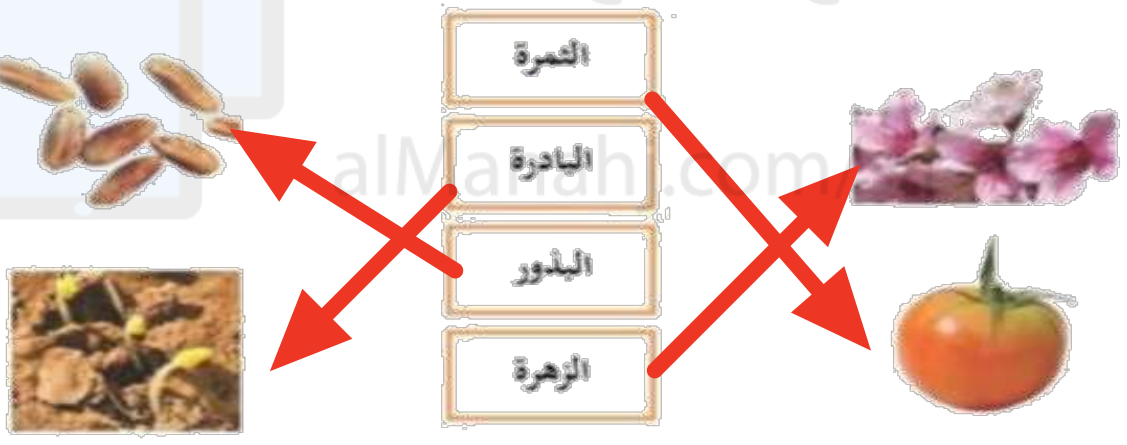




الدرس الثالث: نمو النباتات
يوضح أهمية الثمار والأزهار للنباتات



صل بين الصورة والكلمة المناسبة لها:
موقع المناهج السعودية



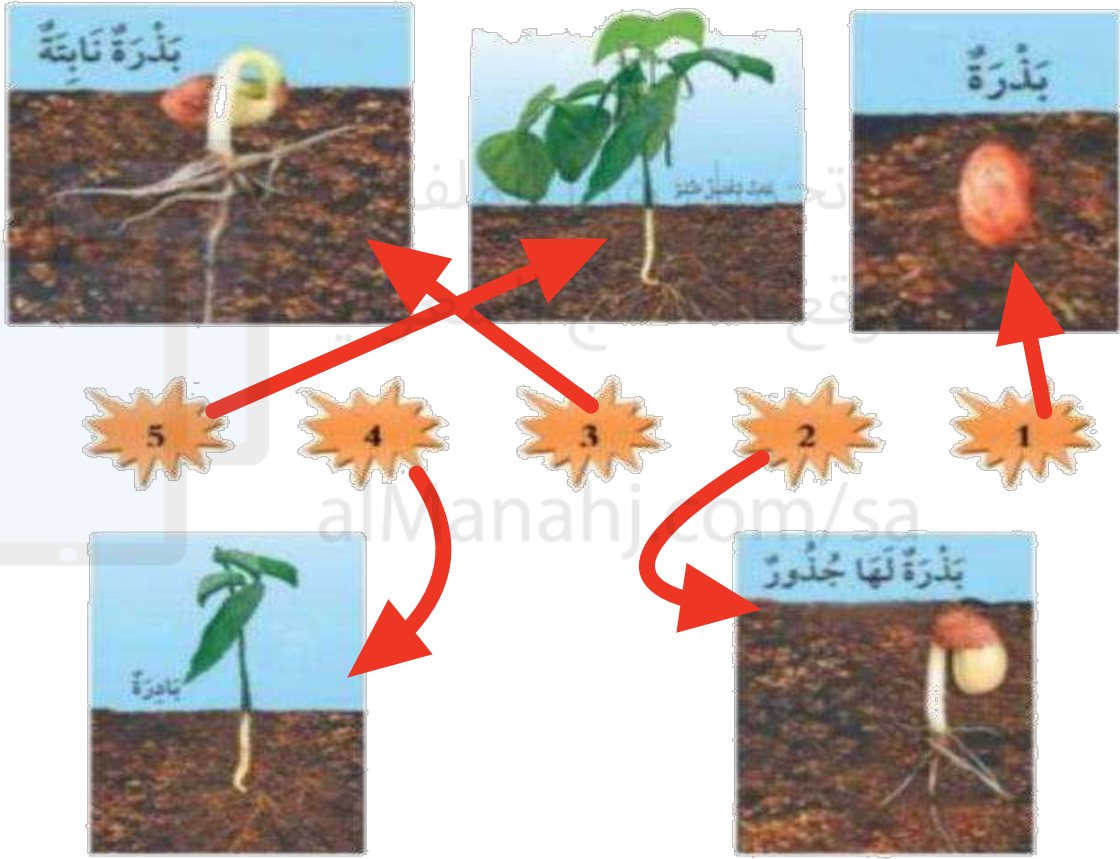
ضع علامة (صح) أمام العبارة:

- ✓ **الثمرة** جزء النبات الذي يحيي البذور
- ✓ **نبات** تنبت البذرة ثم تنمو وتكون
- ✓ **البذرة** جزء النبات الذي ينبت، ثم ينمو ليصير نباتاً جديداً





صل كل مرحلة من مراحل حياة نبات الفاصولياء بالرقم المناسب:






هيا يا صغيرى رتب مراحل نمو النبات




٣



١




٢



٤





الدرس الرابع: تعيش النباتات في أماكن كثيرة

يقوم بوصف كيف يُمكن للنبات أن يعيش في أماكن كثيرة
يقوم بوصف بيئة الغابة ، وبيئة الصحراء أيضاً



اختار الإجابة الصحيحة:

1. موطن تنمو في أشجار كثيرة وطويلة (الغابة - الصحراء - البحيرة)
2. موطن تعيش فيه الجمال (الغابة - الصحراء - البحيرة)
3. منطقة واسعة فيها أعشاب كثيرة (الغابة - الصحراء - البحيرة)

صل بين الصورة والكلمة المناسبة لها:

- المنطقة العشبية
- الغابة
- البحيرة
- الصحراء






تم تحميل هذا الملف من
موقع المناهج السعودية

الفصل الثالث

alivianarj.com/sa



الدرس الخامس: أنواع الحيوانات

يرى أنواع متعددة من الحيوانات ويقوم بوصفها

يشرح أوجه التشابه والاختلاف بين الحيوانات



صل بين الصورة والكلمة المناسبة:



زاحف

ثدي

حشرة

طائر

برماني

اختر الجواب الصحيح:

١. حيوانات لها زعانف تعيش في الماء. (الثدييات - الطيور -

الأسماك)

٢. العناكب من الحشرات (صح - خطأ).

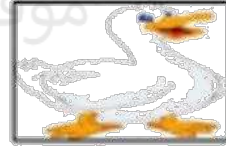




السؤال الأول ضع علامة (√) أو (X) أما العبارات التالية

X

تحتاج الطيور إلي الخيشيم لتأكل



✓

البرمائيات لها جلد ناعم ورطب




✓

يغطي أجسام بعض الثدييات شعر



السؤال الثاني : ضع دائرة حول الحيوان الذي يغطي جسمه ريش





الدرس السادس: الحيوانات وحاجاتها

يستطيع الربط بين شكل أسنان الحيوان والطعام المناسب لتناوله

يستطيع تصنيف الحيوانات بناء على نوع طعامها



صل كل حيوان مع نمط غذائه:

موقع المناهج السعودية



أكلات اللحوم



أكلات الأعشاب



اختر الجواب الصحيح:

١. عثر أحمد على جمجمة حيوان في البرية:

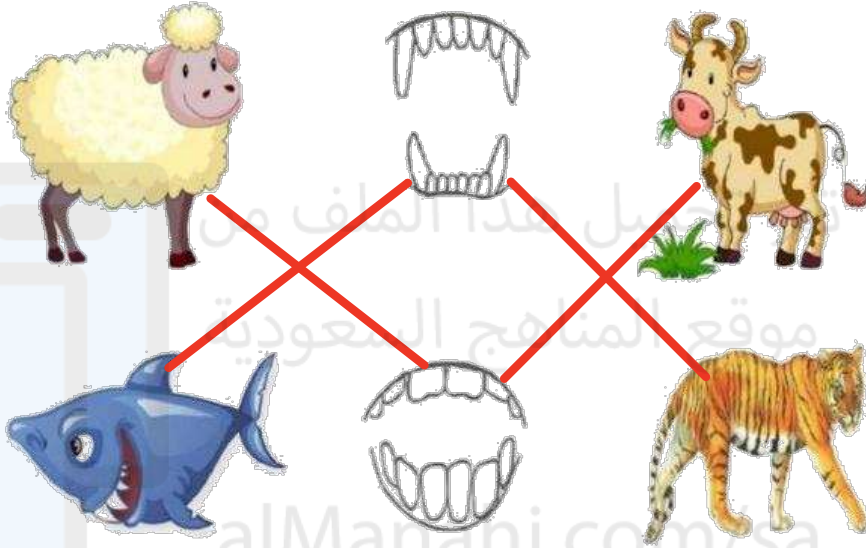
(أكلات الأعشاب - أكلات

تعود هذه الجمجمة لحيوان:






صل الحيوان مع الأسنان المناسبة له:




آكلات نبات



آكلات لحوم





الدرس السادس: الحيوانات وحاجاتها (٢)


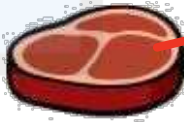
يشرح كيفية حصول الحيوانات المختلفة على حاجاتها



صل كل حيوان بطريقة تنقله:



صل كل حيوان بـغذائـه المناسب :



تحميل هذا الملف من

موقع المناهج السعودية


alManahj.com/sa





تحميل هذا الملف من
موقع المناهج السعودية
الفصل الرابع

alManahj.com/sa



الدرس الأول : مواطن على اليابسة ٢

- يقوم بوصف مواطن اليابسة.
- يتعلم أكثر عن مواطن اليابسة المختلفة.



صل كل حيوان بالمنطقة التي يعيش فيها:





صل الحيوانات بأماكن عيشها:

