

تم تحميل هذا الملف من موقع المناهج السعودية



* للحصول على أوراق عمل لجميع الصفوف وجميع المواد اضغط هنا

<https://www.almanahj.com/sa>

[1/sa/com.almanahj//:https](https://www.almanahj.com/sa/1math)

* للحصول على أوراق عمل لجميع مواد الصف الأول اضغط هنا

* للحصول على جميع أوراق الصف الأول في مادة رياضيات ولجميع الفصول, اضغط هنا

<https://www.almanahj.com/sa/1math>

* للحصول على أوراق عمل لجميع مواد الصف الأول في مادة رياضيات الخاصة بـ الفصل الأول اضغط هنا

<https://www.almanahj.com/sa/1math1>

* لتحميل كتب جميع المواد في جميع الفصول للـ الصف الأول اضغط هنا

<https://www.almanahj.com/sa/grade1>

[sacourse/me.t//:https](https://www.almanahj.com/sa/course)


للحصول على جميع روابط الصفوف على تلغرام وفيسبوك من قنوات وصفحات: اضغط هنا

بِسْمِ اللّٰهِ الرَّحْمٰنِ الرَّحِیْمِ

الصف : الأول
الحصة :
الاسم :

المادة / رياضيات
التاريخ / / / 14
الموضوع / التهينة

- لون الشاحنة بالأصفر والكرة بالأزرق والطائر بالأسود
والوردة بالأحمر




بِسْمِ اللّٰهِ الرَّحْمٰنِ الرَّحِیْمِ

الصف : الأول
الحصة :
الاسم :

المادة / رياضيات
التاريخ / / / 14
الموضوع / التصنيف وفق خاصية واحدة

أضع ○ حول الشيء داخل الإطار الذي له نفس الصفة

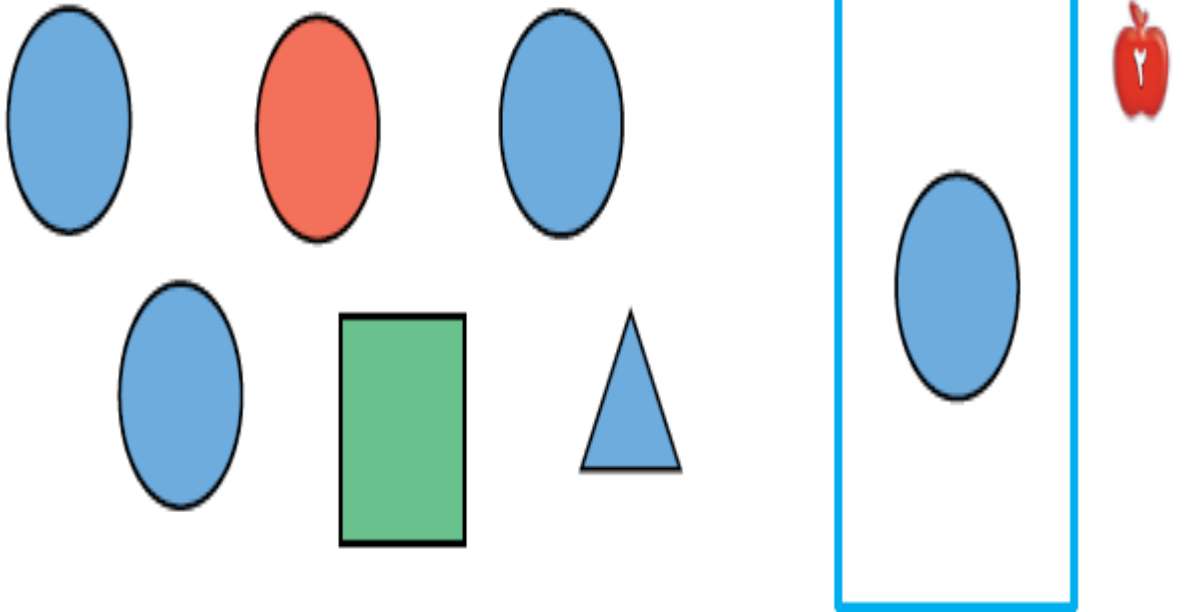
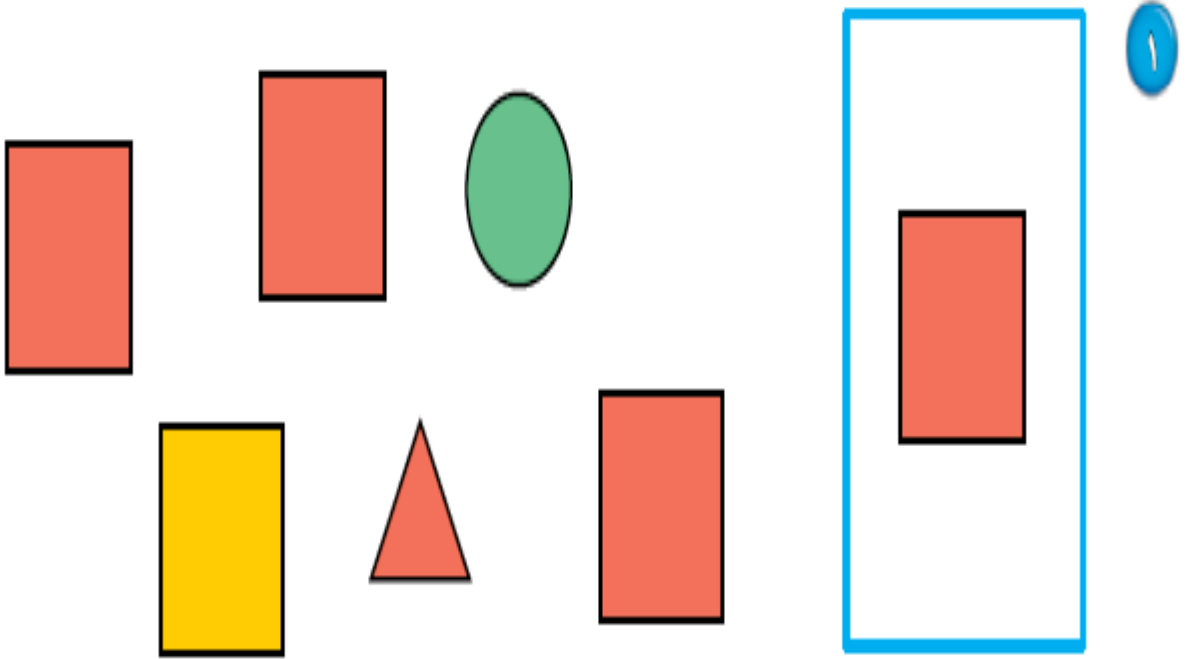


بِسْمِ اللّٰهِ الرَّحْمٰنِ الرَّحِیْمِ

الصف : الأول
الحصة :
الاسم :

المادة / رياضيات
التاريخ / / / 14
الموضوع / التصنيف وفق أكثر من خاصية

أضع ○ حول الشكل المماثل و علامة × حول الشكل المختلف



بِسْمِ اللّٰهِ الرَّحْمٰنِ الرَّحِیْمِ

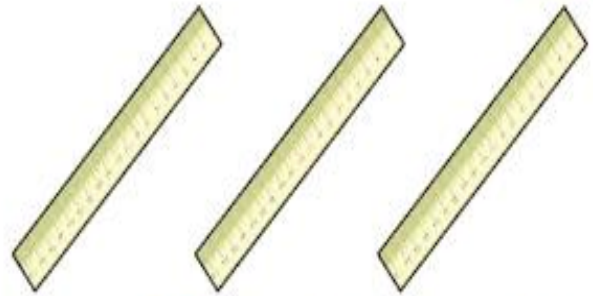
الصف : الأول
الحصة :
الاسم :

المادة / رياضيات
التاريخ / / / 14
الموضوع / التصنيف وفق أكثر من خاصية

أصل بخط بين عناصر المجموعتين المتقابلتين



٣




بِسْمِ اللّٰهِ الرَّحْمٰنِ الرَّحِیْمِ

الصف : الأول
الحنة :
الاسم :

المادة / رياضيات
التاريخ / / / 14
الموضوع / التصنيف (أكثر من وأقل من)

أصل بخط بين المجموعتين وضع حول المجموعة التي عناصرها أكثر



الاسم :

الموضوع / الأعداد 1 ، 2 ، 3 .

بِسْمِ اللّٰهِ الرَّحْمٰنِ الرَّحِیْمِ

الصف : الأول
الحصّة :

المادة / رياضيات
التاريخ / / / 14

أعد المربعات ثم ألونها



٣

--	--	--



--	--	--



1

--	--	--



٥

--	--	--



--	--	--

الاسم :

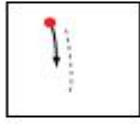
الموضوع / قراءة الأعداد (1 ، 2 ، 3)

بِسْمِ اللّٰهِ الرَّحْمٰنِ الرَّحِیْمِ

الصف : الأول
الحصّة :

المادة / رياضيات
التاريخ / / / 14

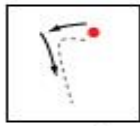
أعد الأشياء وانطق العدد ثم اكتبه ثلاث مرات



واحد



ثلاثة



اثنان



الاسم :

الموضوع / العدان 4 ، 5

بِسْمِ اللّٰهِ الرَّحْمٰنِ الرَّحِیْمِ

الصف : الأول
الحصة :

المادة / رياضيات
التاريخ / / / 14

ارسم 4 تفاحات على الشجرة الاولى و 5 تفاحات على الشجرة الثانية



الاسم :

الموضوع / قراءة العدان 4 ، 5 وكتابتها

بِسْمِ اللّٰهِ الرَّحْمٰنِ الرَّحِیْمِ

الصف : الأول
الحصة :

المادة / رياضيات
التاريخ / / / 14

أعد الأشياء وانطق العدد ثم اكتب العدد ثلاث مرات

3

أَرْبَعَةٌ

4

خَمْسَةٌ

5

أَرْبَعَةٌ

6

7

الاسم :







الموضوع / قراءة العدد صفر، وكتابتة

بِسْمِ اللّٰهِ الرَّحْمٰنِ الرَّحِیْمِ

الصف : الأول
الحصة :

المادة / رياضيات
التاريخ / / / 14

أعد الكرات في كل رسمة وعاء ثم قل العدد واكتبه

الاسم :

الموضوع / الأعداد 6 ، 7 ، 8

بِسْمِ اللّٰهِ الرَّحْمٰنِ الرَّحِیْمِ

الصف : الأول
الحصة :

المادة / رياضيات
التاريخ / / / 14

أعد الأشياء وقل العدد واستعمل قطع العد الملونة لتمثيل العدد

١



٢



٣



الاسم :


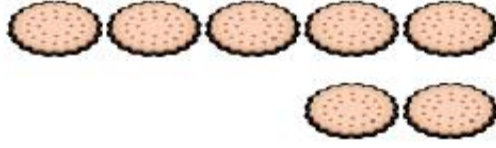
الموضوع / قراءة الأعداد 6 ، 7 ، 8 وكتابتها

أعد الأشياء وقل العدد ووضح عددها

بِسْمِ اللّٰهِ الرَّحْمٰنِ الرَّحِیْمِ

الصف : الأول
الحنة :

المادة / رياضيات
التاریخ / / / 14



الاسم :

الموضوع / أَلْعَدَدَانِ 9 ، 10



بِسْمِ اللّٰهِ الرَّحْمٰنِ الرَّحِیْمِ

الصف : الأول
الحصة :

المادة / رياضيات
التاريخ / / / 14

أعد المجموعات ثم قل عددها ثم حوّل المجموعة التي عدد عناصرها 9 باللون الأحمر
والمجموعة التي عدد عناصرها 10 باللون الأزرق



الاسم :

الموضوع / قراءة العددين 9 - 10



بِسْمِ اللّٰهِ الرَّحْمٰنِ الرَّحِیْمِ

الصف : الأول
الحصة :

المادة / رياضيات
التاريخ / / / 14

أعد الحيوانات وقل العدد ثم اكتب العدد في المكان المخصص



٣



بِسْمِ اللّٰهِ الرَّحْمٰنِ الرَّحِیْمِ

الصف : الأول
الحصة :
الاسم :

المادة / رياضيات
التاريخ / / / 14
الموضوع / مقارنة الأعداد حتى 10

أعد الأشياء في كل مجموعة ثم اكتب عددها وضع × على المجموعة الأقل

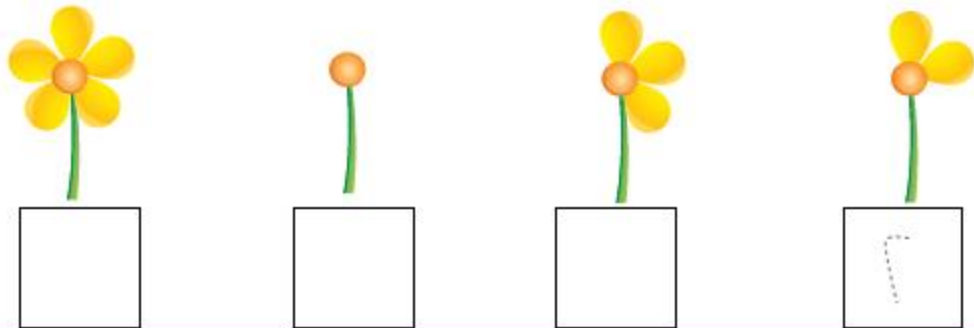

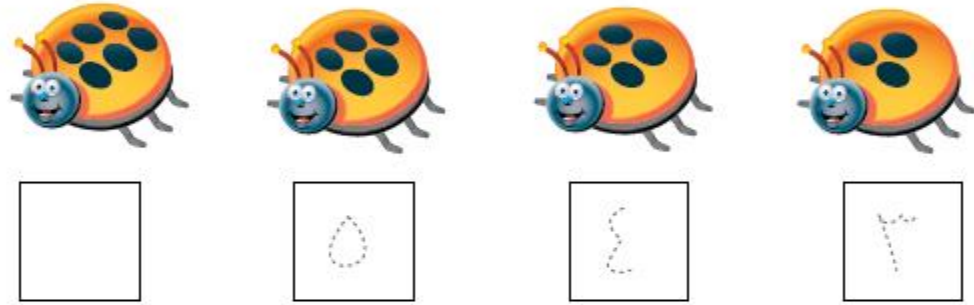
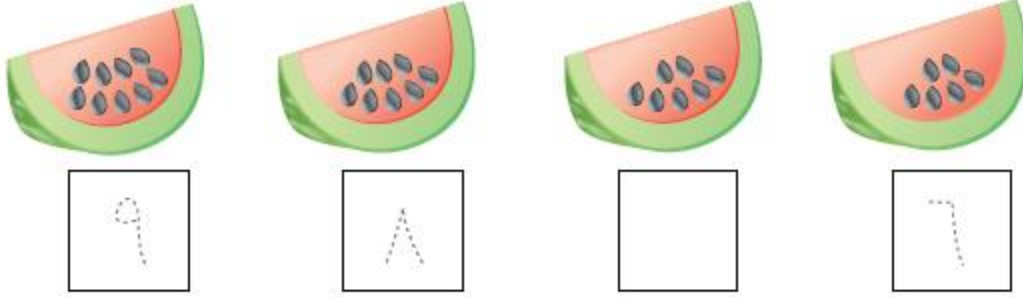


بِسْمِ اللّٰهِ الرَّحْمٰنِ الرَّحِیْمِ

الصف : الأول
الحصة :
الاسم :

المادة / رياضيات
التاريخ / / / 14
الموضوع / ترتيب الأعداد حتى 10

أعد الأشياء ثم مرر قلمك على الأعداد المنقطة واكتب الأعداد المفقودة



بِسْمِ اللّٰهِ الرَّحْمٰنِ الرَّحِیْمِ

الصف : الأول
الحصة :
الاسم :

المادة / رياضيات
التاريخ / / / 14
الموضوع / العدد الترتيبي

اذكر ترتيب كل نسر وضع على النسر السادس و × على النسر الثالث



بِسْمِ اللّٰهِ الرَّحْمٰنِ الرَّحِیْمِ


الصف : الأول
الحنة :

المادة / رياضيات
التاريخ / / / 14

الاسم :

الموضوع / الفصل الثالث (الأعداء حتى 20)

أعد الجزرات وحببات الفلفل واكتب عددها



2

بِسْمِ اللّٰهِ الرَّحْمٰنِ الرَّحِیْمِ


الصف : الأول
الحصة :


المادة / رياضيات
التاريخ / / / 14

الاسم :

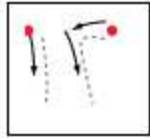
الموضوع / العدان 11 ، 12

أعد الأشياء وانطق العدد ومرر قلمك على العدد المنقط واكتبه





بِسْمِ اللّٰهِ الرَّحْمٰنِ الرَّحِیْمِ


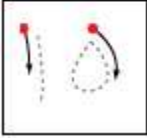

الصف : الأول
الحصة :

المادة / رياضيات
التاريخ / / / 14

الاسم :

الموضوع / الأعداد 13 ، 14 ، 15

أعد الأشياء وانطق العدد ومرر قلمك على العدد المنقط واكتبه



الاسم :

الموضوع / العدان 16 - 17

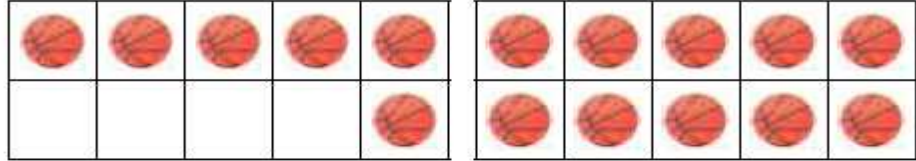
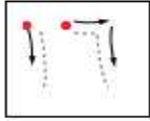
بِسْمِ اللّٰهِ الرَّحْمٰنِ الرَّحِیْمِ

الصف : الأول
الحصة :


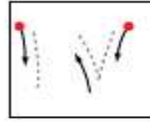
المادة / رياضيات
التاريخ / / / 14

أعد الكرات وانطق العدد ثم مرر قلمك على العدد المنقط واكتب العدد

١



٢



الاسم :

الموضوع / أبحث عن نمط

أعد الريش ثم اكتب العدد وحدد النمط



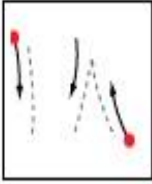
بِسْمِ اللّٰهِ الرَّحْمٰنِ الرَّحِیْمِ



















الصف : الأول
الحصّة :

المادة / رياضيات
التاريخ / / / 14


أعد الأشياء وكتب العدد وكرر قلمك على العدد المنقط واكتبه




















1




									
									





















2



3



الاسم :

الموضوع / مقارنة الأعداد حتى 20

بِسْمِ اللّٰهِ الرَّحْمٰنِ الرَّحِیْمِ

الصف : الأول
الحصّة :

المادة / رياضيات
التاريخ / / / 14

أعد الأشياء في كل طبق واكتب عددها وضعي × على العدد الذي يمثل المجموعة الأكبر



الاسم :

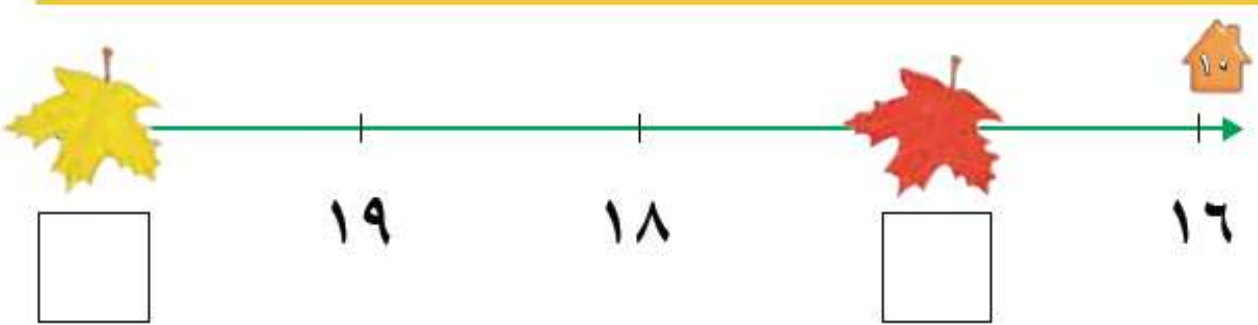

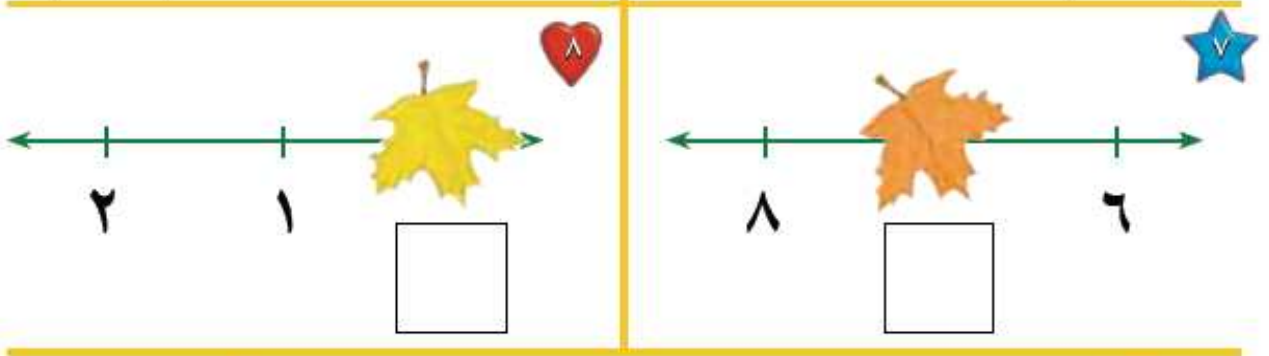
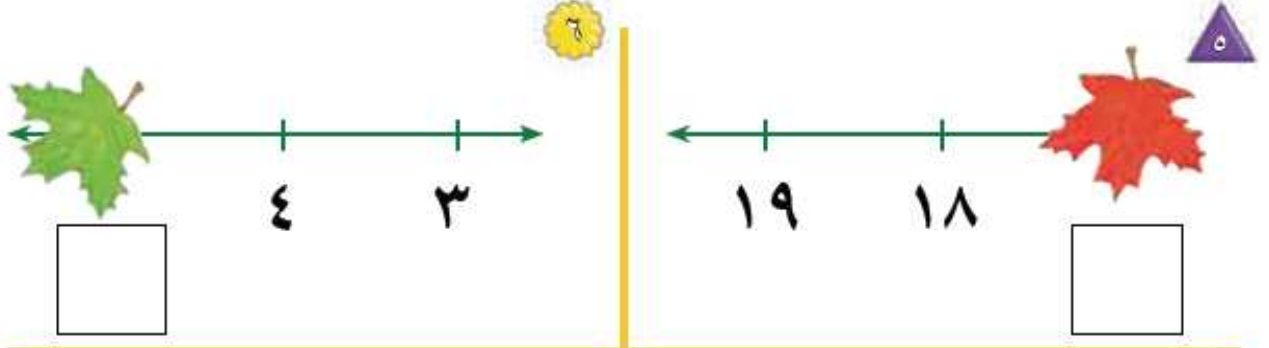
الموضوع / ترتيب العدد حتى 20 .

بِسْمِ اللَّهِ الرَّحْمَنِ الرَّحِيمِ

الصف : الأول
الحصّة :

المادة / رياضيات
التاريخ / / / 14

أكتب العدد المفقود في الفراغ



الاسم :

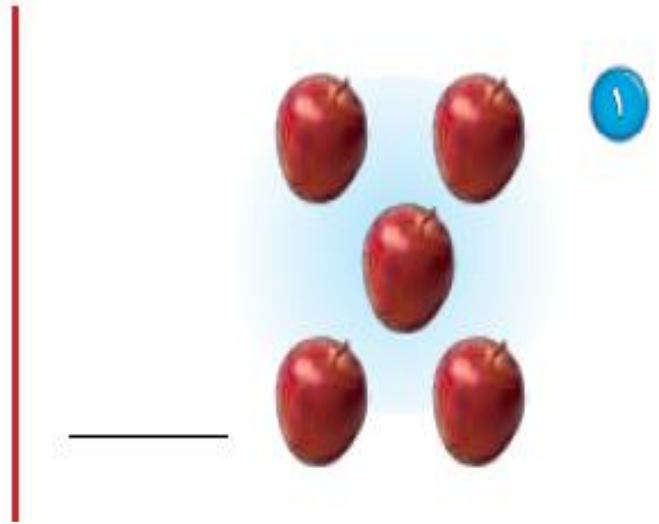

الموضوع / الفصل الرابع (الجمع)

بِسْمِ اللّٰهِ الرَّحْمٰنِ الرَّحِیْمِ

الصف : الأول
الحنة :

المادة / رياضیات
التاریخ / / / 14

ألاحظ الصورة واكتب عدد التفاحات



الاسم :

الموضوع / قصص الجمع

احكي قصة عددية مستعملاً قطع العدد واكتب عدد الحيوانات



٣

ثَعَالِبَ _____



٤

غَزَالًا _____



٥

فَرَاشَةَ _____

الاسم :

الموضوع / تمثيل الجمع

بِسْمِ اللّٰهِ الرَّحْمٰنِ الرَّحِیْمِ

الصف : الأول
الحصة :

المادة / رياضيات
التاريخ / / / 14

استعمل ورقة العمل 3 وقطع العد لإيجاد (الكل) المجموع

جزء	جزء
٥	٤
الكل	



جزء	جزء
٢	٣
الكل	



جزء	جزء
٥	٥
الكل	



جزء	جزء
٢	٥
الكل	



جزء	جزء
٢	٤
الكل	



جزء	جزء
٣	١
الكل	



جزء	جزء
٣	٣
الكل	



جزء	جزء
٢	١
الكل	




الاسم :

الموضوع / جمل الجمع

اكتب ناتج الجمع



$$\underline{\quad} = 0 + 3$$



$$\underline{\quad} = 0 + 5$$



$$\underline{\quad} = 1 + 0$$



$$\underline{\quad} = 0 + 6$$

$$\underline{\quad} = 8 + 0$$



$$\underline{\quad} = 0 + 7$$



$$\underline{\quad} = 1 + 2$$



$$\underline{\quad} = 3 + 3$$



الاسم :

الموضوع / أهل المسألة

بِسْمِ اللّٰهِ الرَّحْمٰنِ الرَّحِیْمِ

الصف : الأول
الحصة :

المادة / رياضيات
التاريخ / / / 14

مثل قصص الجمع لإيجاد الناتج



$$\underline{\hspace{2cm}} = \underline{\hspace{2cm}} + \underline{\hspace{2cm}}$$



$$\underline{\hspace{2cm}} = \underline{\hspace{2cm}} + \underline{\hspace{2cm}}$$



$$\underline{\hspace{2cm}} = \underline{\hspace{2cm}} + \underline{\hspace{2cm}}$$

الاسم :



الموضوع / تكوين الأعداد 4، 5، 6




بِسْمِ اللَّهِ الرَّحْمَنِ الرَّحِيمِ

الصف : الأول
الحصّة :

المادة / رياضيات
التاريخ / / / 14

استعمل قطع العد الكرة الحمراء والصفراء وضعهما في مجموعتين لتكوين العدد 4 ثم لون واكتب الأعداد

تكوّن العدد 4				
التّاج	مِساوي		زائد	
4	=	3	+	1
4	=	—	+	—
4	=	—	+	—

الاسم :

الموضوع / تكوين الأعداد 7 ، 8 ، 9

بِسْمِ اللّٰهِ الرَّحْمٰنِ الرَّحِیْمِ

الصف : الأول
الحصة :

المادة / رياضيات
التاريخ / / / 14

استعمل قطع العد الكرة الحمراء والصفراء وضعهما في مجموعتين لتكوين العدان 8 ، 9 ثم لون واكتب الأعداد

تكوين العدد 9				
الناتج	يساوي	زائد	زائد	الناتج
9	=	___	+	___
9	=	___	+	___
9	=	___	+	___
9	=	___	+	___
9	=	___	+	___
9	=	___	+	___
9	=	___	+	___



تكوين العدد 8				
الناتج	يساوي	زائد	زائد	الناتج
8	=	___	+	___
8	=	___	+	___
8	=	___	+	___
8	=	___	+	___
8	=	___	+	___
8	=	___	+	___
8	=	___	+	___



الاسم :

الموضوع / تكوين الأعداد 10 ، 11 ، 12

بِسْمِ اللَّهِ الرَّحْمَنِ الرَّحِيمِ

الصف : الأول
الحصّة :

المادة / رياضيات
التاريخ / / / 14

استعمل قطع العد الكرة الحمراء والصفراء ثم ارسـم دوائر واكتب العد



$$10 = \text{---} + \text{---}$$



$$10 = \text{---} + \text{---}$$



$$11 = \text{---} + \text{---}$$



$$11 = \text{---} + \text{---}$$



$$12 = \text{---} + \text{---}$$



$$12 = \text{---} + \text{---}$$



$$12 = \text{---} + \text{---}$$



$$11 = \text{---} + \text{---}$$

الاسم :

الموضوع / الجمع الراسي

بِسْمِ اللّٰهِ الرَّحْمٰنِ الرَّحِیْمِ

الصف : الأول
الحصّة :

المادة / رياضيات
التاريخ / / / 14

اكتب الأعداد ثم أوجد الناتج



$$\begin{array}{r} \square \\ \square + \\ \hline \square \end{array}$$



$$\text{---} = \text{---} + \text{---}$$



$$\begin{array}{r} \square \\ \square + \\ \hline \square \end{array}$$



$$\text{---} = \text{---} + \text{---}$$

