

تم تحميل هذا الملف من موقع المناهج السعودية



## ورقة عمل تصنيف المثلثات

موقع المناهج ← المناهج السعودية ← الصف الأول الثانوي ← رياضيات ← الفصل الثاني ← أوراق عمل ← الملف

تاريخ إضافة الملف على موقع المناهج: 2024-12-13 08:54:19

ملفات اكتب للمعلم اكتب للطالب | اختبارات الكترونية | اختبارات | حلول | عروض بوربوينت | أوراق عمل  
منهج انجليزي | ملخصات وتقارير | مذكرات وبنوك | الامتحان النهائي للمدرس

المزيد من مادة  
رياضيات:

## التواصل الاجتماعي بحسب الصف الأول الثانوي



صفحة المناهج  
السعودية على  
فيسبوك

الرياضيات

اللغة الانجليزية

اللغة العربية

التربية الاسلامية

المواد على تلغرام

## المزيد من الملفات بحسب الصف الأول الثانوي والمادة رياضيات في الفصل الثاني

ورقة عمل درس زوايا المثلثات

1

ورقة عمل درس إثبات تطابق المثلثات

2

ورقة عمل المثلثات والبرهان الإحداثي

3

أوراق عمل شاملة نظام المسارات

4

ورقة عمل المثلثات المتطابقة

5



الاسم / .....

الفصل / .....

التي الصحيحة من بين الإجابات المعطاة

جميع المثلثات على زاويتين حادتين على الأقل.

خطأ

ب

صح

قياسات زواياه  $55^\circ$  ،  $55^\circ$  ،  $70^\circ$  يصنف على أنه .....

منفرج الواوية

د

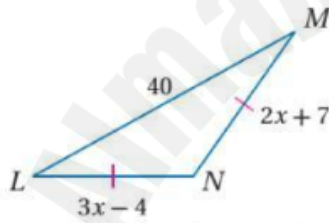
متطابق الأضلاع

ج

متطابق الضلعين

ب

قائم الزاوية

متغير  $x$  في الشكل المقابل تساوي .....

11

د

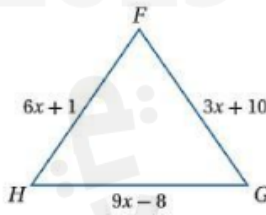
22

ج

29

ب

33

علمت أن المثلث  $\triangle FGH$  متطابق الأضلاع، فأوجد قيمة طول كل ضلع من أضلاعه.

19

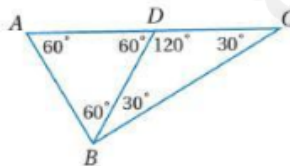
ب

3

9

د

17

 $\triangle ABC$  بالنسبة لزواياه  
مثلث حاد الزوايا

خطأ

ب

صح