

تم تحميل هذا الملف من موقع المناهج السعودية

الملف اختبار قصير للفصل الثامن المفصليات

[موقع المناهج](#) ⇨ [المناهج السعودية](#) ⇨ [مرحلة ثانوية](#) ⇨ [علوم](#) ⇨ [الفصل الأول](#)

الملف اختبار قصير للفصل الثامن المفصليات




[موقع المناهج](#) ⇨ [المناهج السعودية](#) ⇨ [مرحلة ثانوية](#) ⇨ [علوم](#) ⇨ [الفصل الأول](#)

المزيد من الملفات بحسب مرحلة ثانوية والمادة علوم في الفصل الأول

تحميل كتاب الطالب أحياء 2	1
تحميل كتاب دليل التجارب العلمية	2
تحميل كتاب الطالب أحياء 3	3
دليل التجارب العلمية أحياء 3	4
تعويض الفاقد التعليمي لمادة الأحياء علم البيئة والفيزياء	5

اختبار قصير ٨

اختاري الاجابة الصحيحة بوضع دائرة حول الخيار الصحيح:

	<p>1 أي التراكيب التي تظهر عليها الأرقام في الشكل تمكن مفصليات اليابسة من المحافظة على اتزان الماء في أجسامها؟</p>	1	
2	b	1	a
4	d	3	c
	<p>2 أي التراكيب التي تمثلها الأرقام تستعملها المفصليات للإحساس بالرائحة في بيئاتها؟</p>	2	
2	b	1	a
4	d	3	c
<p>3 أي المجموعات التالية تتضمن كلمة لا علاقة لها بمجموعتها؟</p>		3	
فقيم (فك علوي)، قرن استشعار، زوائد، قدم.	b	هيكل خارجي، كابتين، انسلاخ، نمو.	a
عين بسيطة، عين مركبة، غشاء طبلي، صدر.	d	رأس-صدر، صدر، رأس، بطن.	c
<p>4 ما الذي يحدد العلاقة بين حجم العضلة وسمك الهيكل الخارجي في المفصليات؟</p>		4	
الموطن	b	الغذاء	a
الحجم	d	الحركة	c
	<p>5 ما التركيب الذي يمكن أن يستعمله جراد البحر للإمساك بالغذاء وتفتيته؟</p>	5	
2	b	1	a
4	d	3	c
<p>6 أي مما يلي لا يعد من خصائص تراكيب العنكبيات؟</p>		6	
اللوامس القدمية.	b	اللواقط الفموية.	a
قرون الاستشعار.	d	المغازل.	c

7	إذا وجدت حيواناً في تربة الغابة ولجسمه جزءان، وليس له قرون استشعار، وكان الزوج الثاني من الزوائد كبيراً، فما نوع هذا الحيوان؟		
a	قراد	b	عنكبوت
c	عقرب	d	جراد البحر

8	وظيفة المغازل في العناكب هي :		
a	الدفاع.	b	التخلص من الفضلات.
c	الدوران.	d	تكوين الحرير.

9	أي مما يلي ليس من خصائص الحلم؟		
a	الجسم يتكون من قسم واحد بيضوي الشكل.	b	ينقل البكتيريا المسببة لمرض اللايم.
c	طوله أقل من 1 mm .	d	حيوان متطفل.

10	أي المراحل في الرسم المجاور لا تنتمي إلى التحول الكامل؟		
a	1	b	2
c	3	d	4

11	من الأمراض التي ينقلها ذباب المنزل :		
a	الحمى الصفراء.	b	حمى التيفوئيد.
c	الطاعون.	d	الملاريا.

12	إذا كان هناك حقل تكثر فيه الحشرات، فأى طريقة يمكن أن يستعملها المزارع للمعالجة فترة طويلة؟		
a	الهندسة الوراثية.	b	مبيدات الحشرات.
c	الإدارة المتكاملة للآفات الضارة	d	مقاومة المبيدات.

13	ما الوظيفة العامة التي يقوم بها كل من الهيكل الداخلي والهيكل الخارجي في الحيوانات؟		
a	النمو مع الحيوان.	b	منع فقدان الماء.
c	دعم الجسم.	d	الحماية من المفترس.

		14 إلى أي مجموعة ينتمي هذا الحيوان؟	
الحشرات.	b	مجذافية الأرجل	a
العناكب.	d	القشريات	c

		15 أي جزء من الجسم يستعمله هذا الحيوان للتكاثر؟	
2	b	1	a
4	d	3	c